

اسم الطالب /

الصف/1.....

10

مدرسة التميز النموذجية

المرحلة الابتدائية

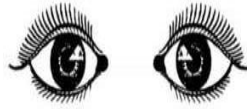
قسم العلوم

اختبار علوم قصير للصف الأول الابتدائي 1

1 - ضع دائرة حول الكائن الحي :-



2 - أنا أسمع بـ



وصل



ضع علامة (✓) إذا كان السلوك صحيحاً وعلامة (×) إذا كان السلوك غير صحيح

()



اسم الطالب /

الصف/1.....

10

مدرسة التميز النموذجية

المرحلة الابتدائية

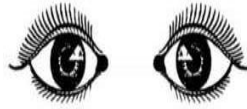
قسم العلوم

اختبار علوم قصير للصف الأول الابتدائي 1

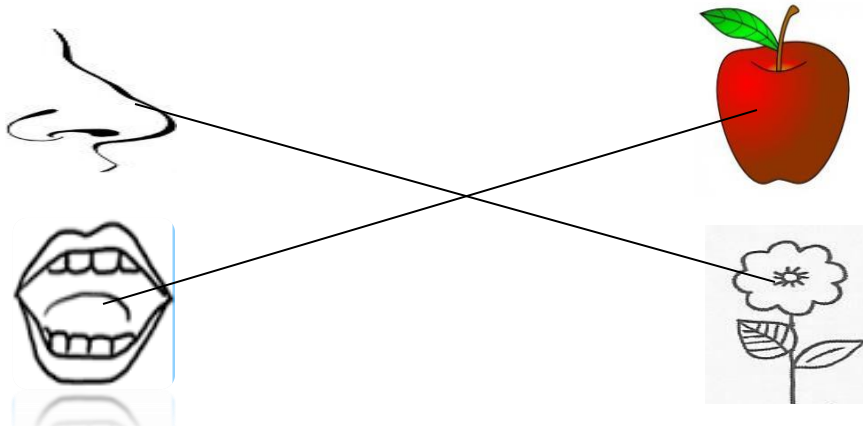
1- ضع دائرة حول الكائن الحي :-



2- أنا أسمع بـ



وصل



ضع علامة (✓) إذا كان السلوك صحيحاً وعلامة (×) إذا كان السلوك غير صحيح

(✓)

