



# أوراق عمل الفصل الأول في مادة الجغرافيا والاقتصاد

الصف الحادي عشر الادبي



## الفصل الدراسي الأول 2023-2024

### للصف الحادي عشر الادبي



## مدرسة التميز النموذجية

## مفهوم علم الجغرافيا وعلاقته بالعلوم الأخرى

س 1 - عرف : - علم الجغرافيا

.....

س 4 : اجب / أ ) ما أهمية علم الجغرافيا :

1 -

2 -

ب) عدد فروع علم الجغرافيا الرئيسة :

1 -

2 -

3 -

4 -

س 5 - اشرح علاقة علم الجغرافيا بكل من :

1- علم الجيولوجيا :-

## مدرسة التميز النموذجية

2- علم الاقتصاد :-

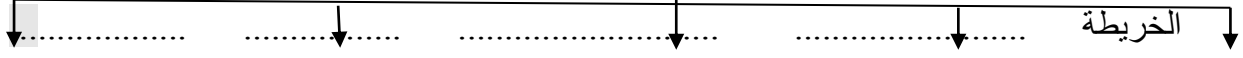
.....

.....



## نشاط 2

## مصادر المعلومات الجغرافية



## عناصر الخريطة

س1 :- أكمل المخطط السهمي الآتي



س2 - قارن بين كل مما يلي على حسب ما هو موضح بالجدول :-

التعريف	الشمال الحقيقي	الشمال المغناطيسي
الشكل		

س3:- أكمل الفراغ :

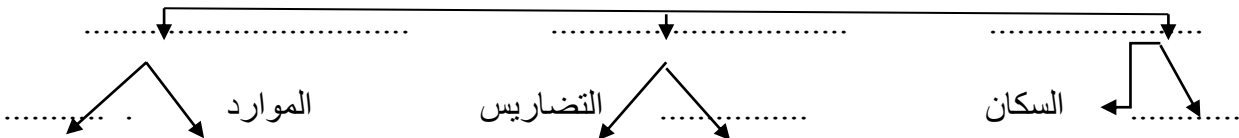
- 1 - عملية إسقاط شبكة خطوط الطول ودوائر العرض على الخريطة يسمى .....
  - 2- رسم خريطة صغيرة الحجم تبين موقع المنطقة في إطار داخل الخريطة الأكبر يسمى .....
  - 3- الحد الذي تنتهي عنده جميع تفاصيل الخريطة دون أن تتجاوزه هو .....
  - س4:- ما القواعد والأسس التي يجب مراعاتها في الكتابة على الخرائط:-
- أ- ..... ب- ..... ج- ..... د- .....

## مدرسة التميز النموذجية

س2:- عدد أهم تصنيفات الخرائط حسب مقياس الرسم :

- 1- ..... 2- ..... 3- .....

## خرائط التوزيعات





## الدراسة الميدانية والإحصائيات الرسمية والاستشعار عن بعد

س1 - ما الأدوات والأجهزة التي يجب توافرها مع الباحث ؟

- أ- .....  
 ب- .....  
 ج- .....  
 د- .....  
 هـ- .....  
 و- .....

س2- على الباحث أن يقوم بعدة أمور مهمة أثناء الدراسة الميدانية، اذكرها ؟

- أ- .....  
 ب- .....  
 ج- .....

س3- أكمل الفراغ بكلمات مناسبة :

- 1- الدول التي تجري تعدادات خمسية منها ..... وعشرية منها .....  
 2- الجهة الحكومية المسؤولة عن إجراء التعداد في دولة الكويت هي .....  
 3- عبارة عن دائرة معارف تغطي ميادين علميه وأدبيه مختلفة تسمى .....  
 4- دراسات تختص بتسجيل كل ما كتب عن موضوع معين على المستوى العالمي .....

س4- عرف :

التعداد:- .....

## مدرسة التميز النموذجية

الاستشعار عن بعد

- عدد مجالات استخدام الاستشعار عن بعد

.....

**الإنسان والكون**

س1 : 1- كيف نشأ الكون ؟

2- مما يتكون الكون ؟

س2- اكتب المصطلح العلمي :

1- ( ) مجموع الموجودات الكائنة من مختلف صور المادة والطاقة والزمان والمكان .

2- ( ) الوحدة الأساسية للكون وهما نظام نجمي يتكون من بلايين النجوم.

3- ( ) سحب كونية تتكون من غازات متأينة ما بين النجوم وتشغل 10-12 % .

4- ( ) أجسام صخرية صغيرة أو معدنية متباينة الشكل تشتعل عند احتكاكها بالغلاف الجوي

5- ( ) قطع كبيرة صلبه من الأحجار الحديدية تخترق الغلاف الجوي وتتحطم وقد تحدث دمار

6- ( ) أجرام سماوية تتبع الكواكب تستمد نورها من أشعة الشمس المنعكسة.

7- ( ) أجرام سماوية مضيئة تتكون من الغازات والهيدروجين والهيليوم ملتهبة .

س3- أكمل الفراغ :- تقع مجموعتنا الشمسية ضمن مجرة تسمى.....

والنياراك.

س4- ما الفرق بين الشهاب

**مدرسة التميز النموذجية**

## مفهوم علم الجغرافيا وعلاقته بالعلوم الأخرى

س 1 - عرف : - علم الجغرافيا :  
علم دراسة الظواهر الطبيعية والبشرية على سطح الارض

س4: (اجب / أ) ما أهمية علم الجغرافيا:

1- التخطيط الاقليمي  
2- التوجيهات الجغرافية

1 - الجغرافيا الطبيعية

### 3- الجغرافيا الاقليمية

س 5 - اشرح علاقة علم الجغرافيا بكل من :

## 1- علم الجيولوجيا :-

## الجغرافيا الطبيعية تستمد معلوماتها من بعض نتائج الجيولوجيا

## 2- علم الاقتصاد - مدرسة التميز النموذجية

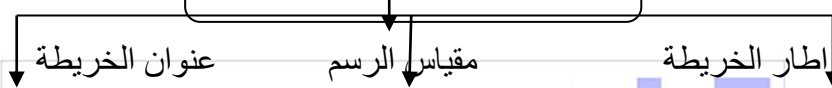
## نشاط 2

### مصادر المعلومات الجغرافية

الخريطة      الدراسة الميدانية      الاحصائيات الرسمية      المؤلفات العلمية      الاستشعار على بعد

#### عناصر الخريطة

س1 :- أكمل المخطط السهمي الآتي



س2 - قارن بين كل مما يلي على حسب ما هو موضح بالجدول :-

التعريف	الشمال الحقيقي	الشمال المغناطيسي
يشير الى القطب الشمالي الجغرافي	يشير الى القطب المغناطيسي	
الشكل		

س3:- أكمل الفراغ :

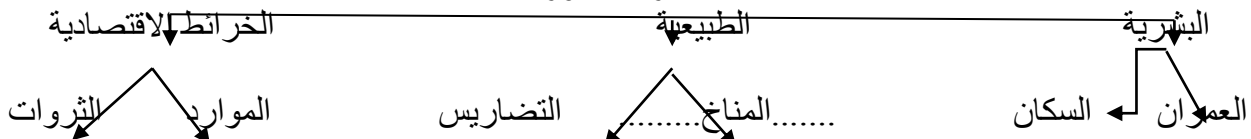
- عملية إسقاط شبكة خطوط الطول ودوائر العرض على الخريطة يسمى.....المسقط.....
- رسم خريطة صغيرة الحجم تبين موقع المنطقة في إطار داخل الخريطة الأكبر يسمى.....الخريطة الركنية
- الحد الذي تنتهي عنده جميع تفاصيل الخريطة دون أن تتجاوزه هو.....إطار الخريطة
- س4:- ما القواعد والأسس التي يجب مراعاتها في الكتابة على الخرائط:-
  - أ- نوع الخط
  - ب- لون الخط
  - ج- حجم الخط
  - د- موقع الخط

## مدرسة التميز النموذجية

س2:- عدد أهم تصنيفات الخرائط حسب مقياس الرسم :

- 1- مقياس رسم صغير      2 - مقياس رسم متوسط      3- مقياس رسم كبير

خرائط التوزيعات





## الدراسة الميدانية والإحصائيات الرسمية والاستشعار عن بعد

س1 - ما الأدوات والأجهزة التي يجب توافرها مع الباحث ؟  
 أ- سيارة عادية او جيب ب- بوصلة حديثة ج-منظار تكبير  
 د- شريط قياسات في حدود 50 تر هـ- لوحة خشب و-مجموعة من الاقلام

س2- على الباحث أن يقوم بعدة أمور مهمة أثناء الدراسة الميدانية، اذكرها ؟  
 أ- التأكد من المعلومات  
 ب- جمع بيانات حديثة  
 ج- مجموعة من الصور

س3- أكمل الفراغ بكلمات مناسبة :

- 1-الدول التي تجري تعدادات خمسيه منها مصر وعشرية منها الكويت
- 2- الجهة الحكومية المسئولة عن إجراء التعداد في دولة الكويت هي وزارة التخطيط
- 3- عبارة عن دائرة معارف تغطي ميادين علميه وأدبيه مختلفة تسمى. الموسوعات
- 4- دراسات تختص بتسجيل كل ما كتب عن موضوع معين على المستوى العالمي البلوجرافيا

س4- عرف :

التعداد:- العملية الكلية لجمع وتصنيف وتبويب المعلومات الديموغرافية

## مدرسة التميز النموذجية

الاستشعار عن بعد رؤية مالا يرى بالعين المجردة

- عدد مجالات استخدام الاستشعار عن بعد

.....المطارات.....تلوث البيئة.....الكوارث الطبيعية.....



س1 : 1- كيف نشأ الكون ؟  
 بحدوث الانفجار العظيم  
 2- مما يتكون الكون ؟

يتكون من مجموعة من المجرات والسدم والنيازك والنجوم والكواكب  
 س2- اكتب المصطلح العلمي :  
 1- ( الكون ) مجموع الموجودات الكائنة من مختلف صور المادة والطاقة والزمان والمكان .

2- ( المجرة ) الوحدة الأساسية للكون وهما نظام نجمي يتكون من بلايين النجوم.

3- ( السدم ) سحب كونية تتكون من غازات متأينة ما بين النجوم وتشغل 10-12 % .

4- ( الشهاب ) أجسام صخرية صغيرة أو معدنية متباينة الشكل تشتعل عند احتكاكها بالغلاف الجوي

5- ( النيازك ) قطع كبيرة صلبه من الأحجار الحديدية تخترق الغلاف الجوي وتتحطم وقد تحدث د

6- ( النجوم ) أجرام سماوية تتبع الكواكب تستمد نورها من أشعة الشمس المنعكسة.

7- ( الشمس ) أجرام سماوية مضيئة تتكون من الغازات والهيدروجين والهيليوم ملتهبة .

س3- أكمل الفراغ :- تقع مجموعتنا الشمسية ضمن مجرة تسمى . درب التبانة

س4- ما الفرق بين الشهاب  
 اجسام صغيرة صغيرة او معدنية  
 قطع كبيرة صلبة من الاحجار الحديد  
 والنيازك.

## مدرسة التميز النموذجية




مدرسة التميز النموذجية  
(ابتدائي - متوسط - ثانوي)  
الجهاز الفني التربوي

# منصات التميز التعليمية

لزيارة منصة التميز التعليمية في اليوتيوب امسح الباركود التالي :



لزيارة منصة التميز التعليمية في تليجرام امسح الباركود الخاص بقناة كل فصل مما يلي :



لزيارة صفحتنا في تويتر

لزيارة صفحتنا في الإنستقرام

عنواننا : خيطان - ق ٤ - ش ١٠٠