

أوراق عمل مادة التاريخ الاسلامي



الفصل الدراسي الثاني 2023 - 2024 م

للفيف الحادي عشر الادبي
مدرسة التميز النموذجية



إعداد
قسم الاجتماعيات

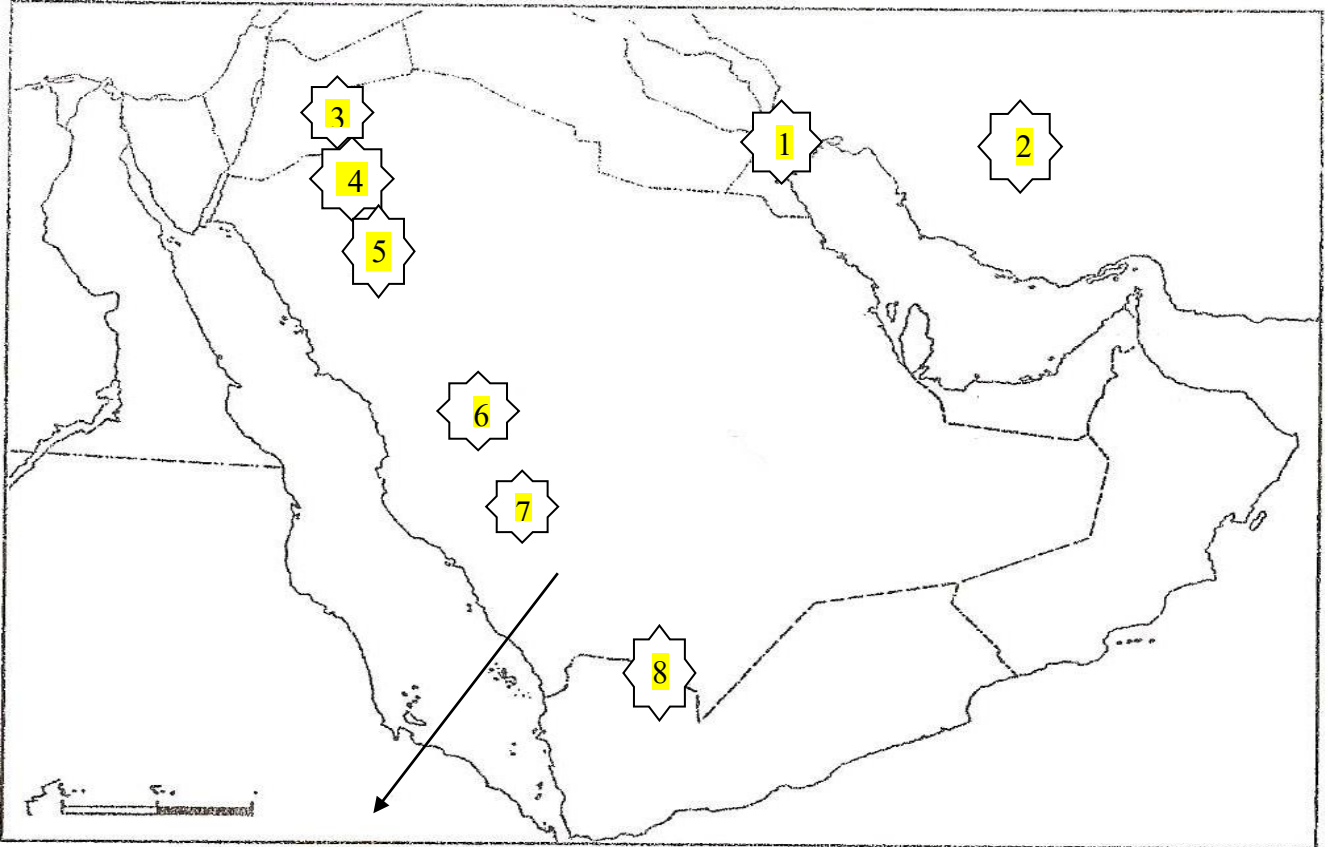




أوراق عمل مادة التاريخ الإسلامي الدرس الأول ف1 عام 2024/2023

من خلال الخريطة التي أمامك: أجب عما يلي:

- يشير السهم إلى منطقة هاجر إليها المسلمون تسمى
- رقم (1) يمثل مملكة حاجزة حكمت باسم الفرس تسمى
- الإمبراطورية الفارسية تمثل الرقم
- رقم (3) يمثل منطقة خرج إليها الرسول صلى الله عليه وسلم مع عمه أبي طالب في تجارة له تسمى
- رقم (4) يمثل مملكة حاجزة حكمت باسم البيزنطيين تسمى
- رقم (5) يمثل آخر غزوة شارك فيها الرسول (ص) سنة 9 هجريا تسمى
- رقم (6) يمثل غزوة انتصرت فيها قريش علي المسلمين سنة 3 هجريا تسمى
- رقم (7) يمثل مدينة شهدت بيعتي العقبة الأولى و الثانية تسمى
- رقم (8) يمثل مركز من مراكز الديانة اليهودية يسمى



اكمل

تعتبر شبه الجزيرة العربية الموطن الأصلي للجماعات

هاجر كثير من القبائل العربية الى الشمال والشمال الشرقي واسست حضارات في

الجماعات التي استقرت في شبه الجزيرة العربية عرفت باسم

عرف العرب:

العرب في اللغة:

ينقسم العرب إلى قسمين: (فرق)

العرب البائدة

العرب البائدة

ملحة جغرافية:

اذكر أهم الملامح الجغرافية لشبه الجزيرة العربية.

١-

٢-

٣-

٤-

عدد خصائص المناخ في شبه الجزيرة العربية

.....

.....

دون حدود شبه الجزيرة العربية

يحد شبه الجزيرة العربية من الشرق

يحد شبه الجزيرة العربية من الغرب

يحد شبه الجزيرة العربية من الشمال

يحد شبه الجزيرة العربية من الجنوب

أهم الصحاري الممتدة فيها صحراء

أهم السلاسل الجبلية جبال

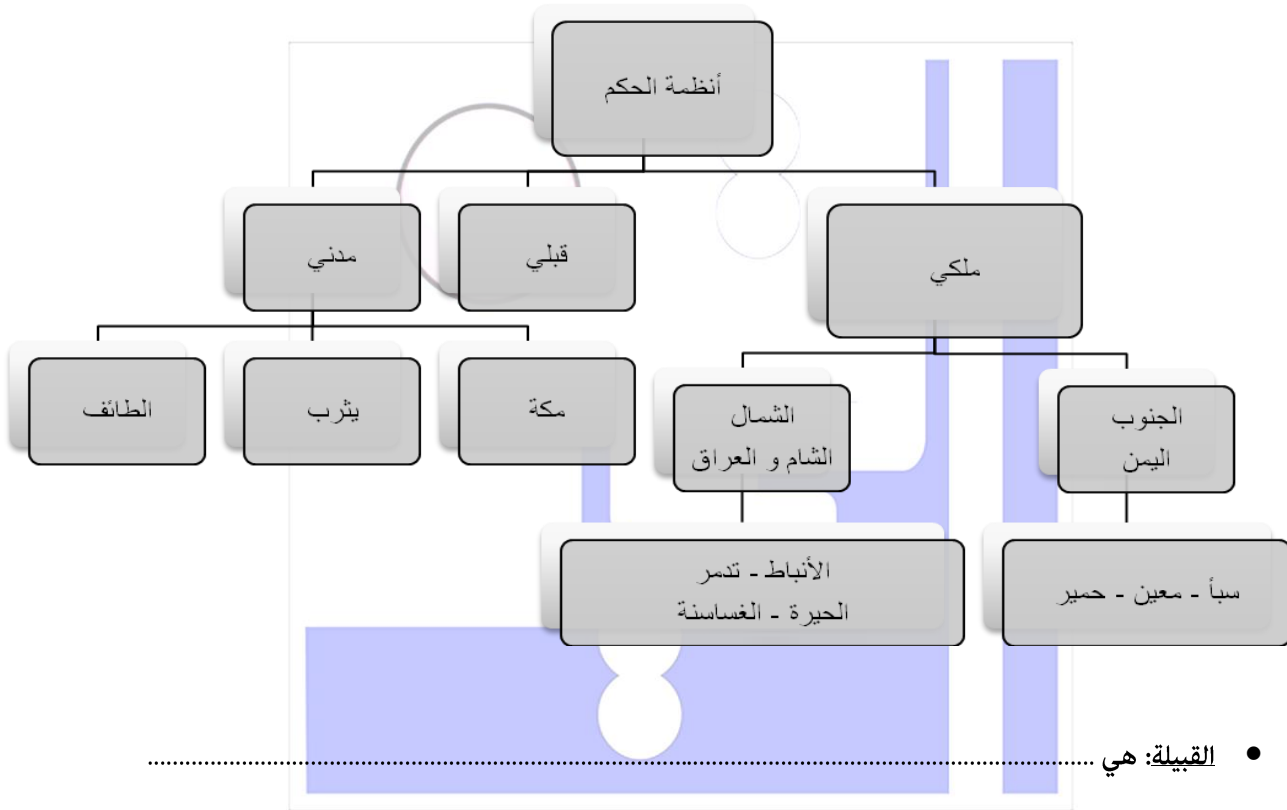
أهم السهول سهل-هضبة تقع في وسط شبه الجزيرة العربية تسمى



مدرسة التميز

أكمل:

- تتنوع النظم السياسية في شبه الجزيرة العربية إلا أن ساد جميع الأنظمة سواء في البادية أو المدينة أو المملكة



- القبيلة: هي
- كان لكل قبيلة شيخ يسمى شيخ القبيلة من أهم صفاته

مدرسة التميز النموذجية

الأحوال الاقتصادية:

- مارس العرب دور الوسيط التجاري بين شمال وجنوب شبه الجزيرة العربية
- كان مركز تجارة شبه الجزيرة العربية في
- الذي قام بتنظيم رحلتي الشتاء والصيف يسمى
- عدد النتائج المترتبة على تنظيم رحلة الشتاء والصيف؟ زادت مكانتها بين العرب ووفر لها ثروة اقتصادية
- (.....) كانت الحرفة الأساسية للعرب وقد أدى اعتمادهم عليها إلى التنقل الدائم بحثاً عن الكلأ والماء .
- اعتمدت الزراعة في الجنوب على مياه الأمطار وفي الشمال والشرق على
- علل: تعتبر الزراعة أقل الحرف انتشاراً في وسط شبه الجزيرة العربية.

- ١-
- ٢-



الأحوال الاجتماعية:

اكمل: كان المجتمع العربي مقسم إلى ثلاث طبقات:

-: أبناء القبيلة يجمعهم نسب واحد ولهم الكثير من الحقوق وعليهم واجبات من أهمها حماية القبيلة والدفاع عنها.
-: عرب انضموا إلى القبيلة إما عن طريق الجوار أو الحلف أو العتق ولهذه الطبقة حقوق الأحرار الصرحاء فيما عدا **الرئاسة**.
-: هم أدنى طبقات المجتمع وعليهم كل الواجبات وليست لهم حقوق القبيلة.

العادات والتقاليد:

- تحلى العرب بالعديد من الصفات الحميدة **فتفاخروا** بالصدق، والأمانة، والشجاعة، والكرم. **ونفروا** من البخل والخداع والغدر
- كذلك انتشرت العديد من **العادات السيئة** مثل شرب الخمر ولعب الميسر.
- **دلل على صدق العبارة التالية: اختلاف مكانة المرأة العربية باختلاف النظام السياسي قبل الإسلام.**
- **فرق بين مكانة المرأة عند العرب في النظام الملكي والمدني:**

مكانة المرأة في النظام المدني

مكانة المرأة في النظام الملكي

مدرسة التميز النموذجية

اكتب المفهوم المناسب

- هو زواج الابن من زوجة أبيه.
- دفنهن احياء
- الطرد من القبيلة

الأحوال الدينية:

أكمل

- عرفت الفترة التي سبقت الإسلام باسم
- تعني حالة الجهل وهي صفة أطلقها القرآن الكريم على الوثنيين من العرب قبل الإسلام.
- انتشرت ديانات سماوية مثل اليهودية والمسيحية ووضعية مثل
- كانت العبادة السائدة في شبه الجزيرة العربية هي
- هي عبادة الأصنام والأوثان.
- (.....) عرب سفهوا عبادة الأصنام و اعتنقوا ديانة سيدنا إبراهيم عليه السلام.
- انتشرت اليهودية في
- انتشرت المسيحية في أرض

مدرسة التميز النموذجية

الحياة الفكرية:

-: القصائد التي تميزت وفضلها العرب فعلمت على جدران الكعبة.
- كان لكل قبيلة الذين يعبرون عن مناقب القبيلة ويتفاخرون بأنسابهم
- من الأسواق التي كان يعرض فيها الشعر والخطابة في الجاهلية سوق يسمى
- اشتهر العرب في معارف مختلفة مثل الأنساب، والنجوم، والتقويم،
- نزل القرآن الكريم بجميع لهجات القبائل العربية إلا أنها متقاربة تلتقي في لهجة
- برهن على صحة العبارات التالية: كانت شبه الجزيرة العربية مهية لتقبل رسالة الإسلام.

.....-2

.....-1

.....-4

.....-3

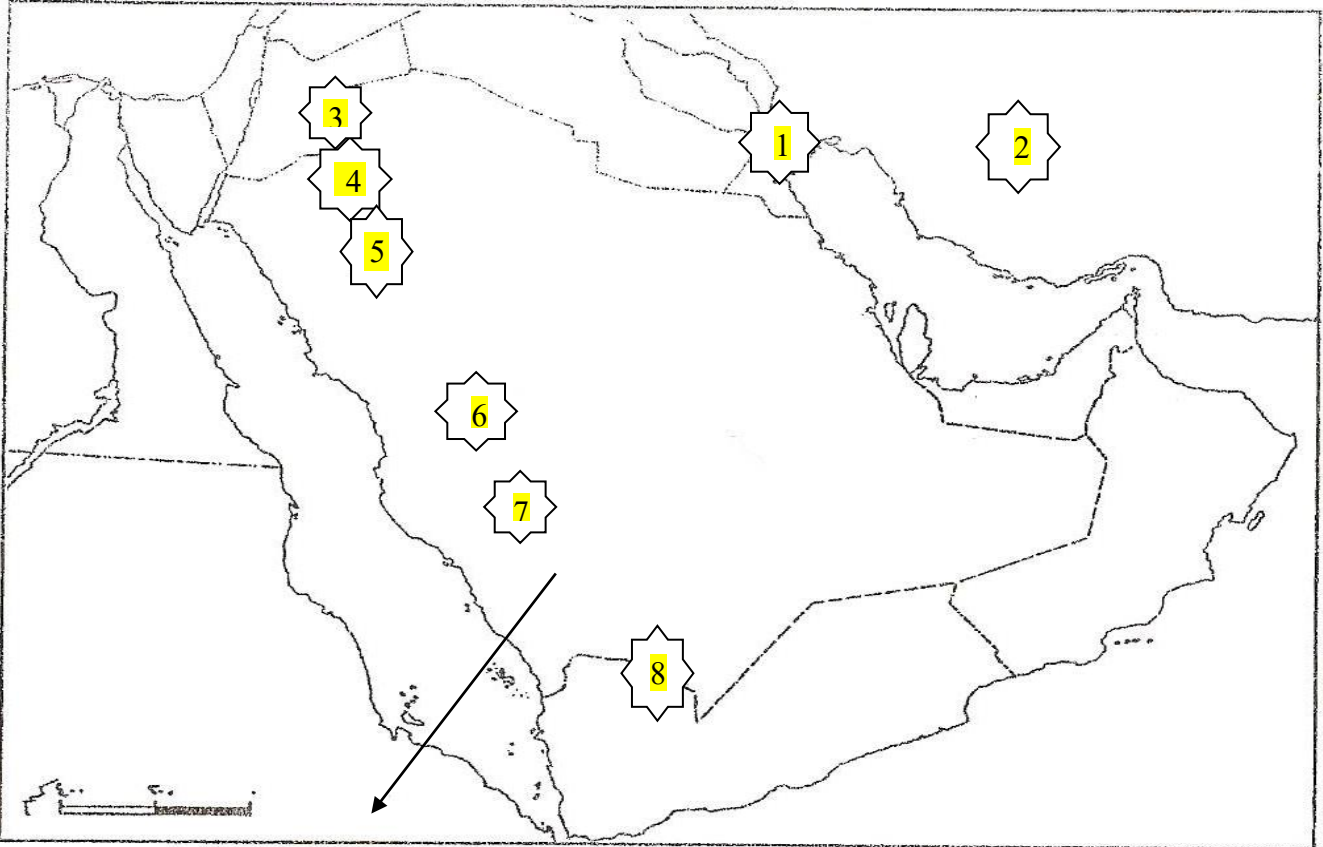
.....-6

.....-5

إجابة أوراق عمل مادة التاريخ الإسلامي الدرس الأول ف1 عام 2024/2023

من خلال الخريطة التي أمامك: أجب عما يلي:

- يشير السهم إلى منطقة هاجر إليها المسلمون تسمى الحبيشة
- رقم (1) يمثل مملكة حاضرة حكمت باسم الفرس تسمى الحيرة
- الإمبراطورية الفارسية تمثل الرقم 2
- رقم (3) يمثل منطقة خرج إليها الرسول صلى الله عليه وسلم مع عمه أبي طالب في تجارة له تسمى بصري
- رقم (4) يمثل مملكة حاضرة حكمت باسم البيزنطيين تسمى الغساسنة
- رقم (5) يمثل آخر غزوة شارك فيها الرسول (ص) سنة 9 هجرية تسمى تبوك
- رقم (6) يمثل غزوة انتصرت فيها قريش علي المسلمين سنة 3 هجرية تسمى غزوة أحد
- رقم (7) يمثل مدينة شهدت بيعتي العقبة الأولى والثانية تسمى مكة
- رقم (8) يمثل مركز من مراكز الديانة اليهودية يسمى نجران



اكمل:

- تعتبر شبه الجزيرة العربية الموطن الأصلي للجماعات **السامية**.
- هاجر كثير من القبائل العربية الى الشمال والشمال الشرقي واسست حضارات في **العراق والشام**.
- الجماعات التي استقرت في شبه الجزيرة العربية عرفت باسم **العرب**.
- عرف العرب:** هم القوم الذين سكنوا شبه الجزيرة العربية واتخذوها موطناً لهم.
- العرب في اللغة:** تعني الصحاري والقفار والأرض المجردة التي لا ماء فيها ولا زرع.
- ينقسم العرب إلى قسمين: (فرق)**

العرب البائدة

العرب البائدة

ينقسم العرب البائدة إلى

هم الأقوام التي عاشت ثم انقرضت وقد ورد ذكر بعضهم في القرآن الكريم (ثمود - عاد)

العرب العاربة: هم بنو يعرب بن قحطان وسكنوا جنوب شبه الجزيرة العربية.

العرب المستعربة: هم بنو معد بن عدنان بن إسماعيل وسكنوا شمال شبه الجزيرة العربية

ملحة جغرافية:

اذكر أهم الملامح الجغرافية لشبه الجزيرة العربية.

- تقع في جنوب غرب قارة آسيا.

- عبارة عن هضبة تنحدر من الغرب نحو الشرق.

- تمتد الصحاري في معظم أراضيها.

- يسودها المناخ الصحراوي.

عدد خصائص المناخ في شبه الجزيرة العربية

- يتميز المناخ الصحراوي بارتفاع درجة الحرارة وقلة الأمطار
- فيما عدا المناطق الجبلية حيث تعدل درجة الحرارة وتزداد كمية المطر

دون حدود شبه الجزيرة العربية

- يحد شبه الجزيرة العربية من الشرق **الخليج العربي وخليج عمان**.
- يحد شبه الجزيرة العربية من الغرب **البحر الأحمر**.
- يحد شبه الجزيرة العربية من الشمال **العراق وبلاد الشام**.
- يحد شبه الجزيرة العربية من الجنوب **بحر العرب وخليج عدن**.
- أهم الصحاري الممتدة فيها صحراء **النفوذ والدنهان**.
- أهم السلاسل الجبلية جبال **الحجاز وعسير**.

- أهم السهول سهل **الإحساء وتهامة**. --هضبة تقع في وسط شبه الجزيرة العربية تسمى **هضبة نجد**.

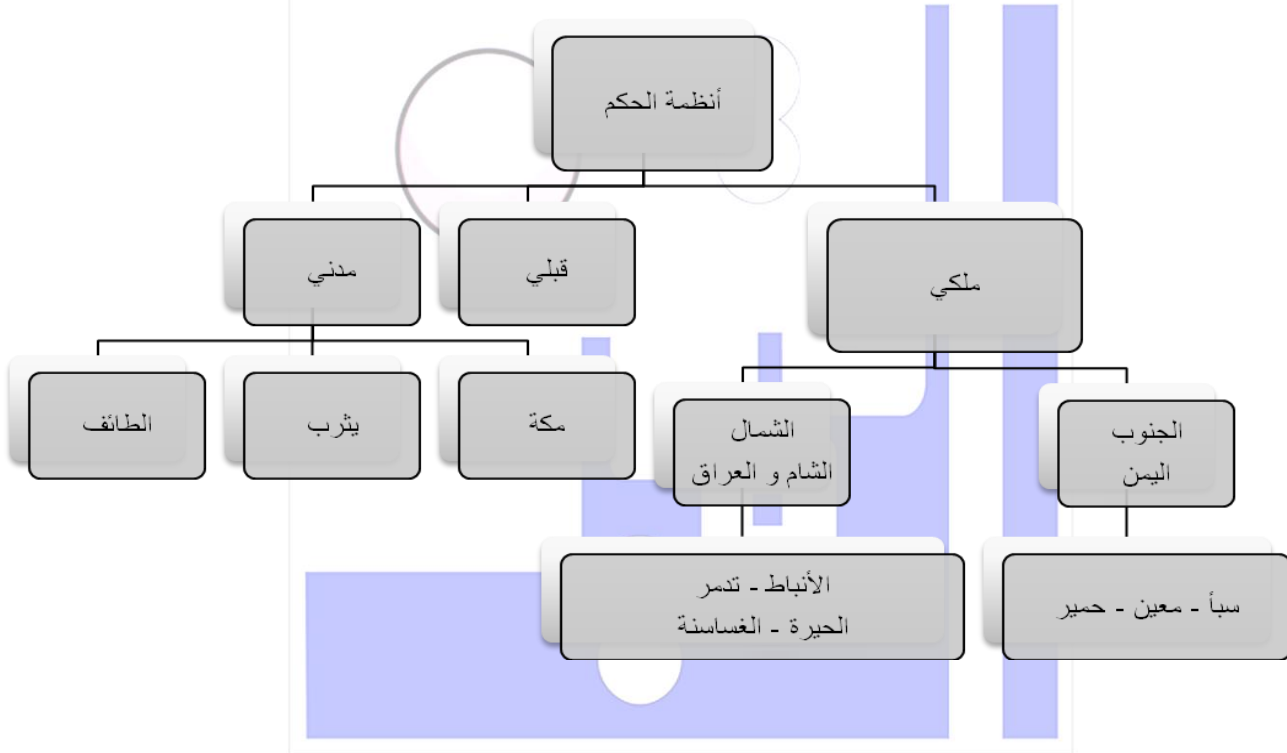




المجتمع العربي قبيل ظهور الإسلام

اكمل:

- تتنوع النظم السياسية في شبه الجزيرة العربية إلا أن النظام القبلي ساد جميع الأنظمة سواء في البادية أو المدينة أو المملكة



- القبيلة: هي مجموعة من الناس تربطهم رابطة القرابة والنسب والدم.

كان لكل قبيلة شيخ يسمى شيخ القبيلة من أهم صفاته سداد الرأي والشجاعة والكرم.

مدرسة التميز النموذجية

الأحوال الاقتصادية:

- مارس العرب دور الوسيط التجاري بين شمال وجنوب شبه الجزيرة العربية (الشمال واليمن).
- كان مركز تجارة شبه الجزيرة العربية في مكة.
- الذي قام بتنظيم رحلتي الشتاء والصيف يسمى هاشم بن عبد مناف
- عدد النتائج المترتبة على تنظيم رحلة الشتاء والصيف؟ زادت مكانتها بين العرب ووفر لها ثروة اقتصادية
- (الرعي) كانت الحرفة الأساسية للعرب وقد أدى اعتمادهم عليها إلى التنقل الدائم بحثاً عن الكلأ والماء .
- اعتمدت الزراعة في الجنوب على مياه الأمطار وفي الشمال والشرق على مياه الآبار والعيون
- علل: تعتبر الزراعة أقل الحرف انتشاراً في وسط شبه الجزيرة العربية.
- ٣- تمتد الصحاري في معظم أرض شبه الجزيرة العربية
- ٤- يسودها المناخ الصحراوي.

الأحوال الاجتماعية:

أكمل: كان المجتمع العربي مقسم إلى ثلاث طبقات:

- **العرب الصرحاء:** أبناء القبيلة يجمعهم نسب واحد ولهم الكثير من الحقوق وعليهم واجبات من أهمها حماية القبيلة والدفاع عنها.
- **الموالي:** عرب انضموا إلى القبيلة إما عن طريق الجوار أو الحلف أو العتق ولهذه الطبقة حقوق الأحرار الصرحاء فيما عدا **الرئاسة**.
- **العبيد:** هم أدنى طبقات المجتمع وعليهم كل الواجبات وليست لهم حقوق القبيلة.

العادات والتقاليد:

- تحلى العرب بالعديد من الصفات الحميدة **فتفاخروا** بالصدق، والأمانة، والشجاعة، والكرم. و**نفروا** من البخل والخداع والغدر
- كذلك انتشرت العديد من **العادات السيئة** مثل شرب الخمر ولعب الميسر.

دليل على صدق العبارة التالية: اختلاف مكانة المرأة العربية باختلاف النظام السياسي قبل الإسلام.

فرق بين مكانة المرأة عند العرب في النظام الملكي والمدني:

مكانة المرأة في النظام المدني

تدنت مكانتها حيث انتشرت عادة وأد البنات وتعدد الزوجات إلى عدد غير معروف والجمع بين الأختين وزواج المقت.

مكانة المرأة في النظام الملكي

تبوأ مركز الرئاسة مثل بلقيس ملكة سبأ

اكتب المفهوم المناسب

- **زواج المقت:** هو زواج الابن من زوجة أبيه.

مدرسة التميز النموذجية

- **وادي البنات:** دفنهن أحياء
- **عقوبة الخلع:** الطرد من القبيلة

الأحوال الدينية:

أكمل

- عرفت الفترة التي سبقت الإسلام باسم **الجاهلية**.
- **الجاهلية**: تعني حالة الجهل وهي صفة أطلقها القرآن الكريم على الوثنيين من العرب قبل الإسلام.
- انتشرت ديانات سماوية مثل اليهودية والمسيحية ووضعية مثل **الصابئة**.
- كانت العبادة السائدة في شبه الجزيرة العربية هي **الوثنية**.
- **الوثنية**: هي عبادة الأصنام والأوثان.
- (المتحنفين) عرب سفهوا عبادة الأصنام و اعتنقوا ديانة سيدنا إبراهيم عليه السلام.
- انتشرت اليهودية في **يثرب ونجران وصنعاء**.
- انتشرت المسيحية في أرض **سومر بالعراق وبعض أجزاء من اليمن**.



مدرسة التميز النموذجية

الحياة الفكرية:

- **المعلقات**: القصائد التي تميزت وفضلها العرب فعلمت على جدران الكعبة.
- كان لكل قبيلة **شاعرها وخطيبها وقصاصها** الذين يعبرون عن مناقب القبيلة ويتفاخرون بأنسابهم
- من الأسواق التي كان يعرض فيها الشعر والخطابة في الجاهلية سوق يسمى **عكاظ * ذي المجاز * مجنة**.
- اشتهر العرب في معارف مختلفة مثل الأنساب، والنجوم، والتقويم، والملاحة.
- نزل القرآن الكريم بجميع لهجات القبائل العربية إلا أنها متقاربة تلتقي في لهجة **قريش**.
- **برهن على صحة العبارات التالية: كانت شبه الجزيرة العربية مهية لتقبل رسالة الإسلام.**
- 1- كانت خارج منطقة الصراع بين الفرس والروم
- 2- أدرك العرب وجود الله
- 3- موقعها الجغرافي في وسط العالم القديم
- 4- وجود بيت الله الحرام في مكة
- 5- لغة العرب وما تمتاز به من صفات
- 6- صفاء الفكر



مدرسة التميز النموذجية
(ابتدائي - متوسط - ثانوي)
الجهاز الفني التربوي

منصات التميز التعليمية

لزيارة منصة التميز التعليمية في اليوتيوب احسح الباركود التالي :



لزيارة منصة التميز التعليمية في تلجرام احسح الباركود الخاص بقناة كل فصل مما يلي :



الصف الرابع



الصف الثالث



الصف الثاني



الصف الأول



الصف التاسع



الصف الثامن



الصف السابع



الصف السادس



الصف الخامس



الصف العاشر
أدبي



الصف العاشر
علمي



الصف العاشر
علمي



الصف العاشر
أدبي



الصف العاشر



لزيارة صفحتنا في تويتر

لزيارة صفحتنا في الإنستغرام

عنواننا : خيطان - ق ٤ - ش ١٠٠