

# الفصل الأول : معالم الكويت الجغرافية والاقتصادية والحضارية

## ١- الموقع والمساحة

### أذكر الهدف من دراسة موقع الدولة علي خريطة العالم

- ١- إبراز القيمة الفعلية لهذه الدولة.
  - ٢- الكيفية التي تكون عليها المصالح الحيوية لتلك الدولة.
  - ٣- توضيح الدور الذي يمكن أن تمارسه تلك الدولة.
- أكمل العبارات التالية :

- تقع دولة الكويت بالنسبة لشبه الجزيرة العربية في اتجاه الشمال الشرقي
- تقع دولة الكويت بالنسبة للخليج العربي في اتجاه الشمال الغربي
- الدولة التي تحد الكويت من جهة الشمال والشمال الغربي تسمى العراق
- الدولة التي تحد الكويت من جهة الجنوب والجنوب الغربي تسمى السعودية
- مساحة الكويت هي ١٧٨١٨ كم<sup>٢</sup>

### فرق بين :

موقع الكويت بالنسبة لخطوط الطول	موقع الكويت بالنسبة لدوائر العرض
تقع الكويت بين خطي طول ٤٦,٣٠ - ٤٨,٣٠ شرق خط جرينيتش	تقع الكويت بين خطي عرض ٢٨,٤٥ - ٣٠,٠٥ شمال خط الاستواء

### علل - أهمية الموقع الجغرافي المتميز للكيان السياسي لدولة الكويت

### عدد مميزات الموقع الاستراتيجي المتميز للكيان السياسي لدولة الكويت

- موقعها الذي يمثل نهاية للطريق البحري والتجاري الواقع على طريق الهند ومنطقة الشرق الأقصى
- تمثل البوابة والمدخل الطبيعي لشمال شرق الجزيرة العربية
- منطقة ترانزيت أو منطقة لتجارة العبور قليلة الضرائب
- نشاط دولة الكويت البحري والتجاري
- تميز الكويتيين بالمهارة في نقل التجارة بين موانئ الخليج وسواحل الهند

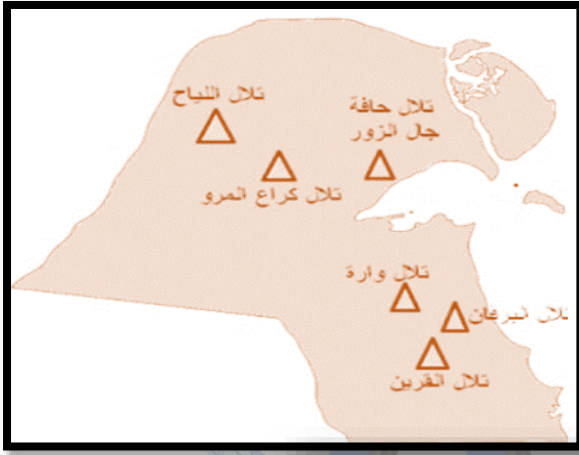
## ٢- نضاريس دولة الكويت

### أذكر الملامح الرئيسية لمظاهر السطح في دولة الكويت

- ١- ينحدر سطح الكويت تدريجياً من الغرب إلى الشرق باتجاه سواحل الخليج العربي.
- ٢- أعلى ارتفاع في المناطق الغربية لا يزيد عن ٣٠٠ متر
- ٣- يتكون السطح من سهول رملية مستوية تتخللها تلال قليلة الارتفاع يصل متوسط الارتفاع ١٤٥ متر

### المظاهر التضاريسية في دولة الكويت

#### ١- التلال



#### شمال الكويت :

- ١- تلال حافة جال الزور : الارتفاع ١٣٧ م
- ٢- كراع المرو : الارتفاع ١٨٣ م
- ٣- اللياح

#### جنوب الكويت : ( التلال قبابية )

#### ١- تلال وارة

#### ٢- برقان

١- تلال على شكل قباب تقع في جنوب دولة الكويت : ص ٢٢

اختبار ٢٠٢٣

اللياح	كراع المرو	جال الزور
وزارة		

#### ٢- الهضاب والأودية

#### ١- هضبة الأحمدية : تأخذ الشكل الطولي وتمتد في اتجاه شمالي

جنوبي لمسافة ٣٠ كم ويصل أقصى ارتفاع للهضبة ١٣٧ متر فوق سطح البحر.

#### ٢- وادي الباطن: وادي جاف يسير مع الحدود الغربية للكويت

والحد الفاصل بين الحدود الكويتية العراقية لمسافة ١٥٠ كم.

١- الحد الفاصل بين الحدود الكويتية والعراقية بمسافة ١٥٠ كم يسمى وادي الباطن.

اختبار ٢٠٢٣

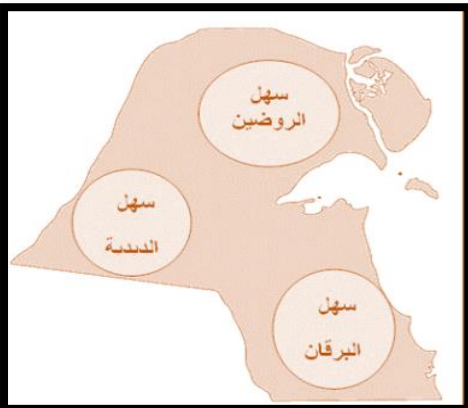
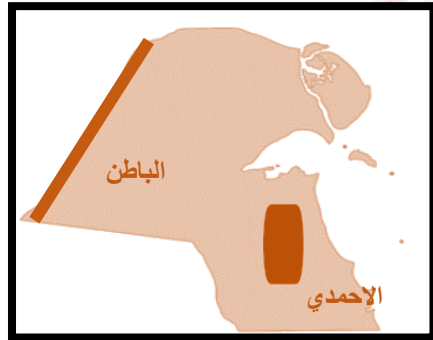
#### ٣- السهول

#### ١- سهل الدبدبة: في الغرب ويحتل مساحة كبيرة في غرب وجنوب الكويت.

#### ٢- سهل برقان: يمتد من جون الكويت باتجاه الجنوب موازي

لخط الساحل تنتشر به التلال مثل ( تلال واره، البرقان، القرين )

#### ٣- سهل الروضتين: ارض تنحدر نحو الشرق والشمال الشرقي.



علل: زيادة أهمية سهل برقان :

- زادت أهمية سهل برقان باكتشاف النفط حيث يضم أكبر الحقول النفط الكويتية.

أكمل ما يلي :

- أعلى ارتفاع فوق مستوى سطح البحر في المناطق الغربية لدولة الكويت ٣٠٠ متر

- أكبر الحقول النفطية في دولة الكويت يسمى برقان

عدد المناطق الصالحة للزراعة في دولة الكويت

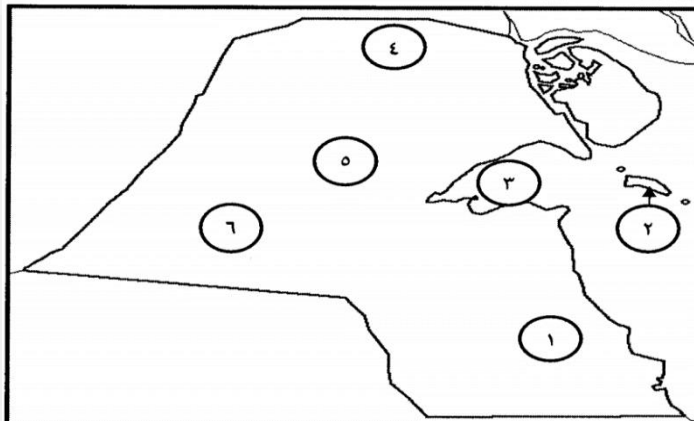
أبو حليفة	الشعبية	الجهراء	الغنطاس	الفحيحيل
	العقيلة	الدمنة	المنقف	الوفرة

دلل على صحة العبارة " الكويت جيولوجيا جزء من الكتلة العربية "

تفصل بين العراق والهضبة الصحراوية المكونة لشبه الجزيرة العربية

خريطة اختبار ٢٠٢٠

( أ ) أمامك خريطة دولة الكويت الصماء ، أكتب الرقم الدال على كل مما يلي :



- ١ . سهل الدبدبة على الخريطة بمثله الرقم ...٦.. ص ٢٥
- ٢ . كراع المرو على الخريطة بمثله الرقم ...٥.. ص ٢٥
- ٣ . منطقة العبدلي يمثلها على الخريطة الرقم ...٤.. ص ٢٥
- ٤ . جون الكويت بمثله على الخريطة الرقم ...٣.. ص ٢٥

( أ ) أكمل العبارات التالية بما يناسبها فيما درست :



- ١ - الجزء المظلل على الخريطة المقابلة يمثل وادياً يحد دولة الكويت غرباً اسمه وادي الباطن ص ٢٥

اختبار

٢٠١٩