


اعداد وتنسيق  
أ. سعود المونس  
رئيس قسم الاجتماعيات



[ دليل الأسئلة وأوراق العمل لمادة تاريخ دولة الكويت - للصف العاشر ]

الفصل الدراسي الأول

اسم الطالب/ة.....

الصف ١٠ /.....

## ورقة متابعة أنشطة الطالب الصفية واللاصفية للعام الدراسي ٢٠٢٠ - ٢٠٢١ م

اليوم و التاريخ	ملاحظات/ النشاط الصفي واللاصفى	الدرجة	توقيع ولي الأمر
( ) الأحد ( ) الاثنين ( ) الثلاثاء ( ) الأربعاء ( ) الخميس <u>الموافق</u> ...../...../ ٢٠٢٠	<p>• القصور في :</p> <p>١- ( ) التأخر في موعد التسليم.</p> <p>٢- تسجيل ( ) التاريخ - ( ) العنوان.</p> <p>٣- تعريف المفاهيم والمصطلحات.</p> <p>٤- إكمال الدروس والواجبات الناقصة.</p> <p>٥- حل أنشطة ورقة العمل واستكمالها.</p> <p>٦- لصق ورق العمل.</p> <p>٧- المهارات من حيث:</p> <p>أ- <u>الخرائط</u>: ( ) الرسم والتلوين - ( ) دقة التوزيعات - ( ) قراءة وتحليل الخريطة.</p> <p>ب- ( ) تحليل الصور والأشكال والجداول الإحصائية والبيانية.</p> <p>٨- ( ) أشكرك لتميذك في الأنشطة الصفية.</p> <p>٩- ( ) بارك الله فيك لتميذك في الأنشطة اللاصفية.</p> <p>١٠- ملاحظات أخرى: .....</p>		
( ) الأحد ( ) الاثنين ( ) الثلاثاء ( ) الأربعاء ( ) الخميس <u>الموافق</u> ...../...../ ٢٠٢٠	<p>• القصور في :</p> <p>١- ( ) التأخر في موعد التسليم.</p> <p>٢- تسجيل ( ) التاريخ - ( ) العنوان.</p> <p>٣- تعريف المفاهيم والمصطلحات.</p> <p>٤- إكمال الدروس والواجبات الناقصة.</p> <p>٥- حل أنشطة ورقة العمل واستكمالها.</p> <p>٦- لصق ورق العمل.</p> <p>٧- المهارات من حيث:</p> <p>أ- <u>الخرائط</u>: ( ) الرسم والتلوين - ( ) دقة التوزيعات - ( ) قراءة وتحليل الخريطة.</p> <p>ب- ( ) تحليل الصور والأشكال والجداول الإحصائية والبيانية.</p> <p>٨- ( ) أشكرك لتميذك في الأنشطة الصفية.</p> <p>٩- ( ) بارك الله فيك لتميذك في الأنشطة اللاصفية.</p> <p>١٠- ملاحظات أخرى: .....</p>		
( ) الأحد ( ) الاثنين ( ) الثلاثاء ( ) الأربعاء ( ) الخميس <u>الموافق</u> ...../...../ ٢٠٢٠	<p>• القصور في :</p> <p>١- ( ) التأخر في موعد التسليم.</p> <p>٢- تسجيل ( ) التاريخ - ( ) العنوان.</p> <p>٣- تعريف المفاهيم والمصطلحات.</p> <p>٤- إكمال الدروس والواجبات الناقصة.</p> <p>٥- حل أنشطة ورقة العمل واستكمالها.</p> <p>٦- لصق ورق العمل.</p> <p>٧- المهارات من حيث:</p> <p>أ- <u>الخرائط</u>: ( ) الرسم والتلوين - ( ) دقة التوزيعات - ( ) قراءة وتحليل الخريطة.</p> <p>ب- ( ) تحليل الصور والأشكال والجداول الإحصائية والبيانية.</p> <p>٨- ( ) أشكرك لتميذك في الأنشطة الصفية.</p> <p>٩- ( ) بارك الله فيك لتميذك في الأنشطة اللاصفية.</p> <p>١٠- ملاحظات أخرى: .....</p>		
( ) الأحد ( ) الاثنين ( ) الثلاثاء ( ) الأربعاء ( ) الخميس <u>الموافق</u> ...../...../ ٢٠٢٠	<p>• القصور في :</p> <p>١- ( ) التأخر في موعد التسليم.</p> <p>٢- تسجيل ( ) التاريخ - ( ) العنوان.</p> <p>٣- تعريف المفاهيم والمصطلحات.</p> <p>٤- إكمال الدروس والواجبات الناقصة.</p> <p>٥- حل أنشطة ورقة العمل واستكمالها.</p> <p>٦- لصق ورق العمل.</p> <p>٧- المهارات من حيث:</p> <p>أ- <u>الخرائط</u>: ( ) الرسم والتلوين - ( ) دقة التوزيعات - ( ) قراءة وتحليل الخريطة.</p> <p>ب- ( ) تحليل الصور والأشكال والجداول الإحصائية والبيانية.</p> <p>٨- ( ) أشكرك لتميذك في الأنشطة الصفية.</p> <p>٩- ( ) بارك الله فيك لتميذك في الأنشطة اللاصفية.</p> <p>١٠- ملاحظات أخرى: .....</p>		
( ) الأحد ( ) الاثنين ( ) الثلاثاء ( ) الأربعاء ( ) الخميس <u>الموافق</u> ...../...../ ٢٠٢٠	<p>• القصور في :</p> <p>١- ( ) التأخر في موعد التسليم.</p> <p>٢- تسجيل ( ) التاريخ - ( ) العنوان.</p> <p>٣- تعريف المفاهيم والمصطلحات.</p> <p>٤- إكمال الدروس والواجبات الناقصة.</p> <p>٥- حل أنشطة ورقة العمل واستكمالها.</p> <p>٦- لصق ورق العمل.</p> <p>٧- المهارات من حيث:</p> <p>أ- <u>الخرائط</u>: ( ) الرسم والتلوين - ( ) دقة التوزيعات - ( ) قراءة وتحليل الخريطة.</p> <p>ب- ( ) تحليل الصور والأشكال والجداول الإحصائية والبيانية.</p> <p>٨- ( ) أشكرك لتميذك في الأنشطة الصفية.</p> <p>٩- ( ) بارك الله فيك لتميذك في الأنشطة اللاصفية.</p> <p>١٠- ملاحظات أخرى: .....</p>		

## ملاحظات:

- يكتب الطالب/ة الاسم والفصل في بداية الورقة.
- تلصق الورقة في بداية الدفتر أو كراس الأنشطة.
- تجمع الدفاتر كل حصة أولى من كل أسبوع دراسي.
- يتم توقيع ولي الأمر على الدرجة.
- تتم مراجعة المعلم أثناء الفرس فقط وتترك ورقة في حال عدم تواجد المعلم.

فكرة وإعداد وتصميم رئيس قسم الاجتماعيات  
أ.سعود المونس  
[www.q84s.com](http://www.q84s.com)  
جميع الحقوق محفوظة

## جدول الحصص الأسبوعي

اليوم	الحصة الأولى	الحصة الثانية	الحصة الثالثة	الحصة الرابعة	الحصة الخامسة	الحصة السادسة	الحصة السابعة
الأحد							
الاثنين							
الثلاثاء							
الأربعاء							
الخميس							

## ملاحظات

ملاحظات:

.....

.....

.....

.....

.....

.....

.....

.....

.....

مراجعات:

.....

.....

.....

.....

.....

.....

.....

.....

.....

**الفصل الأول: معالم الكويت الجغرافية والاقتصادية والحضارية**

ورقة عمل ص ٢١ إلى ٢٣

**س ١/ أكمل الفراغات التالية بما يناسبها:**

- ١- الدولة التي تحد الكويت من جهة الشمال والشمال الغربي تسمى .....
- ٢- الدولة التي تحد الكويت من جهة الجنوب والجنوب الغربي تسمى .....
- ٣- المسطح المائي الذي يحد الكويت من جهة الشرق يسمى .....
- ٤- تقع دولة الكويت بين دائرتي عرض شمال خط الاستواء .....
- ٥- تقع دولة الكويت بين خطي طول شرق خط غرينتش .....
- ٦- تبلغ مساحة دولة الكويت .....
- ٧- تعتبر دولة الكويت أحد أهم الموانئ في شمال إقليم يسمى .....
- ٨- اشتهرت الكويت في كونها منطقة تجارية ومنطقة .....

**س ٢/ علل: أهمية دولة الكويت بين دول العالم.**

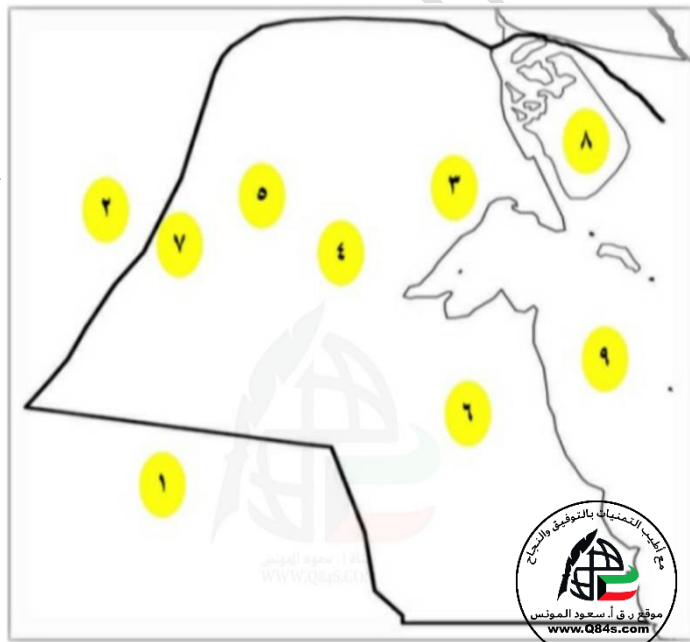
- ١- .....
- ٢- .....
- ٣- .....
- ٤- .....
- ٥- .....

**ورقة عمل ص ٢٤ إلى ٢٥****س١/ أكمل الفراغات التالية بما يناسبها:**

- ١- ينحدر سطح دولة الكويت انحداراً تدريجياً من جهة الغرب إلى جهة تسمى .....
- ٢- أعلى ارتفاع في المناطق الغربية لدولة الكويت فوق سطح البحر لا يزيد عن .....
- ٣- يبلغ ارتفاع حافة جال الزور .....
- ٤- يبلغ ارتفاع تلال كراع المرو .....
- ٥- الشكل الذي يتميز فيه تل برقان وتل وارة الواقع جنوب مدينة الأحمدية يسمى .....
- ٦- الهضبة التي تأخذ الشكل الطولي وأقصى ارتفاعها ١٣٧م فوق سطح البحر تسمى .....
- ٧- أشهر الأودية الصحراوية الجافة في دولة الكويت يسمى .....
- ٨- الحد الفاصل بين الحدود الكويتية العراقية بمسافة ١٥٠ متراً يسمى .....

**س٢/ فرق بين: تلال دولة الكويت وفقاً للجدول التالي.**

الجنوب	الشمال
١-	١-
٢-	٢-
٣-	٣-

**س٣/ انظر الخريطة جيداً ثم أجب عما يلي:**

- المملكة العربية السعودية يمثلها الرقم .....
- جمهورية العراق يمثلها الرقم .....
- جال الزور يمثلها الرقم .....
- تل كراع المرو يمثلها الرقم .....
- تل اللياح يمثلها الرقم .....
- تل وارة يمثلها الرقم .....
- وادي الباطن يمثلها الرقم .....
- الخليج العربي يمثلها الرقم .....

ورقة عمل ص ٢٧ إلى ٢٨

س١/ علل ما يلي:

أ- أهمية سهل برقان.

١-

٢-

ب- الزراعة محدودة ومحصورة في بعض المناطق داخل دولة الكويت.

س٢/ فند العبارة التالية " الاجزاء الصالحة للزراعة في دولة الكويت كبيرة ومنتشرة "س٣/ دلل على صحة العبارة التالية: "دولة الكويت جزء من الكتلة العربية"س٤/ أكمل الفراغات التالية بما يناسبها:

١- أشهر السهول في دولة الكويت والذي يمتد من جون الكويت باتجاه الجنوب يسمى .....

٢- الأرض المنبسطة التي تتحدر نحو الشرق والشمال الشرقي تسمى .....

٣- أكبر الحقول النفطية في دولة الكويت يسمى .....

٤- الطبيعة التي تميزت فيها غالبية الأراضي في دولة الكويت تسمى .....

ورقة عمل ص ٢٨ إلى ٢٩س١/ أكمل الفراغات التالية بما يناسبها:

- ١- العدد الكلي للجزر الكويتية .....
- ٢- الجزيرة الكويتية الأكبر من حيث المساحة الجغرافية تسمى .....
- ٣- النسبة التي تشغلها جزيرة بوبيان من المساحة الإجمالية لدولة الكويت .....
- ٣- الجزيرة التي أصبحت جزءاً من ميناء منطقة الشويخ تسمى .....
- ٤- الجزيرة الكويتية الثانية من حيث المساحة وتحتوي على بقايا وشواهد تاريخية وأثرية متعددة تسمى .....
- ٥- الاسم الآخر لجزيرة فيلكا .....
- ٦- آخر الجزر الشمالية التابعة لدولة الكويت تسمى .....
- ٧- الجزيرة التي تقارب مساحتها جزيرة عوهه تسمى .....
- ٨- الجزيرة الكويتية غير المأهولة بالسكان بعد الغزو العراقي عام ١٩٩٠م تسمى .....

س٢/ دلل على صحة العبارة التالية: "تعد جزيرتا وروبة وبوبيان الكويتية مطمعاً دائماً للعراق"س٣/ علل لما يلي:

أ- أهمية جزيرة فيلكا.

- ١- .....
- ٢- .....
- ٣- .....

ب- أصبحت جزيرة فيلكا غير مأهولة بالسكان.

س٤/ عدد: الجزر الكويتية.

- ١- .....
- ٢- .....
- ٣- .....



**ورقة عمل ص ٣١ إلى ٣٢**

**س١/ فرق بين:** الفصول المناخية لدولة الكويت من حيث النوع والمميزات وفقاً للجدول التالي.

وجه المقارنة	الصيف / الشتاء	الربيع / الخريف
النوع		
المميزات	الصيف: الشتاء:	الربيع: الخريف:

**س٢/ دلل على صحة العبارة التالية:** "أثبتت الدراسات المتعلقة بالبيئة الصحراوية الكويتية حديثاً أن مناخ دولة الكويت يتميز بجفافه وقلة رطوبته".

-١

-٢

**س٣/ فند العبارة التالية:** "الموارد المائية كثيرة وعذبة في دولة الكويت"

**س٤/ عدد:** أهم المناطق التي تحتوي على المياه الصالحة للاستهلاك الآدمي.

-١

-٢

-٣

-٤

-٥

**س٥/ أكمل الفراغات التالية بما يناسبها:**

١- الأشهر الموسمية في دولة الكويت التي ترتفع فيها نسبة الرطوبة تسمى .....

٢- الفصل الذي ترتفع فيه الرطوبة وتقل فيه درجة الحرارة نسبياً عن الصيف في دولة الكويت يسمى .....

٣- تتميز آبار المياه في الجزء الشرقي من الأراضي الكويتية بأنها .....



**ورقة عمل ص ٣٤**

س ١/ قارن بين: الرياح في دولة الكويت من حيث المفهوم والمميزات وآثارها المناخية وفقاً للجدول التالي.

وجه المقارنة	المفهوم / المميزات وآثارها المناخية
الشمالية الغربية	
الجنوبية الشرقية (الكوس)	
السموم	
العواصف الترابية (السرايات)	

س ٢/ أكمل الفراغات التالية بما يناسبها:

- ١- الرياح الرطبة الدافئة التي تهب من الجنوب الشرقي وتتأثر في المنخفض السوداني تسمى .....
- ٢- الرياح التي تهب في أواخر الربيع وأوائل الصيف فتثير الغبار وتكون مصحوبة بعواصف رعدية يسقط بسببها المطر الشديد تسمى .....
- ٣- الرياح الجافة جداً والتي تهب في الظهيرة وتكون ذات درجات حرارة عالية ومثيرة للغبار تسمى .....

**ورقة عمل ص ٣٦ إلى ٣٧****س ١/ فند العبارات التالية:****أ- كانت الكويت منطقة مهجورة.****ب- لم تفتقد الكويت قبل نزول العتوب فيها لأي شكل من أشكال البناء السياسي للدولة.****س ٢/ دلل على صحة العبارة التالية: "يعود الوجود البشري في دولة الكويت إلى أكثر من ٤ آلاف سنة قبل الميلاد.****س ٣/ علل: تعرض وضع السكان في دولة الكويت لتغيرات كبيرة عام ١٩٩٠م.****س ٤/ أكمل الفراغات التالية بما يناسبها:****١- أول تعداد سكاني رسمي في دولة الكويت عام .....****٢- الشيخ الذي أجري في عهده أول تعداد سكاني رسمي في الكويت يسمى .....****٣- النسبة المئوية التي بلغها غير الكويتيين (الوافدين) في عام ١٩٩٠م .....****س ٥/ حول نسبة الوافدين عام ١٩٩٠م ٧٢٪، والمواطنين ٢٨٪ إلى دائرة بيانية توضح النسبة.**

**ورقة عمل ص ٣٩****س١/عدد:** مميزات المجتمع الكويتي قديماً وقبل اكتشاف النفط.

-١

-٢

-٣

-٤

-٥

**س٢/دلل على صحة العبارة التالية:** "للتجارة دور مهم في انفتاح الكويت والكويتيين على الشعوب والثقافات المختلفة"**س٣/فرق بين:** النشاط الاقتصادي للمجتمع الكويتي قبل اكتشاف النفط وفقاً للجدول التالي.

النشاط البحري	النشاط البري

**س٤/صحح ما تحته خط بين الأقواس:**١- عرف المجتمع الكويتي قديماً قبل اكتشاف النفط أنه مجتمع غني.٢- الحرب والزراعة الأساس الذي قام عليه اقتصاد المجتمع الكويتي البسيط.٣- النشاط الاقتصادي للمجتمع الكويتي القديم محدد.٤- انتشرت حرفة الصيد في القرى الكويتية خارج مدينة الكويت.٥- من أشهر القرى الزراعية الكويتية قرية المرقاب والخيران.

**ورقة عمل ص ٣٩ إلى ٤٠**

س١/ دلل على صحة العبارة التالية: "الخليج العربي يشكل وسيلة وحلقة وصل واتصال حضاري وإنساني للشعوب"

س٢/ اذكر: أهمية الخليج العربي.

- ١- .....
- ٢- .....
- ٣- .....
- ٤- .....
- ٥- .....

س٢/ عرف طريق الحرير: .....

س٣/ فرق بين ما يلي:

أ- مسارات طريق الحرير وفقاً للجدول التالي.

الشمالي	الغربي

ب- أفرع طريق الحرير الغربي وفقاً للجدول التالي.

الأول	الثاني

س٤/ أكمل الفراغات التالية بما يناسبها:

- ١- المضيق الذي يربط بين خليج عمان والخليج العربي يسمى .....
- ٢- الخليج الذي يعتبر أحد أذرع المحيط الهندي في شبه الجزيرة العربية يسمى .....
- ٣- المورد الطبيعي البري في منطقة الخليج العربي يسمى .....
- ٤- المورد الطبيعي البحري في الخليج العربي يسمى .....
- ٥- الميناء الذي يبدأ منه طريق الحرير البحري يسمى .....

ورقة عمل ص ٤٢ إلى ٤٣

س١/ علل لما يلي:

أ- لا تصلح اغلب الأراضي في دولة الكويت للزراعة.

-١

-٢

-٣

ب- اتجه معظم السكان الكويتيين قديماً إلى العمل في النشاط البحري.

-١

-٢

-٣

س٢/ ما النتائج المترتبة على:

أ- توفر الاسماك الجيدة والمختلفة الأشكال في مياه الخليج العربي.

-١

-٢

-٣

ب- تنوع الأسماك الموجودة في مياه الخليج.

س٣/ عرف القمبار:

س٤/ أكمل الفراغات التالية بما يناسبها:

١- النشاط السائد قديماً في دولة الكويت يسمى .....

٢- الغذاء الرئيسي لسكان الكويت قديماً وحديثاً يسمى .....

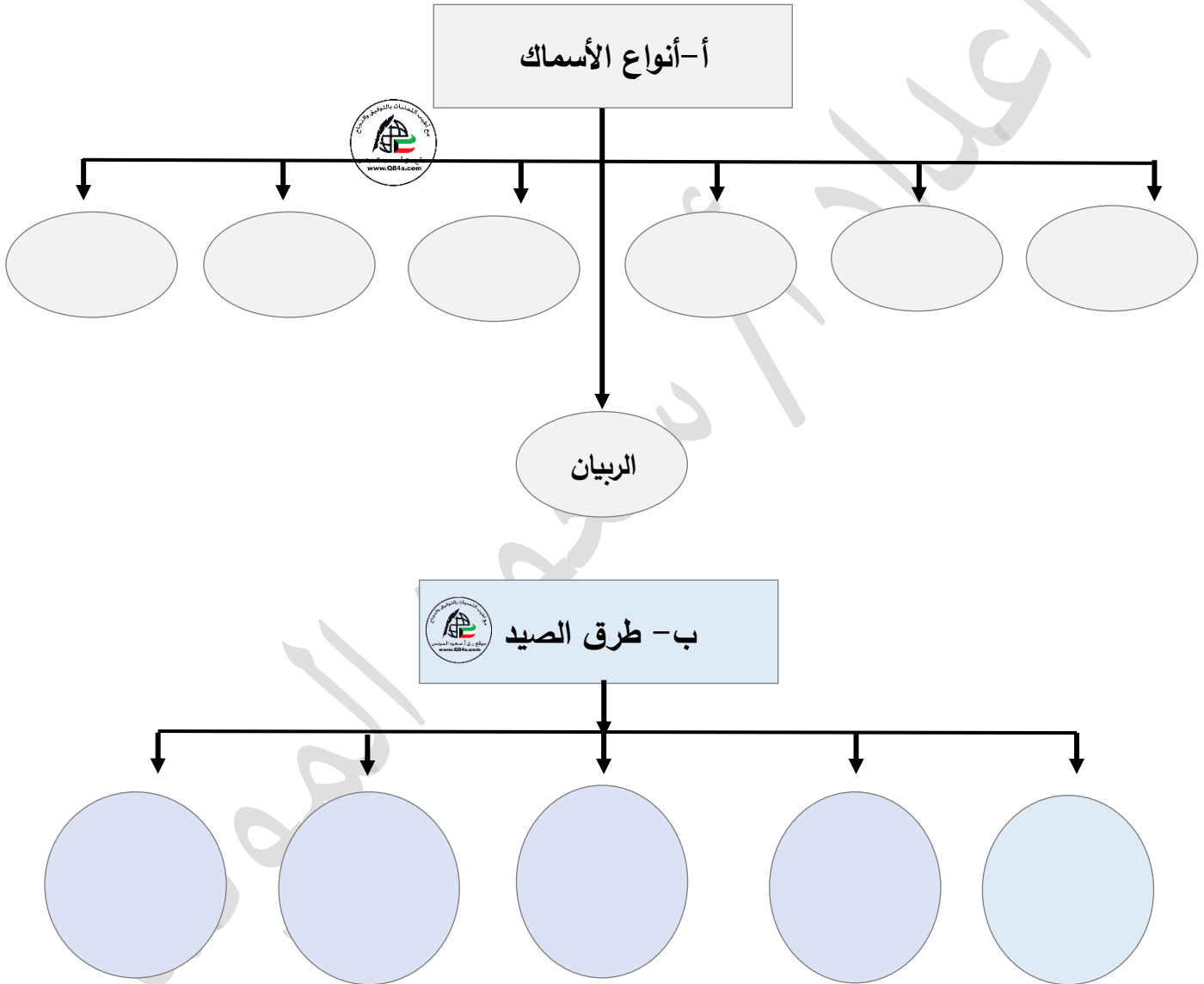
٣- المادة التي تصنع منها حظور الصيد قديماً في الكويت تسمى .....

٤- الأداة التي تعتمد على السنارة ويوضع فيها الطعام لصيد الاسماك تسمى .....

## تابع ورقة عمل ص ٤٢ - ٤٣

س ٥/أكمل المخططات السهمية التالية:

س ٦/عدد ما يلي:



## ورقة عمل ص ٤٣ - ٤٥

س١/ عدد ما يلي:

أ- أماكن الصيد في دولة الكويت.


- ١- .....  
٢- .....  
٣- .....  
٤- .....  
٥- .....  
٦- .....

ب- العوامل التي ساعدت على ازدهار صناعة السفن في دولة الكويت.

- ١- .....  
٢- .....  
٣- .....  
٤- .....  
٥- .....

س٢/ عرف العمائر الساحلية:

س٣/ فرق بين ما يلي:

القلاف	الأستاذ
	

س٤/ صحح ما تحته خط بين الأقواس:

- ١- أماكن الصيد جنوباً في دولة الكويت كاظمة والصبية.  
٢- أماكن الصيد جنوباً في دولة الكويت كاظمة والصبية.  
٣- البرك هي مخازن المواد المستخدمة في صناعة السفن.  
٤- يأتي القلاف في المرتبة الأولى في صناعة السفن.



## تابع ورقة عمل ص ٤٣ - ٤٥

س٤/ لاحظ الأشكال والصور ثم أجب:



الشكل ١

أ- حدد المشترك ما بين الصورتين في الشكل (١).

.....

ب- الشكل (٢) يمثل البوم الكويتي.

ج- اكتب: عن مظاهر اعتزاز دولة الكويت بتراثها البحري.

.....

.....

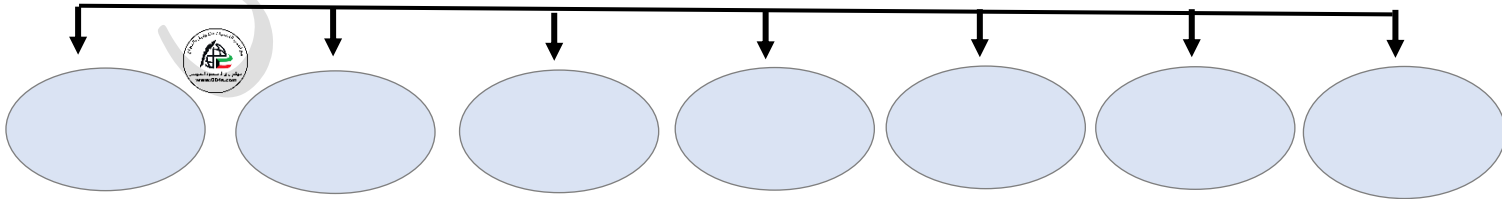
.....



الشكل ٢

س٥/ أكمل المخططات السهمية التالية:

أ- أنواع السفن في دولة الكويت قديماً



## ورقة عمل ص ٤٦ - ٤٧

س١/دلل على صحة العبارة التالية: "لعب البحر قديماً دوراً مهماً في تشكيل طبيعة ونسق المجتمع الكويتي"

١ -

٢ -

س٢/قارن بين: الدشة والقفال من حيث المفهوم والأشهر.

وجه المقارنة	الدشة	القفال
المفهوم		
الأشهر		

س٣/عرف الهيرات:

س٤/اقرأ الفقرة ثم أجب عما يلي:

وقد كسدت تجارة الغوص على اللؤلؤ بسبب ظهور اللؤلؤ الصناعي بعد العام ١٩٢٨م، ولأهمية هذه الحرفة بالنسبة للكويتيين صدر في العام ١٩٤٠م قانون الغواصين من قبل حاكم دولة الكويت الشيخ أحمد الجابر الصباح والقانون ينظم علاقة العمل بين النوخة والبحارة.

أ-عرف ما تحته خط:

قانون الغواصين:

ب-علل: كساد تجارة الغوص على اللؤلؤ في دولة الكويت عام ١٩٢٨م.

س٥/أكمل الفراغات التالية بما يناسبها:

١- الحرفة التي اشتهر أهل الكويت في ممارستها منذ النشأة حتى أول الخمسينيات تسمى .....

٢- بداية موسم الغوص تسمى .....

٣- أشهر مسميات اللؤلؤ .....

٤- ظهر اللؤلؤ الصناعي في دولة الكويت عام .....

٥- صدر قانون الغواصين في دولة الكويت عام .....

٦- حاكم الكويت الذي صدر في عهده قانون الغواصين يسمى .....

س٦/ماذا يحدث لو لم " يظهر اللؤلؤ الصناعي عام ١٩٢٨م.

## ورقة عمل ص ٤٧ - ٤٨

س١/صنف: المهن التي اشتهر بها العاملون على سفن الغوص الكويتية وفقاً للجدول التالي.

الطواش - الرضيف - النهام - السيب - الغيص - المجدمي - النوخة

المهنة	وظيفته
	قائد السفينة وربانها والمسؤول عنها وعن طاقمها، والمسؤول عن تحديد أماكن الغوص والهيئات.
	لقب كان يطلق على رئيس البحارة، والمسؤول عن إدارة السفينة من الداخل.
	الشخص الذي يغوص في قاع البحر بحثاً عن المحار.
	الشخص المنوط به سحب الغيص للسطح عند شد الأخير الحبل (الأيد)، بالإضافة إلى مهمة مساعدة الغيص في فتح المحار.
	الشخص الذي ينشد المواويل تشجيعاً لطاقم السفينة في رحلتهم.
	صغار السن الذين يقومون ببعض الأعمال الأقل من السيب.
	هو تاجر اللؤلؤ.

س٢/عدد ما يلي:

أ-الصفات التي يجب أن تتوفر في النوخة.



صفحة رقم - ١٧ -

- ١-.....
- ٢-.....
- ٣-.....
- ٤-.....
- ب-العاملون في حرفة الغوص.
- ١-..... ٢-..... ٣-..... ٤-..... ٥-.....
- ٦-..... ٧-..... ٨-..... ٩-..... ١٠-.....

س٣/دلل على صحة العبارة التالية: "الحرفة الغوص أثر واضح على أهل الكويت".

- ١-.....
- ٢-.....
- ٣-.....
- ٤-.....

الشكل يمثل الغيص

ورقة عمل ص ٤٩

س١/ عرف الترانزيت:

س٢/ علل ما يلي:

أ- تعتبر دولة الكويت من المراكز المهمة في التجارة الدولية.

١-

٢-

ب- جذب التجارة والتجار لموانئ الكويت.

ج- إغلاق موسم السفر نهاية مايو.

س٣/ عدد الموانئ التي اتجهت لها سفن دولة الكويت قديماً.

الهند مثل: ..... والساحل اليمني مثل: .....

وشرق أفريقيا مثل: .....

س٤/ دلل على صدق العبارة التالية: أدركت السلطة الكويتية أهمية التجارة ودورها كرافد اقتصادي رئيسي.

١-

٢-

٣-

س٥/ أكمل الفراغات التالية بما يناسبها:

١- المصدر الوحيد لدخل الكويتيين في ظل غياب المقومات الطبيعية يسمى .....

٢- المدينة التي تتوجه لها السفن الكويتية في بداية موسم السفر قديماً تسمى .....

٣- الموانئ الأعلى ضريبة قديماً في منطقة الخليج العربي تسمى .....

## ورقة عمل ص ٥٠ إلى ٥١

س١/دلل على صحة العبارة التالية: "شكلت التجارة البرية عنصراً مكملاً لحركة النشاط التجاري البحري"

.....

.....

س٢/عدد أهم الواردات التي كانت تأتي محملة على السفن الكويتية.

١-.....

٢-.....

٣-.....

س٣/علل: ارتبط موسم الرعي في دولة الكويت بموسم هطول الأمطار.

.....

س٤/صنف ما يلي وفقاً للجدول التالي:

الربلة - الحمض - جويضان - الثندا

نباتات موسمية	نباتات معمرة

س٥/صح ماتحته خط بين الأقواس:

- ١- الحرفة الأساسية لسكان البادية في الكويت تسمى التجارة. ( )
- ٢- يعتبر نبات الجويضان والربلة من النباتات المعمرة. ( )
- ٣- نبات الحمض والثندا من النباتات الموسمية. ( )

**ورقة عمل ص ٥٢ إلى ٥٣****س١/فند العبارة التالية:** "الكويت بلد وفير المياه ومتوسط بدرجات الحرارة طوال العام"**س٢/دلل على صحة العبارة التالية:****أ-تكيف الكويتيون قديماً مع الصعوبات والبيئة المحيطة بهم.**

-١

-٢

**ب-زراعة الكويتيين للنباتات التي تتلاءم مع البيئة.**

-١

-٢

**س٣/أكمل المخطط السهمي التالي:****هـ-أهم المناطق الزراعية في الكويت قديماً:****الدمنة****( )****س٤/عدد:** النباتات البرية المهمة التي تنمو في دولة الكويت.**س٥/أكمل الفراغات التالية بما يناسبها:**

١-النباتات التي تعتبر من أبرز ما يزرعه الكويتيون قديماً تسمى .....

٢-الأشجار التي استخدمها الكويتيون قديماً كمصدات للرياح تسمى .....

٣-تعرف منطقة الدمنة حالياً في الكويت باسم .....

**ورقة عمل ص ٥٤ إلى ٥٥****س١/صنف:** المهن الحرفية القديمة وفقاً للجدول التالي.

السدو - النداف - الحياك - القفاص - التناك - الصفار - الحداد - النجارة

المهن الحرفية	الوصف
	حرفة يدوية لعب العاملون بها دوراً مهماً بتوفير مستلزمات البناء وغيرها من المستلزمات المنزلية قديماً، حيث يقوم النجار باستخدام الأخشاب المستوردة من الهند وأفريقيا بصناعة الأبواب والنوافذ "والتخوت" وبعض من ألعاب الأطفال كالنباطة والدوامة وغيرها من اللوازم الضرورية والشداخة المستخدمة لصيد الفئران والتخنة والسحارة وكروسي البرمة.
	يقوم العاملون بالحدادة بصناعة المسامير اللازمة لصناعة السفن قديماً، بالإضافة إلى صناعة الأدوات المستخدمة في البناء والزراعة والأدوات المستخدمة بالمنزل، حيث يقوم الحدادون بصناعة "الصخين" وهي أداة تستخدم للحفر والجدوم والهييب والمنقاش والسكاكين والسلاسل والدودة وغيرها.
	حرفة يدوية يقوم العاملون بها بصنع وتلميع القدور المستخدمة في الطبخ المصنوعة من النحاس والأواني المنزلية المطلية من الداخل بطبقة من القصدير التي تزول، حيث كانت ترسل قديماً إلى الصفار الذي يقوم بدوره بتلميعها وتنظيفها وطلائها لتعود كالجديدة.
	يقوم العاملون بهذه الحرفة باستخدام الصفيح المعدنية لصنع "المحقان" والدوة والتناك وقوطي الجاز (الكروسين) والعلب وأغطيتها والسطول والطشوت وغيرها ويطلق على العامل بها مسمي "التناك".
	يستخدم العاملون بها جريد النخل، حيث يشبك ببعض، وذلك بثقبه وإدخال أطرافه في الثقوب، وحيث يقوم العامل بهذه الحرفة بصنع أشكالها مختلفة من الأقفاص، والمنز والسريير الذي ينام فيه الأطفال قديماً، بالإضافة إلى الأسرة للكبار، والرك صندوق له فتحة من الأعلى لوضع بعض المأكولات به كالعنب والرطب والرمان.
	يقوم الحياك بخياطة الملابس كالبيشوت.
	يقوم النداف بتجديد وصناعة المساند والفرش مستخدماً القطن.
	إحدى الحرف السائدة التي كانت تزاولها المرأة في البادية حياكة الصوف، حيث إنه هو أساس مكونات بيت الشعر الذي يسكنه أهل البادية، ومن الصناعات التي تتعلق بالسدو حياكة العدول وهو ما يوضع على ظهر الدابة لوضع حاجات الراكب، والمزلود أكياس متوسطة لحفظ الطعام والملابس، وكذلك المنسوجات الصوفية كالمفروشات والسجاد والعباءات النسائية والبيشوت الرجالية.



تابع ورقة عمل ص ٥٤ إلى ٥٥

س٢/ فرق بين ما يلي:

أ- المنز والرك.

المنز	الرك
	


ب- العدول والمزاود.

العدول	المزاود

س٣/ اكتب المهنة أسفل الأشكال التالية:




( ..... )



( ..... )



( ..... )



( ..... )

ورقة عمل ص ٥٨ إلى ٥٩

س١/دلل على صحة العبارات التالية:

أ- لموقع دولة الكويت المميز دوراً مهماً في التواصل الحضاري ما بين حضارات شمال الخليج العربي وجنوبه.

-١

-٢

-٣

ب- لمنطقة الصبية أهمية أثرية كبيرة.

-١

-٢

-٣

-٤

ج- وقعت أرض الكويت في فلك الحضارة الإغريقية.

١- في جزيرة أم النمل:

-أ

-ب

-ج

٢- في جزيرة فيلكا:

-أ

-ب

-ج

-د

س٢/أكمل الفراغات التالية بما يناسبها:

١- أشهر الحضارات الموجودة في منطقة الصبية وتعود الي ٥٥٠٠-٤٥٠٠ ق.م تسمى .....

٢- أقدم الآثار في جزيرة فيلكا ترجع لحضارة تسمى .....

٣- بدأ التنقيب الأثري في جزيرة فيلكا عام .....

٤- المكان المقدس عند الاغريق في جزيرة فيلكا يسمى .....

س٣/اكتب وصفاً للشكل المقابل:



**ورقة عمل ص ٥٨ إلى ٥٩**

**س١/علل:** لجزيرة فيلكا دوراً رئيسياً في منطقة الخليج العربي خلال الألفين الثالث والثاني قبل الميلاد.

**س٢/اذكر ما يلي:**

أ- ما خلفته حضارة دلمون القديمة في جزيرة فيلكا.

١-

٢-

٣-

ب- استخدامات أختام دلمون في جزيرة فيلكا.

١-

٢-

٣-

**س٣/دلل على صحة العبارة التالية:** "بعد ظهور الإسلام صبغت منطقة الخليج العربي بصبغة إسلامية"

١-

٢-

٣-

٤-

**س٤/اذكر:** أهمية معركة ذات السلاسل (كاظمة) سنة ١٢ هـ.

**س٥/أكمل الفراغات التالية بما يناسبها:**

١- عدد الاختام الدلمونية في جزيرة فيلكا .....

٢- وقعت معركة كاظمة بين المسلمين والفرس سنة .....

٣- المسكوكات الإسلامية التي عثر عليها في دولة الكويت والمؤرخة بعام ١٢٣ م تعود لدولة تسمى .....

٤- المنطقة التي تحتوي على مبان ترجع إلى الفترة الإسلامية تسمى .....

٥- الشكل رقم (١) + (٢) يمثل آثار لجزيرة تسمى .....



الشكل ١




الشكل ٢

ورقة عمل ص ٦٢

س٣/ اكتب مدلولات الأشكال التالية:



( ..... )



( ..... )



( ..... )



( ..... )



( ..... )



## نشأة الكويت ١٦١٣م || ورقة عمل ص ٦٧ إلى ٦٨

س١/ عرف ما يلي:

أ- الكويت:

ب- القرين:

س٢/ دلل على صحة العبارة التالية: "أثر الاستقرار على طبيعة وصفات المجتمع الجديد"

١-

٢-

٣-

٤-

س٣/ أكمل الفراغات التالية بما يناسبها:

١- نشأت دولة الكويت عام .....

٢- القرين اسم أطلق على مرتفع يسمى .....

٣- القصر الذي نشأ حول مرتفع بهيته ومدينة الكويت يسمى .....

٤- المنطقة التي نزلت منها قبائل العتوب تسمى .....

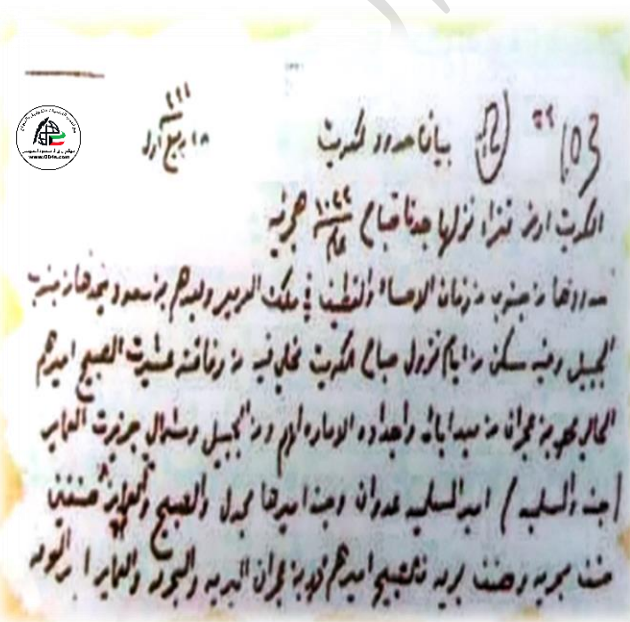
٥- القبيلة التي استقرت قبائل العتوب تحت حمايتها تسمى .....

٦- الحاكم الأول للمجتمع الجديد في الكويت والذي توسم فيه الخير والصلاح يسمى .....

س٤/ لاحظ الشكل ثم أكتب تعليقاً مناسباً:

.....

.....





ورقة عمل ص ٧٠ إلى ٧١س١/ من قائل العبارة وما المناسبة:

"دخلت ثلاث أسر عربية ذات شأن هي "آل الصباح والجاهمة وآل خليفة" تحوهم عوامل المصلحة والطموح في تحالف ومكثت على بقعة من الأرض على الساحل الشمالي الغربي من الخليج تسمى الكويت... الخ"

١- القائل:

٢- المناسبة:

س٢/ علل: اختيار الشيخ صباح الأول حاكماً للكويت.

١-

٢-

٣-

س٣/ فرق بين ما يلي وفقاً للجدول التالية:

أ- مهام أسر العتوب.

المهام	الأسرة
	آل صباح
	آل خليفة
	آل الجاهمة



ب- مراحل تأسيس دولة الكويت.

المرحلة الأولى	المرحلة الثانية	المرحلة الثالثة

س٤/ صحح ما تحته خط بين الأقواس:

- ١- عمل فرانسيس وarden في شركة تسمى الهند الشرقية الأمريكية. ( )
- ٢- مرت عملية تأسيس دولة الكويت بأربع مراحل. ( )
- ٣- عملت أسرة آل الصباح بمهمة التجارة. ( )
- ٤- المرحلة الثانية لعملية التأسيس تمثلت باختيار آل الصباح لحكم الكويت وانتهاء التحالف الثلاثي. ( )



ورقة عمل ص ٧٢ إلى ٧٣

س١/دلل على صحة العبارات التالية:

أ-علاقة الكويت وبني خالد جعلتهم يتمتعون بالأمن والرخاء .

-١

-٢

ب-يعد اختيار الشيخ صباح الأول بن جابر البداية الحقيقية لظهور الكويت كياناً سياسياً منظماً.

-١

-٢

-٣

س٢/أكمل الفراغات التالية بما يناسبها:

١-القبيلة التي امتد نفوذها من قطر جنوباً حتى حدود البصرة شمالاً تسمى .....

٢-الحاكم الأول لدولة الكويت يسمى .....

٣-الفترة الزمنية لحكم الشيخ صباح الأول بن جابر .....

٤-المبدأ الذي سار عليه نظام الحكم في دولة الكويت يسمى .....

**ورقة عمل ص ٧٣ إلى ٧٤****س١/صمم جدولاً لمعركة الرقة موضحاً فيه: الأطراف - الأسباب - السنة - النتائج.**

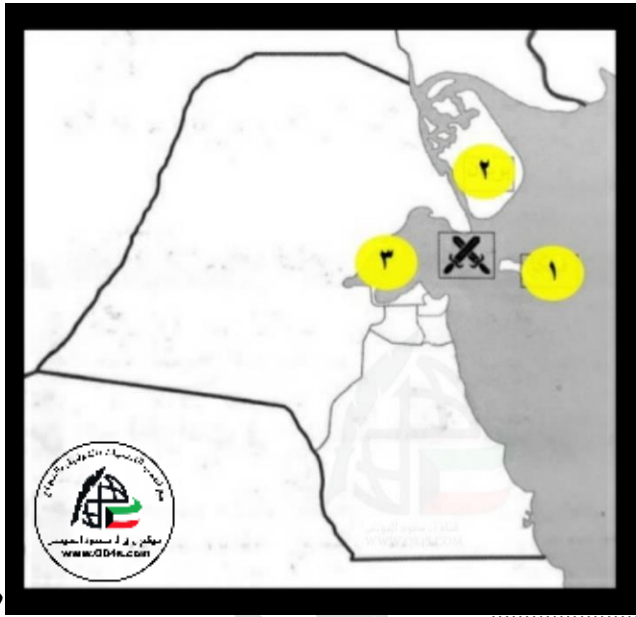
الأطراف	الأسباب	السنة	النتائج
الكويت x بني كعب		١٧٨٣م	

**س٢/علل: بناء الشيخ عبدالله الأول سور الكويت الأول عام ١٧٩٧م.****س٣/انظر الخريطة جيداً ثم أجب عما يلي:**

- الرمز يمثل معركة تسمى .....
- وقعت معركة الرقة البحرية عام .....
- جزيرة فيلكا يمثلها على الخريطة الرقم .....
- جزيرة بوبيان يمثلها على الخريطة الرقم .....

**س٤/أكمل الفراغات التالية بما يناسبها:**

- ١- أصغر أبناء الشيخ صباح الأول بن جابر يسمى .....
- ٢- الحاكم الأول لدولة الكويت يسمى .....
- ٣- الفترة الزمنية لحكم الشيخ عبد الله الأول بن صباح بن جابر .....
- ٤- المعركة التي وقعت بالقرب من جزيرة فيلكا تسمى .....
- ٥- وقعت معركة الرقة عام .....
- ٦- المدينة التي تعرضت للنكبات على يد الفرس عام ١٧٧٥-١٧٧٩م تسمى .....
- ٧- المعركة البحرية الأولى في تاريخ إمارة الكويت تسمى .....
- ٨- بني سور الكويت الأول عام .....



ورقة عمل ص ٧٦

س١/اقرأ الفقرة التالية ثم أجب عما يليها:

"أنه كان حليماً كريماً يضرب بكرمه المثل لكثرة ما يتصدق به على الفقراء والمساكين"

أ-من المقصود في هذه العبارة: .....

ب-الفترة الزمنية لحكم الشيخ جابر الأول بن عبد الله الصباح: .....

ج-تولى الشيخ جابر الأول بن عبد الله الصباح الحكم وعمره .....

د-اذكر: صفات الشيخ جابر الأول بن عبد الله الصباح التي ذكرها بروكس عام ١٨٣٠م.

.....

.....

.....

هـ-علل: أطلق على الشيخ جابر الأول بن عبد الله الصباح لقب .....

س٢/من قائل العبارة وما المناسبة:

"إن لأهل الكويت علينا حقاً عظيماً، ولو كانت تحت يدي ثروة طائلة لقمّت بحاجة الفقراء والمحتاجين منها إلى أن يموتوا"

١-القائل: .....

٢-المناسبة: .....

س٣/عدد: أعمال جابر الأول بن عبد الله الصباح.

١-.....

٢-.....

٣-.....

س٤/فند العبارة التالية:

"قبل الشيخ جابر الأول طلب نائب المقيم السياسي البريطاني في الخليج بأن تقوم الكويت برفع الراية الانجليزية"

.....

.....

س٥/فسر ما يلي: "تعد فترة الشيخ جابر الأول فترة ازدهار بحري للكويت"

١-.....

٢-.....

**ورقة عمل ص ٧٧ إلى ٧٩****س١/فند العبارة التالية:** "أصر الشيخ صباح الثاني بن جابر على أن يفرض رسوماً على البضائع"**س٢/من قائل العبارة وما المناسبة:**

"احتفظت الكويت بعهدہ باستقلالها دوماً حتى في الوقت الذي خضعت فيه هرمز ومسقط والبحرين والاحساء لحكم الأجنبي، وإن أهل الكويت أكثر أهل الخليج حباً للحرية والاقدام"

١-القائل: .....

٢-المناسبة: .....

**س٣/اذكر:** أهم الأحداث في عهد الشيخ عبد الله بن صباح الثاني.**س٤/فرق بين:** مهام الشيخ جراح ومبارك الصباح اثناء فترة حكم الشيخ محمد بن صباح ١٨٩٢-١٨٩٦م.

الشيخ مبارك الصباح	الشيخ جراح الصباح

**س٥/أكمل الفراغات التالية بما يناسبها:**

- ١-الحاكم الكويتي الذي تقدمت التجارة والاقتصاد بعهدہ بشكل كبير يسمى .....
- ٢-الفترة الزمنية لحكم الشيخ صباح الثاني بن جابر .....
- ٣-المعتمد البريطاني الذي زار الكويت عام ١٨٦٥م يسمى .....
- ٤-الإقليم الذي توجهت له حملة مدحت باشا عام ١٨٧١م يسمى .....
- ٥-القائد للأسطول البحري الذي ساند حملة مدحت باشا يسمى .....
- ٦-القائد البري للجيش الذي ساند حملة مدحت باشا يسمى .....
- ٧-السفن الكويتية التي نقلت المؤنة واللوازم الحربية في حملة مدحت باشا عددها .....
- ٨-الأمير السعودي الذي استقبله الشيخ محمد بن صباح واسرته يسمى .....
- ٩-الأمير الذي أسس الدولة السعودية الثالثة يسمى .....
- ١٠- قدم والد مؤسس الدولة السعودية الثالثة وأسرته للكويت عام .....

س ٦/أكمل: شجرة حكام آل صباح بذكر اسم الحاكم وفترة الحكم.



ورقة عمل ص ٨٠

س١/اذكر: القرارات التي ساعدت على النمو التجاري والاقتصادي للكويت.

-١

-٢

-٣

-٤

-٥

س٢/ما النتائج المترتبة على:

أ-تشجيع دولة الكويت بناء سفن الغوص وتأمين طرق التجارة المارة عبر أراضيها.

ب-اجتذاب دولة الكويت الوكالات التجارية التابعة للشركات الأوروبية العاملة في الخليج العربي.

س٣/دلل على صحة العبارة التالية:

"تعزيزت نزعت الاستقلال لدى حكام دولة الكويت وتأكيد كيانه المستقل"

-١

-٢

س٤/أكمل الفراغات التالية بما يناسبها:

١- انتقلت الوكالة البريطانية من البصرة للكويت للمرة الأولى عام .....

٢- انتقلت الوكالة البريطانية من البصرة للكويت للمرة الثانية عام .....

ورقة عمل ص ٨١ إلى ٨٢

س١/عدد: عوامل نمو وازدهار دولة الكويت تحت حكم آل صباح.

١-

٢-

٣-

٤-

٥-

٦-

س٢/دلل على صحة العبارة التالية:

"عملية تأسيس الكويت مثلت نموذجاً مختلفاً لم يكن على أساس الغلبة لأي شريحة مجتمعية أو تكتل سكاني"

س٣/أكمل الفراغات التالية بما يناسبها:

١-المقر الرئيسي للبضائع داخل الجزيرة العربية يقع في دولة تسمى .....

٢-القبيلة التي شكلت الهوية الكويتية مبكراً منذ عملية التأسيس تسمى .....

٣-المبدأ الذي قام عليه نظام الحكم لإمارة الكويت يسمى .....



**الفصل الثالث: التنافس الأوروبي على منطقة الخليج العربي** || ورقة عمل ص ٨٥ إلى ٨٦**س ١/ أكمل الفراغات التالية بما يناسبها:**

١- القرن الذي سعى فيه الأوروبيون للسيطرة على منطقة الخليج يسمى .....

٢- الدولة التي مثلت بداية الاستعمار الأوروبي للخليج العربي تسمى .....

٣- النظام الاستعماري الأسوأ في منطقة الخليج العربي يسمى .....

**س ٢/ علل لما يلي:**

أ- وقعت تغيرات في أوضاع البرتغاليين في الشرق خلال أواخر القرن السادس عشر.

١- .....

٢- .....

ب- الانهيار التدريجي للاستعمار البرتغالي في منطقة الخليج العربي.

١- .....

٢- .....

٣- .....

**س ٣/ فند العبارة التالية:**

" لم يكن لليعاربة في منطقة الخليج العربي أي جهود تذكر تجاه الوجود البرتغالي "

.....

ورقة عمل ص ٨٧ إلى ٨٨

س١/علل: عدم استمرار التفوق الهولندي في منطقة الخليج العربي طويلاً.

س٢/ما النتائج المترتبة على:

أ-ازدياد حدة التنافس بين البريطانيين والهولنديين في منطقة الخليج العربي.

ب-انهيار النفوذ الهولندي.

١-

٢-

٣-

٤-

س٣/فسر العبارة التالية: "الأهمية الاستراتيجية الكبرى لمنطقة الخليج العربي عند البريطانيين.

١-

٢-

س٤/أكمل الفراغات التالية بما يناسبها:

١-القرن الذي بدأ فيه الوجود الهولندي في آسيا خصوصاً والشرق عموماً يسمى .....

٢- خرج أول أسطول هولندي إلى آسيا عام .....

٣-الميناء الذي اتخذته الهولنديون في الشرق مركزاً تجارياً لهم يسمى .....

٤-التجارة التي أصبحت بيد الهولنديين في منطقة الخليج العربي تسمى .....

٥- تأسست شركة الهند الشرقية الانجليزية عام .....

## ورقة عمل ص ٨٩ إلى ٩٠

س١/ ما النتائج المترتبة على: الصراع القائم بين الدولة الفارسية والدولة العثمانية وحصار فارس للبصرة عام ١٧٧٥م.

س٢/ علل: أهمية منطقة الكويت بالنسبة للإنجليز.

١-

٢-

س٣/ أكمل الفراغات التالية بما يناسبها:

١- الفترة الزمنية لاستمرار الصراع بين القوتين الفارسية والعثمانية .....

٢- وقع الحصار الفارسي للبصرة عام .....

٣- الفترة الزمنية التي اتخذ فيها الانجليز الكويت مقراً مؤقتاً لهم نتيجة الصراع مع العثمانيين .....

٤- وقعت دولة الكويت اتفاقية الحماية البريطانية عام .....

٥- تأسست شركة الهند الشرقية الانجليزية عام .....

س٤/ فند العبارة التالية: "كانت العلاقات الكويتية العثمانية علاقة إسميه في كل الجوانب"

س٥/ اكتب عن العلاقة الكويتية العثمانية.

س٦/ عدد: الأسس التي جاءت في فرمان العثماني حول علاقة الكويت بالدولة العثمانية.

١-

٢-

٣-

٤-

س٧/ صحح ما تحته خط بين الأقواس:

١- كانت العلاقة الكويتية العثمانية علاقة رسمية قائمة على الولاء الديني. ( )

٢- ساعد دولة الكويت الدولة العثمانية في حملة مدحت باشا عام ١٨٦١م. ( )

٣- مدحت باشا والي مدينة الرياض. ( )

٤- فرمان العثماني تضمن أن شيخ الكويت تابع في شؤونه. ( )

## الفصل الرابع: الشيخ مبارك الصباح (١٩١٥-١٨٩٦م) || ورقة عمل ص ٩٥ إلى ٩٦


س١/ فسر العبارة التالية: "كانت فترة حكم الشيخ مبارك الصباح (١٨٩٦-١٩١٥م) حاسمة في تاريخ الكويت"

-١

-٢

-٣

س٢/ عدد: المجالات والتطورات الداخلية في عهد الشيخ مبارك الصباح وفقاً للجدول التالي:

المجالات	التطورات الداخلية في عهد الشيخ مبارك الصباح
<p>حفظ الأمن وتشجيع التجارة</p> 	-١
	-٢
	-٣
	-٤
	-٥
	-٦
	-٧
التعليم	
الصحة	
الجيش	


س٣/ دلل على صحة العبارات التالية:

١- اهتمام الشيخ مبارك الصباح في المجال الصحي.

٢- اهتمام الشيخ مبارك الصباح في مجال التعليم.

تابع ورقة عمل ص ٩٥ إلى ٩٦س ٤/ أكمل الفراغات التالية بما يناسبها:

- ١- المؤسس لإمارة الكويت الحديثة عام ١٨٩٦-١٩١٥م يسمى .....
- ٢- اللقب الذي أطلق على الشيخ مبارك الصباح .....
- ٣- الترتيب التسلسلي للشيخ مبارك الصباح في سلسلة حكام الكويت .....
- ٤- تأسس أول مستشفى في دولة الكويت عام .....
- ٥- المستشفى الأول في دولة الكويت يسمى .....
- ٦- أنشئت أول مدرسة نظامية في دولة الكويت عام .....
- ٧- المدرسة النظامية الأولى في دولة الكويت تسمى .....

س ٥/ اكتب مدلولات الأشكال التالية:

( )



( )

## تابع ورقة عمل ص ٩٨ إلى ٩٩

س١/ دلل على صحة العبارة التالية: " تبدو الخطوات الروسية نحو تعزيز نفوذها في الكويت أكثر وضوحاً منذ نهاية القرن التاسع عشر الميلادي "

س٢/ فرق بين: السبب المعلن والسبب الحقيقي لخطوات روسيا للتأثير على الشيخ مبارك الصباح في القرن ١٩.

السبب المعلن	السبب الحقيقي

س٣/ علل: رفض الشيخ مبارك الصباح كافة المشاريع المقدمة من الروس.

س٤/ اذكر موقف الشيخ مبارك الصباح تجاه كلاً من:

أ- الأطماع الروسية:

١- .....

٢- .....

ب- الأطماع الألمانية:

س٥/ أكمل الفراغات التالية بما يناسبها:

١- المشروع الروسي لجعل دولة الكويت نهاية لخط سكة حديدية جديدة يسمى .....

٢- المشروع الألماني الذي كان مقرراً أن ينتهي في الكويت تحديداً يسمى .....

٣- المنطقة التي استقبل فيها الشيخ مبارك الصباح البعثة الألمانية تسمى .....

٤- استقبل الشيخ مبارك الصباح البعثة الألمانية عام .....

## ورقة عمل ص ١٠٠

س١/ علل لما يلي:

أ- رأى الشيخ مبارك الصباح أن مشروع سكة الحديد الألماني العثماني يهدد إمارته واستقلاله.

س٢/ فرق بين: سياسة الدولة العثمانية مع الكويت قبل وبعد اتفاقية الحماية البريطانية عام ١٨٩٩م.

بعد الحماية	قبل الحماية
١- ٢-	

س٣/ اذكر: موقف الشيخ مبارك الصباح تجاه الأطماع العثمانية.

س٤/ أكمل الفراغات التالية بما يناسبها:

١- الدولة التي مثلت الخلافة الاسلامية في عهد الشيخ مبارك الصباح تسمى .....

٢- عقد الشيخ مبارك الصباح اتفاقية الحماية البريطانية عام .....

س٥/ ماذا يحدث لو لم: يرفض الشيخ مبارك الصباح مشروع سكة الحديد مع الدولة العثمانية والألمان.

## ورقة عمل ص ١٠١ إلى ١٠٢

س١/ ما النتائج المترتبة على:

أ- تقارب بريطانيا مع الشيخ مبارك الصباح.

ب- اتفاقية الحماية البريطانية عام ١٨٩٩م.

١-

٢-

س٢/ علل: توجه الشيخ مبارك الصباح نحو البريطانيين وعقد اتفاقية الحماية ١٨٩٩م.

س٣/ عدد: الجوانب الإيجابية لاتفاقية الحماية البريطانية ١٨٩٩م بالنسبة للكويت.

١-

٢-

٣-

س٤/ ما تفسيرك: حرص بريطانيا على بقاء اتفاقية الحماية سرية.

١-

٢-

س٥/ لاحظ الأشكال جيداً ثم أجب عما يلي:

١- الشكل (٢) يمثل .....

٢- وقعت الاتفاقية في الشكل (٢) عام .....

٣- المقيم السياسي لصاحبة الجلالة الذي وقع الاتفاقية يسمى .....

٤- الشكل (١) يمثل صورة الشيخ .....

س٦/ صحح ما تحته خط بين الأقواس:

١- تاريخ عقد اتفاقية الحماية البريطانية الكويتية ١٨٩٩/٣/٢٣م.

٢- فقدت الكويت أثناء فترة الحماية البريطانية سيادتها في إدارة شؤون الداخلية.

٣- طبقت على الكويت أثناء فترة الاتفاقية البريطانية "إمارة تابعة تحت الحماية البريطانية".

٤- وقع كالكوت جاكسن المقيم السياسي لصاحبة الجلالة في الخليج على اتفاقية ١٨٩٩م.



الشكل ٢

الشكل ١



**ورقة عمل ص ١٠٥ إلى ١٠٧****س١/علل: دعم الشيخ مبارك الصباح الأمير عبد العزيز آل سعود عسكرياً.****س٢/برهن على صحة العبارة التالية: "براعة الشيخ مبارك الاستقلالية رغم ارتباطه باتفاقية الحماية مع بريطانيا"**

-١

-٢

-٣

**س٣/لاحظ الخريطة جيداً ثم أجب عما يلي:**

• ارسم مفتاح للخريطة.

• الشكل \*\* يمثل: الأماكن التي مر بها الشيخ مبارك الصباح في المعارك.

• معركة الصريف عام ١٩٠١م على الخريطة يمثلها الرمز

• معركة هدية عام ١٩١٠م على الخريطة يمثلها الرمز

## تابع ورقة عمل ص ١٠٥ إلى ١٠٧

س٤/ من قائل العبارة التالية وما المناسبة:

"لقد قاومت هذا طيلة عمري وأنت تطالبني بالموافقة على ذلك"

• القائل: .....

• المناسبة: .....

• س٥/ أكمل الفراغات التالية بما يناسبها:

١- قامت الدولة السعودية الثالثة عام .....

٢- مؤسس الدولة السعودية الثالثة يسمى .....

٣- استقرت أسرة عبد الرحمن آل سعود في دولة الكويت مدة .....

٤- وقعت معركة الصريف بتاريخ .....

٥- معركة وقعت في شهر ٥/ مايو عام ١٩١٠م تسمى .....

٦- الشكل التالي يمثل .....

