

مدرستي معكم خطوة بخطوة للنجاح والتفوق



مدرستي

الكويتية

حمل التطبيق



مدرستي



الكويتية



اضغط هنا

وزارة التربية
الإدارة العامة لمنطقة مبارك الكبير التعليمية

نموذج إجابة اختبار الفترة الدراسية الثانية 2023/2022

الصف	السابع
المادة	الاجتماعيات





وزارة التربية
الإدارة العامة لمنطقة مبارك الكبير التعليمية
التوجيه الفني للاجتماعيات

امتحان نهاية الفترة الدراسية الثانية
مقرر/ الدراسات الاجتماعية الكويت الوطن العربي
للفص السابع المتوسط

العام الدراسي ٢٠٢٢ / ٢٠٢٣ م
الزمن : ساعة و ٤٥ دقيقة
عدد الأوراق : (٥)

السؤال الأول (موضوعي) يتكون من (أ - ب - ج - د - هـ - و) : (لكل نقطة درجة)

(أ) أكمل العبارات التالية بما يناسبها :

- ١- المنظمة الإقليمية التي تضم جميع الدول العربية تسمى جامعة الدول العربية . ص ١٧٨
- ٢- التبادل التجاري بين الدول العربية يسمى التجارة البينية . ص ١٥٢
- ٣- تزايد عدد السكان من عام لآخر نتيجة للزيادة الطبيعية للسكان والهجرة يسمى النمو السكاني . ص ١٠٦
- ٤- العام الذي تم فيه إنشاء الصندوق الكويتي للتنمية الاقتصادية العربية ١٩٦١ م . ص ١٧٩
- ٥- برامج تحسين نوعية الحياة ولا تتحقق إلا بمشاركة جميع المواطنين تسمى التنمية المستدامة . ص ١٧٥

(ب) ضع خطأ تحت الخيار الصحيح من بين الخيارات التي تلي كل عبارة :



- ١- من المقومات الطبيعية للإنتاج الزراعي : ص ١١١
- رأس المال - الأسواق - المناخ - الأيدي العاملة
- ٢- النسبة التي يحتلها القطاع الزراعي من الاقتصاد العربي تمثلها الدائرة البيانية : ص ١١٠



٣- الدولة العربية التي تحتل المركز الأول من حيث احتياطي الغاز الطبيعي : ص ١٢٩

- قطر - المغرب - السعودية - ليبيا

٤- الصناعة التي تقوم بتحويل المواد الأولية من معدنية و نباتية و حيوانية إلى سلع استهلاكية صالحة للاستعمال : ص ١٤٢

- الصناعات الحرفية - الصناعات التحويلية - الصناعات التجميعية - الصناعات التعدينية

٥- يبلغ عدد دول مجلس التعاون الخليجي : ص ١٨١

- ٦ - ٧ - ٨ - ٩



تابع السؤال الأول :

(ج) صنف الكلمات التالية بمكانها الصحيح في الجدول الذي يليها :

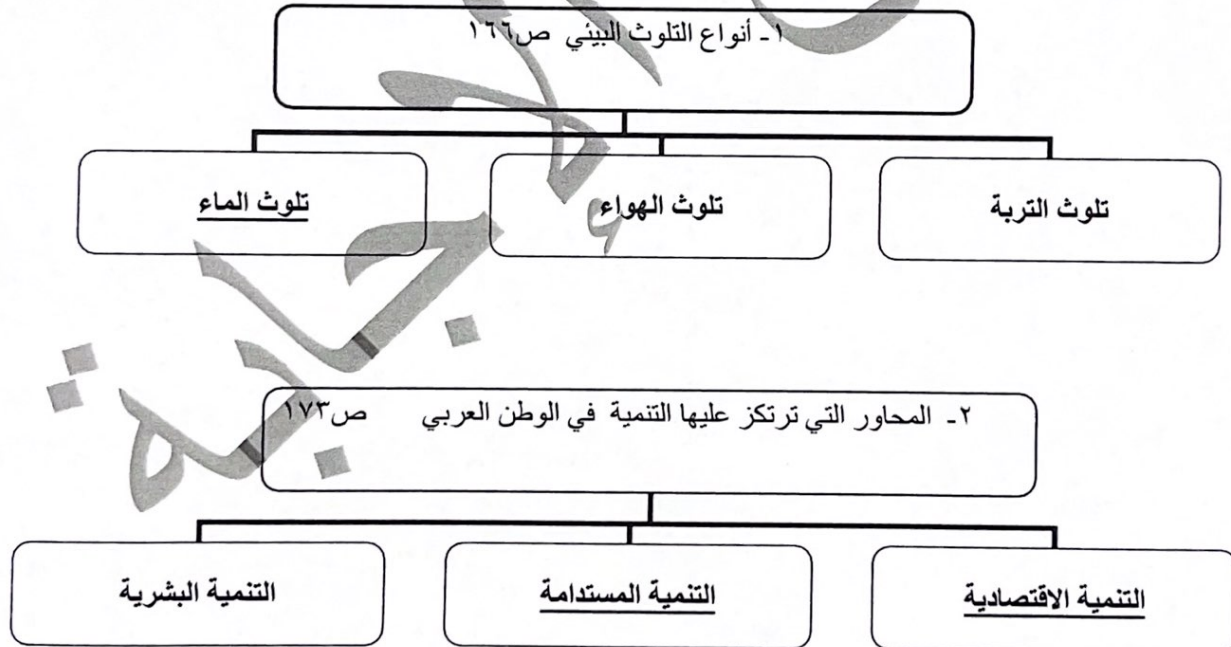
١- (الشعير - التمر - القمح - العنب) ص ١١٣

الحبوب الغذائية	الفواكه و الثمار
الشعير	التمر
القمح	العنب

٢- (صناعة الخشب و الورق - النفط - الصناعة الغذائية - الفحم) ص ١٤١-١٤٢

الصناعات التحويلية	الصناعات الاستخراجية
صناعة الخشب و الورق	النفط
الصناعة الغذائية	الفحم

(د) أكمل المخططات السهمية التالية :

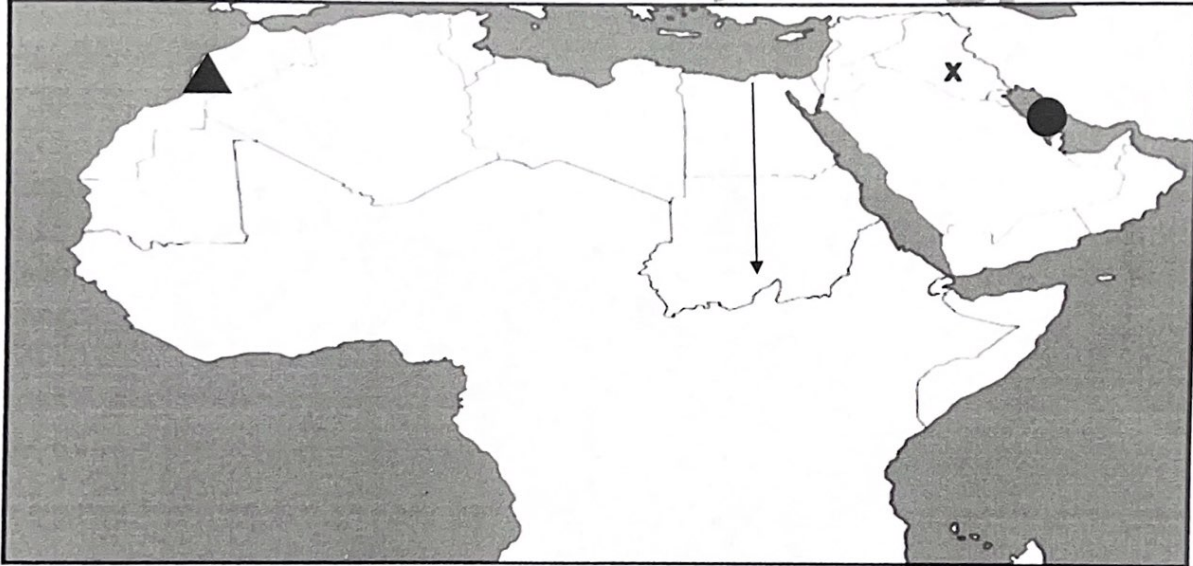


تابع السؤال الأول :

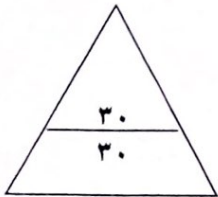
(هـ) صحح ما تحته خط في العبارات التالية وذلك بكتابة الإجابة الصحيحة في مكانها المناسب :

- ١- تأسس الصندوق الكويتي للتنمية الاقتصادية في عهد الشيخ صباح السالم الصباح . (عبدالله السالم الصباح ص ١٨٤)
- ٢- تبلغ نسبة إنتاج الوطن العربي من الإنتاج العالمي للنفط الخام ٢٠٪ . (٣٠ % ص ١٢٧)
- ٣- صاحب المبادرة لعقد القمة العربية الاقتصادية و التنمية و الاجتماعية عام ٢٠٠٩م الشيخ جابر الأحمد . (صباح الأحمد ص ١٨٦)
- ٤- الدولة العربية التي استضافت المؤتمر الدولي الأول لمانحي سوريا عام ٢٠١٣ هي قطر . (الكويت ص ١٨٨)
- ٥- قوى محركة للآلات وعنصر مهم للتقدم و التطور الاقتصادي في جميع المجالات تسمى التنمية . (الطاقة ص ١٢٥)

(و) لاحظ خريطة الوطن العربي الصماء ، ثم أجب عن الأسئلة التالية :



- حدد موقع الخليج العربي باستخدام الرمز ● ص ١٣٣
- حدد موقع الدولة الأولى عربياً في إنتاج معدن الفوسفات باستخدام الرمز ▲ ص ١٣٢
- حدد موقع نهر دجلة باستخدام الرمز X ص ١٤٩
- ارسم نهر النيل باستخدام الرمز ← على الخريطة ص ١٤٩



(٣)

السؤال الثاني (مقالي) يتكون من (أ - ب - ج) :

(أ) : عرف المفاهيم أو المصطلحات التالية : (لكل جزئية درجة ٣ درجات

- ١- التصحر : زحف رمال الصحراء على المناطق الجافة وشبه الجافة . ص ١٦٢
- ٢- التضامن العربي: العمل على توثيق الصلات بين الدول العربية و الشعوب وحماية مصالحها السياسية والاقتصادية والثقافية. ص ١٧٧
- ٣- الغلات النقدية : الغلات التي تدخل في الصناعة وتزرع بغرض التجارة والحصول على نقد . ص ١١٣

(ب) قارن بين كل مما يلي : (لكل جزئية درجة ٤ درجات

أوجه المقارنة	منظمة الأوبك	منظمة الأوابك
المقر	فيينا ص ١٣٤	الكويت ص ١٣٥
سنة التأسيس	١٩٦٠ ص ١٣٤	١٩٦٨ ص ١٣٥

(ج) أجب عما يلي :

- ١- عدد - أهم الإحصاءات السكانية التي تعتمد عليها دراسة السكان في الوطن العربي . ص ٩٩ (درجتان)
- التعداد السكاني - الإحصاء الحيوي .
- ٢- علل - تحتل الأغنام العربية مكانا مهما ضمن الثروة الرعوية . ص ١١٨ (درجتان - يكتفى بنقطتين)
- الأكثر انتشارا في المراعي العربية - لأنها مصدر أساسي من مصادر الثروة القومية - لأهمية منتجاتها بالنسبة للسكان .
- أكثر الحيوانات المستأنسة والملائمة لمراعي الوطن العربي وذلك لتحملها الجفاف و الانتقال .
- ٣- علل - تدني وفرة المياه في الوطن العربي . ص ١٦٤ (درجتان - يكتفى بإجابتين)
- النمو السريع للسكان الذي يشكل ضغطا متزايدا على المياه المتوفرة لكل الفرد .
- ٥٠٪ من الموارد المائية في العالم العربي تأتي من خارج حدوده و تتحكم فيها دول المنبع في غياب تشريعات دولية تضمن حقوقنا .
- الطرق التقليدية المستخدمة في استغلال المياه في معظم مناطق العالم العربي (استخدام الري بالغمر و الاستهلاك الغير مسؤول) - الشبكات المؤهلة لنقل المياه شبكات قديمة .
- افتقار الدول العربية إلى برامج لإدارة المياه كما أنها لا تستخدم الأدوات الاقتصادية اللازمة لترشيد الاستخدام المتزايد من المياه .
- ٤- عدد - طرق النقل في الوطن العربي . ص ١٤٧ (ثلاث درجات)
- طرق جوية .
- طرق بحرية . (طرق نقل الحائيه)
- طرق برية .



السؤال الثالث يتكون من (أ - ب - ج) :

(أ) فرق بين كل مما يلي من حيث التعريف : (لكل جزئية درجة) ٤ درجات

الزيادة الطبيعية ص ١٠٦	الزيادة غير الطبيعية ص ١٠٦
الفرق بين معدل المواليد ومعدل الوفيات .	الزيادة الناتجة عن الهجرة .
الغاز الطبيعي ص ١٢٥	النفط ص ١٢٥
غاز مصاحب للنفط الخام أو يوجد منفرداً تتم إيسالته لاستخدامات عديدة .	بقايا عضوية على هيئة نباتات وحيوانات دقيقة ترسبت في عصور قديمة و انطمرت تحت رواسب سميكة و تحولت بالضغط و الحرارة إلى صورتها الحالية .

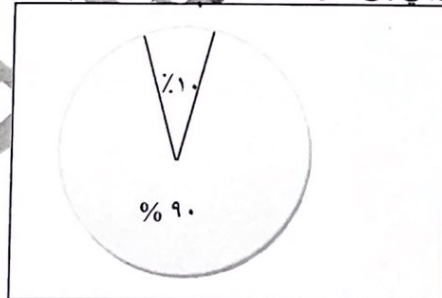
(ب) علل لما يلي :

- ١ - اختلاف المنتجات الزراعية من دولة إلى أخرى . (درجتان - يكتفى بنقطتين)
- اختلاف المناخ - التربة - مدى توافر المياه .
- ٢ - العقبات التي تواجه الإنتاج الزراعي في الوطن العربي . ص ١٦١ (درجتان - يكتفى بنقطتين)
- عدم استغلال الأراضي القابلة للزراعة لندرة مياه الري أو تذبذب الأمطار أو قلة الأيدي العاملة . / - اتباع طرق الزراعة التقليدية في معظم أجزاء الوطن العربي . / - زحف الرمال (التصحر) وانجراف التربة . / - تلوث التربة نتيجة للإسراف في استخدام المبيدات الحشرية وارتفاع نسبة الملوحة بالتربة . / - الرعي الجائر .
- ٣ - قيام الدول من حين إلى آخر بإجراء تعداد لسكانها . (درجة)
- لتحصل الدولة على معلومات وافية عن أوضاع سكانها : عددهم الإجمالي و عدد كل جنس و أعمارهم . ص ٩٩

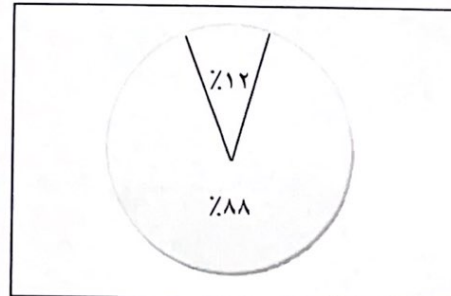
(ج) لاحظ الجدول الإحصائي الذي أمامك ثم اجب عما يليه من الأسئلة :

جدول نسب إنتاج و احتياطي النفط في الجناح الآسيوي و الأفريقي في الوطن العربي		
الجناح	إنتاج النفط	احتياطي النفط
الآسيوي	%٨٨	%٩٠
الأفريقي	%١٢	%١٠

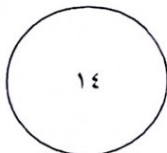
- ١ - استنتج حقيقة من الجدول . درجة ص ١٢٨
- ان الجناح الآسيوي يتفوق على الجناح الأفريقي في إنتاج النفط و احتياطي النفط .
(كل ما يكتبه المتعلم و يراه المصحح مناسب)
- ٢ - تبلغ نسبة إنتاج النفط الخام في الجناح الأفريقي %١٢ . (درجة)
- ٣ - حول نسب إنتاج النفط و احتياطي النفط في الجناح الآسيوي و الأفريقي إلى دائرة بيانية (لكل رسم درجة و نصف)



احتياطي النفط



إنتاج النفط



(٥)

انتهت الأسئلة

