

مدرستي معكم خطوة بخطوة للنجاح والتفوق



مدرستي

الكويتية

حمل التطبيق



مدرستي



الكويتية



اضغط هنا

منطقة حولي التعليمية

اختبارات نهاية الفترة الدراسية الثانية
العام الدراسي ٢٠٢٢/٢٠٢٣

نموذج الإجابة

السادس	الصف
الإجتماعيات	المادة



وزارة التربية
الإدارة العامة لمنطقة حولي التعليمية مقرر / الكويت ودول الخليج العربية
التوجيه الفني للاجتماعيات الصف السادس المتوسط
العام الدراسي : ٢٠٢٢ / ٢٠٢٣ م
الزمن : ساعة و ٤ دقائق
عدد الصفحات : ٥

اجب عن جميع الأسئلة التالية

السؤال الأول (موضوعي) : ويتكون من (أ - ب - ج - د - ه - و) :

(أ) ضع علامة (√) أمام العبارة الصحيحة وعلامة (×) أمام العبارة الخاطئة : (٦ درجات)

م	العبارة	العلامة
١	الدخل القومي هو مجموع الدخول التي تحصل عليها الدولة خلال عام . ص ٩٥	(√)
٢	إعاده تصدير البضائع المستوردة تسمى صناعة . ص ٩٩	(×)
٣	وحدة الأصل من الروابط التي تربط بين أبناء دول الخليج العربية . ص ١١٧	(√)
٤	أبناء الخليج العربي تجمعهم لغة القرآن الكريم وهي اللغة العربية . ص ١١٩	(√)
٥	الأمطار الحمضية ومخلفات المصانع من أسباب التلوث الضوضائي . ص ١٣٦	(×)
٦	العنف مرض اجتماعي وهو عادة موروث . ص ١٤٦	(×)

(ب) صنف مايلي حسب مايناسبها في الجدول التالي : (٦ درجات)

١- الهجرات العربية : ص ١٠٨

[المعاضيد - القواسم - آل خليفة]

منطقة الاستقرار	البحرين	قطر	رأس الخيمة
الهجرة	آل خليفة	المعاضيد	القواسم

٢- النمو السكاني في دول الخليج العربية : ص ١١٢ + ١١٤

[مملكة البحرين - المملكة العربية السعودية - الإمارات]

أكثر دولة خليجية في عدد السكان	أقل دولة خليجية في نسبة الوافدين	أكثر دولة خليجية في الكثافة السكانية
المملكة العربية السعودية	الإمارات	مملكة البحرين



تابع/ السؤال الأول :

(ج) ظلل الخيار الصحيح من بين الخيارات التي تلى كل عبارة مما يلي : (٦ درجات)

١- كميات النفط المخزونة في باطن الأرض : ص ٨٨

إنتاج النفط	تصدير النفط	<u>احتياطي النفط</u>	استيراد النفط
-------------	-------------	----------------------	---------------

٢- الدولة الخليجية التي اشتهرت في صناعة النحاس : ص ٩٦

<u>سلطنة عُمان</u>	الإمارات العربية المتحدة	قطر	المملكة العربية السعودية
--------------------	--------------------------	-----	--------------------------



٣- الصورة المقابلة تمثل قلعة في مملكة البحرين تسمى : ص ١٢٠

<u>قلعة البرتغال</u>	قلعة لشبونة
قلعة الأندلس	قلعة ملقا

٤- مقر مكتب التربية العربي يقع في مدينة : ص ١٣٠

الدوحة	المنامة	مسقط	<u>الرياض</u>
--------	---------	------	---------------

٥ - يرجع سبب ضعف قدرة التربة على الإنتاج الزراعي إلى التلوث : ص ١٣٤

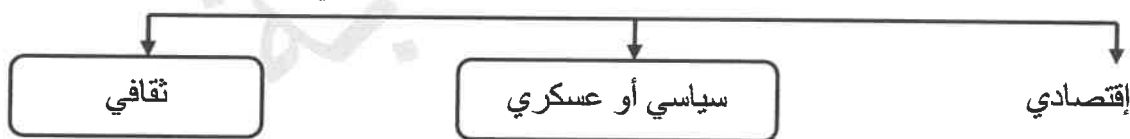
<u>الأرضي</u>	الضوضائي	الهوائي	المائي
---------------	----------	---------	--------

٦- من أهم أسباب التلوث البحري : ص ١٣٦

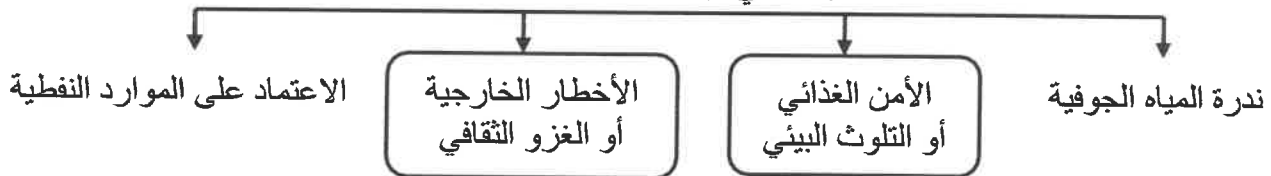
الأصوات	السيارات	الطائرات	<u>النفائات الخطرة</u>
---------	----------	----------	------------------------

(د) أكمل المخططات السهمية التالية : (٦ درجات)

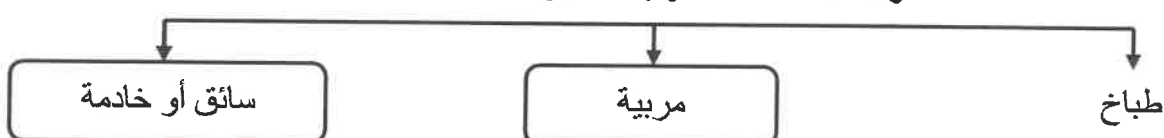
١- مجالات التعاون بين دول مجلس التعاون الخليجي : ص ١٢٩



٢- التحديات التي تواجه دول مجلس التعاون : ص ١٣٢

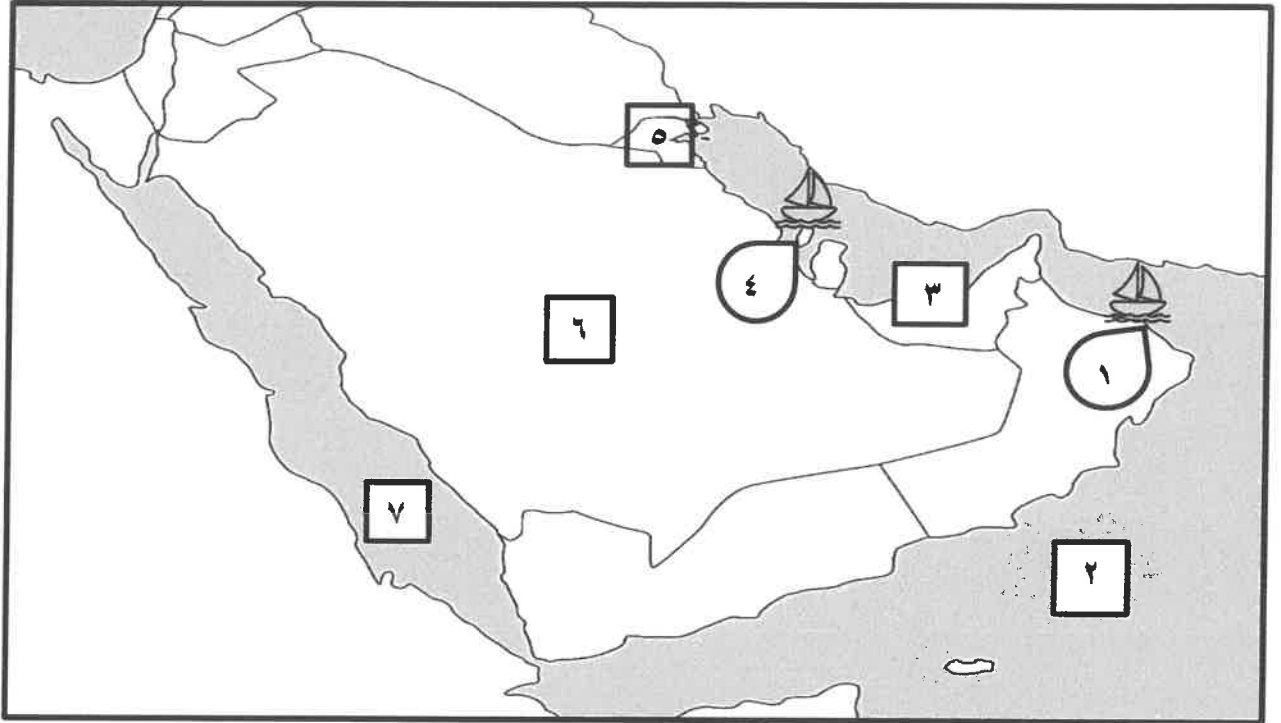


٣- وظائف العمالة المنزلية : ص ١٤٢



تابع السؤال الأول:

(هـ) أمامك خريطة دول الخليج العربية الصماء أكتب الأرقام الدالة على العبارات التي تليها: (٦ درجات)



- ١- ميناء الفحل يمثل على الخريطة الرقم (١) ص ٩١
- ٢- البحر الأحمر يمثل على الخريطة الرقم (٧) ص ٩٢
- ٣- دولة خليجية يوجد بها منطقة العبدلي الزراعية يمثلها على الخريطة الرقم (٥) ص ٩٢
- ٤- منطقة جبل علي الصناعية يمثلها على الخريطة الرقم (٣) ص ٩٦
- ٥- ميناء سترة يمثل على الخريطة الرقم (٤) ص ٩٦
- ٦- أعلى دولة خليجية في نسبة المواطنين عام ٢٠٠٦ م يمثلها على الخريطة الرقم (٦) ص ١١٢

(و) أكمل العبارات التالية بما يناسبها مما درست : (٦ درجات)

- ١- أول حقل نفطي اكتشف في دولة الكويت عام ١٩٣٤ م اسمه بحرة ص ٨٧
- ٢- نجحت المملكة العربية السعودية في إنتاج محصول زراعي اسمه القمح ص ٩٢
- ٣- حاكم دولة الكويت الموضح بالصورة اسمه الشيخ أحمد الجابر رحمه الله ص ٩٠
- ٤- مشكلة تعرّض الغلاف الجوي لمواد تسبب الضرر للإنسان والكائنات الحية الأخرى وتؤدي إلى الإضرار بالبيئة الطبيعية تسمى التلوث الهوائي ص ١٣٤
- ٥- طبقة الغلاف الجوي التي تحمي من الأشعة فوق البنفسجية تسمى الأوزون ص ١٣٥
- ٦- يبلغ عدد الآبار النفطية الكويتية التي أحرقها النظام العراقي البائد أكثر من ٧٣٧ بئراً ص ١٣٩



السؤال الثاني (مقالي) : يتكون من (أ - ب - ج) :

(أ) لاحظ الصورة المقابلة ثم أجب عن الأسئلة التي تليها : (٤ درجات)

١- سجل عنواناً مناسباً للصورة المقابلة : ص ١٤٤ + ص ١٤٥

مشكلة العنف ... (وكل ما يراه المصحح مناسباً)

٢- اذكر أشكال العنف . (يكتفى بنقطة)

- اللفظي - التدمير التخريب أقوالاً (سب - شتم - صراخ) أفعالاً (ضرب - الاعتداء)

٣- اقترح حلولاً لمشكلة العنف . ص ١٥٠ (يكتفى بنقطتين)

- الاهتمام الجاد بالقرآن الكريم والسنة النبوية الشريفة - الاهتمام بالقراءة والمطالعة بدلاً من أصدقاء السوء .

- القدوة الحسنة من كل المحيطين بالشباب (المتعلمين) واتباع أساليب الحوار والتفاهم في علاج المشكلات والخلافات.

(ب) عدد ما يلي : (٤ درجات)

١- أنواع الصناعات في دول الخليج العربية . ص ٩٧ (يكتفى بنقطتين)

- بتروكيماويات - الغاز - تكرير النفط - حديد - نحاس - ألومنيوم

٢- مظاهر التعاون الاقتصادي بين دول مجلس التعاون الخليجي . ص ١٣٠ (يكتفى بنقطتين)

- صدور إعلان الدوحة بشأن قيام السوق الخليجية المشتركة في يناير ٢٠٠٨ م .

- زيادة التبادل التجاري .

(ج) عرف المفاهيم والمصطلحات التالية : (٤ درجات)

م	المفهوم	التعريف
١	إنتاج النفط	كميات النفط التي يتم استخراجها للإستفادة منها . ص ٨٨
٢	النمو السكاني	التغير الذي يحدث لعدد السكان نتيجة للزيادة الطبيعية وغير الطبيعية . ص ١١١
٣	الثقافة	مجموعة من العادات والتقاليد والقيم في مجتمع من المجتمعات . ص ١١٨
٤	التلوث	الضرر الذي يصيب عناصر البيئة الأساسية (هواء - ماء - تربة) فتتحول من عناصر مفيدة إلى عناصر ضارة . ص ١٣٣

السؤال الثالث (مقالى) : يتكون من (أ - ب - ج) :

(أ) اقرأ الفقرة التالية ثم أجب عما يليها من أسئلة : (٤ درجات) ص ١٠٥

ترجع الأصول السكانية في منطقة الخليج العربية إلى سلالة جنس البحر المتوسط وشرق أفريقيا وهم السكان الذين ورد ذكر حضاراتهم وأثارها المتشابهة في كل من (دلمون البحرين - هيلي الإمارات - أم النار قطر - ودبا عُمان - وتاروت في السعودية) والتي كشفت عنها البعثة الدانمركية .

١- عرف ما تحته خط . ص ١٠٦

سلالة : مجموعة من الناس تشترك فيما بينها في الصفات الجسمانية الرئيسية كلون الجلد وشكل الأنف وشكل الشعر وطول القامة وما إليها وتختلف عن غيرها من السلالات في هذه الصفات .

2- عدد أهم الحضارات التي ظهرت في منطقة الخليج العربية . (يكتفى بثلاث نقاط)

- دلمون البحرين / هيلي الإمارات / أم النار قطر / ودبا عُمان / تاروت في السعودية

(ب) فرق بين كل مما يلي: (٤ درجة)

الزراعة بدون تربة ص ٩٤	الزراعة ببيوت بلاستيكية ص ٩٤
الزراعة التي تتم في بيئة مائية أو رملية أو حصى أو نشارة خشب تضاف إليها المحاليل الغذائية .	يزرع فيها الخضراوات في غير مواسمها أو أوقاتها وتقوم بحماية المحاصيل من تقلبات الطقس .
الصادرات ص ٩٩	الواردات ص ٩٩
السلع والمنتجات التي تبيعها دولنا في الخارج .	البضائع والسلع التي تشتريها دولنا من الخارج .

(ج) علل لما يأتي : (٤ درجات)

١ - قيام دول الخليج العربية بإقامة العديد من الموانئ النفطية . ص ٩٠

- تزايد الإنتاج النفطي لدول مجلس التعاون من الحقول البرية والبحرية .
- تزايد الطلب العالمي عليه كمصدر أساسي للطاقة .

٢ - للعدوان العراقي على دولة الكويت تأثيراً مدمراً على البيئة الكويتية البرية والبحرية والهوائية . ص ١٣٩ (يكتفى بنقطتين)

- ضخ النفط متعمداً في مياه البحر . - تلوث التربة وتدمير الحياة الفطرية . - الدخان وتلوث الهواء .
- تساقط الرذاذ النفطي على التربة محدثاً تلوثاً أرضياً حيث تحول لون الرمال من اللون الأصفر إلى اللون الأسود .
- الآثار الخطرة على صحة الإنسان والكائنات الحية .

انتهت الإجابة

