

مدرستي معكم خطوة بخطوة للنجاح والتفوق




مدرستي

الكويتية

حمل التطبيق



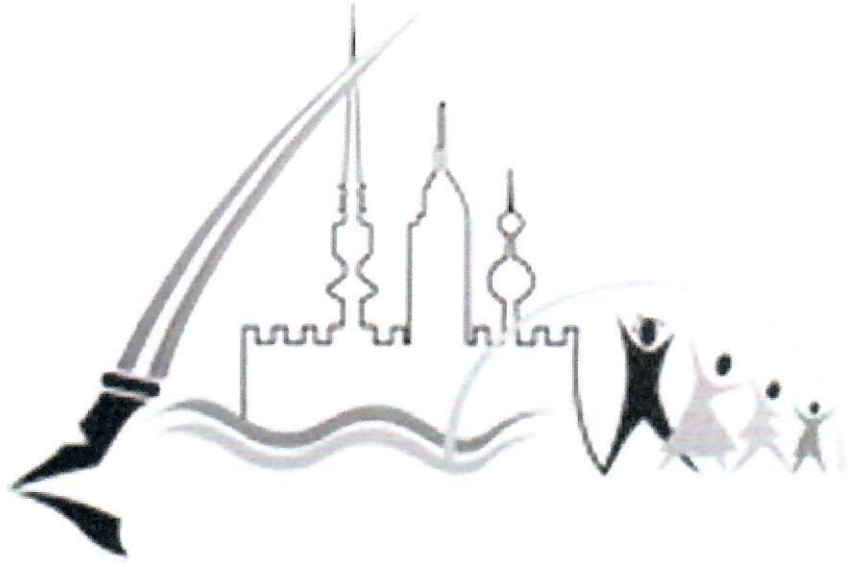
مدرستي



الكويتية



اضغط هنا



منطقة العاصمة التعليمية

الاجابة النموذجية





وزارة التربية

الإدارة العامة لمنطقة العاصمة التعليمية

التوجيه الفني للاجتماعيات

نموذج الإجابة

العام الدراسي ٢٠٢٢ / ٢٠٢٣ م

الزمن : ساعة و خمس و اربعون دقيقة

عدد الصفحات : (٥)

امتحان نهاية الفترة الدراسية الثانية

لمقرر الكويت ودول الخليج العربية

الصف السادس المتوسط

اجب عن جميع الاسئلة التالية

السؤال الأول ويتكون من (أ - ب - ج - د - هـ - و - ي) : (درجة لكل إجابة = ٣٦ درجة)

(أ) أكمل العبارات التالية بما يناسبها :

- ١ - الدولة العربية الخليجية التي ظهرت فيها حضارة أم النار اسمها قطر . ص ١٠٥
- ٢ - الحقل الذي اكتشف فيه كميات ضخمة من النفط في دولة الكويت يسمى برقان . ص ٨٧
- ٣ - المحصول الزراعي الذي كان للمملكة العربية السعودية تجربة رائدة في إنتاجه هو القمح ص ٩٢
- ٤ - الهجرة العربية التي استقرت في مدينة أبوظبي اسمها بنى ياس . ص ١٠٨
- ٥ - العام الذي تم فيه تصدير أول شحنة من النفط الكويتي ١٩٤٦ م . ص ٩٠
- ٦ - مجموعة من الناس تشترك فيما بينها في الصفات الجسمانية الرئيسية كلون الجلد وشكل الأنف وما إليها يطلق عليهم اسم السلالة . ص ١٠٦

(ب) ضع خطأ تحت الخيار الصحيح من بين البدائل التي تلي كل عبارة مما يلي :

١ - الدولة الخليجية الأعلى في نسبة الوافدين اسمها : ص ١١٢

دولة الكويت	سلطنة عمان	الإمارات العربية المتحدة	المملكة العربية السعودية
-------------	------------	--------------------------	--------------------------

٢ - الحاكم الذي تم في عهده تصدير أول شحنة من النفط الكويتي هو الشيخ : ص ٩٠

جابر الأحمد الصباح	سعد العبدالله الصباح	صباح الأحمد الصباح	أحمد الجابر الصباح
--------------------	----------------------	--------------------	--------------------

٣ - عدد الآبار النفطية الكويتية التي أحرقها النظام العراقي البائد أثناء الغزو على دولة الكويت يبلغ : ص ١٣٩

٧٣٥ بئر	٧٣٦ بئر	٧٣٧ بئر	٧٣٨ بئر
---------	---------	---------	---------

٤ - عملية تحويل المواد الخام إلى مواد يمكن الاستفادة منها تعرف باسم : ص ٩٥

الصناعة	التعدين	التصدير	الإنتاج
---------	---------	---------	---------

٥ - أصغر دول الخليج العربية من حيث المساحة دولة اسمها : ص ١١٤

المملكة العربية السعودية	مملكة البحرين	الإمارات العربية المتحدة	دولة قطر
--------------------------	---------------	--------------------------	----------

(ج) صنف أسماء المناطق الخليجية التالية حسب مكانها الصحيح في الجدول أدناه :

(امسيعيد — العبدلي — شمال سترة — الهفوف — جبل علي — سهل الباطنة) ص ٩٦+٩٢

مناطق زراعية	مناطق صناعية
العبدلي / الهفوف / سهل الباطنة	امسيعيد / شمال سترة / جبل علي



تابع / السؤال الأول :

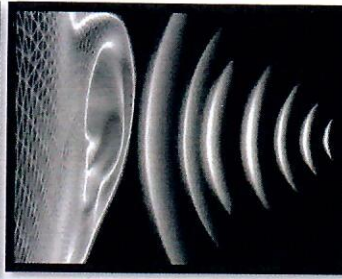
د) اختر من القائمة التالية الاسم المناسب لصور أنواع التلوث ثم سجله أسفل الصورة: ص ١٣٣
(تلوث هوائي - تلوث تربة - تلوث إشعاعي - تلوث مائي - تلوث ضوضائي)



تلوث هوائي



تلوث تربة



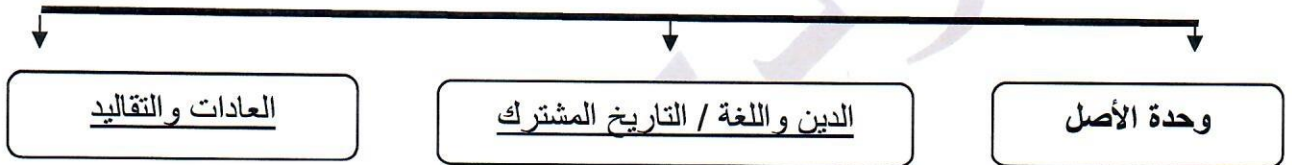
تلوث ضوضائي




تلوث مائي

هـ) أكمل المخططات السهمية التالية :

١- الروابط التي تربط بين دول الخليج العربية . ص ١١٨ - ١٢٠



٢- مجالات التعاون بين دول مجلس التعاون الخليجية . ص ١٢٩ - ١٣٠



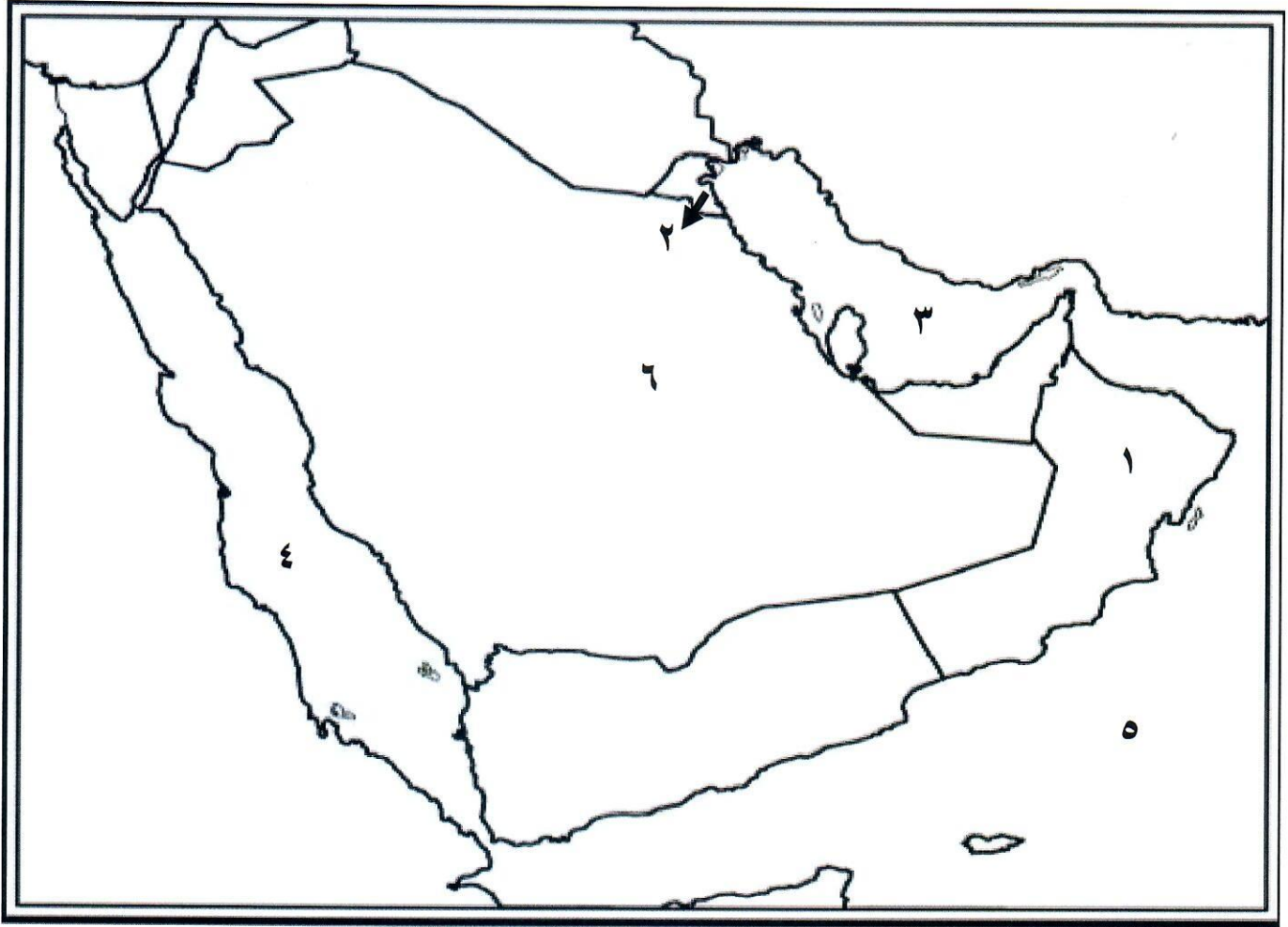
و) اكتب المفهوم أو المصطلح الدال على كل عبارة مما يلي :

المفهوم / المصطلح	العبارات
العنف ص ١٤٤	السلوك العدواني الموجه ضد الغير والذي يتسم بالتخريب والتدمير سواء كان السلوك أقوالاً أو أفعالاً .
التلوث ص ١٣٣	الضرر الذي يصيب عناصر البيئة الأساسية (هواء - ماء - تربة) فتتحول من عناصر مفيدة إلى عناصر ضارة .
طبقة الأوزون ص ١٣٥	درع واق للأحياء ضد خطر الأشعة فوق البنفسجية الضارة .
بيوت بلاستيكية ص ٩٤	يزرع فيها الخضراوات في غير مواسمها وتقوم بحماية المحاصيل من تقلبات الطقس .
النمو السكاني ص ١١١	التغيير الذي يحدث لعدد السكان نتيجة للزيادة الطبيعية وغير الطبيعية .



تابع / السؤال الأول

ي (لاحظ خريطة دول الخليج العربية التي أمامك ثم استعن بالأرقام التي عليها لإكمال العبارات التالية:



- الخليج العربي يمثل على الخريطة الرقم ٣ ص ٩١
- يوجد ميناء الفحل النفطي في دولة خليجية تحمل على الخريطة الرقم ١ ص ٩٧
- بحر العرب يمثل على الخريطة الرقم ٥ ص ٩٢
- دولة خليجية لم تتعرض للاستعمار الأجنبي تحمل على الخريطة الرقم ٦ ص ١٢٠
- توجد منطقة الشعبية الصناعية في دولة خليجية تحمل الرقم ٢ ص ٩٦.



السؤال الثاني ويتكون من (أ - ب - ج) :

أ) عرف ما يلي : (٤ درجات)

- ١- الثقافة : مجموعة من العادات والتقاليد والقيم في مجتمع من المجتمعات . ص ١١٨
- ٢- الدخل القومي : مجموع الدخل التي تحصل عليها الدولة خلال عام . ص ٩٥
- ٣- ترانزيت: إعادة تصدير البضائع المستوردة. ص ٩٩
- ٤- الكثافة السكانية : عدد السكان في الكيلو متر المربع ، وتقاس بقسمة عدد السكان على مساحة الدولة . ص ١١٤

ب) قارن بين كل مما يلي حسب المطلوب في الجدول التالي :- (٤ درجات)

أوجه المقارنة	التلوث البحري (المائي) ص ١٣٦	التلوث الهوائي ص ١٣٤
التعريف	إحداث إفساد لنوعية المياه من خلال إدخال مواد ضارة بها من قبل الإنسان مما يؤدي إلى حدوث خلل في النظام المائي ص ١٣٦	تعرض الغلاف الجوي لمواد تسبب الضرر للإنسان والكائنات الحية الأخرى وتؤدي إلى الإضرار بالبيئة الطبيعية . ص ١٣٤
أسباب التلوث	مخلفات المصانع / مياه الصرف الصحي غير المعالجة / مياه الصرف الزراعي / النفط ومشتقاته / النفايات الخطرة / الأمطار الحمضية . (يكتفى بنقطة) ص ١٣٦	أول أكسيد الكربون / إشعاعات نووية ثاني أكسيد النيتروجين + سيارات وطائرات براكين / عواصف ترابية / الصناعة / حرق النفايات / مبيدات حشرية. (يكتفى بنقطة) ص ١٣٨

ج) علل ما يلي : (٤ درجات) (يكتفى بنقطتين)

- ١- شهدت منطقة الخليج العربي بعد اكتشاف النفط نمواً سكانياً فجائياً . ص ١١٠ - ١١١
 - * ارتفاع دخل الفرد
 - * توفر فرص العمل
 - * توفر الرعاية الصحية
 - * زيادة عدد المواليد .
 - * الأمن والأمان
 - * ارتفاع الأجور
 - * السماح للوافدين باصطحاب عائلاتهم
- ٢- وجود مشكلة العنف عند المتعلمين . ص ١٤٩
 - * أسباب أسرية
 - * أسباب نفسية
 - * أسباب بيئية عامة .



السؤال الثالث : ويتكون من (أ - ب - ج) :-

أ) اكتب فيما يلي : (٤ درجات) (يكتفى بنقطتين)

١ - أنواع الصناعات القائمة على النفط بدول مجلس التعاون الخليجي . ص ٩٧

* البتروكيماويات * الغاز * تكرير النفط / حديد / نحاس / ألومنيوم.

٢- مظاهر التعاون العسكري بين دول مجلس التعاون الخليجي. ص ١٢٩

* المناورات (التدريبات) العسكرية المختلفة

* إنشاء قوة مشتركة تضم جميع دول مجلس التعاون الخليجي (درع الجزيرة)

* قبول أبناء دول مجلس التعاون في الكليات العسكرية .

ب) فرق بين كل مما يلي من حيث (التعريف) : (٤ درجات)

الواردات ص ٩٩	الصادرات ص ٩٩
البضائع والسلع التي تشتريها دولنا من الخارج	السلع والمنتجات التي تبيعها دولنا في الخارج
احتياطي النفط ص ٨٨	إنتاج النفط ص ٨٨
كميات النفط المخزونة في باطن الأرض .	كميات النفط التي يتم استخراجها للاستفادة منها .

ج) اذكر (اثنين) لكل مما يلي : (٤ درجات) (يكتفى بنقطتين)

١- الدول المستوردة للنفط الكويتي . ص ٩٠

- اليابان

* الولايات المتحدة الأمريكية - هولندا

٢- حلول لمشكلة العمالة المنزلية . ص ١٥٠

* الاهتمام الجاد بالقرآن الكريم والسنة النبوية * يتحمل كل فرد في الأسرة مسؤوليته والقيام بدوره خير قيام

* جعل مهمة الخادم مقتصرة على ممارسة دوره الأساسي في المساهمة في تحمل أعباء المنزل لا غير

انتهت الأسئلة ،،

