

مدرستي معكم خطوة بخطوة للنجاح والتفوق



مدرستي

الكويتية

حمل التطبيق



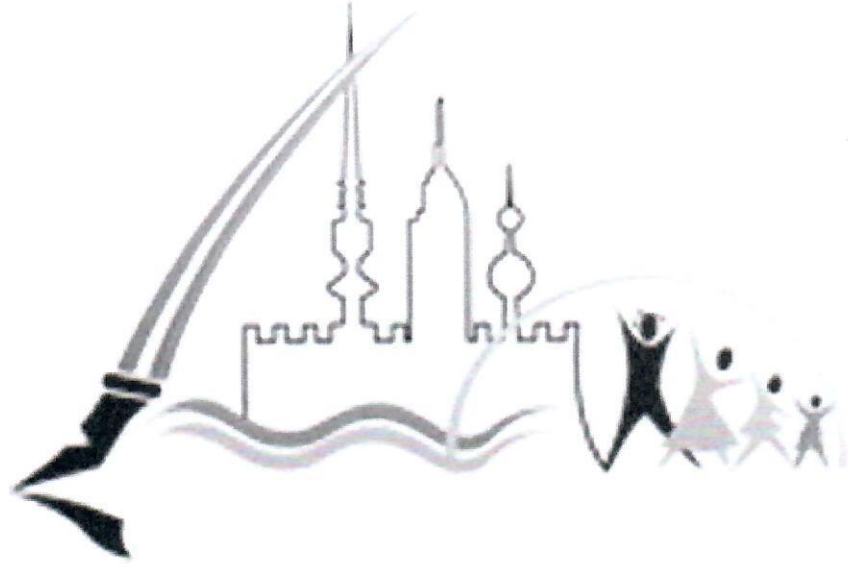
مدرستي



الكويتية



اضغط هنا



منطقة العاصمة التعليمية

الاجابة النموذجية





وزارة التربية
الإدارة العامة لمنطقة العاصمة التعليمية
التوجيه الفني للاجتماعيات

إجابة امتحان نهاية الفترة الثانية
لمقرر دولة الكويت والوطن العربي
الصف السابع المتوسط

العام الدراسي: ٢٠٢٢ / ٢٠٢٣ م
الزمن ساعة وخمس وأربعون دقيقة
عدد الصفحات (٦)

لكل نقطة ١ درجة

السؤال الأول موضوعي ويتكون من (أ - ب) :

(أ) ظلل الحرف (أ) إذا كانت العبارة صحيحة والحرف (ب) إذا كانت العبارة خاطئة :

م	العبارة	(أ)	(ب)
١	الجزائر أكثر الدول العربية من حيث عدد السكان حسب إحصاء ٢٠١٤ م. ص		
٢	المساحة المزروعة في الوطن العربي تبلغ حوالي ٥٦٪ من المساحة القابلة للزراعة. ص ١١٦		
٣	العراق أولى دول الوطن العربي في إنتاج الماعز. ص ١١٨		
٤	يتمتع الوطن العربي بسواحل ومنافذ بحرية طويلة. ص ١٥٠		
٥	عُقد مؤتمر قمة الأرض عام ١٩٩٢ م في المكسيك. ص ١٦٧		

(ب) أكمل العبارات التالية بما يناسبها مما درست :

١- اختلاف عدد السكان وتفاوته بين الدول العربية يعود لعوامل طبيعية وعوامل بشرية. ص ١٠١

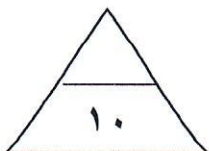


٢- الحاكم الذي عُقد في عهده أهم مؤتمر اقتصادي عربي في دولة الكويت وتمثله الصورة المقابلة يسمى صباح الأحمد الجابر الصباح ص ١٨٦

٣- التبادل التجاري بين الدول العربية يسمى التجارة البينية. ص ١٥٢

٤- العام الذي تأسس فيه الصندوق الكويتي للتنمية الاقتصادية العربية ١٩٦١ م. ص ١٧٩

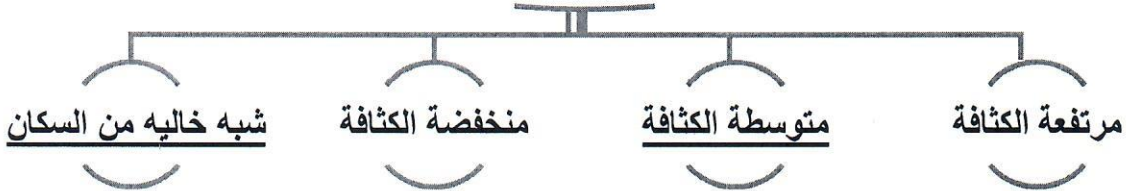
٥- الدولة العربية الأولى في إنتاج الغاز الطبيعي حسب إحصاء ٢٠١٤ م تسمى قطر. ص ١٢٩



السؤال الثاني موضوعي ويتكون من (أ - ب) : (١٠ درجات لكل سؤال درجة)

(أ) أكمل المخططات السهمية التالية:

١- تقسم مناطق الوطن العربي من حيث الكثافة ص ١٠٣



٢- طرق النقل والمواصلات ص ١٤٧

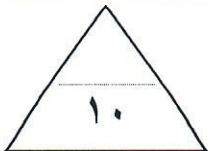


٣- مصادر التلوث البيئي ص ١٦٦



(ب) اكتب المفهوم أو المصطلح الدال على كل من العبارات التالية :

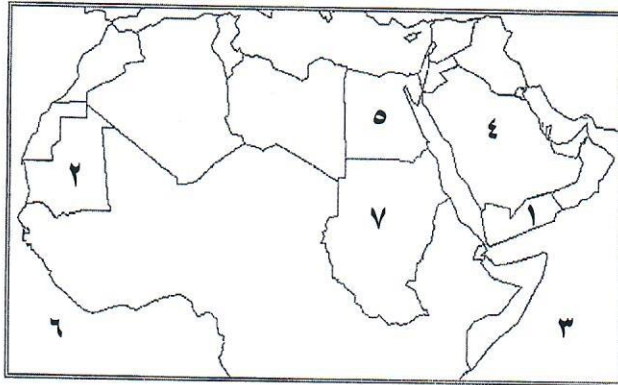
م	المفهوم أو المصطلح	العبارة
١	الموارد البشرية	ارتباط السكان من حيث أعدادهم وتوزيعهم ومناسبة أعدادهم لمساحة الأرض التي يستغلونها. ص ١٠٩
٢	الإحصاء الحيوي	تسجيل المواليد والوفيات وحالات الزواج والطلاق والحصول على بياناتها من واقع السجلات الرسمية. ص ٩٩
٣	التصحّر	زحف الرمال على المناطق الجافة وشبه الجافة. ص ١٦٢
٤	التضامن العربي	العمل على توثيق الصلات بين الدول والشعوب العربية وحماية مصالحها السياسية والاقتصادية والثقافية. ص ١٧٧



السؤال الثالث موضوعي ويتكون من (أ - ب) :

(أ) لاحظ خريطة الوطن العربي الصماء التي أمامك ثم استعن بمدلولات الأرقام التي عليها

لإكمال العبارات التالية :



- ١- الدولة العربية الأولى في إنتاج البن
يمثلها على الخريطة الرقم ١ ص ١١٤ .
- ٢- الدولة العربية الأولى في إنتاج الأسماك
يمثلها على الخريطة الرقم ٥ ص ١٢٣ .
- ٣- الدولة العربية الأولى في إنتاج معدن الحديد
يمثلها على الخريطة الرقم ٢ ص ١٣٢ .
- ٤- الدولة العربية الأولى في إنتاج النفط
يمثلها على الخريطة الرقم ٤ ص ١٢٩ .
- ٥- المحيط الهندي يمثل على الخريطة الرقم ٣ ص ١٣٣ .

(ب) ظلل الخيار الصحيح من بين الخيارات التي تلي كل عبارة :

١- الدولة العربية التي تحتل المركز الأول في إنتاج التمور : ص ١١٤

الكويت	السعودية	اليمن	عمان
--------	----------	-------	------

٢- العوامل التي تساعد على تحويل المادة الخام إلى سلع استهلاكية : ص ١٣٩

مقومات الصناعة	مقومات الطاقة	المقومات الطبيعية	المقومات البشرية
----------------	---------------	-------------------	------------------

٣- نسبة انتاج الوطن العربي من الغاز الطبيعي بالنسبة للعالم يبلغ : ص ١٢٧

%١٤,٥	%١٥,٥	%١٦,٥	%١٧,٥
-------	-------	-------	-------

٤- تعتبر الرياح والشمس والمياه من مصادر الطاقة : ص ١٧١

البشرية	الصناعية	الرئيسية	البديلة
---------	----------	----------	---------

٥- الصورة المقابلة تمثل نوع من أنواع الصناعات تسمى : ص ١٤٤



التحويلية	التجميعية
-----------	-----------

الحرفية	التعدينية
---------	-----------



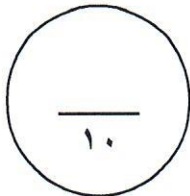
السؤال الرابع مقالتي ويتكون من (أ - ب) :

(أ) فرق بين كل مما يلي بالاستعانة بالجدول التالي: ٦ درجات لكل ١ درجة

الصناعات التحويلية ص ١٤٢	الصناعات الاستخراجية ص ١٤١
تقوم على تحويل المواد الأولية من معدنية نباتية وحيوانية إلى سلع استهلاكية صالحة للاستعمال، حيث تؤمن حاجات الإنسان من مسكن وغذاء وأدوات آلات.	تقتصر على استخراج مصادر الطاقة كالنفط والغاز والفحم وخامات المعادن والأملاح وغيرها من باطن الأرض وإعدادها لتصبح جاهزة للتصنيع.
النفط ١٢٥	الغاز الطبيعي ص ١٢٥
بقايا عضوية على هيئة نباتات وحيوانات دقيقة ترسبت في عصور قديمة وانطمرت تحت رواسب سميكة وتحولت بالضغط والحرارة إلى صورتها الحالية.	غاز مصاحب للنفط الخام أو يوجد منفردا تتم إيسالته لاستخدامات عديدة.
أهداف منظمة الأوبك (OPEC) ص ١٣٤	أهداف منظمة الأوبك ص ١٣٥
الحرص على استقرار أسعار النفط الأسواق العالمية.	- تعميق التعاون فيما بينها في مختلف أوجه النشاط الاقتصادي في صناعة النفط تأمين وصول النفط إلى الأسواق الاستهلاكية بشروط وأسعار عادلة تسهم في تطوير الصناعات البترولية في جميع المجالات وتبادل الخبرات (يكتفي بنقطة واحدة)

(ب) علل لكل مما يلي : ٤ درجات لكل ١ درجة

- ١- تحتل الأغنام مكاناً مهماً ضمن الثروة الرعوية في الوطن العربي. ص ١١٨ (يكتفي بنقطتين)
 - الأكثر انتشاراً في المراعي العربية.
 - لأنها مصدر أساسي للثروة القومية.
 - أكثر الحيوانات المستأنسة والملائمة لمراعي الوطن العربي وذلك لتحملها الجفاف والانتقال.
- ٢- تختلف المنتجات الزراعية من دولة عربية إلى أخرى. ص ١١٠ (يكتفي بنقطتين)
 - اختلاف المناخ والتربة. - مدي توافر المياه في هذه الدول.



السؤال الخامس مقالي ويتكون من (أ - ب) :

(أ) اقرأ الفقرة التالية ثم أجب عما يليها من أسئلة : ٦ درجات لكل ١ درجة

ترتفع الكثافة السكانية في المناطق التي تتمتع بمقومات طبيعية ومناخية ملائمة وثروات طبيعية وطرق ومواصلات، وتنخفض الكثافة في المناطق التي لا تتوفر فيها هذه المقومات. فرغم الصعوبات التي تواجه السكان في بعض أنواع التضاريس وبفضل التطور العلمي فقد استطاع الإنسان التغلب عليها والعيش في تلك المناطق، فحول الجبال إلى مدرجات وزرعها وشق العديد من الطرق وكذلك استطاع أن يواجه ظروف العيش في الصحراء ويستغل ثرواتها الطبيعية.

١- عرف ما تحته خط: نسبة عدد السكان الكلي في دولة ما ، أو منطقة ما ، إلى المساحة الكلية لهذه الدولة أو المنطقة . ص ١٠٢

٢- استخرج من الفقرة السابقة ما يلي:

- مناطق ترتفع بها الكثافة السكانية :

المناطق التي تتمتع بمقومات طبيعية ومناخية ملائمة وثروات طبيعية وطرق مواصلات . ص ١٠٥

-مناطق تنخفض بها الكثافة السكانية :

المناطق التي لا تتمتع بمقومات طبيعية ومناخية ملائمة وثروات طبيعية وطرق مواصلات .

٣- كيف تغلب الإنسان على صعوبة العيش والزراعة في الجبال؟

حول الجبال إلى مدرجات وزرعها وشق العديد من الطرق .

٤- ماهي العوامل الطبيعية التي تؤثر في توزيع السكان ؟ ص ١٠٤

- موارد المياه - التضاريس - السهول والوديان

- الجبال - المناخ المعتدل

(ب) عرف لكل مما يلي : ٤ درجات لكل ١ درجة

الصناعات التجميعية	هي عملية تركيب وجمع المواد المصنعة، على اختلاف مصادرها كي نحصل على سلع متنوعة. ص ١٤٣
التنمية	التطور والتطوير ، وهي عملية تتطلب التخطيط والمشاركة من الجميع . ص ١٧٢
التوازن البيئي	بقاء عناصر الطبيعة في حالة من التوازن لتؤدي وظائفها على اكمل وجه ، حيث تعمل عناصر البيئة كمنظومة واحدة مثل جسم الإنسان . ص ١٧٠
الغلات النقدية	الغلات التي تدخل في الصناعة وتزرع بغرض التجارة والحصول علي نقد. ص ١١٣



السؤال السادس: مقالي ويتكون من (أ - ب) :

(أ) دّل على صحة العبارات التالية : ٣ درجات لكل ١ درجة

١- يتمتع النفط العربي بمكانة مهمة على المستوى العالمي . ص ١٣١
- لأهميته للدول الصناعية المتقدمة في أوروبا واليابان والولايات المتحدة الأمريكية .

١- للكويت مساهمات كبيرة في العمل العربي المشترك. ص ١٨٢-ص ١٨٦ (يكتفى بنقطتين)
- المساهمات الاقتصادية
- الصندوق الكويتي للتنمية الاقتصادية العربية.
- مشاركة الكويت في تنفيذ العديد من المشاريع التنموية العربية.
- استضافة الكويت لأضخم وأهم المؤتمرات الاقتصادية العربية.

(ب) أجب عما يلي : ٧ درجات لكل ١ درجة

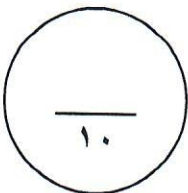
١- اقترح حلاً لمشكلة قلة وانخفاض الإنتاج الزراعي في الوطن العربي .

- زيادة الإنتاج عن طريق الأساليب العلمية - زيادة المساحات المزروعة . ص ١٦٣ (يكتفى بنقطتين)
- إقامة مشروعات الري .

٢- عدد أنواع التلوث . ص ١٦٧ (يكتفى بنقطتين)
- تلوث التربة - تلوث الهواء .
- تلوث المياه .

٣- اذكر لكل مما يلي :

- أهداف جامعة الدول العربية . ص ١٧٧ (يكتفى بنقطتين)
- توثيق العلاقات بين الدول الأعضاء وتنسيق التعاون فيما بينها للحفاظ على استقلالها وسيادتها .
- النظر في شئون ومصالح الدول العربية .
- محاور أو أنواع التنمية في الوطن العربي . ص ١٧٣ (يكتفى بنقطة واحدة فقط)
- التنمية الاقتصادية - التنمية المستدامة - التنمية البشرية .



انتهت الأسئلة

