



وزارة التربية
الإدارة العامة للتعليم الخاص
التوجيه الفني للرياضيات

الاختبار التحصيلي الثاني للصف الثاني

الفصل الدراسي الثاني - للعام الدراسي ٢٠٢٢ / ٢٠٢٣ م

محتوى الاختبار	توزيع درجات الاختبار		درجة الاختبار	مدة الاختبار	موعد الاختبار
الوحدة الثالثة عشرة من البنود (١٣-٧) إلى (١٣-١٤) + الوحدة الرابعة عشرة	مقال	موضوعي	٢٠	حصة دراسية	الأسبوع السادس عشر
	١٥	٥			

إشراف الموجه الفني : أ. أسماء الفيلكاوي

السؤال الأول : ا طرح .

(أ)			(ب)		
آحاد	عشرات	مئات	٥	٢	٧
٥	٣	٩	٣	١	٨
-	٠	٧			

السؤال الثاني :


(أ) أوجد ناتج الجمع .

$$\begin{array}{r} ٥ \\ ٦ \\ ٢ \\ \hline \end{array}$$

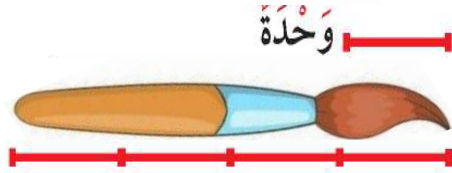
(ب) أوجد العدد المجهول .

$$\begin{array}{r} ٤ \\ ٨ \\ ٦ \\ \hline \end{array} + \square = \begin{array}{r} ٧ \\ ٨ \\ ٦ \\ \hline \end{array}$$

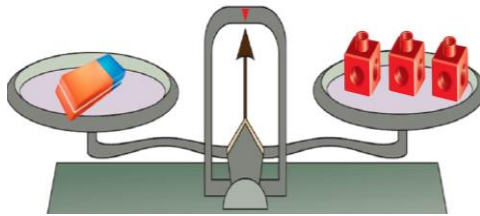
السؤال الثالث : (أ) أكمل:



(١) طول السيف — ذراع .



(٢) طول الفرشاة — وحدات .



(٤) وزن — = — وزن .



(٣) لدى سالم — ديناراً و — فلساً .



(٤)

أكتب كم كوباً تسع إذا ملأته بالماء؟
أكتب العدد المناسب .

تقريباً .



(ب) عد النقود واكتب قيمة الكل .



..... فلساً .

السؤال الرابع :

(أ)

١ - حوط الكوب الذي سعته اصغر .



٢ - حوط الشئ الاخف .



٣ - حوط التقدير المناسب.



تقريباً ٢ ليتر

تقريباً ٢٠ ليتر

٤ - حوط الإجابة الصحيحة:

لدى أصدقاء نورة قصص متنوعة عددها ٤٣٨ قصة ، ولدى أصدقاء مريم قصص متنوعة أيضاً وعددها ٣٣٩ قصة ، فكم عدد القصص لدى نورة ومريم ؟

$$٢ + ٤٨٣$$

$$٣٣٩ + ٤٣٨$$

$$٣٣٩ - ٤٣٨$$

(ب) لون عبارة الطرح التي تحتاج الى إعادة تسميه .

$$\begin{array}{r} ٩٢٨ \\ - ٢ \\ \hline \end{array}$$

$$\begin{array}{r} ٦٢٤ \\ - ١ \\ \hline \end{array}$$

$$\begin{array}{r} ٤٣٥ \\ - ٩ \\ \hline \end{array}$$

انتهت الأسئلة ،،،

السؤال الأول : ا طرح .

(ب)

$$\begin{array}{r} 17 \\ 5 \\ \times 3 \\ \hline 151 \\ \times 3 \\ \hline 151 \\ \hline 151 \end{array}$$

٣ ١ ٨ -

٢ ٠ ٩

(أ)

آحاد	عشرات	مئات
٥	٣	٩
٠ -	٠	٧
٥	٣	٢

السؤال الثاني :

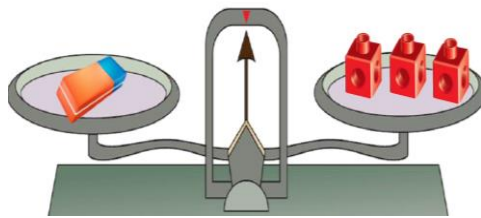
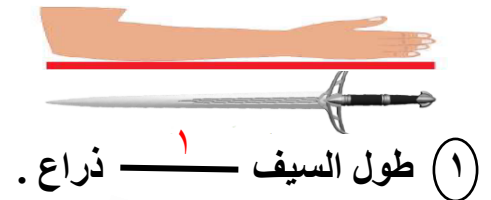
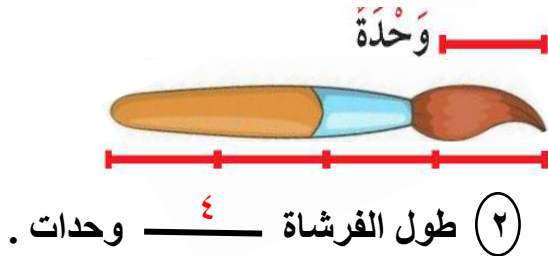
(ب) أوجد العدد المجهول .

$$\begin{array}{r} 684 \\ + \\ \hline 687 \end{array}$$

(أ) أوجد ناتج الجمع .

$$\begin{array}{r} 265 \\ + 26 \\ \hline 291 \end{array}$$

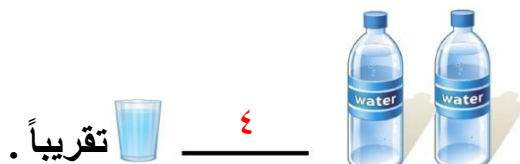
السؤال الثالث : (أ) أكمل:



(٤) وزن = ٣ .



(٣) لدى سالم ٣٥ ديناراً و ٩٠ فلساً .



(ب) عد النقود واكتب قيمة الكل .



٢٥ فلساً .

السؤال الرابع :

(أ)

١- حوط الكوب الذي سعته أصغر .



٢- حوط الشئ الأخف .



٣ - حوط التقدير المناسب



تقريباً ٢٠ ليتر

تقريباً ٢ ليتر

٤- حوط الإجابة الصحيحة:

لدى أصدقاء نورة قصص متنوعة عددها ٤٣٨ قصة ، ولدى أصدقاء مريم قصص متنوعة أيضاً وعددها ٣٣٩ قصة ، فكم عدد القصص لدى نورة ومريم ؟

$$٢ + ٤٨٣$$

$$٣٣٩ + ٤٣٨$$

$$٣٣٩ - ٤٣٨$$

(ب) لون عبارة الطرح التي تحتاج الى إعادة تسميه .

$$\begin{array}{r} ٩٢٨ \\ - ٢ \\ \hline \end{array}$$

$$\begin{array}{r} ٦٢٤ \\ - ١ \\ \hline \end{array}$$

$$\begin{array}{r} ٤٣٥ \\ - ٩ \\ \hline \end{array}$$

انتهت الأسئلة ،،،



نموذج (٢) اختبار تحصيلي (٢)
في مادة الرياضيات للصف الثاني
الفصل الدراسي الثاني للعام الدراسي ٢٠٢٢ / ٢٠٢٣ م



السؤال الأول :

(أ) من البيانات الموضحة بالجدول أجب :-

الشهر	عدد الزوار في كل شهر
سبتمبر	٢٠٠
أكتوبر	٣٠٠
نوفمبر	٥٠٠
ديسمبر	٤٠٠

(١) كم عدد زوار المكتبة في شهر سبتمبر ؟

(٢) ما الشهر الذي عدد زواره يبلغ ٥٠٠ زائر ؟

(٣) كم عدد زوار المكتبة في الشهرين سبتمبر و أكتوبر ؟

(٤) بكم يزيد عدد زوار المكتبة في شهر ديسمبر عنه في شهر أكتوبر ؟

السؤال الثاني :

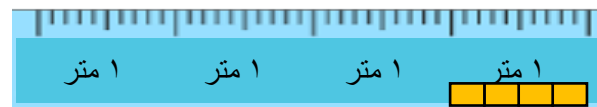
(أ) إذا كان

(ب) قيس طول القلم بالوحدات

وحدة



طول القلم وحدات



فإن طول ٤ [] يساوي متر

السؤال الثالث : عد النقود ثم أكتب قيمة الكل

(ب)



فلسا

(أ)



فلسا

السؤال الرابع :

(أ) حوط الإجابة الصحيحة

(١) مكتبة طلال فيها ١٧٢ كتابا ، تبرع ب ٩ كتب للجنة الخيرية كم عدد الكتب الباقية في مكتبته ؟

١٦٣

١٧٦

١٨٤

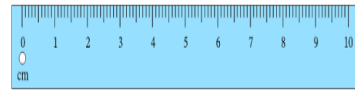
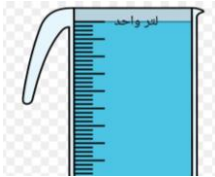
(٢) حوط وحدة القياس المناسبة



متر

سنتيمتر

(٣) حوط الأداة المناسبة للقياس



(ب) صل كل شكل بالكلمة المناسبة

أخف من ١ كيلو جرام

تقريبا ١ كيلو جرام



انتهت الأسئلة ،،،



إجابة نموذج (٢) اختبار تحصيلي (٢)
في مادة الرياضيات للصف الثاني
الفصل الدراسي الثاني للعام الدراسي ٢٠٢٢ / ٢٠٢٣ م



السؤال الأول :

(أ) من البيانات الموضحة بالجدول أجب :-

الشهر	عدد الزوار في كل شهر
سبتمبر	٢٠٠
أكتوبر	٣٠٠
نوفمبر	٥٠٠
ديسمبر	٤٠٠

(١) كم عدد زوار المكتبة في شهر سبتمبر؟ **٢٠٠ زائر**

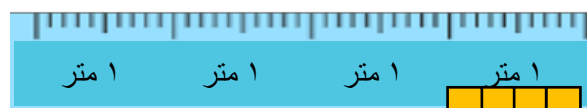
(٢) ما الشهر الذي عدد زواره يبلغ ٥٠٠ زائر؟ شهر **نوفمبر**

(٣) كم عدد زوار المكتبة في الشهرين سبتمبر وأكتوبر؟ **٢٠٠ + ٣٠٠ = ٥٠٠ زائر**

(٤) بكم يزيد عدد زوار المكتبة في شهر ديسمبر عنه في شهر أكتوبر؟ **٤٠٠ - ٣٠٠ = ١٠٠ زائر**

السؤال الثاني :

(أ) إذا كان



فإن طول ٤  يساوي ١ متر

(ب) قيس طول القلم بالوحدات



طول القلم ٤ وحدات

السؤال الثالث : عد النقود ثم أكتب قيمة الكل

(أ)



٢٠٠ فلسا

(ب)



١١٠ فلسا

السؤال الرابع :

(أ) حوط الإجابة الصحيحة

(١) مكتبة طلال فيها ١٧٢ كتابا، تبرع ب ٩ كتب للجنة الخيرية كم عدد الكتب الباقية في مكتبته؟

١٦٣

١٧٦

١٨٤

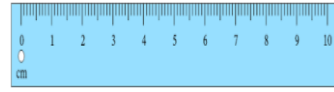
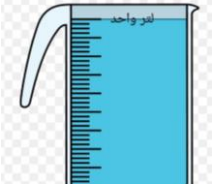
(٢) حوط وحدة القياس المناسبة



متر

سنتيمتر

(٣) حوط الأداة المناسبة للقياس



(ب) صل كل شكل بالكلمة المناسبة

أخف من ١ كيلو جرام

تقريبا ١ كيلو جرام



انتهت الأسئلة ،،،



نموذج (٣) اختبار تحصيلي (٢)
في مادة الرياضيات للصف الثاني
الفصل الدراسي الثاني للعام الدراسي ٢٠٢٢ / ٢٠٢٣ م



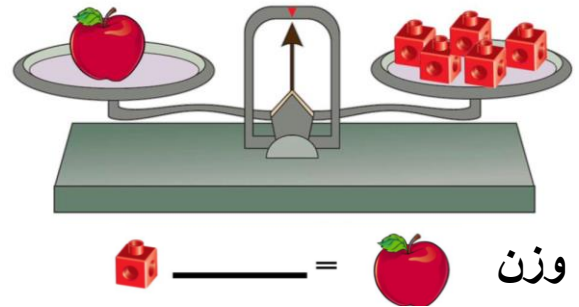
السؤال الأول :

في أحد الأيام زار المكتبة ١٥٣ زائراً ، انصرف منهم ٤٣ زائراً ، ثم انصرف منهم ١٠٦ ، فكم زائراً بقي في المكتبة في نهاية اليوم ؟

الخطوة الثانية

الخطوة الأولى

السؤال الثاني :
(أ) أكمل .



(ب) عد النقود . ثم أكتب قيمة الكل.

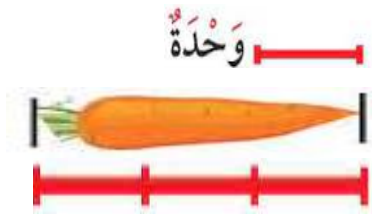


السؤال الثالث :

(أ) كم كوباً تسع إذا ملأها بالماء ؟



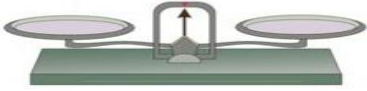
(ب) أكمل .



طول الجزرة _____ وحدة


السؤال الرابع :

أ) صل الأداة المناسبة للقياس :

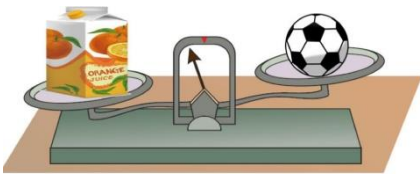


ب) حوّل الإجابة الصحيحة :

الكوب الذي سعته أصغر



ج) وزن الكرة وزن علبة العصير



يساوي

أخف من

أثقل من

انتهت الأسئلة ،،،

السؤال الأول :

في أحد الايام زار المكتبة ١٥٣ زائرا ، انصرف منهم ٤٣ زائرا ، ثم انصرف منهم ١٠٦ ، فكم زائرا بقي في المكتبة في نهاية اليوم ؟

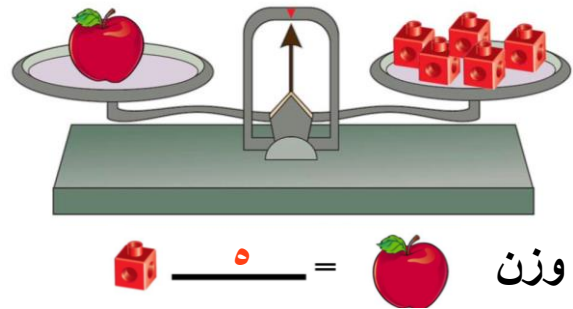
١٠٠	الخطوة الثانية	الخطوة الاولى
<div style="border: 1px solid green; padding: 5px; display: inline-block;">١٨٧</div>		<div style="border: 1px solid green; padding: 5px; display: inline-block;">١٥٣</div>
<div style="border: 1px solid green; padding: 5px; display: inline-block;">١٠٦</div>	—	<div style="border: 1px solid green; padding: 5px; display: inline-block;">٤٣</div>
<div style="border: 1px solid green; padding: 5px; display: inline-block;">٠٠٤</div>		<div style="border: 1px solid green; padding: 5px; display: inline-block;">١١٠</div>

السؤال الثاني :

(ب) عد النقود . ثم أكتب قيمة الكل.

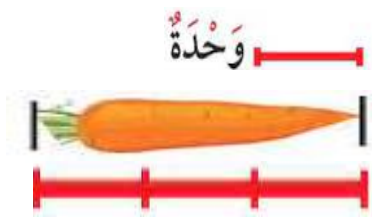


(أ) أكمل .



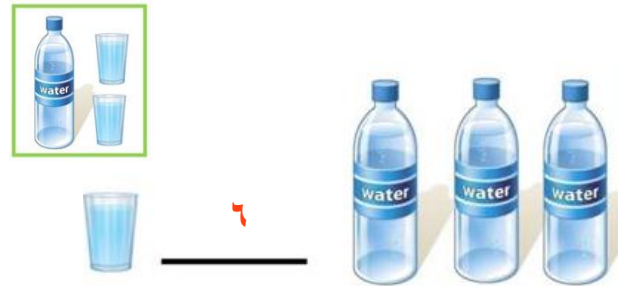
السؤال الثالث :

(ب) أكمل .



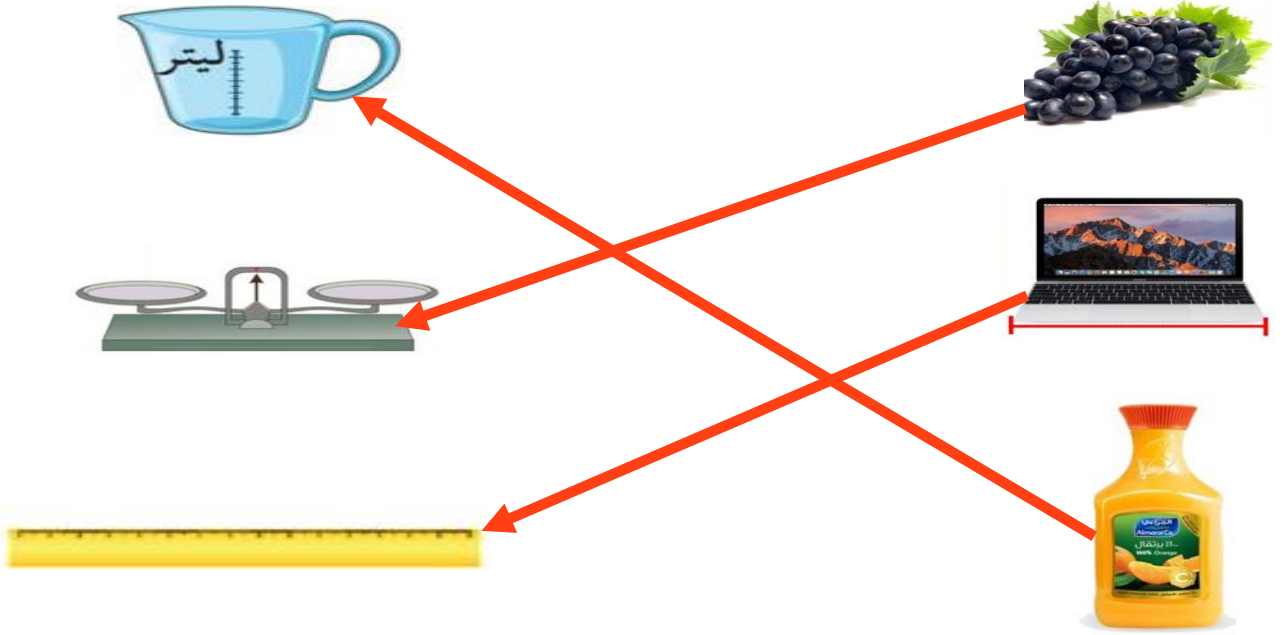
طول الجزرة ٤ وحدة

(أ) كم كوبا تسع إذا ملأها بالماء ؟



السؤال الرابع :

(أ) صل الأداة المناسبة للقياس :

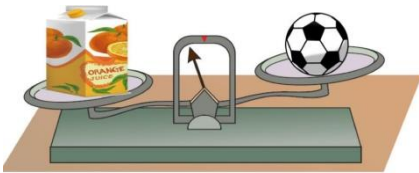


(ب) حوّل الإجابة الصحيحة :

الكوب الذي سعته أصغر



(ج) وزن الكرة وزن علبة العصير



يساوي

أخف من

أثقل من

انتهت الأسئلة ،،،