

الختبار التجريبي 3 للصف الاول الابتدائي

الاسم:

الصف: 1 /

العلوم

السؤال الأول : ضع علامة (v) للعبارة الصحيحة وعلامة (x) للعبارة غير الصحيحة لما يلي:



()

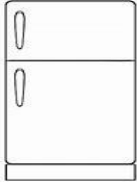
1- الغسالة جهاز يعمل بالكهرباء



2- الإشارة في الصورة المقابلة تدل على وجود مطب ()

السؤال الثاني : حو ط على الإجابة الصحيحة علميا وذلك بوضع ☐ حولها :



1- جهاز يعمل بالبطارية :



2- الإشارة التي تدل على أمامك وجود دوار :



السؤال الثالث : ضع علامة (v) للتصرف الصحيح وعلامة (x) للتصرف غير الصحيح فيما يأتي :



اختبار تجريبي 3 للصف الاول الابتدائي

الاسم:

الصف: 1 /

العلوم

السؤال الأول : ضع علامة (v) للعبارة الصحيحة وعلامة (x) للعبارة غير الصحيحة لما يلي:



(v)


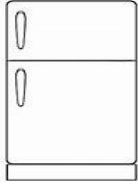
1- الغسالة جهاز يعمل بالكهرباء





2- الإشارة في الصورة المقابلة تدل على وجود مطب (v)

السؤال الثاني : حوِّط على الإجابة الصحيحة علمياً وذلك بوضع ☐ حولها :



1- جهاز يعمل بالبطارية :



2- الإشارة التي تدل على أمامك وجود دوار :



السؤال الثالث : ضع علامة (v) للتصرف الصحيح وعلامة (x) للتصرف غير الصحيح فيما يأتي :



(x)

(x)