

مراجعة الاختبار القصير



الاجتماعيات

٢٠٢٢ - ٢٠٢٣

الصف السادس

الفصل الدراسي الثاني

الوحدة الثالثة

أ / الموارد الاقتصادية لدول الخليج العربية

من ص ٨٧

الى ص ٩٨

أ - الثروة النفطية :

١ - اكتشاف النفط ٢ - انتاج النفط

أ - أكمل العبارات التالية :

١. أول حقل نفطي في دولة الكويت اسمه بحره
٢. العام الذي بدأ فيه التنقيب عن النفط في دولة الكويت ١٩٣٤ م
٣. اكتشفت كميات ضخمة من النفط في حقل اسمه برقان

ب - عرف التالي : أو فرق بين من حيث المفهوم

كميات النفط التي يتم استخراجها للاستفادة منها	<u>انتاج النفط</u>
كميات النفط المخزونة في باطن الأرض	<u>احتياط النفط</u>

ج - علل (اذكر السبب)

١ / اتجهت عمليات التنقيب على النفط في دولة الكويت إلى الجنوب ؟

ج / لان كميات النفط في الشمال قليلة

ص ٨٩

٢ / للتنوع الاقتصادي أهمية في دول الخليج العربية ؟

/ البحث عن مصادر جديدة وبديلة

ج / الحاجة الى التقليل من الاعتماد على النفط

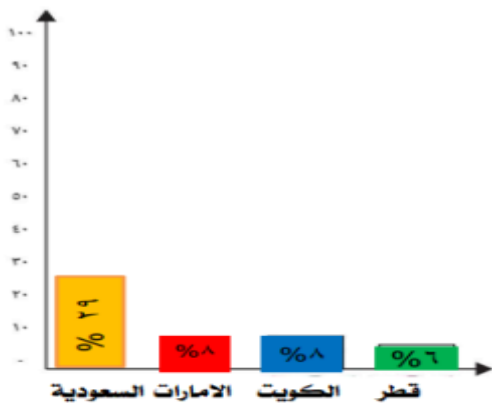
للاقتصاد والطاقة

د - لاحظ الجدول الذي أمامك ثم أجب : ص ٨٨

١ / الدولة الأولى في نسبة إنتاج النفط لشهر أغسطس ٢٠٠٨ م اسمها السعودية

٢ / الدولة الأقل في نسبة إنتاج النفط لشهر أغسطس ٢٠٠٨ م اسمها قطر

حول الجدول إلى رسم بياني



نسبة إنتاج بعد دول مجلس التعاون الخليجي عام ٢٠٠٨ م	
الدولة	نسبة إنتاج النفط لشهر أغسطس ٢٠٠٨ م
الكويت	٨%
السعودية	٢٩%
الإمارات	٨%
قطر	٦%

أ - الثروة النفطية

٣ - تصدير النفط من ص ٩٠ - ص ٩١

١ / أكمل العبارات التالية بما يناسبها فيما درست :

١ / العام الذي تم فيه إصدار أول شحنة من النفط ١٩٤٦ م

٢ / الشيخ الذي أصدر فيه عهده أول شحنة من النفط اسمه أحمد الجابر

٢ / أكمل المخططات السهمية التالية :



٣ / علل (اذكر السبب) :

١ / ظهور الحاجة الى إقامة العديد من الموانئ النفطية في دول الخليج العربية ؟ ص ٩٠

أ - تزايد إنتاج النفط ب - تزايد الطلب العالمي

٢ / لا يتم تصدير جميع الإنتاج من النفط للخارج ؟ ص ٩٠

للاحتفاظ بجزء منه كاحتياطي للأجيال القادمة

٣ / انتعاش الموانئ التجارية في دول الخليج العربية ؟ ص ٩٠

بسبب الصادرات والواردات بين دول الخليج العربية ودول العالم

٤ / أكمل الحدث المرتبط بالصورة : ص ٩٠

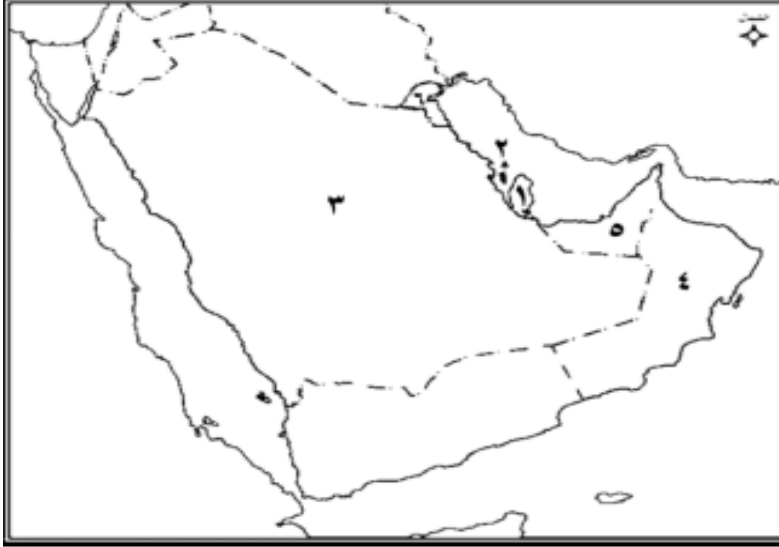


اسم الشيخ	أحمد الجابر
الحدث	إصدار أول شحنة نفط
العام	١٩٤٦

٥ / فرق بين كل من الواردات والصادرات من حيث المفهوم : ص ٨٨

الواردات	الصادرات
البضائع والسلع التي تشتريها دولنا من الخارج	السلع والمنتجات التي تبيعها دولنا في الخارج

٦ / حدد على الخريطة المعلومات التالية :



الدولة	حقل النفط	مينه التصدير
١ - الإمارات	مريان	جبل الظنة
٢ - البحرين	عوالي	سترة
٣ - السعودية	الغوار	رأس تنورة
٤ - عمان	ناطح	الفحل
٥ - قطر	دخان	إمسعيد
٦ - الكويت	برقان	الأحمدي

ب - الموارد الزراعية

من ص ٩٢

الى ص ٩٤

١ / أكمل العبارات التالية بما يناسبها فيما درست :

١ - نجحت المملكة العربية السعودية في زراعة وإنتاج محصول زراعي اسمه القمح

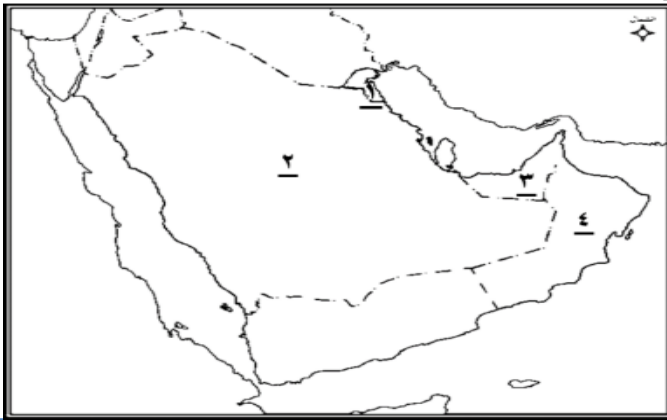
٢ - الدولة الخليجية التي نجحت في زراعة وإنتاج محصول القمح اسمها المملكة العربية السعودية

٢ / عرف المفاهيم المصطلحات التالية :

الزراعة بدون تربة : هي الزراعة التي تتم في بيئة مائية أو رملية أو حصى أو نشارة خشب تضاف إليها المحاليل الزراعية

بيوت بلاستيكية : يزرع فيها الخضروات في غير مواسمها وتقوم بحماية المحاصيل من تقلبات الطقس

٣ / حدد على الخريطة المعلومات التالية :



الدولة	المناطق الزراعية ص ٩٣
الكويت	العبدلي والوفرة
السعودية	الإحسد وسهل تهامة
الإمارات	العين وليوا
عمان	سهل الباطنة وصلالة

٤ / لاحظ الصور ثم أجب عن الاسئلة التالية

١ - الصورة التي تمثل الزراعة بدون تربة تحمل الرقم (١)

٢ - الصورة التي تمثل الزراعة في البيوت البلاستيكية تحمل الرقم (٢)



من ص ٩٥

الى ص ٩٩

ج - الموارد الصناعية د - الموارد التجارية

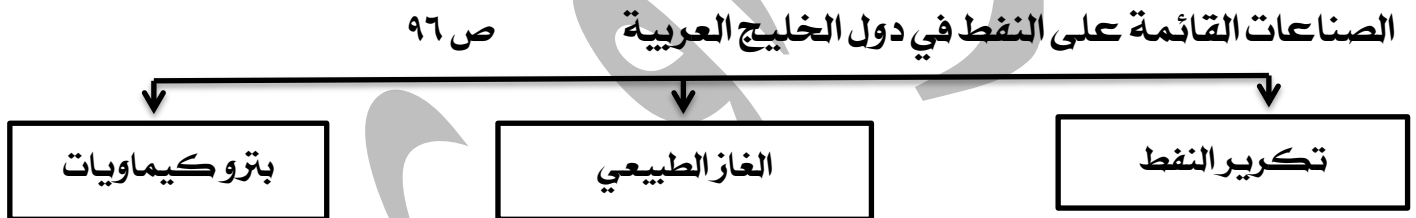
١ / أكمل العبارات التالية بما يناسبها فيما درست :

١ - من أهم الصناعات بمدينة صحار في دولة عمان صناعة اسمها النحاس٢ - من أهم الصناعات بمدينة الرياض في المملكة العربية السعودية صناعة اسمها تكرير النفط

٢ / عرف المفاهيم والمصطلحات التالية :

الصناعة ص ٩٥	تحويل المواد الخام الى مواد يمكن الاستفادة منها
الدخل القومي ص ٩٥	هو مجموعة الدخول التي تحصل عليها الدولة خلال عام

٣ / أكمل المخططات السهمية التالية :



٤ / علل (اذكر السبب) :

١ - تزدهر الصناعة في دول الخليج العربي . ص ٩٥

ج / نتيجة لاكتشاف النفط وتصديره مما يؤدي الى زيادة الدخل القومي

٢ - اهتمام حكومات دول الخليج العربية بالتوسع في صناعة تكرير النفط .

ج / لزيادة الدخل القومي - زيادة الكميات المصدرة

الدولة	الكويت	السعودية	البحرين	قطر	الإمارات	عمان
المناطق الصناعية	الشعبية	الجبيل / الرياض / ينبع	شمال ستره	إمسييد	الرويس / جبل علي	الفحل / صحار

٦ / لاحظ خريطة شبه الجزيرة العربية الصممه ثم أجب عما يليها من أسئلة :



- منطقة الشعبية يمثلها على الخريطة الرقم... (٦)
- منطقة الفحل يمثلها على الخريطة الرقم... (٤)
- منطقة الرياض يمثلها على الخريطة الرقم... (٣)

٧ / عرف المفاهيم والمصطلحات التالية :

- الصادرات : السلع والمنتجات التي تبيعها دولنا في الخارج
- الواردات : البضائع والسلع التي تشتريها دول من الخارج
- الترانزيت : إعادة تصدير البضائع المستوردة

أطيب التمنيات بالتوفيق ...