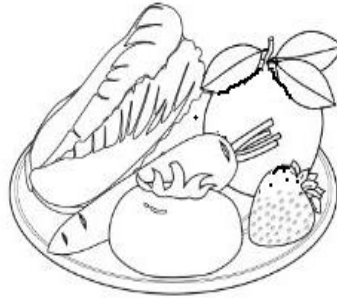
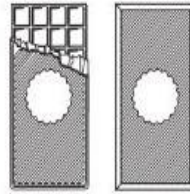
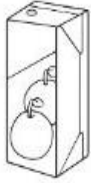
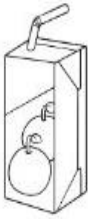


السؤال الأول: ظللي دائرة الملابس المناسبة لهذا الولد :



السؤال الثاني : لوني الأطعمة غير الصالحة للأكل :



السؤال الثالث : رتبي مراحل نمو الإنسان :



( )




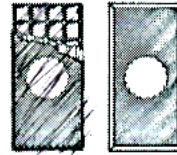
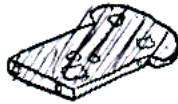
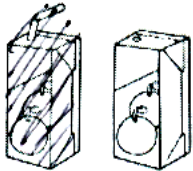
( )

( )

السؤال الأول: ظللي دائرة الملابس المناسبة لهذا الولد :



السؤال الثاني : لوني الأطعمة غير الصالحة للأكل :



السؤال الثالث : رتبي مراحل نمو الإنسان بالأرقام :



( ٢ )

( ١ )

( ٣ )