

السؤال الأول :

(١) اطرح. اشطب.




$$16 - 6 = \underline{\hspace{2cm}}$$

(٢) حل

اشترت أسماء ٩



٣



١



كم عدد الكل طائر

السؤال الثاني : لون العبارة الصحيحة الممثلة

(١)



$$14 - 3 = 11$$

$$10 = 3 - 13$$

(٢)



$$15 = 4 + 4 + 4$$

$$15 = 5 + 5 + 5$$

صل بالإجابة الصحيحة

$$14$$

$$13$$


$$12$$

$$= 3 - 15$$

$$= 4 + 10$$




السؤال الأول :

١) اشرح. اشطب.



$$16 - 6 = 10$$

٢) حل

اشتريت أسماء ٩  
  
 ٣  
  
 ١  
  
 كم عدد الكل ١٣ طائر

السؤال الثاني : لون العبارة الصحيحة الممثلة

(١)



$$11 = 3 - 14$$

$$10 = 3 - 13$$

(٢)



$$15 = 4 + 4 + 4$$

$$15 = 5 + 5 + 5$$

السؤال الثاني : صل بالإجابة الصحيحة

١٤

١٣

١٢

$$= 3 - 15$$

$$= 4 + 10$$