

الكويت والوطن العربي

للفصف السابع



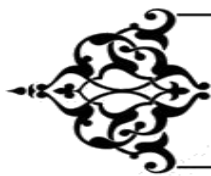
بنك معلومات الصف السابع
(الكويت والوطن العربي)
الفصل الدراسي الثاني
٢٠٢٢-٢٠٢٣م

منظم بالدرس للمعلم والمتعلم


إعداد

أ: عهود البغيلي - أ: بشاير ملك

إشراف ر.ق جليلة الدغيم
الموجهة الفنية هيفاء مال الله
مديرة المدرسة بدرية الهدبة



١- التوزيع الجغرافي للسكان في الوطن العربي ص ٩٩-١٠١



الوحدة الثالثة : الوطن العربي
ملامح بشرية واقتصادية
نمو السكان وتوزيعهم في الوطن
العربي



أولا : أكمل العبارات التالية بما يناسب فيما درست :

ص ٩٩

ص ٩٩

ص ٩٩

ص ٩٩

ص ٩٩

ص ٩٩

ص ١٠٠

ص ١٠٠

- ١- يبلغ عدد سكان دول الوطن العربي حوالي (٣٨٢) مليون نسمة
- ٢- تبلغ مساحة الوطن العربي (١٣,٥ مليون كم)
- ٣- يتألف الوطن العربي من (٢٢) دولة
- ٤- يتوزع سكان الوطن العربي بين قارتي (آسيا) و (إفريقيا)
- ٥- تبلغ نسبة توزيع سكان الوطن العربي في القارة الأفريقية (٧٠) %
- ٦- تبلغ نسبة توزيع سكان الوطن العربي في القارة الآسيوية (٣٠) %
- ٧- أكبر دولة عربية من حيث المساحة هي (الجزائر) بينما أصغرها هي (البحرين)
- ٨- أكبر دولة عربية من حيث عدد السكان هي (مصر) وأصغرها (جزر القمر)



ثانيا : أكتب المصطلح الدالة على العبارات التالية :

الإحصاء الحيوي ص ٩٩ تسجيل المواليد والوفيات وحالات الزواج والطلاق

ثالثا : علل لما يلي :

١- تقوم الدولة بإجراء تعداد سكاني مستمر ص ٩٩

للحصول على معلومات عن أوضاع السكان مثل عددهم وأعمارهم وأجناسهم

٢- اختلاف عدد السكان من دولة عربية لأخرى ص ١٠١

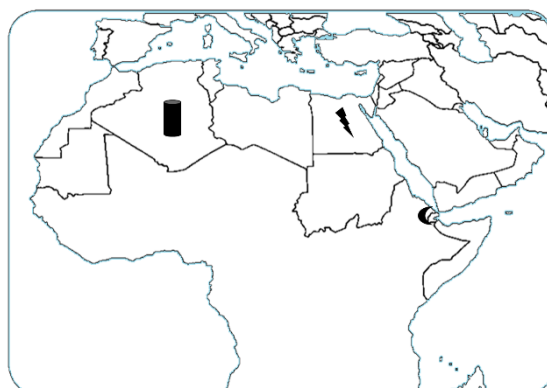
بسبب العوامل الطبيعية والعوامل البشرية مساحة الكلية للدولة

رابعا : فرق بين كل من :

المعلومات	التعداد السكاني ص ٩٩	الإحصاء الحيوي
	هي المعلومات للتعرف على أوضاع السكان وعددهم الاجمالي وأعمارهم	تسجيل المواليد والوفيات وحالات الزواج والطلاق

سابعا : الخرائط :

أهم ما يحدد على الخريطة لأيد من معرفة مهارات الخريطة أ- استخراج اسم الدولة ب- يحدد على الخريطة ج- يكتب مدلول الرمز أو الرقم أد أصغر دولة عربية من حيث عدد السكان (جزر القمر)	
أكبر دولة عربية من حيث عدد السكان (مصر)	
أكبر دولة عربية من حيث المساحة (الجزائر)	



الكثافة السكانية في الوطن العربي ص ١٠٢ - ١٠٥

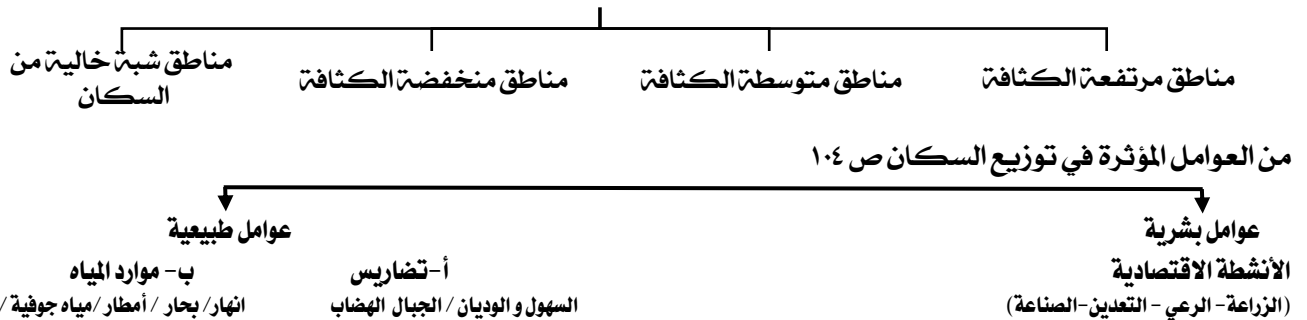
أولاً : أكمل العبارات التالية بما يناسب فيما درست :

١. أكثر الدول التي تعاني من سوء توزيع السكان اسمها (مصر)
٢. المناخ المعتدل عامل جذب للسكان
٣. أكبر تجمع للسكان في الوطن العربي يكون حول الأنهار ومصادر المياه
٤. المناطق المناخية التي يقل فيها السكان في الوطن العربي هي الصحاري

ص ١٠٢
ص ١٠٥
ص ١٠٥
ص ١٠٥

ثانياً : أكمل المخطط السهمي التالي :

مناطق الوطن العربي من حيث الكثافة ص ١٠٣



ثالثاً : عرف مصطلح الكثافة السكانية ص ١٠٢ عدد السكان ÷ المساحة الكلية للدولة

رابعاً : علل لما يلي :

١. تعاني جمهورية مصر العربية من سوء توزيع السكان ص ١٠٢

لتركز السكان على مساحة صغيرة (وادي النيل ودلتاه)

خامساً : أجب عن الأسئلة التالية :

كيف استطاع الإنسان التغلب على صعوبات أنواع التضاريس ص ١٠٣

- ١- بفضل التطور العلمي
- ٢- حول الجبال الى مدرجات وزرعها وشق العديد من الطرقات

سادساً : عدد العوامل المؤثرة في توزيع السكان

أ عوامل طبيعية (موارد المياه والتضاريس) ب- عوامل بشرية (الأنشطة الاقتصادية)

سابعاً : صنف للكلمات التالية في مكانها المناسب في الجدول التالي :

أنهار - الزراعة - الرعي - السهول - التعدين - الجبال

عوامل طبيعية	عوامل بشرية
أنهار / السهول / الجبال	الزراعة / الرعي / التعدين

ثامناً : فرق بين كل من حيث المفهوم

الكثافة السكانية ص ١٠٢	النمو السكاني ص ١٠٦
عدد السكان الكلي المساحة	زيادة عدد السكان من عام لآخر نتيجة للزيادة الطبيعية والهجرة



النمو السكاني في الوطن العربي

ص ١٠٣-١٠٨



أولاً : أكمل العبارات التالية بما يناسب فيما درست :

١- يقدر معدل النمو السنوي للسكان في الوطن العربي حوالي ٢,٢٪

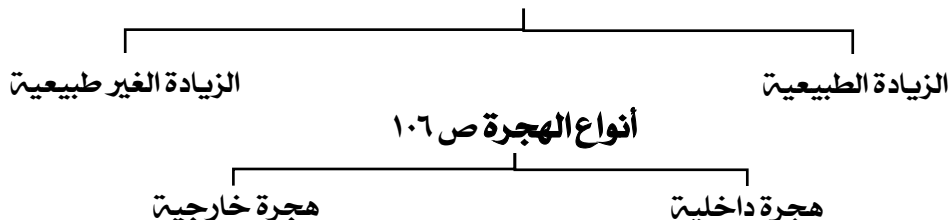
٢- يبلغ معدل النمو العالمي بحوالي ١,٧٪

ص ١٠٦

ص ١٠٦

ثانياً : أكمل المخطط السهمي التالي :

أنواع الزيادة السكانية ص ١٠٦



ثالثاً : أكتب المفاهيم أو المصطلحات الدالة على العبارات التالية :

الزيادة الطبيعية	الفرق بين معدل المواليد والوفيات (معدل المواليد - معدل الوفيات)
الزيادة غير الطبيعية	الزيادة الناتجة عن الهجرة.
النمو السكاني	تزايد عدد السكان من عام لآخر نتيجة الزيادة الطبيعية والغير طبيعية
الهجرة الداخلية	هي الهجرة من القرى الى المدن
الهجرة الخارجية	الهجرة من دولة الى اخرى

رابعاً : علل لما يلي :

١/ تختلف الزيادة السكانية من دولة الى أخرى ص ١٠٦

حسب تأثير على مساحة الدولة و مواردها

خامساً : أجب عن الأسئلة التالية :

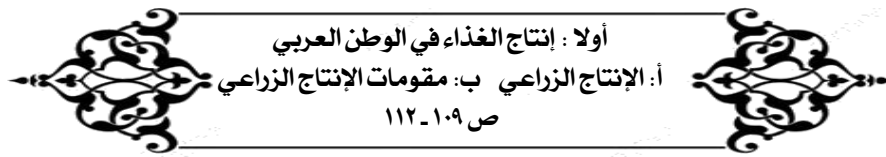
ما هي مكونات النمو السكاني في الوطن العربي ص ١٠٦

الزيادة السكانية - الهجرة

سادساً : فرق بين كل من :

هجرة داخلية	هجرة خارجية
الهجرة من القرى إلى المدن	الهجرة من دولة إلى دولة أخرى

الزيادة الطبيعية	الزيادة غير الطبيعية
هي الفرق بين معدل المواليد ومعدل الوفيات	الزيادة الناتجة عن الهجرة

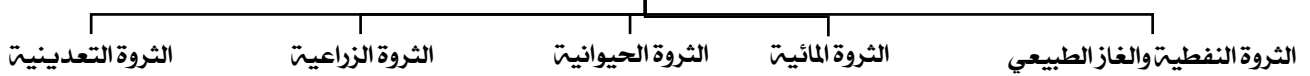


أولاً : أكمل العبارات التالية بما يناسب فيما درست :

١- القطاع الذي يحتل المركز الأول من حيث الأهمية في اقتصاد الوطن العربي هو الزراعة ٥٠٪ ص ١١٠

ثانياً : أكمل المخطط السهمي التالي :

من الثروات التي يمتلكها الوطن العربي



ثالثاً : فرق بين كل من :

وجه المقارنة	الموارد الطبيعية ص ١٠٩	الموارد البشرية ص ١٠٩
التعريف	الثروات التي منحها الله لإقليم ما دون تدخل الإنسان	الموارد التي ترتبط بالسكان من حيث أعدادهم وتوزيعهم ومناسبتهم لمساحة الأرض المستغلة
أمثلة علىها	الثروات المعدنية - الغابات - الموارد المائية	التعدين - الزراعة - الصناعة - خطوط المواصلات

رابعاً : علل لما يلي :

أهمية القطاع الزراعي لبقية القطاعات في الاقتصاد العربي ص ١١٠

لأنه يشكل نسبة ٥٠٪ من الاقتصاد العربي يليه الخدمات العامة ٣٠٪ ثم الصناعي ٢٠٪

تختلف أنواع المنتجات من دولة عربية إلى أخرى ص ١١٠

أ- اختلاف المناخ ب- اختلاف التربة ج- مدي توافر المياه

خامساً : عدد ما يلي :

١/ أنواع الموارد الطبيعية ص ١٠٩

الثروات المعدنية - الغابات - الموارد المائية - المراعي - موقع الإقليم

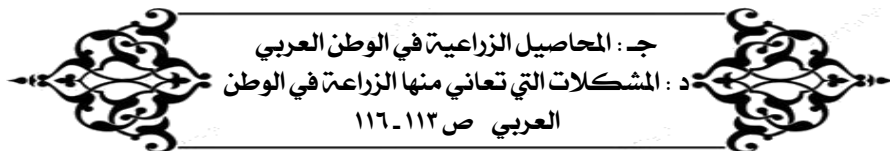
٢/ مقومات الإنتاج الزراعي ص ١١١

١- مقومات طبيعية مثل (التربة - الماء - المناخ - التضاريس)

٢- مقومات بشرية مثل (جهد الإنسان - الآلات - رأس المال)

٤/ المنتجات التي تصدرها الوطن العربي إلى الخارج ص ١١٤

أ- القطن ب- الزيتون ج- الصمغ د- الحمضيات



أولا : أكمل العبارات التالية بما يناسب فيما درست :

ص ١١٣

ص ١١٣

ص ١١٣

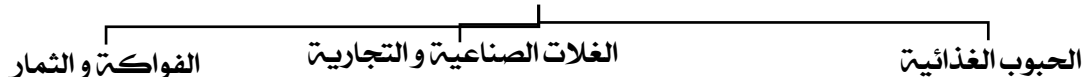
ص ١١٦



- ١- من أهم المزروعات في الوطن العربي هي (الحبوب الغذائية)
- ٢- الغلات الزراعية التي تدخل في الصناعة وتزرع بغرض التجارة يطلق عليها اسم الغلات النقدية
- ٣- الغلات الزراعية التي تتركز زراعتها في منطقة حوض البحر المتوسط هي الفواكه مثل الحمضيات
- ٤- نسبة المساحة المزروعة في الوطن العربي ٥٦٪
- ٥- الحرف الذي يمثل نسبة المساحة المزروعة في الوطن العربي الحرف أ

ثانيا : أكمل المخطط السهمي التالي :

المحاصيل الزراعية في الوطن العربي ص ١١٣



د - المشكلات التي تعاني منها الزراعة في الوطن العربي



اتباع الأساليب القديمة في الزراعة - ٢- ارتفاع نسبة ملوحة التربة - ٣- نقص موارد المياه

ثالثا : عرف مصطلح الغلات النقدية ص ١١٣

الغلات التي تدخل في الصناعة وتزرع بغرض التجارة والحصول على النقد

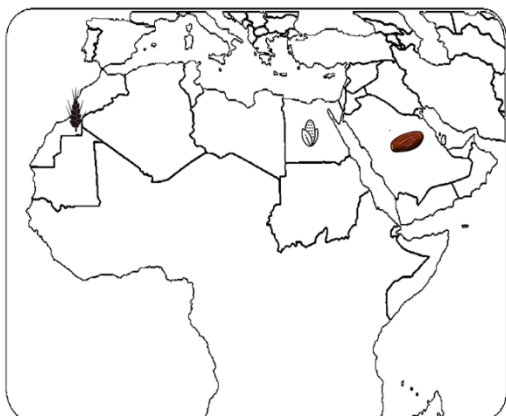
رابعا : علل لما يلي :

- ١- تعتبر الحبوب الغذائية من أهم المزروعات في الوطن العربي ص ١١٣ لأنها تشغل مساحة كبيرة من الأراضي المزروعة ولتأثير كمية الأمطار على الإنتاج

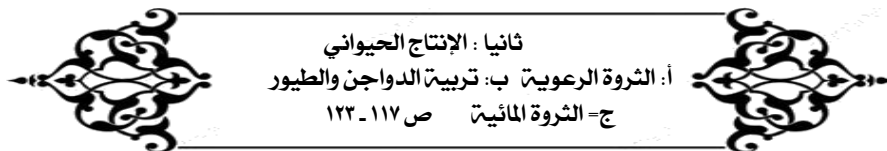
خامسا : فرق بين كل من

أمثلة (أنواع)	الحبوب الغذائية	الغلات النقدية	الفواكه والثمار
الأرز / الشعير / القمح / الذرة	فصص السكر / القطن / شندر / البن / زيتون	الموز / التمر / العنب / الحمضيات	

الغلة الزراعية	العنب	القمح	الشعير	الموز	البن	التمر
الدول العربية	سوريا	مصر	المغرب	صومال	اليمن	السعودية



حدد على الخريطة	المغرب	مصر	السعودية
أكثر دولتي إنتاج الشعير			
الأولى في إنتاج القمح / القطن / الأرز / الذرة / الموالج			
إنتاج التمر			



أولا : أكمل العبارات التالية بما يناسب فيما درست :

- ١- أكثر أنواع الثروة الرعوية انتشارا في الوطن العربي يسمى (الأغنام) ص ١١٨
٢- الدولة التي تحتل ثلث الانتاج العربي من الاسماك اسمها (مصر) ص ١٢٣
٣- تمتلك الصومال ٦,٦٪ من ثروة أسمها (الابل) ص ١١٩

ثانيا : عدد مايلي :

- ١/ أهمية الثروة الحيوانية ص ١١٧
أ- تساهم في مصادر الدخل
٢/ أنواع الثروة الرعوية بالوطن العربي . ص ١١٨
أ- الأغنام ب- الماعز ج- الإبل د- الأبقار
٣/ الأسباب التي جعلت الأغنام العربية تحتل المكانة الهامة ضمن الثروة الرعوية ص ١١٨
أ- كثرة انتشارها في المراعي ب- ملائمة للمراعي العربية وتحمل الجفاف
ج- اهمية منتجاتها د- مصدر أساسي من مصادر الثروة
٤/ الوسائل التي تجعل الثروة الحيوانية قابلة للزيادة والنمو ص ١١٧
رعاية الانسان لها - وتنظيم استغلالها وتحسين أنواعها وإعداد الغذاء الكافي لها

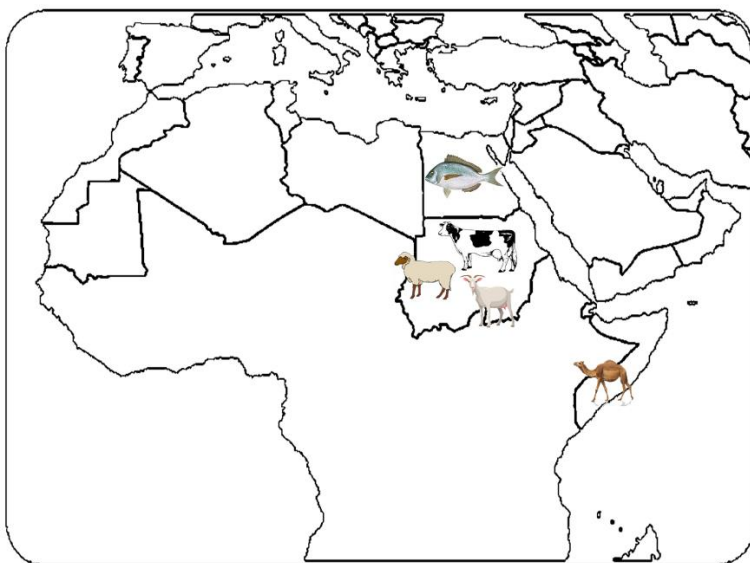
ثالثا : عدد أنواع الثروة الرعوية

الأبقار - الأغنام - ماعز

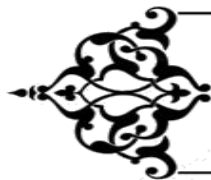
رابعا : علل (اذكر السبب)

.تتنوع الثروة المائية في الوطن العربي ص ١٢٢


لأنها دول بحرية لها سواحل ومسطحات مائية واسعة منها المالح ومنها العذبة



حدد على الخريطة	
السودان	الأولى في انتاج الماعز والأغنام والأبقار
الصومال	الأولى في انتاج الابل
مصر	الأولى في انتاج السمك



ثالثا : الطاقة و الثروة المعدنية
أ: النفط و الغاز الطبيعي
ص ١٢٤ - ١٣١



أولا : أكمل العبارات التالية بما يناسب فيما درست :

ص ١٢٨

ص ١٢٩

ص ١٢٩

ص ١٢٩

ص ١٣١

ص ١٣١

١. يتفوق الجناح العربي الآسيوي على الجناح العربي الأفريقي في إنتاج النفط.
٢. الدولة العربية الأولى في إنتاج النفط واحتياطيه اسمها السعودية
٣. أولى الدول العربية في إنتاج الغاز الطبيعي اسمها قطر
٤. المركز الذي تحتله دولة الكويت في إنتاج النفط بين الدول العربية الثالث
٥. أكثر دول العالم استيرادا للنفط العربي اليابان والولايات المتحدة وأوروبا
٢. يطلق على الغاز الطبيعي اسم الطاقة النظيفة

ثانيا : أكتب المفاهيم أو المصطلحات الدالة على العبارات التالية :

النفط	ص ١٢٥	بقايا عضوية على هيئة نباتات وحيوانات ترسبت في عصور قديمة دفنت تحت الأرض وتحولت بفعل الضغط والحرارة إلى نفط
الغاز الطبيعي	ص ١٢٥	غاز مصاحب للنفط الخام أو يوجد منفردا تتم إزالته لاستخدامات عديدة
الطاقة	ص ١٢٥	قوى محرركة للألات وعنصر مهم للتقدم الاقتصادي في جميع المجالات.

ثالثا : علل لما يلي :

١. يعد النفط والغاز الطبيعي من أهم مصادر الطاقة ص ١٢٥
لأهميته لاقتصاد الدول العربية
٢. يتمتع النفط العربي بمكانة مهمة على المستوى العالمي ص ١٣١
لأهميته للدول الصناعية المتقدمة في أوروبا واليابان والولايات المتحدة الأمريكية

سادسا : أجب عن الأسئلة التالية :

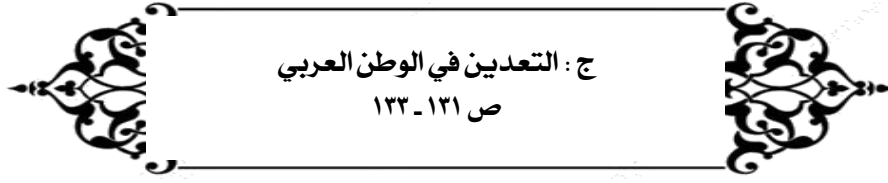
أذكرى مناطق تركيز الحقول النفطية ص ١٢٦

- ١- دول الخليج العربية
- ٢- منطقة شمال الصحراء الكبرى
- ٣- منطقة خليج السويس

سابعا : وزع النسب في مكانها في الجدول

٨٠٪ - ٤,٧٪ - ١٢٪ - ٩٠٪ - ٦٦,٥٪ - ١٨٪

النسبة	نسبة إنتاج واحتياط النفط والغاز
٨٠٪	١- إنتاج دول الخليج العربي وسهول دجلة والفرات من النفط حوالي
١٨٪	٢- إنتاج الشمال الصحراء الكبرى من النفط حوالي
٤,٧٪	٣- إنتاج منطقة خليج السويس من النفط حوالي
١٢٪	٤- يصل إنتاج النفط للجناح الإفريقي حوالي
٩٠٪	٥- يبلغ احتياطي الجناح الآسيوي من النفط حوالي
٦٦,٥٪	يصل إنتاج الجناح الآسيوي من الغاز الطبيعي



أولا : أكمل العبارات التالية بما يناسب فيما درست :

١ - الدولة العربية التي تحتل المركز الأول بإنتاج الحديد تسمى موريتانيا

٢ - الدولة التي تصدر المراكز الأولى في إنتاج معدن الفوسفات و النحاس والرصاص تسمى المغرب

ص ١٣٢

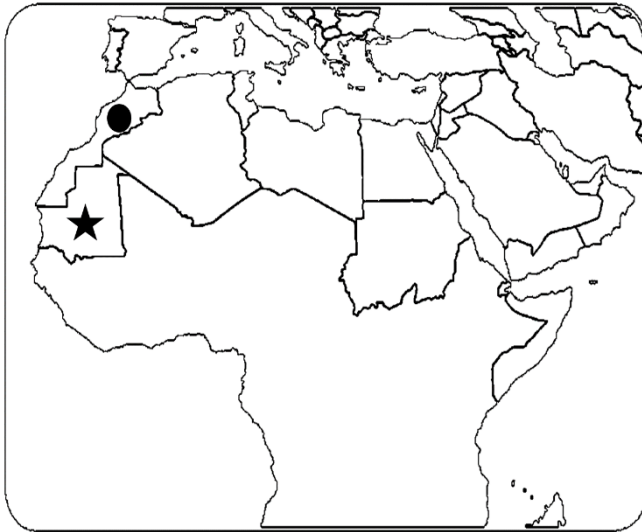
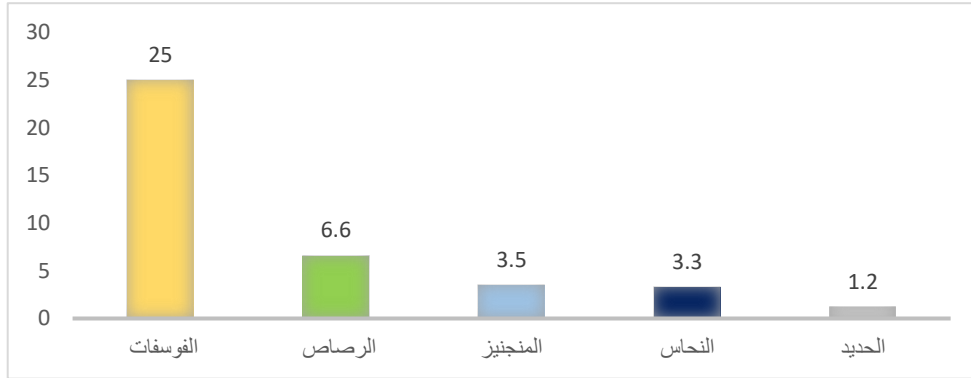
ص ١٣٢

ثانيا : عدد أهم المعادن التي يملكها الوطن العربي

الحديد النحاس الفوسفات الرصاص المنجنيز

ثالثا : حول الجدول الذي امامك الى أعمدة بيانية

الفوسفات	الحديد	الرصاص	النحاس	المنجنيز
٢٥ %	١,٢ %	٦,٦ %	٠,١٣ %	٣,٣ %



حدد على الخريطة	
موريتانيا	الدولة العربية الاولى في إنتاج معدن الحديد ★
المغرب	الدولة العربية الاولى في إنتاج جميع (المعادن) ●



المنظمات الاقتصادية في الوطن العربي ص ١٣٤ - ١٣٦



أولاً : علل لما يلي :



١. إنشاء منظمة الأوبك ص ١٣٤

الحرص على استقرار أسعار النفط في الأسواق العالمية

٢. إنشاء منظمة الأوابك ص ١٣٥

تعميق التعاون بين الدول المنتجة للنفط وتأمين وصوله إلى الأسواق بأسعار عادلة

ثانياً : قارن بين كل من منظمة الأوبك والأوابك

شعار المنظمة	منظمة الأوبك	منظمة الأوابك
		
المفهوم	منظمة الأقطار المصدرة للنفط	منظمة البلدان العربية المصدرة للنفط
سنة التأسيس والمقر	عام ١٩٦٠ - فيينا	عام ١٩٦٨ - الكويت
عدد الدول	تضم ١١	تضم ١١ دول
أهداف المنظمة	١. الحرص على استقرار أسعار النفط في الأسواق العالمية. ٢. تأمين وصول النفط إلى الأسواق الاستهلاكية.	١. تعمق التعاون الاقتصادي بين أعضائها في مجال النفط. ٢. تأمين وصول النفط إلى الأسواق الاستهلاكية. ٣. تسهم في تطوير الصناعات البترولية
اللجان والأجهزة	المؤتمر - مجلس المحافظين - الأمانة العامة	مجلس الوزراء - المكتب التنفيذي - الأمانة العامة

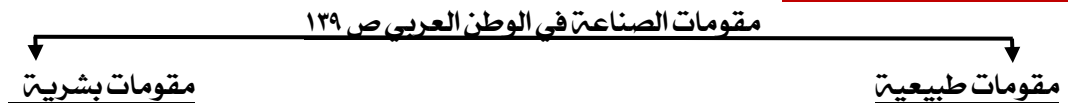


رابعاً : الإنتاج الصناعي

أ : مقومات الصناعة في الوطن العربي ص ١٣٧ - ١٤٠



أولاً : أكمل المخطط السهمي التالي :



ثانياً : عدد ما يلي :

أ - مقومات الصناعة الطبيعية

١) مواد الخام معدنية - حيوانية - نباتية (غابات + محاصيل زراعية)

٢) الطاقة لبتترول - غاز طبيعي - طاقة كهرومائية - طاقة متجددة - الشمس والرياح

ب - مقومات الصناعة البشرية

رؤوس الأموال - الأيدي العاملة - المهارة والخبرة - السوق - وسائل النقل

٣) مراحل الصناعة ص ١٣٧

مواد أولية - تحويل وتصنيع - توزيع

ثالثاً : عرف الصناعة ص ١٣٧ تحويل المواد الأولية إلى سلع تباع بالسوق



ب: أنواع الصناعة في الوطن العربي ص ١٤١ - ١٤٦



أولاً : أكمل العبارات التالية بما يناسب فيما درست :

ص ١٤١

- ١- تقتصر الصناعات الاستخراجية على استخراج مصادر الطاقة.
- ٢- تعتبر من الصناعات الأولى في العالم الصناعات الحرفية.

ص ١٤٣

ثانياً : أكمل المخطط السهمي التالي :

أنواع الصناعة في الوطن العربي ص ١٤١-١٤٥



ثالثاً : أكتب المصطلحات الدالة على العبارات التالية :

صناعة تعدينية ص ١٤١	صناعة تقتصر على استخراج مصادر الطاقة كالنفط والغاز والفحم وغيرها من باطن الأرض
صناعة تعدينية ص ١٤١	تنقية الخامات المعدنية وتحويلها إلى صفائح أو سبائك صالحة لتنفيذ صناعات معدنية
صناعات تحويلية ص ١٤٢	تقوم على تحويل المواد الأولية إلى سلع استهلاكية صالحة للاستعمال
صناعة تجميعية ص ١٤٢	هي عملية تركيب وجمع المواد المصنعة للحصول على سلع متنوعة
صناعة حرفية ص ١٤٣	تستخدم مواد أولية محلية وتعتمد على المجهود البشري

رابعاً عدد :

أهداف الصناعات البتروكيمياوية

ص ١٤٥

- ١- تنوع مصادر الدخل للدولة المنتجة
- ٢- توفير المواد الأولية للصناعات التحويلية لتأمين حاجات القطاعات الاستهلاكية (خاصة مجال البناء)
- ٣- تطوير الصناعة في الوطن العربي حيث تحتاج الصناعات البتروكيميائية إلى تقنيات متخصصة

خامساً : صنف الكلمات التالية حسب مكانها في الجدول التالي :

(النفط - الغذائية - المعادن - المنسوجات - الفحم - الانشائية - الغاز - الخشب والورق - البتروكيمياويات - الاملاح)

صناعة استخراجية	صناعة تحويلية
النفط - الغاز - الفحم - الاملاح - المعادن	الغذائية - المنسوجات - الانشائية - الخشب والورق البتروكيمياويات



خامساً : النقل والتبادل التجاري في الوطن العربي

ص ١٤٧ - ١٥٢



أولاً : أكمل العبارات التالية بما يناسب فيما درست :

ص ١٥١

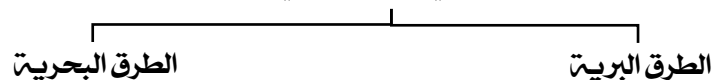
- ١- نسبة الصادرات بين الدول العربية هي ٨٪ أما الواردات ٧,٤٪ .

ص ١٥٢

- ٢- الأسواق التي تمثل المركز الأول بالنسبة لتجارة الواردات العربية دول أخرى والصادرات الأسواق الأوروبية .

ثانياً : أكمل المخطط السهمي التالي :

طرق النقل في الوطن العربي ص ١٤٧



ثالثاً : أكتب المصطلحات الدالة على العبارات التالية :

٢٠. التبادل التجاري ص ١٥١	عمليات التصدير والاستيراد بين الدول
٢٣. التجارة البينية ص ١٥٢	التبادل التجاري بين الدول العربية .

سابعاً : فرق بين كل من :

طرق النقل البري ص ١٤٨	طرق النقل البحري ص ١٤٩
تشمل طرق السكك الحديدية والشاحنات والسيارات	تشمل طرق النقل المائي بواسطة الأنهار والنقل المائي الخارجي في البحار والمحيطات



الوحدة الرابعة الوطن العربي
قضايا وتحديات وحلول نحو
مستقبل عربي أفضل

أولا : أكمل العبارات التالية بما يناسب فيما درست :

ص ١٦٢

١. الصومال والسودان وموريتانيا من أكثر الدول العربية تهديد بالتصحّر

ص ١٦٢

ثانيا : عرف التصحر : زحف الرمال الصحراوية الى المناطق الجافة وشبه الجافة.

ثالثا : علل لما يلي (اذكر السبب)

ص ١٦١

١- عدم استغلال الأراضي القابلة للزراعة

لندرة مياه الري أو تذبذب الأمطار وقلة الأيدي العاملة

ص ١٦١

٢- تلوث التربة من العقبات التي تواجه الإنتاج الزراعي في الوطن العربي

نتيجة للإسراف في استخدام المبيدات الحشرية وارتفاع نسبة الملوحة في التربة

رابعا عدد مايلي :

ص ١٦١

١/ العقبات التي تواجه الإنتاج الزراعي بالوطن العربي :-

التصحّر بد تلوث التربة ج واتباع طرق قديمة

د- الرعي الجائر عدم و- عدم استغلال الأراضي القابلة للزراعة

ص ١٦٢

٢/ أسباب التصحر. أ- بشرية ب- طبيعية

٣/ نتائج غياب سياسة زراعية على صعد العالم العربي

أتشابه المحاصيل وتنافسها في الأسواق العربية بد غياب محاصيل أخرى أساسية يمكن انتاجها محليا

خامسا : اكتب اثنين من الأهداف والنتائج التي قامت بها دول الوطن العربي للتغلب على مشاكل الزراعة

الأهداف التي اتبعتها الدول العربية لعلاج مشاكل الزراعة	نتائج الخطط التي حققتها الدول العربية <u>ص ١٦٢</u>
١- تكثيف العمل الزراعي وتطويره	١/ زيادة الإنتاج عن طريق الأساليب العلمية
٢- تأصيل البذور	٢ / زيادة المساحات المزروعة
٣- استعمال الأسمدة	٣ / إقامة مشروعات الري



الدرس الأول: المشكلات الأساسية في الوطن العربي

بمشاكل استثمار المياه

من صفحة ١٦٤-١٦٥

أولاً : أكمل العبارات التالية بما يناسب فيما درست :

ص ١٦٤

١- تأتي ٥٠٪ من الموارد المائية في العالم من خارج حدوده

ص ١٦٥

٢- يتم الحد من هدر مياه الري باستخدام الري بالرش والتنقيط المحوري

ثانياً : اذكر السبب :-

ص ١٦٤

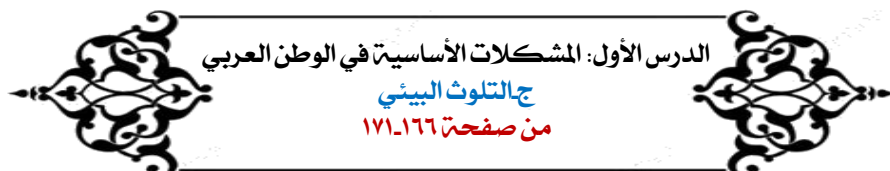
١- أسباب تدني وفرة المياه في الوطن العربي

- أ- النمو السريع للسكان مما يؤدي للضغط المتزايد للماء
 - ب- الطرق التقليدية في استغلال المياه
 - ج- عدم وجود برامج لإدارة المياه
 - د- شبكات نقل المياه قديمة
- و- ٥٠٪ من موارد المياه تأتي من خارج حدوده وتتحكم فيها دول المنبع
- طرق المحافظة على ثروة المياه

ص ١٦٥

٢- ترشيد استخدام المياه والحد من التبذير في المنازل.

- أ- الحد من هدر المياه في عمليات الري
- ب- تنظيم عملية الاستفادة من المياه الجوفية ومنع تسرب الأملاح الملوثة إليها واستثمارها على الوجه الأمثل.
- ت- تطوير استعمال مياه الصرف الصحي للمعالجة في الزراعة والتنظيف.
- ث- إقامة البحيرات والسدود لتجميع مياه الأمطار والسيول للاستفادة منها في فصل الجفاف.
- ج- توقيع اتفاقيات مع الدول المشاركة ودول المنبع لتحقيق مصالح الدول العربية المعنية.



الدرس الأول: المشكلات الأساسية في الوطن العربي

جاء التلوث البيئي

من صفحة ١٦٦-١٧١

أولاً : أكمل العبارات التالية بما يناسب فيما درست :

ص ١٦٦

١- أكثر أنواع الملوثات انتشاراً يسمى التلوث الكيميائي

ص ١٦٧

٢- من أخطر المشاكل التي تواجه شعوب العالم هو التلوث البيئي

ص ١٦٧

٣- عقد مؤتمر قمة الأرض عام ١٩٩٢م في دولة اسمها البرازيل.

ص ١٦٩

٤- الطبقة الغازية المسؤولة عن حماية الأرض من خطر الإشعاعات فوق بنفسجية تسمى الأوزون

ص ١٦٩

٥- الغاز المسؤول عن زيادة حرارة الأرض والتغير المناخي أكسيد الكربون

ص ١٧١

٦- تعد الرياح والشمس من مصادر الطاقة المتجددة



شكل (٩٤) صورة توضح مصادر الطاقة المتجددة الشمس والرياح

ثانياً : أكتب المصطلحات الدالة على العبارات التالية :

ص ١٦٦

١- التلوث: الضرر الذي يلحق بالتربة والهواء والماء.

ص ١٧٠

٢- (التوازن البيئي) بقاء عناصر الطبيعة بحالة متوازنة لتؤدي وظائفها على أكمل وجه.

ثالثا : اكتب اثنين من التالي :

ص ١٧١

دور الانسان في حماية الموارد الطبيعية

أ. الاستخدام السليم للموارد ب. المحافظة على نظافة الموارد ج. الاستعمال الامثل للموارد د. الاعتماد على مصادر بديلة

رابعا : أكمل المخطط السهمي التالي :

أنواع التلوث ١٦٧



الدرس الثاني: نحو مستقبل عربي افضل
١- التنمية في اوطن العربي
من صفحة ١٧٢-١٧٦

أولا : أكمل العبارات التالية بما يناسب فيما درست :

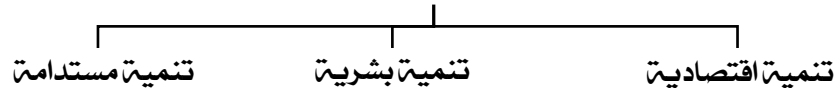
ص ١٧٢

١- (التنمية) التطور والتطوير : عملية تتطلب التخطيط والمشاركة من الجميع .

ص ١٧٥

٢- (التنمية المستدامة) برامج تحسين نوعية الحياة .

ثانيا : أكمل المخطط السهمي التالي : محاور التنمية في الوطن العربي ١٧٣



ثالثا : قارن بين كل من أهداف التنمية :

أهداف التنمية الاقتصادية	أهداف التنمية البشرية	أهداف التنمية المستدامة
١- استخدام العلم في زيادة الانتاج. ٢- تحقيق التكامل بين الدول العربية في الامكانيات والحاجات	١- توظيف قدرات الانسان العربي نحو مجتمع المعرفة ٢- رفع كفاءة الثروة البشرية علميا وفكريا ٣- تعميق المشاركة في الرأي والحوار. ٤- الاهتمام بالطفل العربي ورعايتهم	١- القضاء على الفقر ٢- القضاء الجوع ٣- توفير التعليم الجيد ٤- الحفاظ على المياه نظيفة ٥- العمل اللائق والنمو الاقتصادي

رابعاً : عدد :

ص ١٧٣

١/ أهداف التنمية الاقتصادية

- ١- استخدام العلم في زيادة الانتاج.
- ٢- تحقيق التكامل بين الدول العربية في الامكانيات والحاجات

٢/ أهداف التنمية البشرية :

- الاهتمام بالطفل العربي ورعايته في مرحلة الطفولة المبكرة (قبل المدرسة) .
- توفير فرص العمل ، والرعاية الصحية والقضاء على الفقر
- رفع كفاءة الثروة البشرية علمياً وفكرياً وروحياً .
- تعميق المشاركة في الرأي والحوار في ظل الديمقراطية.

ص ١٧٥

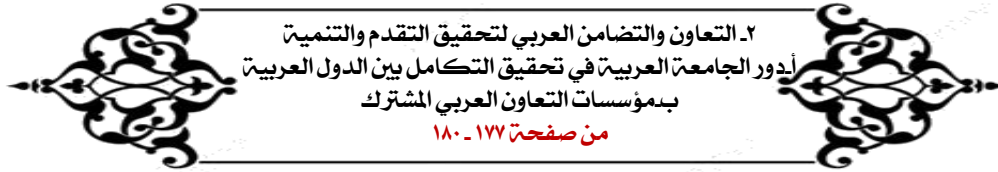
٣ / المشكلات التي تواجه التنمية البشرية بالوطن العربي

- أ- ضعف الاستفادة من القدرات البشرية بد الامية - ج- نقص مشاركة المرأة
- د- الاختلاف بالمستوى المعيشي

ص ١٦٣

٤/ جواهر التنمية المستدامة

الحرية / المعرفة / العمل الجماعي / الابداع / الكفاءة لا المحسوبية / / حقوق المرأة / حقوق الطفل



٢- التعاون والتضامن العربي لتحقيق التقدم والتنمية
أدور الجامعة العربية في تحقيق التكامل بين الدول العربية
بمؤسسات التعاون العربي المشترك
من صفحة ١٧٧ - ١٨٠

أولاً : أكمل العبارات التالية بما يناسب فيما درست :

ص ١٧٨

١- العام الذي تم فيه تشكيل الجامعة العربية في عام ١٩٤٥ م

ص ١٧٩

٢- العام الذي تم فيه تأسيس الصندوق الكويتي للتنمية الاقتصادية العربية ١٩٦١ م

ص ١٧٩

٣- أولى الصناديق الوطنية اسمه الصندوق الكويتي للتنمية الاقتصادية العربية

ص ١٧٩

٤- العام الذي تم فيه تأسيس صندوق أبوظبي للإنماء الاقتصادي العربي ١٩٧١ م

ص ١٧٩

٥- العام الذي تم فيه تأسيس الصندوق السعودي للتنمية في عام ١٩٧٤ م

ص ١٧٩

٥- تأسيس الصندوق الكويتي للتنمية الاقتصادية العربية في عهد الشيخ عبد الله السالم

ص ١٧٨

6- دولة الكويت لجامعة الدول العربية في عام ١٩٦١ م

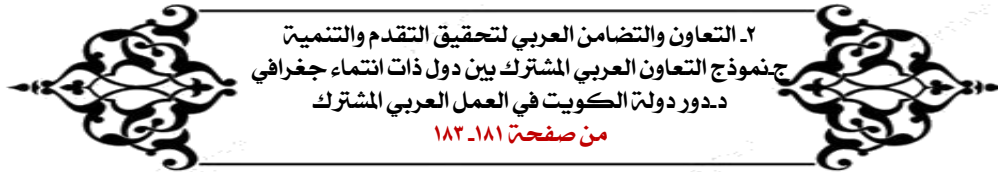
ثانياً : عرف المصطلح :

- ١- التضامن العربي : العمل على توثيق الصلات بين الدول والشعوب العربية وحماية مصالحها السياسية والاقتصادية والثقافية .

ص ١٧٧

ثالثا : اكتب اثنين من التالي :

- ١- دور الجامعة العربية في تحقيق التكامل بين الدول العربية
أ- توثيق العلاقات بين الدول الأعضاء . بد تنسيق التعاون فيما بينهم جـ النظر في شؤون ومصالح الدول العربية
٢- أمثلة على المؤسسات الاقتصادية في جامعة الدول العربية
١- مجلس الوحدة الاقتصادية العربية . ٢- المنظمة العربية للتنمية الزراعية
٣- اوجه المساعدات المقدمة من الصناديق الإنمائية
١- تقديم القروض.
٢- التمويل المشترك.
٣- تقديم المنح للتمويل
٤- تقديم المساعدات الاقتصادية.
٤- عدد أهم الصناديق الوطنية على مستوى الدول
الصندوق الكويتي للتنمية الاقتصادية العربية - صندوق أبوظبي للإنماء الاقتصادي العربي - الصندوق السعودي للتنمية



أولا : أكمل العبارات التالية بما يناسب فيما درست :

ص ١٨١
ص ١٨٢

- ١- تم الإعلان عن قيام مجلس التعاون الخليجي في تاريخ ٢٥-مايو
ثانيا لمنظمات التي اتخذت الكويت مقر لها .

- أ- المنظمة العربية للتنمية الزراعية . بـ المنظمة العربية للصناعة والتعدين
جـ المنظمة العربية للتربية والثقافة والعلوم (ألكسو)

ثالثا صنف الكلمات حسب موقعها في الجدول :

المنظمة العربية للصناعة والتعدين	(ألكسو)	المنظمة العربية للتنمية الزراعية



أولا : أكمل العبارات التالية بما يناسب فيما درست :

- ١- صاحب فكرة انشاء الصندوق الكويتي للتنمية هو الشيخ جابر الاحمد الصباح **ص ١٨٤**
- ٢- أول مؤسسة للتنمية في الوطن العربي اسمها الصندوق الكويتي للتنمية الاقتصادية **ص ١٨٤**

ثانيا عدد - اهداف الصندوق الكويتي للتنمية الاقتصادية العربية :-

- أ- المساهمة في تحقيق مشاريع التنمية الضرورية الخاصة بالمجالات الصحية والاجتماعية
- ب- تقديم المساعدات اللازمة في حالات الكوارث والنكبات
- ج- دعم قضايا الأمة العربية الإسلامية



أولا : أكمل العبارات التالية بما يناسب فيما درست :

- ١- عقد أكبر وأهم مؤتمر قمة عربية اقتصادية منذ نشأة الجامعة العربية في دولة الكويت عام ٢٠٠٩ **ص ١٨٦**
- ٢- أهم قرارات هذا المؤتمر هو إعادة تعمير قطاع غزة بعد تعرضها للغزو الإسرائيلي عام ٢٠٠٩ **ص ١٨٦**
- ٣- صاحب مبادرة عقد القمة العربية الاقتصادية للتنمية الاجتماعية عام ٢٠٠٩ هو الشيخ صباح الاحمد **ص ١٨٦**
- ٤- تعرض قطاع غزة للغزو من قبل الاحتلال الإسرائيلي **ص ١٨٦**
- ٥- عقد أول مؤتمر للمانحين لدعم الوضع الإنساني في سوريا عام ٢٠١٣ م في دولة اسمها الكويت **ص ١٨٨**
- ٦- عقد المؤتمر الدولي للمانحين لدعم الوضع الإنساني في سوريا في عهد الشيخ صباح الاحمد **ص ١٨٦**

ثانيا عدد

١/ أهداف القمة الاقتصادية التنموية العربية :-

- إنشاء بنك عربي لتمويل شتى المشاريع التنموية لتقليل من معدلات الفقر .
- ٢ - القضاء على البطالة والفقر بتوفير فرص العمل .
- ٣ - الاستثمار الاقتصادي بين الدول العربية ، وتقوية التبادل التجاري .
- ٤ - الاعتناء بالعنصر البشري والتنمية المستدامة .

٢- نتائج ضرب الاحتلال لقطاع غزة ٢٠٠٩

- قتل الآلاف من الأبرياء (معظمهم من الأطفال والنساء) تدمير البنية التحتية لقطاع غزة بالكامل .

أكمل الحدث من خلال ما درست :



ص ١٨٦

اسم المؤتمر	مؤتمر القمة العربية الاقتصادية ص ١٨٦
السنة	٢٠٠٩
صاحب المبادرة	الأمير الراحل الشيخ صباح الأحمد الجابر الصباح
أولوية المؤتمر	إعادة تعمير قطاع غزة بعد تعرضه للغزو الإسرائيلي