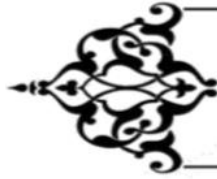
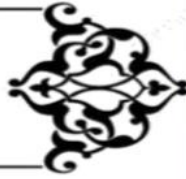


# مراجعة لماده الاجتماعيات للصف السابع المتوسط

المراجعة لاتغني عن الكتاب المدرسي



١. التوزيع الجغرافي للسكان في الوطن  
العربي ص ٩٩-١٠١



الوحدة الثالثة : الوطن العربي  
ملامح بشرية واقتصادية  
نمو السكان وتوزيعهم في الوطن  
العربي

## أولا : أكمل العبارات التالية بما يناسب فيما درست :

ص ٩٩  
ص ٩٩  
ص ٩٩  
ص ٩٩  
ص ٩٩  
ص ١٠٠  
ص ١٠٠

- ١- يبلغ عدد سكان دول الوطن العربي حوالي ( ٢٨٢ ) مليون نسمة
- ٢- تبلغ مساحة الوطن العربي ( ١٣,٥ مليون كم )
- ٣- يتألف الوطن العربي من ( ٢٢ ) دولة
- ٤- يتوزع سكان الوطن العربي بين قارتي ( آسيا ) و ( إفريقيا )
- ٥- تبلغ نسبة توزيع سكان الوطن العربي في القارة الأفريقية ( ٧٠ ) %
- ٦- تبلغ نسبة توزيع سكان الوطن العربي في القارة الآسيوية ( ٣٠ ) %
- ٧- أكبر دولة عربية من حيث المساحة هي ( الجزائر ) بينما أصغرها هي ( البحرين )
- ٨- أكبر دولة عربية من حيث عدد السكان هي ( مصر ) وأصغرها ( جزر القمر )

## ثانيا : أكتب المصطلح الدالة على العبارات التالية :

الإحصاء الحيوي ص ٩٩ تسجيل المواليد والوفيات وحالات الزواج والطلاق

## ثالثا : علل لما يلي :

١. تقوم الدولة بإجراء تعداد سكاني مستمر ص ٩٩  
للحصول على معلومات عن أوضاع السكان مثل عددهم وأعمارهم وأجناسهم
٢. اختلاف عدد السكان من دولة عربية لأخرى ص ١٠١  
بسبب العوامل الطبيعية والعوامل البشرية مساحة الكلية للدولة

## رابعا : فرق بين كل من :

العلمان	التعداد السكاني ص ٩٩	الإحصاء الحيوي
	هي المعلومات للتعرف على أوضاع السكان وعددهم الاجمالي وأعمارهم	تسجيل المواليد والوفيات وحالات الزواج والطلاق



# الكثافة السكانية في الوطن العربي

ص ١٠٢ - ١٠٥

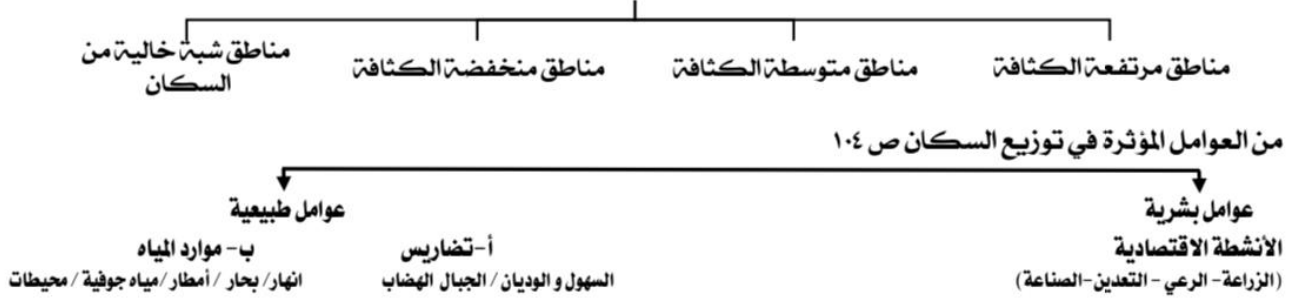
## أولاً : أكمل العبارات التالية بما يناسب فيما درست :

١. أكثر الدول التي تعاني من سوء توزيع السكان اسمها (مصر)
٢. المناخ المعتدل عامل جذب للسكان
٣. أكبر تجمع للسكان في الوطن العربي يكون حول الأنهار ومصادر المياه
٤. المناطق المناخية التي يقل فيها السكان في الوطن العربي هي الصحاري

ص ١٠٢  
ص ١٠٥  
ص ١٠٥  
ص ١٠٥

## ثانياً : أكمل المخطط السهمي التالي :

مناطق الوطن العربي من حيث الكثافة ص ١٠٣



## ثالثاً : عرف مصطلح الكثافة السكانية ص ١٠٢

عدد السكان ÷ المساحة الكلية للدولة

## رابعاً : علل لما يلي :

### ١. تعاني جمهورية مصر العربية من سوء توزيع السكان ص ١٠٢

لتركز السكان على مساحة صغيرة ( وادي النيل ودلتاه )

## خامساً : أجب عن الأسئلة التالية :

### كيف استطاع الإنسان التغلب على صعوبات أنواع التضاريس ص ١٠٣

- ١- بفضل التطور العلمي
- ٢- حول الجبال الى مدرجات وزرعها وشق العديد من الطرقات

## سادساً : عدد العوامل المؤثرة في توزيع السكان

- أ عوامل طبيعية (موارد المياه والتضاريس) ب- عوامل بشرية (الأنشطة الاقتصادية)

## سابعاً : صنف الكلمات التالية في مكانها المناسب في الجدول التالي :

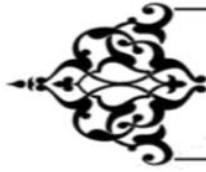
أنهار - الزراعة - الرعي - السهول - التعدين - الجبال

عوامل طبيعية	عوامل بشرية
أنهار / السهول / الجبال	الزراعة / الرعي / التعدين

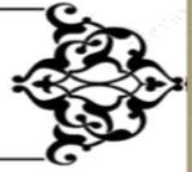
## ثامناً : فرق بين كل من حيث المفهوم

الكثافة السكانية ص ١٠٢	النمو السكاني ص ١٠٦
عدد السكان الكلي المساحة	زيادة عدد السكان من عام لآخر نتيجة للزيادة الطبيعية والهجرة





## ١. التوزيع الجغرافي للسكان في الوطن العربي ص ٩٩-١٠١



الوحدة الثالثة : الوطن العربي  
ملامح بشرية واقتصادية  
نمو السكان وتوزيعهم في الوطن العربي



### أولاً : أكمل العبارات التالية بما يناسب فيما درست :

ص ٩٩  
ص ٩٩  
ص ٩٩  
ص ٩٩  
ص ٩٩  
ص ١٠٠  
ص ١٠٠

١. يبلغ عدد سكان دول الوطن العربي حوالي ( ٢٨٢ ) مليون نسمة
٢. تبلغ مساحة الوطن العربي ( ١٣,٥ ) مليون كم
٣. يتألف الوطن العربي من ( ٢٢ ) دولة
٤. يتوزع سكان الوطن العربي بين قارتي ( آسيا ) و ( إفريقيا )
٥. تبلغ نسبة توزيع سكان الوطن العربي في القارة الأفريقية ( ٧٠ ) %
٦. تبلغ نسبة توزيع سكان الوطن العربي في القارة الآسيوية ( ٣٠ ) %
٧. أكبر دولة عربية من حيث المساحة هي ( الجزائر ) بينما أصغرها هي ( البحرين )
٨. أكبر دولة عربية من حيث عدد السكان هي ( مصر ) وأصغرها ( جزر القمر )



### ثانياً : أكتب المصطلح الدالة على العبارات التالية :

الإحصاء الحيوي ص ٩٩ تسجيل المواليد والوفيات وحالات الزواج والطلاق

### ثالثاً : علل لما يلي :

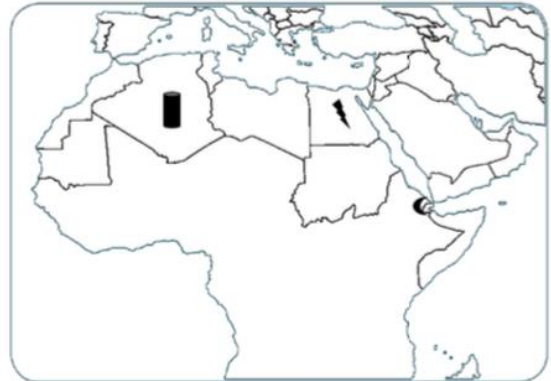
١. تقوم الدولة بإجراء تعداد سكاني مستمر ص ٩٩ للحصول على معلومات عن أوضاع السكان مثل عددهم وأعمارهم وأجناسهم
٢. اختلاف عدد السكان من دولة عربية لأخرى ص ١٠١ بسبب العوامل الطبيعية والعوامل البشرية مساحة الكلية للدولة

### رابعاً : فرق بين كل من :

التعداد السكاني ص ٩٩	الإحصاء الحيوي
هي المعلومات للتعرف على أوضاع السكان وعددهم الإجمالي وأعمارهم	تسجيل المواليد والوفيات وحالات الزواج والطلاق

### سابعاً : الخرائط :

أهم ما يحدد على الخريطة لا بد من معرفة مهارات الخريطة لا يستخرج اسم الدولة يد يحدد على الخريطة ج. يكتب مدلول الرمز أو الرقم أ. أصغر دولة عربية من حيث عدد السكان ( جزر القمر )	
أكبر دولة عربية من حيث عدد السكان ( مصر )	
أكبر دولة عربية من حيث المساحة ( الجزائر )	







**أولاً : أكمل العبارات التالية بما يناسب فيما درست :**

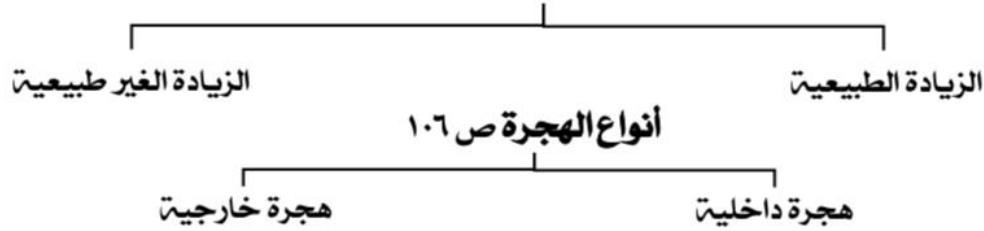
- ١- يقدر معدل النمو السنوي للسكان في الوطن العربي حوالي ٢,٢٠٪
- ٢- يبلغ معدل النمو العالمي بحوالي ١,٧٪

ص ١٠٦

ص ١٠٦

**ثانياً : أكمل المخطط السهمي التالي :**

**أنواع الزيادة السكانية ص ١٠٦**



**ثالثاً : أكتب المفاهيم أو المصطلحات الدالة على العبارات التالية :**

الزيادة الطبيعية	الفرق بين معدل المواليد والوفيات (معدل المواليد - معدل الوفيات)
الزيادة غير الطبيعية	الزيادة الناتجة عن الهجرة .
النمو السكاني	تزايد عدد السكان من عام لآخر نتيجة الزيادة الطبيعية والغير طبيعية
الهجرة الداخلية	هي الهجرة من القرى الى المدن
الهجرة الخارجية	الهجرة من دولة الى اخرى

**رابعاً : علل لما يلي :**

١/ تختلف الزيادة السكانية من دولة الى أخرى ص ١٠٦

حسب تأثير على مساحة الدولة و مواردها

**خامساً : أجب عن الأسئلة التالية :**

ما هي مكونات النمو السكاني في الوطن العربي ص ١٠٦

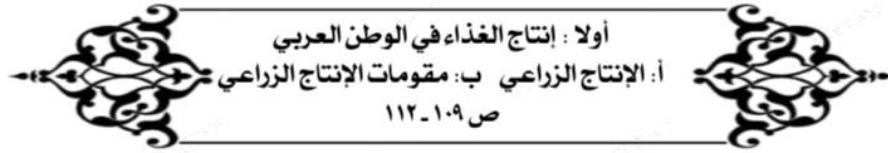
الزيادة السكانية - الهجرة

**سادساً : فرق بين كل من :**

الزيادة الطبيعية	الزيادة غير الطبيعية
هي الفرق بين معدل المواليد ومعدل الوفيات	الزيادة الناتجة عن الهجرة

هجرة داخلية	هجرة خارجية
الهجرة من القرى الى المدن	الهجرة من دولة الى دولة أخرى



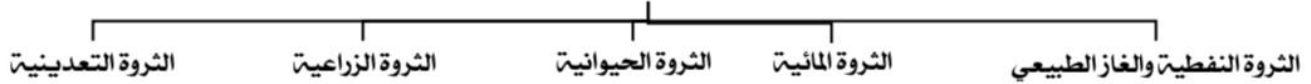


### أولاً : أكمل العبارات التالية بما يناسب فيما درست :

١- القطاع الذي يحتل المركز الأول من حيث الأهمية في اقتصاد الوطن العربي هو الزراعة ٥٠٪ ص ١١٠

### ثانياً : أكمل المخطط السهمي التالي :

من الثروات التي يمتلكها الوطن العربي



### ثالثاً : فرق بين كل من :

وجه المقارنة	الموارد الطبيعية ص ١٠٩	الموارد البشرية ص ١٠٩
التعريف	الثروات التي منحها الله لإقليم ما دون تدخل الإنسان	الموارد التي ترتبط بالسكان من حيث أعدادهم وتوزيعهم ومناسبتهم لمساحة الأرض المستغلة
أمثلة عليها	الثروات المعدنية - الغابات - الموارد المائية	التعدين - الزراعة - الصناعة - خطوط المواصلات

### رابعاً : علل لما يلي :

أهمية القطاع الزراعي لبقية القطاعات في الاقتصاد العربي ص ١١٠

لأنه يشكل نسبة ٥٠٪ من الاقتصاد العربي يليه الخدمات العامة ٣٠٪ ثم الصناعي ٢٠٪

تختلف أنواع المنتجات من دولتي عربية إلى أخرى ص ١١٠

أ- اختلاف المناخ ب- اختلاف التربة ج- مدي توافر المياه

### خامساً : عدد ما يلي :

١/ أنواع الموارد الطبيعية ص ١٠٩

الثروات المعدنية - الغابات - الموارد المائية - المراعي - موقع الإقليم

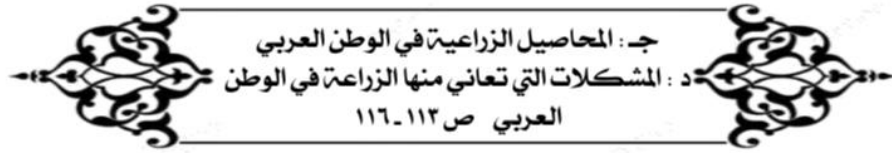
٢/ مقومات الإنتاج الزراعي ص ١١١

١- مقومات طبيعية مثل ( التربة - الماء - المناخ - التضاريس )

٢- مقومات بشرية مثل ( جهد الإنسان - الآلات - رأس المال )

٤/ المنتجات التي تصدرها الوطن العربي إلى الخارج ص ١١٤

أ- القطن ب- الزيتون ج- الصمغ د- الحمضيات



### أولاً : أكمل العبارات التالية بما يناسب فيما درست :

ص ١١٢

ص ١١٢

ص ١١٢

ص ١١٦



١- من أهم المزروعات في الوطن العربي هي ( الحبوب الغذائية )

٢- الغلات الزراعية التي تدخل في الصناعة وتزرع بغرض التجارة يطلق عليها اسم الغلات النقدية

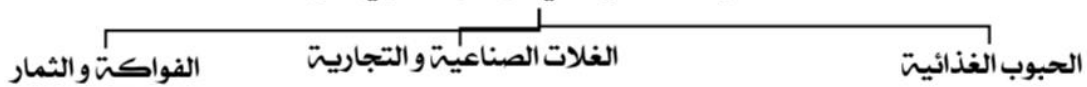
٣- الغلات الزراعية التي تتركز زراعتها في منطقة حوض البحر المتوسط هي الفواكه مثل الحمضيات

٢- نسبة المساحة المزروعة في الوطن العربي ٥٦٪

٤- الحرف الذي يمثل نسبة المساحة المزروعة في الوطن العربي الحرف أ

### ثانياً : أكمل المخطط السهمي التالي :

#### المحاصيل الزراعية في الوطن العربي ص ١١٢



#### د - المشكلات التي تعاني منها الزراعة في الوطن العربي



٣- نقص موارد المياه      ٢- ارتفاع نسبة ملوحة التربة      ١- اتباع الأساليب القديمة في الزراعة

### ثالثاً : عرف مصطلح الغلات النقدية ص ١١٢

الغلات التي تدخل في الصناعة وتزرع بغرض التجارة والحصول على النقد

### رابعاً : علل لما يلي :

١- تعتبر الحبوب الغذائية من أهم المزروعات في الوطن العربي ص ١١٢

لأنها تشغل مساحة كبيرة من الأراضي المزروعة ولتأثير كمية الأمطار على الإنتاج

### خامساً : فرق بين كل من

أمثلة (أنواع)	الحبوب الغذائية	الغلات النقدية	الفواكه والخضار
الأرز / الشعير / القمح / الذرة	قصب السكر / القطن / شندر / البن / زيتون	الموز / التمر / العنب / الحمضيات	

الدول العربية	سوريا	مصر	المغرب	العرب	القمح	الشعير	الموز	البن	التمر
السعودية									



حدد على الخريطة	المغرب	مصر	السعودية
أكثر دولة في إنتاج الشعير			
الأولى في إنتاج القمح / القطن / الأرز / الذرة / الموالح			
إنتاج التمر			





### أولا : أكمل العبارات التالية بما يناسب فيما درست :

- ١- أكثر أنواع الثروة الرعوية انتشارا في الوطن العربي يسمى ( الأغنام ) ص ١١٨  
٢- الدولة التي تحتل ثلث الانتاج العربي من الاسماك اسمها ( مصر ) ص ١٢٢  
٣- تمتلك الصومال ٦,٦٪ من ثروة أسماكها ( الابل ) ص ١١٩

### ثانيا : عدد مايلي :

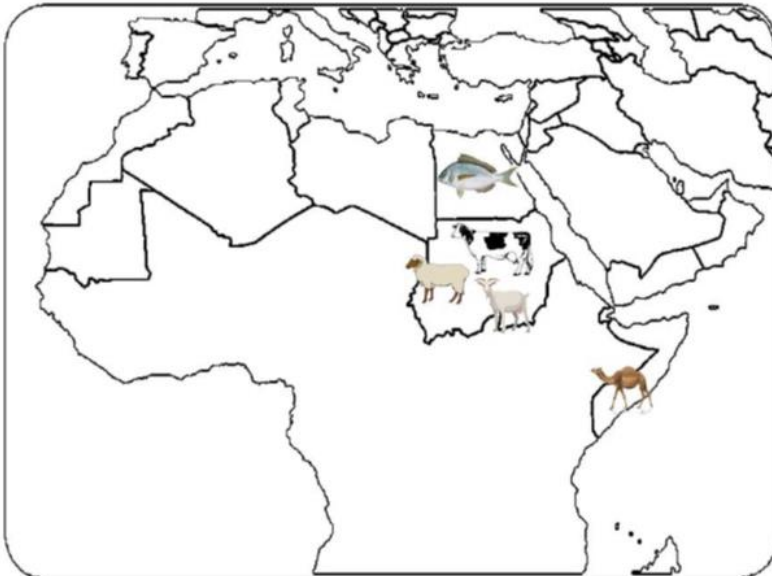
- ١/ أهمية الثروة الحيوانية ص ١١٧  
أ- تساهم في مصادر الدخل  
٢/ أنواع الثروة الرعوية بالوطن العربي . ص ١١٨  
أ- الأغنام ب- الماعز ج- الابل د- الابقار  
٣/ الأسباب التي جعلت الأغنام العربية تحتل المكانة الهامة ضمن الثروة الرعوية ص ١١٨  
أ- كثرة انتشار في المراعي ب- ملائمة للمراعي العربية وتتحمل الجفاف  
ج- اهمية منتجاتها د- مصدر أساسي من مصادر الثروة  
٤/ الوسائل التي تجعل الثروة الحيوانية قابلة للزيادة والنمو ص ١١٧  
رعاية الانسان لها - وتنظيم استغلالها وتحسين أنواعها وإعداد الغذاء الكافي لها

### ثالثا : عدد أنواع الثروة الرعوية

الابقار - الأغنام - ماعز

### رابعا : علل ( اذكر السبب )

- تتنوع الثروة المائية في الوطن العربي ص ١٢٢  
لأنها دول بحرية لها سواحل ومسطحات مائية واسعة منها المالح ومنها العذبة



حدد على الخريطة	
السودان	الأولى في انتاج الماعز والأغنام والابقار
الصومال	الأولى في انتاج الابل
مصر	الأولى في انتاج السمك