

اختبار تجريبي (1) للصف الأول الابتدائي

في مادة العلوم

الاسم:

الصف:

السؤال الأول: ضع علامة (v) للعبارة الصحيحة وعلامة (x) للعبارة غير الصحيحة في كل مما يأتي:

4



()

1- الشمس مصدر للحرارة نهاراً





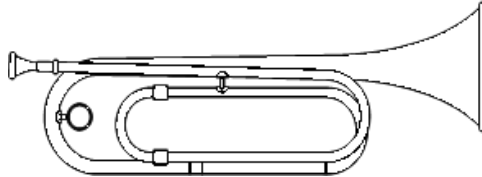
()

2- المصباح لا يصدر ضوء



السؤال الثاني: صل الصورة من القائمة (أ) بما يناسبها من القائمة (ب) :-

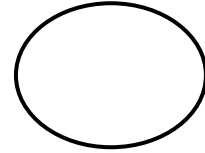
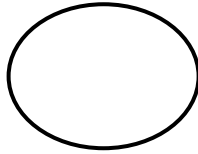
2

قائمة (ب)	قائمة (أ)
	حرارة
	صوت

السؤال الثالث : حوِّط مصادر الضوء في الرسم التالي :

2

السؤال الرابع: ارسم  للتصرف الصحيح و  للتصرف غير الصحيح لما يلي :



2

10

الدرجة