

العام الدراسي ٢٠٢٢-٢٠٢٣ م

الفصل الدراسي الثاني



وزارة التربية

الإدارة العامة لمنطقة مبرك الكبير التعليمية

مدرسة الصالحية متوسطة بنات

قسم الاجتماعيات

الأسم

الصف

مذكرة أسئلة تقويمية للفصل الدراسي الثاني

الدراسات الاجتماعية دولة الكويت والعالم الإسلامي

الصف الثامن



رئيسة القسم

أ / وضحة المتلقم

إعداد المعلمة

هالة السويلم

الطبعة الأولى



درس: (المشكلات البيئية في دول العالم الإسلامي)

1- التلوث البيئي

السؤال الأول :- أكمل العبارات التالية بما يناسبها من إجابات :-

- ١- أي تغير غير مرغوب به في الخواص الكيميائية أو البيولوجية للبيئة المحيطة يسمى
- ٢- ظهرت مشكلة التلوث البيئي مع بداية الثورة
- ٣- العام الذي شهد إنشاء شرطة البيئة في دولة الكويت هو

السؤال الثاني : وزع مصادر التلوث البيئي التالية حسب مكانها الصحيح في الجدول التالي :

(الانفجارات النووية – البراكين – الغبار – التطور الصناعي -النفائات- الحروب)

مصادر بشرية	مصادر طبيعية
.....
.....
.....
.....





درس: (المشكلات البيئية في دول العالم الإسلامي)

١- التلوث البيئي أ- التلوث الهوائي

السؤال الأول : صحح ماتحته خطأ في العبارات التالية بكتابة الإجابة الصحيحة بين الأقواس:-

١- أخطر أنواع التلوث هو التلوث الضوضائي (.....)

٢- الدولة الإسلامية التي تعاني من نسبة تلوث هوائي تبلغ ٤٠% هي السودان (.....)

السؤال الثاني : علل لما يلي :-

١- يعتبر التلوث الهوائي في ماليزيا خطراً كبيراً على الشعب

.....

٢- التلوث الهوائي من آخر أنواع التلوث البيئي

.....

السؤال الثالث :

- اذكر اثنين من النتائج المترتبة علي التلوث الهوائي

.....-

.....-





درس: (المشكلات البيئية في دول العالم الإسلامي)

١- التلوث البيئي ب- التلوث المائي

السؤال الأول :-

١- أكمل المخطط الزمني التالي حسب المطلوب منك :

مراحل التلوث المائي في دولة الكويت

عام.....م عام 2001م عام.....م
(سكب كميات كبيرة من النفط في المياه) (ضخ مياه المجاري في جون الكويت) (تكرار ضخ مياه المجاري في جون الكويت)

٢-السؤال الثاني:- عدد اثنين لكل مما يلي:

(أ) - الآثار الناتجة من حرق أبر النفط علي البيئة في دولة الكويت

١-.....

٢-.....

(ب) -الآثار السلبية للتلوث المائي

١-.....

٢-.....

٣-السؤال الثالث :- علل لما يلي :

(أ) - التلوث المائي من أخطر أشكال التلوث البيئي

.....

(ب) - عانت موريتانيا من شدة التلوث المائي في عام ٢٠١٧م

.....



درس: (المشكلات البيئية في دول العالم الإسلامي)

١- التلوث البيئي (ج- التلوث الضوضائي د- تلوث التربة)

السؤال الأول :- أكمل العبارات التالية بما يناسبها من إجابات :

- ١- المدينة الإسلامية التي توجد بها أكبر نسبة تلوث ضوضائي تسمى
- ٢- الأزعاج أو الضجيج تعريف لمصطلح يسمى
- ٣- زحف رمال الصحراء على المناطق الجافة وشبه الجافة يعرف بأسم
- ٤- العام الذي عقد فيه مؤتمر الأمم المتحدة لمشكلة التصحر هو
- ٥- السبب الأساسي لزيادة مشكلة التصحر هو

السؤال الثاني :- صنف الدول التالية حسب مكانها الصحيح في الجدول الذي يليها :-

(الكويت - لبنان - مصر - السنغال - جيبوتي - السعودية - العراق - السودان)

نسبة التصحر ٩٠٪	نسبة التصحر من ١٠-٥٠٪

السؤال الثالث :- فرق بين كل مما يلي من حيث النتائج :-

تلوث التربة	التلوث الضوضائي
١-	١-
٢-	٢-





درس: (المشكلات البيئية في دول العالم الإسلامي)

٢-تحديات بيئية أخرى (أ- الاحتباس الحراري ب- النفايات)

السؤال الأول :- صحح ماتحته خط في العبارات التالية بكتابة الإجابة الصحيحة بين الأقواس :


- ١-الغاز الأول المسبب لظاهرة الاحتباس الحراري النيتروجين (.....)
- ٢-إجتاح إعصار غونو سواحل الجمهورية الإيرانية و الصومال (.....)
- ٣-السبب الرئيسي لأعصار غونوعام ٢٠٠٧ م النفايات (.....)



السؤال الثاني :- قارن بين الاحتباس الحراري والنفايات حسب المطلوب منك

في الجدول التالي :-

وجه المقارنة	الاحتباس الحراري	النفايات
التعريف
الأسباب
النتائج	١-..... ٢-.....	١-..... ٢-.....



السؤال الثالث : لاحظ الشعار ثم أجب عن الأسئلة التالية :-

١-اذكر أسم الشعار

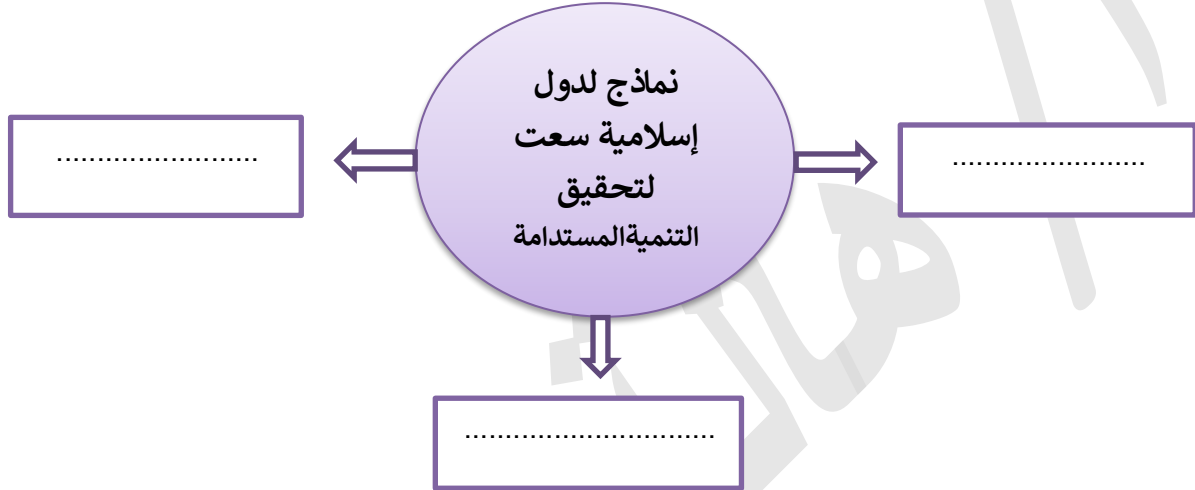
٢-التعريف



درس: (المشكلات البيئية في دول العالم الإسلامي)

3-العالم الإسلامي في مواجهة التحديات البيئية

السؤال الأول : أكمل الشكل التالي :-



السؤال الثاني : صنف الدول التالية على حسب مكانهم الصحيح في الجدول التالي :-

(الكويت – السعودية – مصر)

انتجت الكهرباء من الطاقة الشمسية وشاركت بثلاث الإنتاج في شبكة الكهرباء الوطنية	عام ٢٠٠٧م تم تشغيل اول محطة كهرباء تعمل بالطاقة الشمسية	قامت بتشغيل مدرسة بالطاقة الشمسية

السؤال الثالث : علل لما يلي :-

-اتجهت كثير من الدول الإسلامية إلى برامج التنمية المستدامة

.....

السؤال الرابع :

عرف التنمية المستدامة

.....



ثانياً: التحديات الاقتصادية التي تواجه دول العالم الإسلامي

درس - ١ - الانفجار السكاني ٢ - الفقر

السؤال الأول :- أكمل الفراغات التالية بما يناسبها من إجابات :-

- ١- الدولة الإسلامية التي تحتل المرتبة الأولى في نسب الفقر في العالم الإسلامي تسمى
- ٢- يبلغ عدد سكان دولة الكويت نسمة
- ٣- الزيادة الكبيرة في أعداد السكان تسمى
- ٤- الدولة الإسلامية التي تحتل المرتبة الأخيرة في نسب الفقر في العالم الإسلامي تسمى


السؤال الثاني : فرق بين كل مما يلي حسب المطلوب في الجدول التالي :-

تعريف الفقر	تعريف خط الفقر
.....
.....
.....

أسباب المشكلة السكانية	أسباب مشكلة الفقر
١-	١-
٢-	٢-

السؤال الثالث : ارسم نسبة سكان العالم الإسلامي التي تعاني من خط الفقر

على الدائرة البيانية التالية :-





ثانياً: التحديات الاقتصادية التي تواجه دول العالم الإسلامي

درس - (٣ - العولمة الاقتصادية ٤ - التكامل الاقتصادي في العالم الإسلامي)

السؤال الأول :- أكتب المفهوم أو لمصطلح العلمي الذي يدل على العبارات التالية :

المفهوم	التعريف
.....	مجموع الدخل المكتسب في بلد ما خلال فترة زمنية معينة
.....	الفرق بين قيمة الصادرات والواردات في الدولة
.....	الدول التي مازالت أقل تقدماً في ميادين الاقتصاد والعلم والتكنولوجيا

السؤال الثاني :- أكمل الشكل التالي بأسباب قلة مستوى نصيب الفرد من الدخل القومي

في أغلبية دول العالم الإسلامي :-

..... + + = قلة نصيب الفرد من الدخل القومي



السؤال الثالث :- فرق بين كل مما يلي من حيث التعريف :-

العولمة	التكامل الاقتصادي
.....
.....





ثالثاً : التحديات السياسية التي تواجه دول العالم الإسلامي

درس - 1- مشكلة الحدود السياسية

أ- أزمة الحدود السياسية بين دولة الكويت والعراق

السؤال الأول:- أكمل المخطط السهمي التالي :-

أنواع الحدود السياسية

٢-

١-

السؤال الثاني:- اختر من المجموعة (أ) ما يناسبها للمجموعة (ب) بوضع الرقم الصحيح في المكان

المناسب :-

الرقم	المجموعة (أ)	الرقم الصحيح	المجموعة (ب)
١	إدعاءات حاكم العراق بالحقوق التاريخية للعراق في الكويت		١٩٧٣ م
٢	الهجوم على مركز الصامته الحدودي		١٩٦١ م
٣	الغزو العراقي على دولة الكويت		١٩٢٢ م
٤	اصدارت هيئة الأمم القرار 833 لترسيم الحدود بين الكويت والعراق		١٩٦٠ م
٥	مؤتمر العقير		١٩٩٠ م
			١٩٩٣ م

السؤال الثالث : عرف

الحدود

السؤال الرابع :- علل

- عقد مؤتمر العقير عام 1922م

.....



ثالثاً : التحديات السياسية التي تواجه دول العالم الإسلامي

درس - ١- مشكلة الحدود السياسية ب - قضية فلسطين

السؤال الأول :- ضع خط تحت الخيار الصحيح من بين الخيارات التي تلي كل عبارة :-

- ١- بدأت الهجرات اليهودية إلى دولة فلسطين بعد الحرب :
أ- العالمية الأولى ب- البوسنة والهرسك ج- العالمية الثانية د- تحرير الكويت
- ٢- أصدرت هيئة الأمم المتحدة قرار بتقسيم دولة فلسطين إلى قسمين عربي ويهودي عام :
أ- ١٩٤٥ م ب- ١٩٤٦ م ج- ١٩٤٧ م د- ١٩٤٨ م
- ٣- عام ١٩٤٨ توسع الكيان الصهيوني واحتل الأراضي الفلسطينية بنسبة :
أ- ٦٠٪ ب- ٧٠٪ ج- ٨٠٪ د- ٩٠٪
- ٤- الدولة التي استضافت مؤتمر قمة التضامن مع الشعب الفلسطيني في غزة عام ٢٠٠٩ م :
أ- الكويت ب- المغرب ج- الأردن د- السعودية
- ٥- احتل الكيان الصهيوني غزة والقدس الشرقية وأجزاء من الدول العربية في حرب يونيو عام :
أ- ١٩٦٦ م ب- ١٩٦٧ م ج- ١٩٦٨ م د- ١٩٦٩ م



السؤال الثاني :- من أنا

- ١- أنا الملك
- ٢- الحاكم السابق لدولة
- ٣- اذكر موقعي تجاه القضية الفلسطينية في قمة الأقصى عام ٢٠٠٠ م
-
-



ثالثاً : التحديات السياسية التي تواجه دول العالم الإسلامي

٢- مشكلة الأقليات الإسلامية

السؤال الأول :أكمل المخطط السهمي التالي:

تكونت الأقليات الإسلامية عن طريق

١- هجرة بعض المسلمين إلى أرض غير مسلمة

٢--٢

السؤال الثاني :لاحظ الخرائط التالية ثم أجب عن الأسئلة التالية:



١- تمثل الخريطة قضية مسلمي

٢- تمثل الخريطة قضية مسلمي

السؤال الثالث :- فرق بين كل مما يلي في الجدول التالي:

التحديات التي تواجه الأقليات المسلمة	الحلول الإسلامية المقترحة للأقليات المسلمة
١-	١-
.....
٢-	٢-

السؤال الرابع : عرف

.....-الأقليات المسلمة

ثالثاً : التحديات السياسية التي تواجه دول العالم الإسلامي



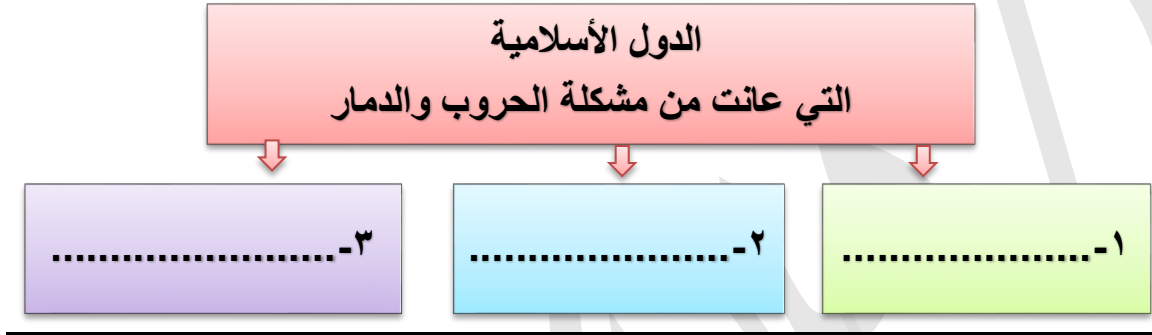
٣- مشكلة الحروب والدمار (نماذج من دول العالم)

ب- الصومال

أ - البوسنة والهرسك



السؤال الأول : - أكمل المخطط السهمي التالي :-



السؤال الثاني :- أكمل العبارات التالية بما يناسبها من إجابات :

- ١- العام الذي شهد بداية الحرب الأهلية في الصومال هو
- ٢- الدولة التي قامت بإبادة المسلمين وتعذيبهم في حرب البوسنة والهرسك تسمى
- ٣- بلغ عدد المسلمين الذي تم إبادتهم في حرب البوسنة والهرسك مسلم

السؤال الثالث : علل لما يلي :

- تحي جمهورية البوسنة والهرسك من كل عام ذكرى إغلاق معسكر أومارسكا

.....

السؤال الرابع :- اذكر

- الآثار المترتبة على الحرب الأهلية في الصومال

.....



ثالثاً : التحديات السياسية التي تواجه دول العالم الإسلامي

٣- مشكلة الحروب والدمار (نماذج من دول العالم)

ج- دولة الكويت

السؤال الأول : أكمل العبارات التالية بما يناسبها من إجابات :-

- ١- المدة التي استغرقت في إطفاء الآبار النفطية المشتعلة في دولة الكويت تبلغ يوماً
- ٢- بدأ العمل على إطفاء الآبار المشتعلة في تاريخ م
- ٣- بلغ عدد الآبار النفطية المشتعلة في دولة الكويت بئراً
- ٤- حاكم الكويت الذي تم في عهده إطفاء آبار النفط المشتعلة هو الشيخ

السؤال الثاني : اختر من المجموعة (أ) ما يناسبها للمجموعة (ب) بوضع الرقم الصحيح

في المكان المناسب :-

الرقم	المجموعة (أ)	الرقم الصحيح	المجموعة (ب)
١	الغزو العراقي على دولة الكويت		٦ نوفمبر ١٩٩١ م
٢	عاصفة الصحراء		٢٦ فبراير ١٩٩١ م
٣	تحرير دولة الكويت		١٧ يناير ١٩٩١ م
٤	إطفاء اخر بئر نفطي		٢ أغسطس ١٩٩٠ م
			١١ مارس ١٩٩١ م

السؤال الثالث: برهن على صحة العبارة التالية:

(بذلت المقاومة الكويتية دورًا كبيرًا أثناء الغزو العراقي الغاشم)

.....

.....





رابعاً : التحديات الاجتماعية والثقافية التي تواجه دول العالم الإسلامي
١- مشكلة إدمان المخدرات

السؤال الأول :- أكمل المخطط السهمي التالي :



السؤال الثاني : أذكر آثار إدمان المخدرات على صحة الإنسان

١-
٢-

السؤال الثالث :

- عدد اثنين من أسباب الإدمان

١-
٢-





رابعاً : التحديات الاجتماعية والثقافية التي تواجه دول العالم الإسلامي

٢- مشكلة الأمية

السؤال الأول :- أكتب المفهوم الذي يدل على العبارات التالية :

المفهوم	التعريف
.....	الإنسان الذي بلغ الثانية عشر ولم يتعلم مبادئ القراءة والكتابة والحساب بلغة ما
.....	الشخص الذي لم يصل إلى المستوى التعليمي الذي يجعله يفهم التعليمات الكتابية في موضوعات التقنية في عمله

السؤال الثاني : لاحظ الجدول الاحصائي التالي والذي يمثل مجموع معدلات محو الأمية لبعض الدول


الدول الإسلامية ثم أجب عن الأسئلة التالية :

الدولة	إندونيسا	كازاخستان	اليمن	النيجر	أذربيجان
المجموع	99,88	99,97	70,07	19,13	99,82

- اذكر أسم أعلى دولة إسلامية في معدل محو الأمية
- اذكر أسم أقل دولة إسلامية في معدل محو الأمية
- حول مجموع معدلات محو الأمية في بعض الدول الإسلامية إلى رسم بياني

السؤال الثالث :- حدد نسبة معدل إلمام البالغين القراءة والكتابة

في دولة قطر على الدائرة البيانية التالية :



الوحدة الرابعة: منظمة التعاون الإسلامي ودور دولة الكويت في التعايش الأنساني



أولاً: منظمة التعاون الإسلامي والأجهزة التابعة لها
١- الدعوة لإنشاء منظمة تجمع الدول الإسلامية

السؤال الأول :- أكمل العبارات التالية بما يناسبها من إجابات :

- ١- المدينة الإسلامية التي يقع بها مقر منظمة التعاون الإسلامي تسمى
- ٢- العام الذي شهد تغيير مسمى منظمة المؤتمر الإسلامي إلى المسمى الحالي هو م
- ٣- يبلغ عدد الدول الأعضاء في منظمة التعاون الإسلامي دولة
- ٤- العام الذي أحرق فيه الكيان الصهيوني المسجد الأقصى هو م

السؤال الثاني: صحح ماتحته خط في العبارات التالية بكتابة الإجابة الصحيحة ما بين الأقواس:-

- ١- أول من دعا الى تجمع يضم الدول الإسلامية الملك فهد بن عبدالعزيز آل سعود (.....)
- ٢- المدينة التي تم الإعلان بها عن إنشاء منظمة التعاون الإسلامي تونس (.....)
- ٣- إنشأت منظمة المؤتمر الإسلامي في 25 سبتمبر 1966 م (.....)

السؤال الثالث :

- علل إنشاء منظمة التعاون الإسلامي

.....

السؤال الرابع : عرف

..... الدولة الإسلامية





أولاً: منظمة التعاون الإسلامي والأجهزة التابعة لها

٣- أهداف منظمة التعاون الإسلامي ٤- أجهزة منظمة التعاون الإسلامي

السؤال الأول :- ارسم دائرة حول الخيار الصحيح من بين الخيارات التي تلي كل عبارة :-

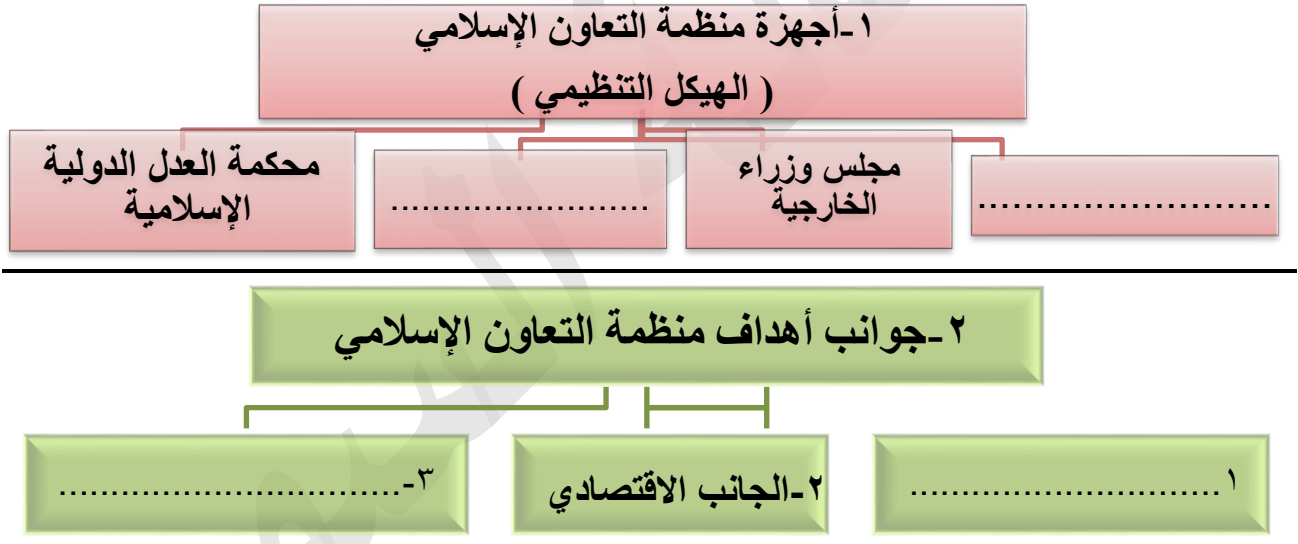
١- يعقد مؤتمر القمة الإسلامي مرة كل:

أ- سنة ب- سنتين ج- ثلاث سنوات د- أربع سنوات

٢- يترأس الأمين العام لمنظمة التعاون الإسلامي الأمانة العامة لمدة :

أ- ثلاث سنوات ب- أربع سنوات ج- خمس سنوات د- ست سنوات

السؤال الثاني : أكمل المخططات السهمية التالية :-



السؤال الثالث : فرق بين كل مما يلي :-

الهدف الثقافي والاجتماعي لمنظمة التعاون الإسلامي	الهدف الاقتصادي لمنظمة التعاون الإسلامي
١-	١-
٢-	٢-

السؤال الرابع :

أذكر مبادئ منظمة التعاون الإسلامي

١- ٢-



منظمة التعاون الإسلامي
Organisation of Islamic Cooperation

أولاً: منظمة التعاون الإسلامي والأجهزة التابعة لها

٥- نبذة عن بعض مؤتمرات منظمة التعاون الإسلامي

السؤال الأول : قارن بين مؤتمرات منظمة التعاون الإسلامي من خلال الجدول التالي :-

وجه المقارنة	المؤتمر الإسلامي الأول	المؤتمر الإسلامي الخامس	المؤتمر الإسلامي الثالث عشر
سنة الانعقاد
مكان الانعقاد (الدولة)
أهم القرارات	١- ٢-	١- ٢-	١- ٢-





ثانيا : دور المنظمات والمؤسسات الإسلامية في
مواجهة التحديات التي يمر بها العالم الإسلامي

١ - المنظمات والمؤسسات الإسلامية

السؤال الأول : أكمل العبارات التالية بما يناسبها من إجابات :-



١- المدينة التي يقع بها مقر اللجنة الإسلامية للهلال الأحمر تسمى

٢- العام الذي تأسست به اللجنة الإسلامية للهلال الأحمر هو

السؤال الثاني : قارن بين كل من المنظمات والمؤسسات الإسلامية من خلال الجدول التالي :-

منظمة إيسيسكو	منظمة إينا	وجه المقارنة
		التعريف
.....	
.....	سنة الإنشاء
.....	المقر (المدينة)
.....	الأهداف
.....	

البنك الإسلامي للتنمية	مجمع الفقه الإسلامي	وجه المقارنة
		سنة الإنشاء
.....	
.....	المقر (المدينة)
.....	الأهداف
.....	



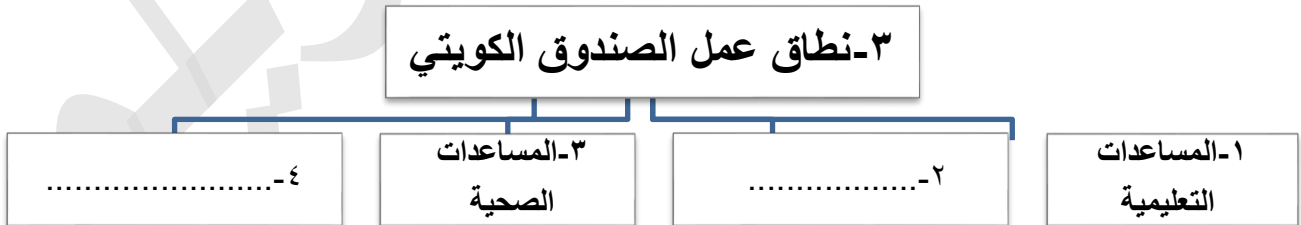
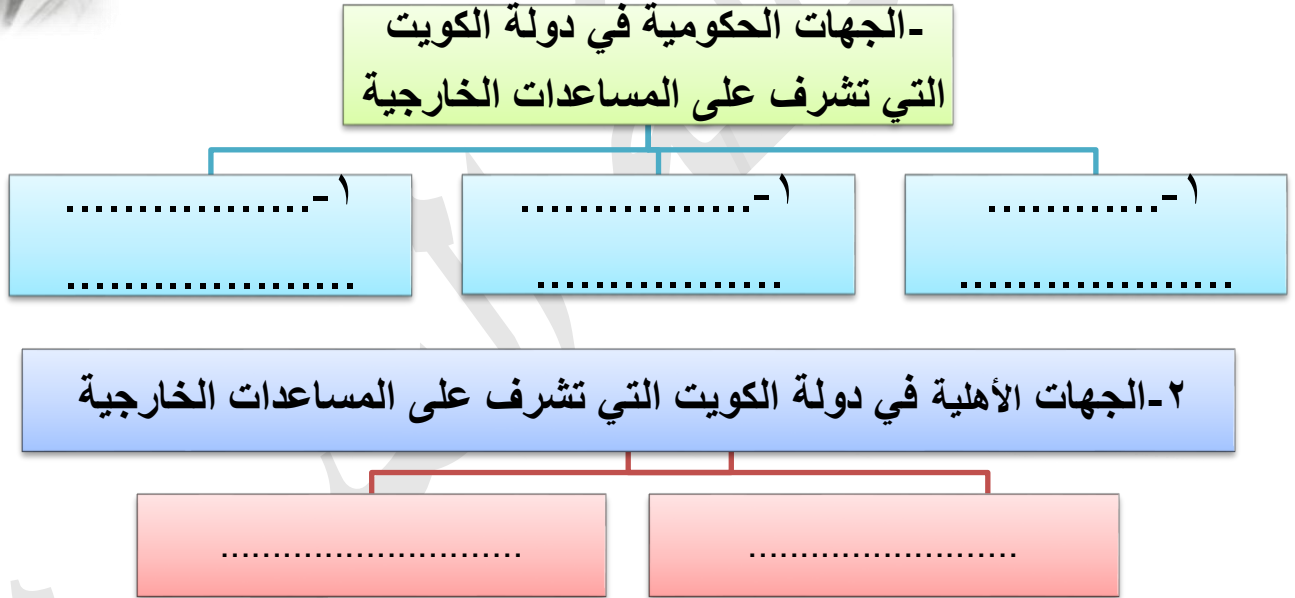
الوحدة الخامسة: دور دولة الكويت في التعايش الإنساني ثانياً : دور دولة الكويت في مساعدة دول العالم الإسلامي



السؤال الأول :- أكمل العبارات التالية بما يناسبها من إجابات :-

- ١- تبلغ نسبة المتحدثين باللغة العربية في العالم الإسلامي %.....
- ٢- صاحب فكرة إنشاء الصندوق الكويتي للتنمية هو الشيخ
- ٣- حاكم الكويت الذي تم في عهده إنشاء الصندوق الكويتي للتنمية هو الشيخ

السؤال الثاني : أكمل المخططات السهمية التالية :



السؤال الثالث : علل إنشاء الصندوق الكويتي للتنمية الاقتصادية (الأهداف)

- ١-
- ٢-






الصندوق الكويتي للتنمية الاقتصادية العربية
منذ 1961
شركاء في التنمية
www.kuafund.org



ثانيا : دور دولة الكويت في مساعدة دول العالم الإسلامي
(الجهات والهيئات الخيرية في دولة الكويت)

السؤال الأول : قارن بين كل من حسب المطلوب منك في الجدول التالي :-

وجه المقارنة			
سنة التأسيس
الأهداف	<p>١.....</p> <p>.....</p> <p>٢.....</p> <p>.....</p>	<p>١.....</p> <p>.....</p> <p>٢.....</p> <p>.....</p>	<p>١.....</p> <p>.....</p> <p>٢.....</p> <p>.....</p>





ثانياً: دور دولة الكويت في مساعدة دول العالم الإسلامي (إستضافة الكويت لمؤتمر المانحين لدعم الأنساني)

السؤال الأول: أكمل الشكل التالي بأحداث مؤتمر

المانحين للوضع الإنساني في سوريا :-



رئيس المؤتمر

.....

عدد الدول المشاركة

.....

مؤتمر المانحين الأول لدعم
الوضع الأنساني

في سوريا

تاريخ الأنعقاد

.....

الهدف من المؤتمر

1-.....

2-.....

المذكرة لا تغني
عن الكتاب
المدرسي



سيكون يوم 9 سبتمبر 2014 يوماً
تاريخياً خالداً يوم تتويج صاحب
السمو قائد الإنسانية في هذا العالم
صفحة جديدة بيضاء تضاف إلى
سجل الكويت الزاهر فتصبح الكويت
بلد الصداقة والسلام ومنارة
للإنسانية بجهود قائدها وريثان
سفينتها .. حفظ الله صاحب السمو
وأطال عمره ...