



العام الدراسي: ٢٠٢٢/٢٠٢٣ م  
الزمن: ساعة وخمسة وأربعون دقيقة  
عدد الأوراق: ( ٦ )

امتحان نهاية الفترة الدراسية الأولى  
لمقرر: الكويت ودول الخليج العربية  
للمصف السادس

وزارة التربية  
الإدارة العامة لمنطقة الجھراء التعليمية  
التوجيه الفني للاجتماعيات

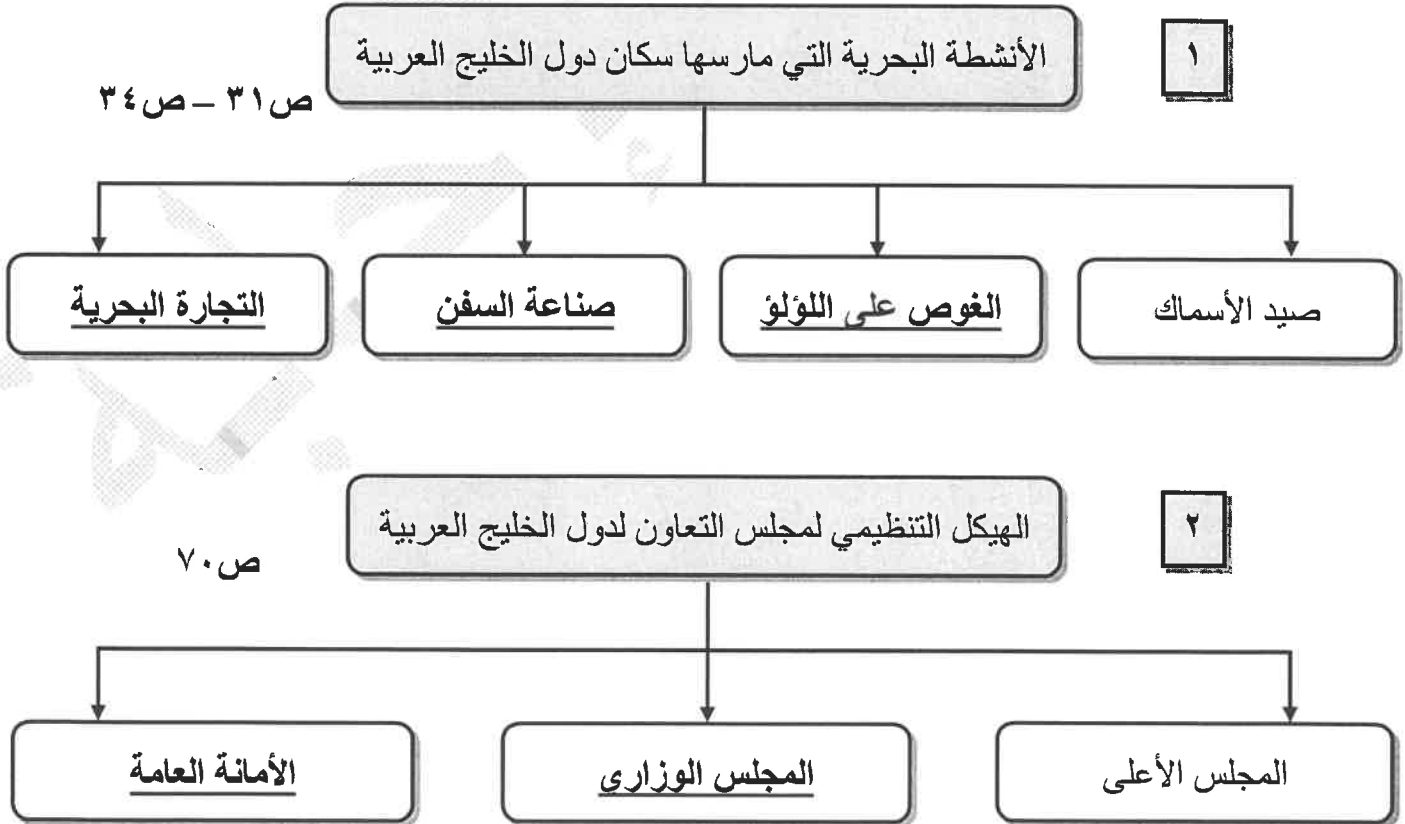
### أجب عن جميع الأسئلة:

\* السؤال الأول ( موضوعي ): ويتكون من ( أ ، ب ، ج ، د ، هـ ، و ، ز ) ( لكل نقطة درجة )

أ- أكمل العبارات التالية بما يناسبها فيما درست:

- ١- الرياح الجنوبية الشرقية التي تهب على منطقة الخليج العربية تسمى الكوس ص ٢٥
- ٢- المياه التي توجد في باطن الأرض تسمى المياه الجوفية ص ٢٨
- ٢- يُطلق على ريان السفينة اسم النوخة ص ٣٢
- ٤- الشيخ الذي في عهده ألغيت معاهدة الحماية التي وقعت مع بريطانيا اسمه عبدالله السالم الصباح ص ٦٣
- ٥- العام الذي حصلت فيه دولة الكويت على استقلالها ١٩٦١م ص ٦٥
- ٦- المدينة التي أعلن فيها قيام مجلس التعاون لدول الخليج العربية تسمى أبوظبي ص ٧٠

ب- أكمل المخططات السهمية التالية:



**تابع / السؤال الأول ( الموضوعي ):**

**ج- أكتب المفاهيم أو المصطلحات الدالة على العبارات التالية:**

م	المفهوم	العبرة
١	<u>الخليج العربي</u>	ذراع مائي لبحر العرب يمتد من خليج عمان جنوباً حتى شط العرب شمالاً. ص ١٩
٢	<u>الموقع النسبي</u>	الموقع بالنسبة للماء واليابس. ص ٢٠
٣	<u>الواحة</u>	منطقة تقع في الصحراء فيها مياه عذبة صالحة للزراعة. ص ٢٩
٤	<u>الاستقلال</u>	تحرر الدولة من المستعمر الأجنبي وقيامها بمسؤولية إدارة شؤونها الداخلية والخارجية. ص ٦٣
٥	<u>الديمقراطية</u>	حكم الشعب لنفسه. ص ٦٤

**د- ظلل الخيار الصحيح من بين الخيارات التي تلي كل عبارة:**

١- عدد خطوط الطول التي تمتد خلالها منطقة الخليج العربي: ص ١٩

خط ٢٣	خط ٢٤	خط ٢٥	خط ٢٦
-------	-------	-------	-------

٢- الاسم الذي يُطلق على صانع السفينة: ص ٣٣

النهام	الطواش	النوخدة	القلاف
--------	--------	---------	--------

٣- أفضل أنواع السفن المستعملة في رحلة السفر لمتانتها وقدرتها على نقل الحمولة الكبيرة: ص ٣٤

البغلة	الجالبوت	البوم	السنبوك
--------	----------	-------	---------

٤- أول دولة أوروبية استعمارية وصلت للخليج العربي واحتلت أجزاء منه: ص ٦٠

فرنسا	الإنجليز	هولندا	البرتغال
-------	----------	--------	----------

٥- العام الذي أعلن فيه قيام المملكة العربية السعودية: ص ٦٥

١٩٣١ م	١٩٣٢ م	١٩٣٣ م	١٩٣٤ م
--------	--------	--------	--------

تابع / السؤال الأول ( الموضوعي ):

هـ - ظلل الحرف ( أ ) إذا كانت العبارة صحيحة وظلل الحرف ( ب ) إذا كانت العبارة خاطئة:

م	العبارة	( أ )	( ب )
١	تقع منطقة الخليج العربية بالنسبة لقارة آسيا في الجهة الجنوبية الغربية. ص ١٩	أ	ب
٢	تاجر اللؤلؤ يسمى النهام. ص ٣٢	أ	ب
٣	العام الذي حصلت فيه دولة قطر على استقلالها ١٩٧١ م ص ٦٥	أ	ب
٤	المدينة التي اتخذت مقراً لمجلس التعاون لدول الخليج العربية تسمى الدوحة. ص ٧٠	أ	ب
٥	القمة السابعة والعشرون لمجلس التعاون الخليجي تسمى قمة الشيخ جابر الأحمد الصباح. ص ٧٤	أ	ب

و- صنف الكلمات التالية إلى مكانها المناسب في الجدول الذي يليها: ص ٢٦

العرفج

الخبيزة

الصبار

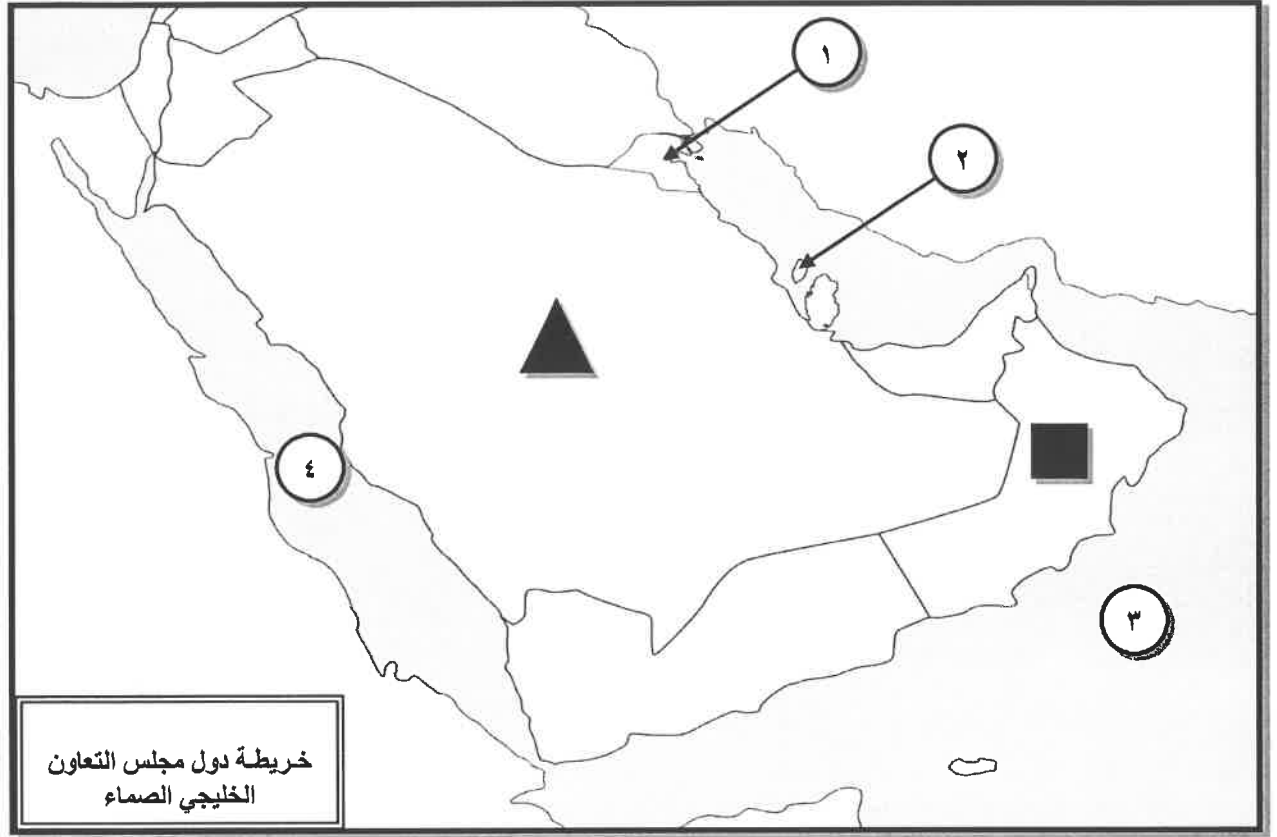
الرمث

الحويذان

النباتات المعمرة	النباتات الحولية
الصبار	الخبيزة
العرفج	الحويذان
الرمث	

**تابع / السؤال الأول ( الموضوعي ):**



**ز- أمامك خريطة دول مجلس التعاون الخليجي الصماء نفذ المطلوب مما يليها:**



**١- أكتب الرقم الدال على العبارات التالية:**

- البحر الأحمر يمثل على الخريطة الرقم ٤ ص ٢٣
- حضارة دلمون يمثلها على الخريطة الرقم ٢ ص ٤٨
- المنطقة التي هاجر إليها العتوب ( آل صباح ) يمثلها على الخريطة الرقم ١ ص ٥٧

**٢- حدد كل مما يلي على الخريطة باستخدام الرموز التالية:**

- الدولة الخليجية التي يوجد بها الجبل الأخضر باستخدام الرمز  ص ٢٣
- الدولة الخليجية الوحيدة التي لم تتعرض للاستعمار باستخدام الرمز  ص ٦٥

**\* السؤال الثاني/ ( مقال ) : يتكون من ( أ ، ب ، ج )**

أ- فرق بين كل مما يلي: ( أربع درجات )

هضبة ص ٢٣	جبل ص ٢٣
أرض مرتفعة سطحها مستوي، وتمتد مساحة كبيرة. ( درجة )	كل مرتفع له قمة لا يقل ارتفاعه عن ١٠٠٠ متر تقريباً. ( درجة )
القفال ص ٣٢	الدشة ص ٣٢
نهاية موسم الغوص. ( درجة )	بداية موسم الغوص. ( درجة )

ب- لاحظ الصورة التي أمامك ثم أجب عن الأسئلة التالية: ص ٧٧



١- ماذا يمثل هذا الشعار؟ ( درجة )

\* شعار مجلس التعاون لدول الخليج العربية.

٢- كم عدد الدول في هذا التنظيم السياسي؟ ص ٧٠ ( درجة )

\* ( ٦ )

ج- عدد ما يلي:

١- الأساليب التي اتبعتها الاستعمار للسيطرة على دول الخليج العربي. ص ٦٠ (درجتان )

\* المعاهدات.

\* الاتفاقيات.

٢- الصفات المشتركة بين دول مجلس التعاون الخليجي. ص ٧٠ ( درجتان ) ( يكتفى بنقطتين )

\* الدين.

\* وحدة التراث.

\* المصالح المشتركة.

\* الانتماء .

٣- أهداف مجلس التعاون لدول الخليج العربية. ص ٧٦ ( درجتان ) ( يكتفى بنقطتين )

\* تحقيق التعاون بين الدول الأعضاء في جميع المجالات.

\* تحقيق الترابط والصلات بين دول مجلس التعاون.

\* العمل على تقدم دول مجلس التعاون في المجال العلمي.

**\* السؤال الثالث/ ( مقال ) : يتكون من ( أ ، ب ، ج )**

**أ- قارن بين كل من: ( أربع درجات )**

أوجه المقارنة	خطوط الطول ص ٢١	دوائر العرض ص ٢١
التعريف	عبارة عن خطوط وهمية أي غير موجودة على سطح الأرض ترسم على الكرة الأرضية وتقسّم الكرة الأرضية إلى قسمين شرقي وغربي.	عبارة عن خطوط وهمية أي غير موجودة على سطح الأرض ترسم على الكرة الأرضية وتقسّم الكرة الأرضية إلى قسمين شمالي وجنوبي.
العدد	٣٦٠	١٨٠

**ب- علل لما يلي :**

١- أهمية موقع منطقة الخليج العربية. ص ١٩ ( درجتان )

- \* تقع في وسط العالم.
- \* تتحكم بأهم طرق التجارة العالمية.

٢- توافر النباتات المعمرة طول العام في دول الخليج العربية. ص ٢٦ ( درجتان )

- \* لأنها تتحمل الجفاف.
- \* لأنها تتحمل ارتفاع درجة الحرارة.

٣- انصرف سكان منطقة الخليج العربية عن حرفة الغوص على اللؤلؤ. ص ٣١ ( درجتان )

- \* بسبب ظهور اللؤلؤ الصناعي.
- \* بسبب اكتشاف النفط.

**ج- عرف المفاهيم التالية: ( درجتان )**

١- قليب أو جليب: يطلق على البئر عند سكان منطقة الخليج العربية. ص ٥١

٢- استعمار: هو أن تسيطر دولة قوية على دولة ضعيفة بهدف استغلال موقعها ومواردها ( خيراتها ). ص ٦١

" انتهت الأسئلة "