

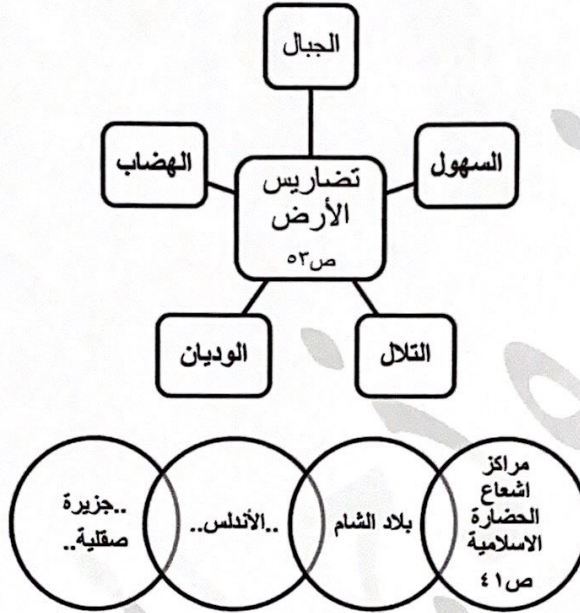


السؤال الأول: موضوعي ويتكون من (أ - ب - ج) :

أ- أكمل الأشكال التالية بما يناسبها مما درست:

$$٦ = ٦ \times ١$$

تم التحميل من شبكة ياكويت التعليمية



$$٦ = ٦ \times ١$$

ب- صنف العلوم التالية في مكانها المناسب في الجدول الذي يليها :

(الرياضيات - الحديث - الفلسفة - التفسير - الفيزياء - الفقه) ص ١٧

العلوم العقلية	العلوم النقلية
- الرياضيات.....	- الحديث.....
- الفلسفة.....	- التفسير.....
- الفيزياء.....	- الفقه.....

$$٣ = ٣ \times ١$$

ج- اكتب المفاهيم أو المصطلحات الدالة على العبارات التالية:

- ١- (.. الحضارة..) كل ما يطرأ على المجتمع من تقدم وتطور ورقي سواء في الجانب المادي أو الجانب الروحي. ص ١٨
- ٢- (.. المسجد الأقصى..) أحد أكبر مساجد العالم وأكثرها قدسية للمسلمين وأول القبلتين في الإسلام. ص ٣٣
- ٣- (.. الغلات النقدية..) المحاصيل التي تزرع من أجل التصدير. ص ٧٣

السؤال الثاني: موضوعي ويتكون من (أ- ب - ج) :

أ- اختر للمجموعة (أ) ما يرتبط بها من المجموعة (ب) بوضع الرقم في المكان المناسب : ٥=٥×١

م	(أ) العلماء المسلمين	الرقم المناسب	(ب) المؤلفات
١	الخوارزمي. ص٣٩	(٤)	- نزهة المشتاق في اختراق الأفاق.
٢	الجاحظ. ص٤٠	(١)	- الجبر والمقابلة.
٣	الرازي. ص٤٠	(٥)	- الصيدلة في الطب.
٤	الشريف الإدريسي. ص٤٢	(٣)	- الحاوي في الطب.
٥	البيروني. ص١٨	(...)	- معجم البلدان.
		(٢)	- كتاب الحيوان.

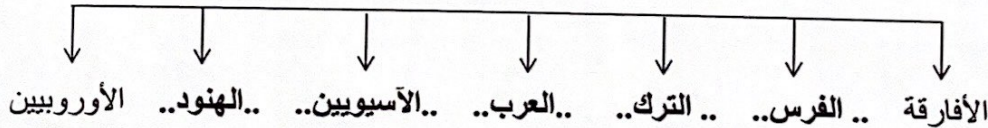
ب- ضع خطاً تحت الخيار الصحيح من بين الخيارات التي تلي كل عبارة: ٥ = ٥ × ١



- ١- الصورة التي أمامك تمثل قصر تاريخي يسمى : ص٣٥
(قصر عمره - قصر الحمراء - قصر الرصافة - قصر الخضراء)
- ٢- النسبة المئوية التي تمثل انتاج دول العالم الإسلامي من النفط الخام عالمياً : ص٦٧
(٧١,٥ % - ٦١,٥ % - ٥١,٥ % - ٤١,٥ %)
- ٣- الدولة الإسلامية التي تقع في قارة أمريكا الجنوبية اسمها : ص٥١
(سورينام - البانيا - البوسنة والهرسك - ماليزيا)
- ٤- نبات تستخدم أغصانه في صناعة الحبال والأحذية والحقائب والأقمشة الخشنة يسمى : ص٧٣
(المطاط - القطن - الجوت - الصندل)
- ٥- الخليفة الأموي الذي ضم حجرات الرسول عليه الصلاة والسلام إلى المسجد النبوي اسمه : ص٣٣
(معاوية بن أبي سفيان - المستنصر بالله - عمر بن عبدالعزيز - عبد الملك بن مروان)

ج- أكمل المخطط السهمي التالي بما يناسبه : ٥ = ٥ × ١

• شعوب الحضارة الإسلامية : ص١٨




$$٥ = ٥ \times ١$$

ص ٦٤-٦٥

السؤال الثالث : مقالتي ويتكون من (أ- ب - ج) :

أ- لاحظ الصور التي أمامك ثم أجب على الأسئلة التالية :



١- ما هي عناصر الطقس ؟ (يكتفى بثلاثة نقاط)

- الأمطار.
- درجة الحرارة.
- الرطوبة.
- الضغط الجوي.

٢- فرق بين كلا مما يلي :

الطقس	المناخ
حالة الجو في مكان لمدة قصيرة تتراوح بين يوم أو عدة أيام.	حالة الجو خلال فترة زمنية طويلة.

ب- عدد لكل مما يلي :

$$٦ = ٦ \times ١$$

١- المصادر الطبيعية لإنتاج الأسماك في دول العالم الإسلامي. ص ٧٤ (يكتفى بنقطتين)

- المحيطات.
- البحار.
- المياه العذبة.

٢- مميزات المظاهر العمرانية في الحضارة الإسلامية. ص ٣٠ (يكتفى بنقطتين)

- الأسوار / القباب / المنابر .
- المآذن / الزخارف .

٣- الثروات المعدنية في دول العالم الإسلامي. ص ٧٠ (يكتفى بنقطتين)

- اليورانيوم / الذهب .
- الفضة / النحاس .
- القصدير / الفوسفات / الحديد.

$$٤ = ٤ \times ١$$

ج- علل لما يلي :

١- تنوع المناخ في دول العالم الإسلامي. ص ٦٣ (يكتفى بنقطتين)

- امتداد دول العالم الإسلامي على مساحة شاسعة.
- التنوع في التضاريس من جبال وهضاب وسهول ووديان.
- الإطلالة على عدة مسطحات مائية في معظم أجزائه.
- الموقع بالنسبة لدوائر العرض.

تم التحميل من شبكة ياكويت التعليمية



Telegram:
ykuwait_net_home

٢- تدين أوروبا بالفضل الكبير للحضارة الإسلامية. ص ٤٢

- لأنها السبب في النهضة الصناعية والعلمية الأوروبية الحديثة .

٣- تسمية مرتفعات الحجاز بهذا الاسم. ص ٥٥

- لأنها تحجز سهل تهامة في الغرب عن هضبة نجد في الشرق.

$$3 = 3 \times 1$$

السؤال الرابع : مقالتي ويتكون من (أ - ب - ج) :

أ- عرف المفاهيم التالية :

- ١- الخراج : ضريبة الأرض الزراعية التي تخرج مبلغاً مالياً معيناً من ناتج المحصول الزراعي . ص ٢٨
- ٢- القصور : مقر الحاكم والمكان الذي يضم المؤسسات الإدارية كالوزارة والدواوين وأحياناً تكون قصوراً صحراوية لتتزه الخلفاء. ص ٣٤
- ٣- احتياطي النفط : كمية النفط المخزونة في باطن الأرض ولم تستخرج بعد . ص ٦٨

$$6 = 6 \times 1$$

ب- اذكر ما يلي:


- ١- العوامل التي ساعدت على زيادة الإنتاج الزراعي في دول العالم الإسلامي. ص ٧٢ (يكتفى بنقطتين)
- التربة الخصبة / المناخ / كثرة السكان والأيدي العاملة.
- وجود البحيرات والآبار والأنهار / سقوط الأمطار .
- ٢- أهمية السهول . ص ٥٨ (يكتفى بنقطتين)
- تستخدم كموانئ طبيعية . - تشييد المدن . - تركيز السكان فيها لسهولة التنقل.
- ٣- خصائص الحضارة الإسلامية. ص ٢٢-٢٣ (يكتفى بنقطتين)
- حضارة تسامح. - حضارة إيمان وعمل. - حضارة شمولية.
- حضارة إنسانية. - حضارة عالمية.

$$6 = 6 \times 1$$

ج- اقرأ الفقرة التالية ثم أجب عما يليها من أسئلة :

تختلف التضاريس في العالم الإسلامي كالجبال التي تشكل مظهرها واضحا من مظاهره التضاريسية حيث تتواجد في قارات العالم مثل جبال الأحجار في الجزائر وجبال عسير والحجاز في المملكة العربية السعودية وغيرها. وقد لعبت الجبال دوراً هاماً في الظروف المناخية والحياة البشرية.

- ١- عرف ما تحته خط .
- التضاريس : هي أشكال سطح الأرض. ص ٥٣
- ٢- اذكر اثنين من جبال دول العالم الإسلامي. ص ٥٤
- جبال الأحجار. - جبال عسير والحجاز .
- ٣- علل : قلة عدد السكان في المناطق الجبلية. ص ٥٥ (يكتفى بنقطتين)
- شدة انحدارها. - قلة وجود الأكسجين.
- انخفاض الضغط الجوي. - صعوبة التنقل.
- ٤- ارسم العمود الدال على أقل ارتفاع لقمة الجبل. ص ٥٣



تم التحميل من شبكة ياكويت التعليمية



انتهت الأسئلة.....مع تمنياتنا لكم بالنجاح والتوفيق