

نموذج الإجابة للاختبار التحصيلي (٢) التجريبي
للفيف الثاني الابتدائي
للعام الدراسي (٢٠٢٣ / ٢٠٢٢)

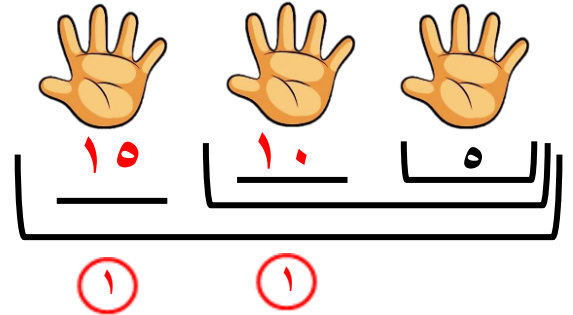
الاسم : _____ الصف :- ٢ /

• السؤال الأول:-

(١) * أكمل:-

الوحدة السادسة

بند ٦ - ١



الوحدة السابعة


بند ٧ - ٢

$$\frac{\boxed{5}}{5} = \frac{3}{1} \times \frac{3}{1}$$

(ب) عبارة الضرب المناسبة:-

الوحدة السابعة

بند ٧ - ٢



$$\frac{6}{1} = \frac{2}{1} \times \frac{3}{1}$$

(٢) (أ) عدد كل العناصر:-

الوحدة السادسة

بند ٦ - ٣



$$\frac{6}{1} = 3 + 3$$

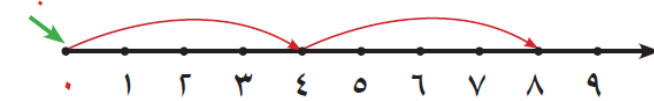
الوحدة السابعة

بند ٧ - ٣

(ج) باستخدام خط الأعداد ٨ = ٢ × ٤

$$\frac{8}{1}$$

ابداً



$$\frac{\boxed{5}}{5}$$

(٣) (أ) العدد الناقص هو :-

الوحدة السادسة
بند ٦ - ٢

٣ ٤	٣ ٣	٣ ٢	٣ ١
-----	-----	-----	-----

(ب) أوجد الناتج :-

الوحدة السابعة بند ٧ - ٤ (١) $\frac{4}{1} = 2 \times 2$

الوحدة السابعة بند ٧ - ٥ (١) $\frac{6}{1} = 3 \times 2$

الوحدة السابعة بند ٧ - ٧ (١) $\frac{5}{1} = 5 \times 1$

الوحدة السابعة بند ٧ - ٧ (١) $\frac{6}{1} = 1 \times 6$

٥

السؤال الثاني :-

* صل :-

الوحدة السادسة بند ٦ - ١

(١) ٩ ، ٦ ، ٤ ، ٢ $\frac{8}{1}$

الوحدة السادسة بند ٦ - ٣

(١) ٩ = ٣ + ٣ + ٣

الوحدة السابعة بند ٧ - ٥

(١) ١٠ = ٥ × ٢

الوحدة السابعة بند ٧ - ٧

(١) ١ = ١ × ١

الوحدة السابعة بند ٧ - ٧

(١) ٨ = ٤ × ٢

٥