

وزارة التربية  
الإدارة العامة لمنطقة الفروانية التعليمية  
مدرسة رقية بنت محمد  
قسم الاجتماعيات



# بنك أسئلة الصف السابع الكويت والوطن العربي

٢٠٢٢-٢٠٢١

متابعة: بدور الفجي / كفاية البغيلي  
رئيسة القسم: أ. جليلة الدغيم  
الموجهة الفنية: أ. هيفاء مال الله  
مديرة المدرسة: أ. بدرية الهدبة



- ١ - أكمل العبارات التالية بما يناسبها فيما درست :
- ١ - يمتد الوطن العربي بين قارتي آسيا وأفريقيا
- ٢ - تبلغ مساحة الوطن العربي حوالي ١٣,٥٠٠ مليون كم٢
- ٣ - تبلغ مساحة الوطن العربي بالنسبة لمساحة العالم نحو ١٠٪
- ٤ - اللغة الرسمية للدول العربية تسمى اللغة العربية.
- ٥ - الدين الذي يجمع الدول العربية هو الدين الاسلامي
- ٦ - انضمت جمهورية جزر القمر الى جامعة الدول العربية ١٩٩٣
- ٧ - أكبر الدول العربية في الجناح الآسيوي هي السعودية وأصغرهم هي البحرين
- ٨ - أكبر الدول العربية في الجناح الأفريقي هي الجزائر وأصغرهم هي جزر القمر.
- ٩ - الدولة العربية الأفريقية التي انضمت إلى الجامعة العربية في عام ١٩٩٣ اسمها جمهورية جزر القمر
- ١٠ - الدولة العربية الأفريقية التي عاصمتها موروني اسمها جمهورية جزر القمر
- ١١ - المسطح المائي الذي يفصل بين الجناح الآسيوي والجناح الأفريقي لدول الوطن العربي اسمه البحر الأحمر
- ١٢ - المسطح المائي الذي يحد الوطن العربي من جهة الغرب اسمه المحيط الأطلسي
- ١٣ - يشكل سكان الوطن العربي بالنسبة لسكان العالم تقريبا حوالي ٥٪
- ١٤ - أكثر الاشكال التضاريسية انتشارا في الوطن العربي اسمها الهضاب
- ١٥ - تعرف الحشائش المعتدلة ( الاستبس ) في بلاد المغرب باسم الحلقا
- ١٦ - يرتبط وجود الأبار الجوفية في المناطق الصحراوية بوجود الواحات
- ١٧ - أصبحت دولة الكويت تعتمد اعتمادا كاملا على تحلية مياه البحر منذ بداية عام ١٩٥٣
- ١٨ - يختلف نوع حشائش السافانا حسب كمية الأمطار.
- ١٩ - الكويت أكثر الدول في نسبة استخدام للمياه المحلاة وتبلغ ٥٥٪
- ٢٠ - نزل القرآن الكريم على سيدنا محمد صلى الله عليه وسلم عام ٦١٠ م في مكة المكرمة
- ٢١ - للحضارة العربية الإسلامية فضل كبير في إثراء الحضارة الأوروبية منذ القرن العاشر الميلادي

## حفز نفسك



إهداء من قسم الاجتماعيات  
مدرسة رقية بنت محمد المتوسطة بنات  
نسألكم الدعاء

## إهداء من قسم الاجتماعيات

مدرسة رقية بنت محمد المتوسطة بنات

نسألكم الدعاء

## ٢) اكتب المفاهيم أو المصطلحات الدالة على العبارات التالية :

نقطة مهمة

المفهوم	العبرة
١. الوطن العربي	مجموعة من الدول العربية التي يجمعها عدد من السمات المشتركة ويمتد ضمن قارتين من أكبر قارات العالم مساحة
٢. الموقع الاستراتيجي	٢- (الموقع الاستراتيجي) : أي موقع ذي مكانة مهمة بين دول العالم .
٣. المسطحات المائية	جميع أشكال المياه على سطح الأرض مثل البحار والخلجان والمحيطات والبحيرات والأنهار ..... الخ .
٤. القناة	مجرى مائي صناعي ضيق يشق لأغراض الري أو النقل .
٥. المضيق	ممر مائي ضيق يصل بين بحرين أو محيطين أو مساحتين كبيرتين نسبياً من الماء .
٦. الموقع الفلكي	هو نقطه من الكره الأرضية يتحدد موقعها بخطوط الطول ودوائر العرض .
٧. الموقع النسبي	موقع الدولة بالنسبة لليابس والماء .
٨. خطوط الطول ودوائر العرض	عبارة عن خطوط وهمية طولية وعرضية ترسم على مجسم الكرة الأرضية وعلى الخرائط
٩. الجبل	هو كل ما ارتفع من الأرض وله قمة لا يقل ارتفاعها عن ١٠٠٠ متر.
١٠. الهضبة	أرض مرتفعة سطحها مستو وتمتد على مساحة كبيرة.
١١. السهول	مساحة كبيرة من سطح الأرض تتميز باستوائها وقله ارتفاعها .
١٢. السهول الفيضية (النهرية)	الأراضي المنخفضة التي تكونت من التربة التي تحملها مياه الأنهار .
١٣. السهول الساحلية :	الأراضي المنبسطة التي تجاور سواحل البحار والمحيطات
١٤. المناخ	هو حالة الجو خلال فترة زمنية طويلة من حيث درجة الحرارة والرطوبة والأمطار والرياح
١٥. الطقس	هو حالة الجو في مكان لمدة قصيرة تتراوح بين يوم أو عدة أيام من حيث درجة الحرارة والرطوبة والأمطار والرياح والضغط الجوي
١٦. الضغط الجوي	وزن الهواء فوق أي مكان
١٧. الإقليم	يعني منطقة أو مكان
١٨. النبات الطبيعي	هو النبات الذي ينمو تلقائياً عقب سقوط المطر دون تدخل من الإنسان
١٩. النهر	مجرى مائي عذب ينحدر على الدوام لينتهي إلى بحر أو إلى نهر آخر أو ينتهي تدريجياً في الصحراء
٢٠. المياه الجوفية	هي المياه التي توجد في جوف الأرض (باطن الأرض)
٢١. الأفلاج	الماء الجاري ( وهو مجرى صغير مائي في الأرض )
٢٢. البحيرة	مسطح مائي تحيط به اليابسة من جميع الاتجاهات
٢٣. الحضارة	كل ما يطرأ على المجتمع من تقدم وتطور في جميع نواحي الحياة الدينية والسياسية والاقتصادية والاجتماعية والفكرية

## ٣/ الرابط المشترك:

- ١- بحر العرب - البحر الأحمر - البحر المتوسط =
- ٢- المحيط الأطلسي - المحيط الهندي - الخليج العربي =
- ٣- الإسلامية - اليهودية - المسيحية =
- ٤- الحشائش - الغابات النبات الصحراوي =
- ٥- بلاد الرافدين + دلمون + بلاد اليمن + بلاد الشام + مصر القديمة =
- ٦- الموقع الاستراتيجي + توافر مصادر المياه + اعتدال المناخ + توفر الثروات الطبيعية + العنصر البشري = (مقومات قيام الحضارة)
- ٧- الأندلس + صقلية + الاحتلال الصليبي لبلاد الشام = (مراكز انتقال الحضارة العربية الإسلامية إلى أوروبا)

## ٤) ظلل الخيار الصحيح من بين الخيارات التي تلي كل عبارة :

١- يمتد الوطن العربي بين قارتي آسيا و.....	أفريقيا	أوروبا	استراليا	أمريكا الجنوبية
٢- تبلغ مساحة الوطن العربي حوالي .....	١٢,٥٠٠ مليون كم <sup>٢</sup>	١٣,٥٠٠ مليون كم <sup>٢</sup>	١٤,٥٠٠ مليون كم <sup>٢</sup>	١٥,٥٠٠ مليون كم <sup>٢</sup>
٣- تبلغ مساحة الوطن العربي بالنسبة لمساحة العالم نحو .....	١٠٪	٢٠٪	٣٠٪	٤٠٪
٤- الدولة العربية الأفريقية التي انضمت إلى الجامعة العربية في عام ١٩٩٣ تسمى .....	فلسطين	جمهورية جزر القمر	العراق	الكويت
٥- الدولة العربية التي يمر بها خط غرينتش تسمى .....	السودان	مصر	الجزائر	المغرب
٦- القارة المجاورة للوطن العربي من جهة الشمال تسمى .....	آسيا	أوروبا	استراليا	أمريكا الجنوبية
٧- المسطح المائي الذي يحده الوطن العربي من جهة الغرب يسمى .....	البحر المتوسط	المحيط الهندي	المحيط الأطلسي	المحيط الهادي
٨- يشكل سكان الوطن العربي بالنسبة لسكان العالم تقريبا حوالي .....	٤٪	٥٪	٦٪	٧٪
٩- أكثر الاشكال التضاريسية انتشارا في الوطن العربي تسمى .....	التلال	الجبال	السهول	الهضاب

## ٥) صوب ما تحته خط في العبارات التالية :

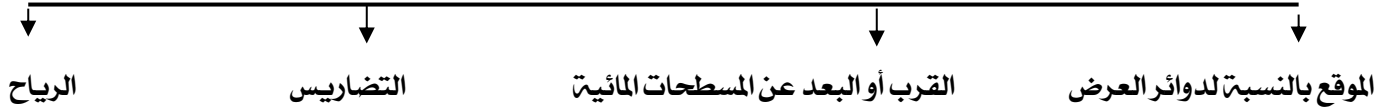
الرقم	العبارة	التصويب
١.	يمتد الوطن العربي بين قارتي آسيا و <u>أوروبا</u> .	أفريقيا
٢.	تبلغ مساحة الوطن العربي حوالي <u>١٤,٥٠٠ مليون كم<sup>٢</sup></u> .	١٢,٥٠٠ مليون كم <sup>٢</sup>
٣.	تبلغ مساحة الوطن العربي بالنسبة لمساحة العالم نحو <u>٣٠٪</u> .	١٠٪
٤.	الدولة العربية الأفريقية التي انضمت إلى الجامعة العربية في عام ١٩٩٣ تسمى <u>فلسطين</u> .	جمهورية جزر القمر
٥.	انضمت جمهورية جزر القمر إلى الجامعة العربية في عام <u>١٩٩٦</u> .	١٩٩٣
٦.	جمهورية جزر القمر تقع في المحيط <u>الأطلسي</u> .	الهندي
٧.	البحر الفاصل بين الجناح الآسيوي والجناح الأفريقي لدول الوطن العربي يسمى <u>البحر المتوسط</u> .	الأحمر
٨.	المسطح المائي الذي يحده الوطن العربي من جهة الغرب يسمى المحيط <u>الهندي</u> .	الأطلسي
٩.	أكثر الاشكال التضاريسية انتشارا في الوطن العربي تسمى <u>السهول</u> .	الهضاب
١٠.	النبات الذي ينمو تلقائيا عقب سقوط المطر دون تدخل من الإنسان يسمى النبات <u>المزروع</u> .	النبات الطبيعي
١١.	تعرف حشائش الاستبس في بلاد المغرب العربي باسم <u>الساج</u> .	الحلفا
١٢.	نباتات تقاوم الجفاف من خلال عدة وسائل جذورها طويلة هي النباتات <u>الطبيعية</u> .	النباتات الصحراوية
١٣.	حشائش قصيرة نوعا ما تنمو في الشتاء خلال موسم سقوط الأمطار هي <u>السافانا</u> .	الاستبس
١٤.	حشائش طويلة يختلف نوعها حسب كمية الأمطار هي <u>الاستبس</u> .	السافانا
١٥.	من أهم مصادر المياه العذبة في الوطن العربي هي <u>البحيرة</u> .	الأنهار
١٦.	بدأت دولة الكويت تعتمد اعتمادا كاملا على تحلية مياه البحر منذ عام <u>١٩٥٩م</u> .	١٩٥٣م
١٧.	أول محطة تحلية مياه في دولة الكويت هي محطة <u>الزور</u> .	محطة الشويخ
١٨.	أكثر الدول العربية استخداما للمياه المحلاة هي <u>ليبيا</u> .	الكويت
١٩.	تبلغ نسبة استخدام المياه المحلاة في دولة الكويت <u>٤٦٪</u> .	٥٥٪

## ٦- اكمل المخططات السهمية التالية:

- مقومات الهوية العربية



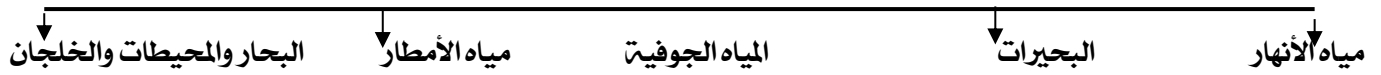
العوامل التي تؤثر في مناخ الوطن العربي




الحياة النباتية في الوطن العربي



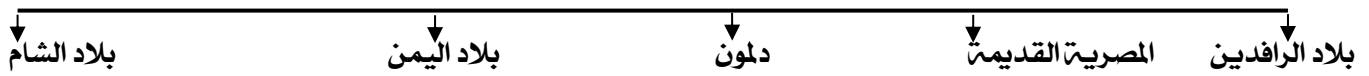
مصادر المياه في الوطن العربي



العوامل التي تؤثر في تنوع النبات الطبيعي في الوطن العربي



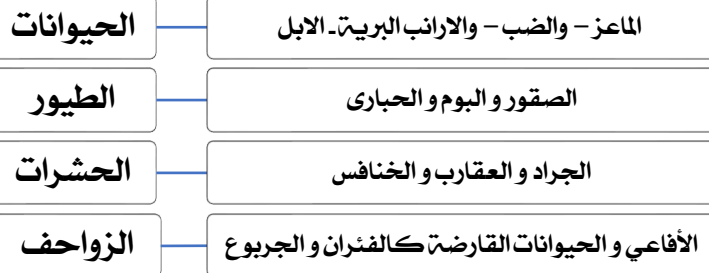
الحضارات في الوطن العربي



عناصر المناخ



اهم الحيوانات السائدة في المنطقة الصحراوية



إهداء من قسم الاجتماعيات  
مدرسة رقية بنت محمد للتعليمات  
نسألكم الدعاء



## (٧) علل لما يلي :

إهداء من قسم الاجتماعيات  
مدرسة رقية بنت محمد المتمسكة بنبات  
نسألكم الدعاء

١/ أهمية الجغرافية للوطن العربي ؟

- يشغل مكانا وسطا بين قارات العالم الثلاث.
- يطل على مسطحات مائية واسعة ذات أهمية كبيرة للملاحة والتجارة العالمية.

٢/ يتمتع الوطن العربي بأهمية اقتصادية كبيرة منذ القدم ؟



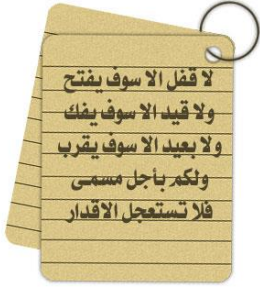
- يعتبر منطقة عبور لحركة الملاحة والتجارة العالمية
- يعتبر الجسر الذي يربط قارات العالم الثلاث
- ظهور النفط بكميات كبيرة

٣/ للوطن العربي أهمية حضارية وثقافية

قامت على ارض الوطن العربي حضارات عديدة - هبطت على أرضه الديانات السماوية الثلاثة

٤/ تنافس الدول الاستعمارية في الاستيلاء على الوطن العربي منذ القرن الثامن عشر الميلادي (الجغرافية)

- أ- لأهمية موقع الوطن العربي الاستراتيجية ب لأنه يتحكم في منافذ التجارة العالمية
- ج- يطل على ثلاث مسطحات مائية ذات أهمية للملاحة والتجارة العالمية



٥/ المدن الساحلية أكثر اعتدالا في المناخ صيفا وأدفا نسبيا شتاء

- لأن البحر يلطف من درجة حرارتها .

٦/ تنوع النبات الطبيعي في الوطن العربي

- نتيجة اختلاف نوع التربة والمناخ وكمية الأمطار ومواسمها .



٧/ تختلف نوع الحشائش الحارة ( السافانا ) في دول الوطن العربي

- بسبب اختلاف كمية الأمطار

٨/ اختلاف أنواع حشائش السافانا في دول الوطن العربي .

بسبب اختلاف كمية الامطار

٩/ ازدهار العديد من الحضارات الإنسانية التي استقرت في ربوع الوطن العربي

نظرا لتوافر مقومات قيام الحضارة

١٠/ اكتساب منطقة الوطن العربي مكانة روحية مقدسة

نتيجة لوجود الديانات السماوية الثلاث التي انتشرت في انحاء العالم في الوطن العربي



١١/ عاشت أوروبا قبل القرن ١٠ الميلادي في عصور الظلام

- بسبب سيطرة الكنيسة على عقول الشعب

١٤/ اكتب نقطتين فيما يلي :

١- عناصر المناخ

- درجة الحرارة - الرطوبة - الأمطار - الضغط الجوي - الرياح

٢- العوامل التي تؤثر في مناخ الوطن العربي

- الموقع بالنسبة لدوائر العرض - القرب أو البعد عن المسطحات المائية - التضاريس - الرياح

٣- العوامل التي تؤثر في تنوع النبات الطبيعي في الوطن العربي

- نوع التربة - المناخ

٤: أنواع الحياة النباتية في الوطن العربي  
- الغابات - الحشائش - النباتات الصحراوية

٥: وسائل مقاومة النباتات الصحراوية للجفاف  
- جذورها طويلة - تحمي نفسها بلحاء سميك وأوراق إبرية - القدرة على تخزين المياه

٦: مصادر المياه في الوطن العربي  
- الأنهار - البحيرات - المياه الجوفية - الأمطار - البحار والمحيطات والخلجان

٧: صفات الأمطار في الوطن العربي:  
- تذبذب كمية الأمطار بين عام وآخر ، كما أنها تسقط في أيام معدودة .  
- الأمطار في الوطن العربي تكاد تقتصر على الأطراف الشمالية والأطراف الجنوبية منها .  
- تتصف الأمطار بأنها قليلة بصفة عامة ، ولا يستثنى من ذلك سوى المناطق التي تقع من ورائها الجبال ، كما هي الحال في سواحل المغرب وساحل لبنان .

١٠: أشكال المياه الجوفية  
- الآبار الجوفية - العيون - الينابيع - الأفلاج

١١: مقومات الهوية العربية  
- أ. الدين ب. اللغة ج. الأهداف المشتركة د. وحدة التراث

إهداء من قسم الاجتماعيات  
مدرسة رقية بنت محمد المتوسطة بنات  
نسألكم الدعاء

١٢: الهضاب في الوطن العربي  
أ. هضبة شبة الجزيرة العربية وبلاد الشام ب. الصحراء الكبرى ج. الشطوط

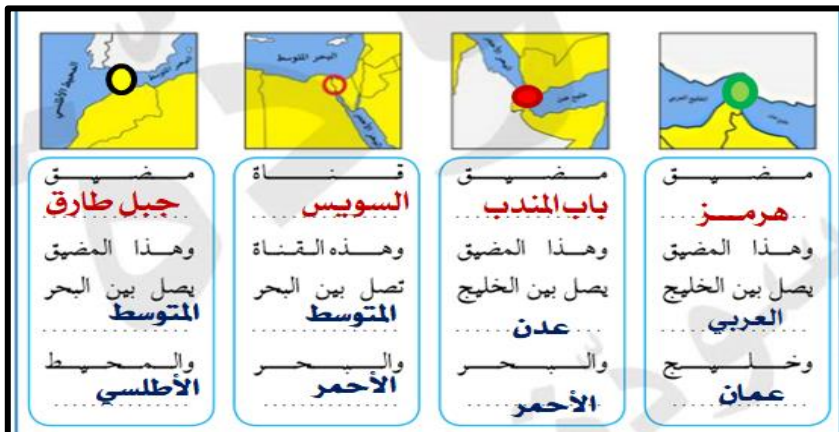
١٤: الجبال في الوطن العربي  
أ. جبال أطلس ب. جبال مرة ج. جبال عسير د. جبل قاسيون

١٥: عدد طرق الاستفادة من مياه البحار التي تتبعها الدول التي تقل فيها مصادر المياه العذبة مثل دول الخليج العربية و ليبيا  
أ. الاستفادة من مياه البحار المالحة بعد تحليتها ، أنشأت محطات كبيرة لتحلية مياه البحر .

١٦: استخدامات الغابات المدارية  
تستخدم أخشابها في البناء وصناعة الأثاث

١٧: أسس التي بنيت عليها الحضارة الإسلامية  
• الصلاة في نظامها ومواقيتها / الصوم والزكاة التي تحقق التكافل

• لاحظ الشكل التالي لمعرفة أماكن  
• المضائق والقناة



## (١) فرق بين كل مما يلي :

التعريف	القناة	المضيق
	مجرى مائي صناعي ضيق يشق لأغراض الري أو النقل	ممر مائي ضيق يصل بين بحرين أو محيطين أو إلى مساحتين كبيرتين نسبيا من الماء

التعريف	السهول الفيضية	السهول الساحلية
	الأراضي المنخفضة التي تكونت من التربة التي حملتها مياه الأنهار	الأراضي المنبسطة التي تجاور سواحل البحار والمحيطات

التعريف	المناخ	الطقس
	هو حالة الجو خلال فترة زمنية طويلة من حيث درجة الحرارة والرطوبة والأمطار والرياح	هو حالة الجو في مكان لمدة قصيرة تتراوح بين يوم أو عدة أيام من حيث درجة الحرارة والرطوبة والأمطار والضغط الجوي



أسس قيام الحضارة الإسلامية	مبادئ الحضارة الإسلامية
فالصلاة في نظامها ومواقيتها والصوم والزكاة التي تحقق التكافل الاجتماعي	الشورى والعدل والمساواة

☐ **قارن بين كل من :**

إهداء من قسم الاجتماعيات  
مدرسة رقية بنت محمد المتوسطة بنات  
نساء لكرم الدوام

## ١/ مناخ الوطن العربي في فصل الصيف والشتاء

المعيار	الصيف	الشتاء
المنطقة التي تتعامد مع الشمس	المنطقة الواقعة بين خط الاستواء ومدار السرطان	الواقعة بين خط الاستواء ومدار الجدي
مميزات المناخ	وترتفع الحرارة أكثر في وسط الوطن العربي (صحراء) ومعتدلة على سواحل البحر المتوسط وشمال الوطن العربي	وترتفع الحرارة في جنوب الوطن العربي وتقل كلما اتجهنا شمالا ..

## ٢/ الغابات المدارية والمعتدلة من حيث المطلوب

وجه المقارنة ص ٥٢	الغابات المدارية الحارة	الغابات المعتدلة
أهم أشجارها	الساج / الماهوجني / التالك / الأبنوس / السدر / الأثل / السنط	الأرز / العرعر / الصنوبر الحلبي / البلوط / السنديان / أشجار الزيتون والتفاح والحمضيات .
مميزات أشجارها	تمتاز بضخامة أشجارها وجذوعها وتشابك أغصانها وأوراقها العريضة وارتفاعها الكبير	تتسم هذا الغابات بعدم كثافتها وبعضها يكون دائم الخضرة وبعضها الآخر تتساقط أوراقه في فصل الشتاء.
استخداماتها	تستخدم أخشابها في البناء وصناعة الأثاث	يستخدم لحاء البلوط والسنديان في صناعة الفلين



## ٣/ دوائر العرض وخطوط الطول من حيث المطلوب

وجه المقارنة	دوائر العرض	خطوط الطول
التعريف	خطوط وهمية تقسم الكرة الأرضية إلى قسمين شمال وجنوب	دوائر وهمية تقسم الكرة الأرضية إلى قسمين شرق وغرب
خط الأساس	الاستواء	جرينتش
العدد	١٨٠	٣٦٠
الدولة العربية التي يمر بها	الصومال	الجزائر
الأهمية	معرفة أحوال المناخ	معرفة الوقت

## ٤/ حشائش السافانا والاستبس

وجه المقارنة	الحشائش الحارة (السافانا)	الحشائش المعتدلة (الاستبس)
التعريف	هي حشائش طويلة يختلف نوعها حسب كمية الأمطار وتنقسم السافانا إلى (طويلة / متوسطة / قصيرة).	هي حشائش قصيرة نوعا ما تنمو في الشتاء خلال موسم سقوط الأمطار.
الاستخدام	تربى عليها الماشية	تربى عليها الأغنام والإبل والخيول والحمير

إهداء من قسم الاجتماعيات  
مدرسة رقية بنت محمد المتوسطة بنات  
نساء الكبر الدمام

## ( ٨ ) صنف الكلمات التالية إلى مكانها المناسب في الجدول التالي:

( الهبوب / الخماسين / القبلي / السيروكو والسيلان / السموم / الشرقية / الطوز )

السعودية السموم / الطوز	مصر الخماسين	السودان الهبوب	ليبيا القبلي	الجزائر السيروكو والسيلان	العراق الشرقية	الكويت الطوز
-------------------------------	-----------------	-------------------	-----------------	---------------------------------	-------------------	-----------------

( الشويخ / الاحساء / رأس عبود / أبو فنتاس )

الدولة	الكويت	السعودية	قطر
محطة تحلية المياه	محطة الشويخ ١٩٥٣م	محطة الاحساء	رأس عبود / أبو فنتاس

تركيا / المحيط الأطلسي / البحر المتوسط / ايران / الخليج العربي

حدود الوطن العربي	البرية	البحرية
الشمال	تركيا	البحر المتوسط
الشرق	ايران	الخليج العربي
الغرب		المحيط الأطلسي



١. (( الانجيل - موسى عليه السلام - القرآن الكريم - عيسى عليه السلام - التوراة - محمد ﷺ ))

البند	الديانة الإسلامية	الديانة المسيحية	الديانة اليهودية
الكتاب	القرآن الكريم	الانجيل	التوراة
النبي	محمد ﷺ	عيسى عليه السلام	موسى عليه السلام

( الصلاة - الشورى - العدل - الصوم - المساواة - الزكاة )

أسس الحضارة	مبادئ الإسلام
الصلاة - الصوم - الزكاة	الشورى - العدل - المساواة

• حيوانات / الطيور / الحشرات / الزواحف / الحيوانات القارضة

حيوانات	الطيور	الحشرات	الزواحف	الحيوانات القارضة
الابل - الماعز - الارانب - الضب	الصقور - البوم - الحباري	الجراد - العقارب - الخنافس	الافاعي	الفئران والجربوع

ضع دائما صورتك التي تريد أن تكون عليها في عقلك و مخيلتك ، و ستتحقق تدريجيا نحوها ... إذا لم تهزم نفسك ، ستهزمك نفسك ... سلم النجاح لا يعانى من الازدحام في اعلاه

صل بين كل من الصورة والاسم ☐

<input type="checkbox"/>	<input type="checkbox"/>	<input type="checkbox"/>
مسجد قرطبة <input type="checkbox"/>	جامع المنصور <input type="checkbox"/>	قصر الحمراء <input type="checkbox"/>

إهداء من قسم الاجتماعيات  
مدرسة رقية بنت محمد (التمهيدية) بنات  
نساءكم الدوام

لاحظ خريطة خطوط الطول ودوائر العرض ثم اجب عن الأسئلة التالية :

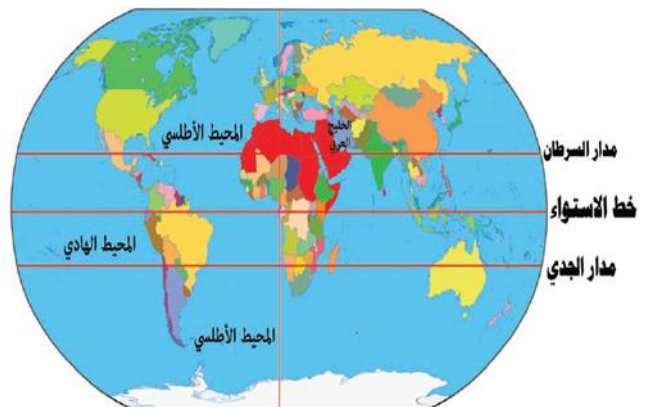
١- ما هو الخط الاساسي لخطوط الطول ؟

خط جرينتش

٢- ما الدولة العربية التي يمر بها خط الاستواء ؟

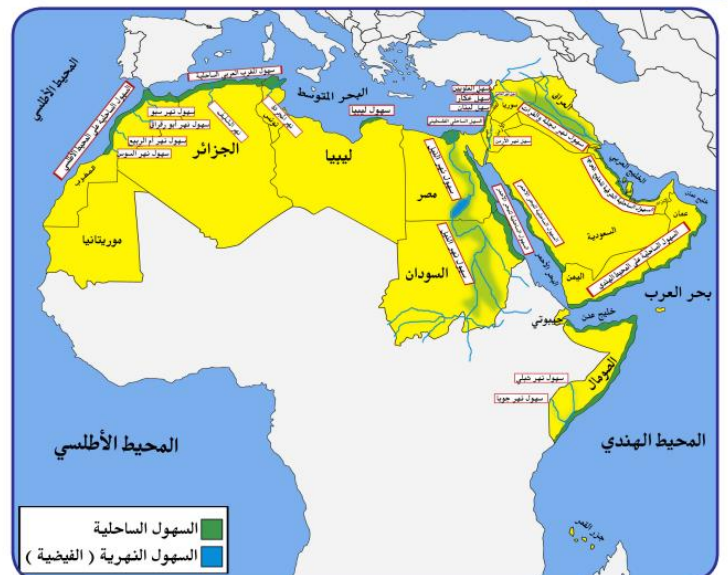
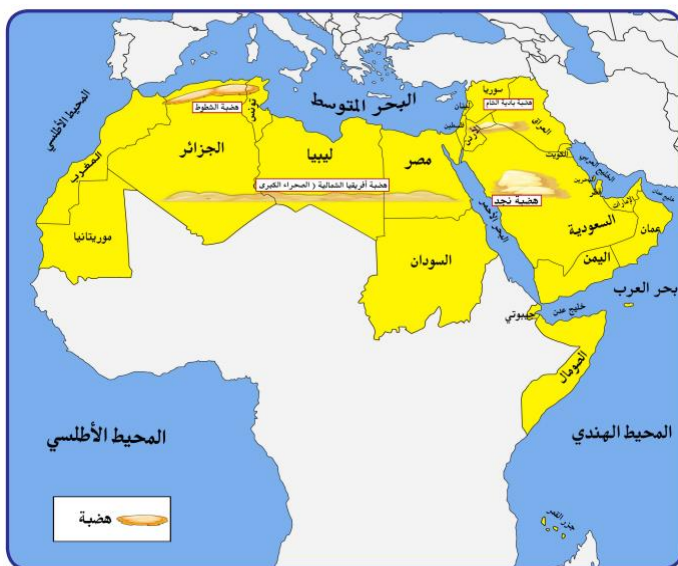
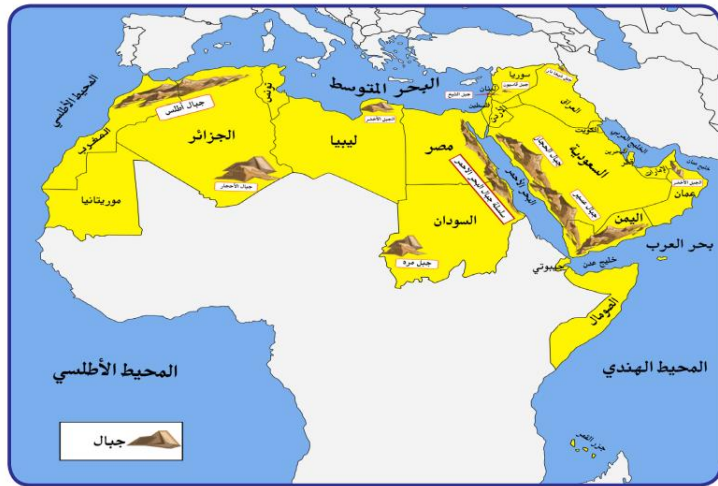
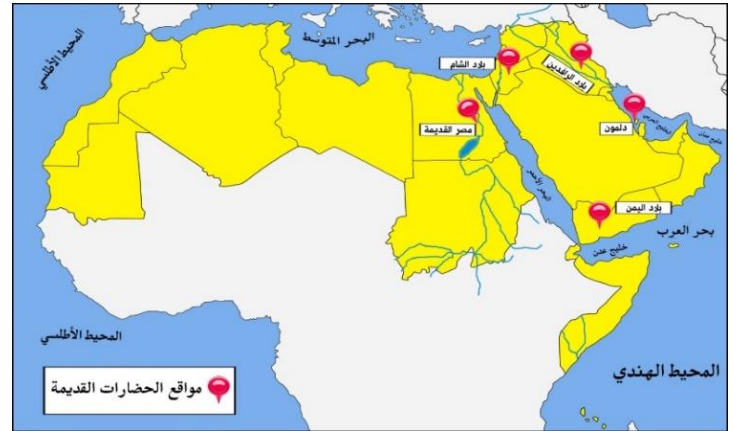
الصومال

٣- كم يبلغ عدد دوائر العرض ؟

١٨٠

الخرائط:

أماكن الدول العربية / المسطحات المائية / أماكن الحضارات / أسماء الرياح / التضاريس

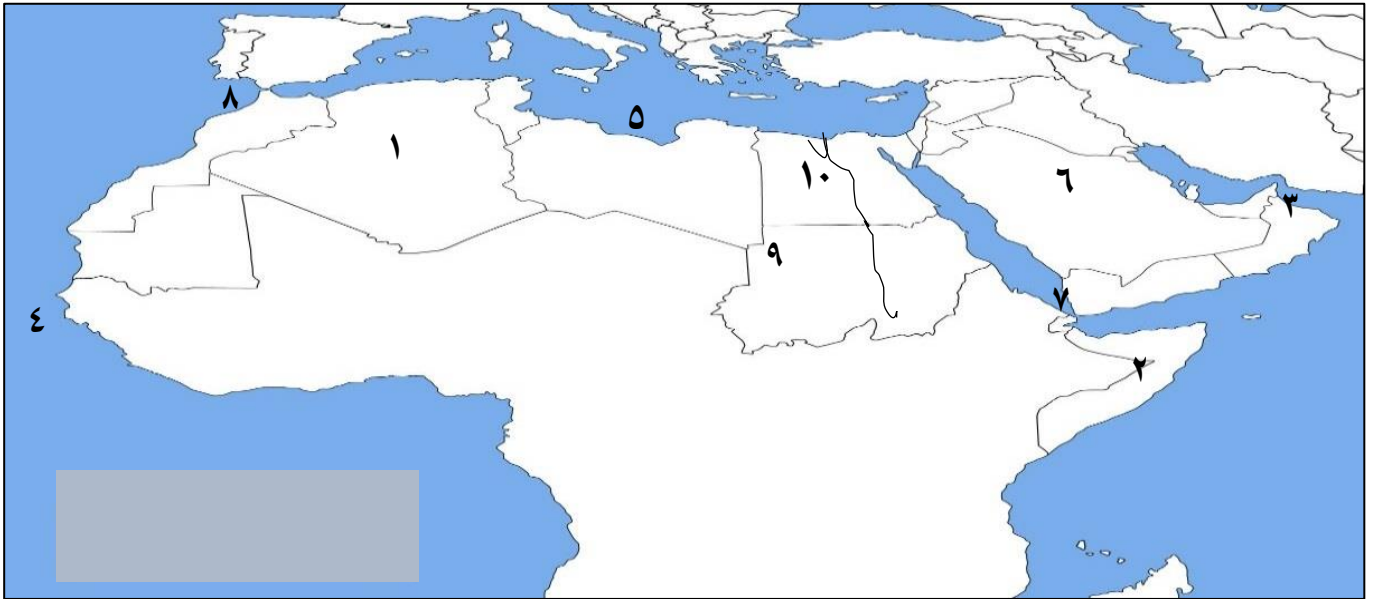


إهداء من قسم الاجتماعيات  
مدرسة رقية بنت محمد للتعليم بنات  
نساءكم الدعاء

## أمثله على مهارة التحديد والاستخراج من

### على خريطة الوطن العربي الصماء نفذ ما يلي .

- يشير رقم (١) إلى أكبر الدول العربية في الجناح الأفريقي تسمى .. الجزائر
- يشير رقم (٣) إلى موقع جبل يسمى الأخضر
- يشير رقم (٥) إلى مسطح مائي يسمى ... البحر المتوسط ..
- يشير رقم (٧) إلى موقع مضيق يسمى . باب المندب ...
- يشير رقم (٩) إلى موقع جبل يسمى ... مره ..
- يشير رقم (٢) إلى دولة تسمى ..... الصومال .....
- يشير رقم (٤) إلى مسطح مائي يسمى .. المحيط الأطلسي
- يشير رقم (٦) إلى موقع هضبة تسمى ..... نجد ....
- يشير رقم (٨) إلى موقع مضيق يسمى ... جبل طارق ....
- يشير رقم (١٠) إلى موقع نهر يسمى .... النيل .....



للربط السريع ( تجمع أهم المعلومات للدولة الواحد وتحدد على الخريطة )

مثال مصر: ( موقعها - نهر النيل - قناة السويس - الحضارة المصرية القديمة - رياح الخماسين

السودان ( موقعها - رياح الهبوب - جبال مرة - )

