

# بنك المعلومات

لمقرر بلادي الكويت  
الصف الخامس الابتدائي  
الفصل الدراسي الأول  
الست الأسابيع الأولى



## المفاهيم :

- بحر ضيق يمتد طويلاً بين اليابس هو الخليج
- مسطح مائي أصغر من المحيط يفصل بين القارات هو البحر
- مسطح كبير جداً من الماء المالح هو المحيط
- مساحة كبيرة من اليابسة يحيط بها الماء هي القارة
- منفذ أو ممر ضيق من الماء يفصل بين مسطحين مائيين هو المضيق
- ممر مائي يشق للربط ما بين مسطحين مائيين هي القناة
- مجموعة من الدول التي يكون فيها عدد المسلمين ٥٠% فأكثر من مجموع السكان هو العالم الإسلامي
- كل ما أوجده الله في الطبيعة دون أن يكون للإنسان دخل في وجودها هي الموارد الطبيعية
- النبات الذي ينمو دون تدخل انسان هو النبات الطبيعي
- نباتات تنمو طول العام وجذورها عميقة تساعد على الاستفادة من الماء هي النباتات المعمرة ( الدائمة )
- حشائش تنبت بعد سقوط الأمطار وتموت بسرعة هي النباتات الحولية ( الموسمية )
- رعي غير منظم حيث يتم تحميل المرعى بأعداد كبيرة من الحيوانات تفوق طاقة المرعى مما يؤدي لتدمير النباتات والتربة هو الرعي الجائر
- أماكن تخصصها الدولة لحماية الحيوانات والنباتات المهددة بالإنقراض هي المحمية الطبيعية

## أكمل الفراغات التالية بما يناسبها من كلمات فيما يلي :

- يبلغ عدد المحيطات في العالم خمسة
- أكبر محيطات العالم مساحةً هو المحيط الهادي
- تقع دولة الكويت في قارة آسيا
- قارة غير مأهولة بالسكان هي القارة القطبية الجنوبية
- أكبر قارات العالم مساحةً هي قارة آسيا
- تقع دولة الكويت بالنسبة لشبة الجزيرة العربية في جهة الشمال الشرقي
- يمتد الوطن العربي بين قارتي آسيا و أفريقيا
- يقل عدد الدول الإسلامية في قارة أمريكا الجنوبية
- يتميز الإقليم الصحراوي في فصل الشتاء بشدة البرد و قلة الأمطار

## ارسم دائرة حول الخيار الصحيح من بين الخيارات التي تلي كل عبارة :

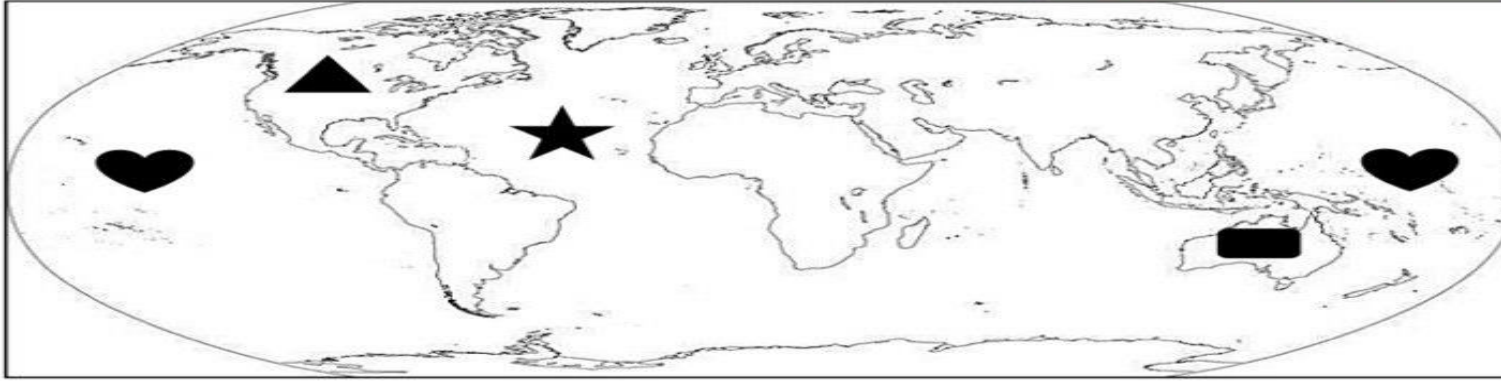
- الإقليم المناخي الذي تقع ضمنه دولة الكويت هو الإقليم :  
( المعتدل - الصحراوي - البارد - الاستوائي )
- يتميز الإقليم الصحراوي في فصل الصيف بشدة الحرارة :  
( الجفاف - شدة البرد - تساقط الأمطار - سقوط الثلج )
- أهم مناطق تربية الثروة الحيوانية في دولة الكويت هي :  
( السرة - قرطبة - اليرموك - الشقاي )
- يبلغ عدد القارات في العالم :  
( ٥ قارات - ٦ قارات - ٧ قارات - ٨ قارات )
- أصغر قارات العالم مساحةً هي قارة :  
( آسيا - أمريكا الشمالية - أستراليا - القطبية الجنوبية )
- تطل دولة الكويت على سطح مائي يسمى :  
( الخليج العربي - بحر العرب - خليج عمان - المحيط الهندي )
- تتركز دول العالم الإسلامي في قارتي آسيا :  
( أمريكا الجنوبية - أستراليا - أوروبا - أفريقيا )

## صنف أنواع الموارد الطبيعية إلى مكانها المناسب في الجدول الذي يليها :

شمس - رياح - نباتات - نفط  
حيوانات - غاز طبيعي - ماء - أسماك

موارد غير حية	موارد حية
<u>شمس</u>	<u>نباتات</u>
<u>رياح</u>	<u>حيوانات</u>
<u>نفط</u>	<u>أسماك</u>
<u>غاز طبيعي</u>	
<u>ماء</u>	

لاحظ خريطة العالم الصماء ثم اكتب مدلولات الرموز التالية :



- الرمز ▲ يمثل قارة أمريكا الشمالية
- الرمز ♥ يمثل المحيط الهادي
- الرمز ■ يمثل قارة استراليا
- الرمز ★ يمثل المحيط الأطلسي

أكمل المخططات التالية بما تراه مناسب فيما يلي :



## علل ( اذكر السبب ) :

- تسميت دول الخليج العربي بهذا الاسم .  
لأنها تطل على الخليج العربي
- أهمية الموارد الطبيعية  
مصدر للغذاء واستمرار حياة الانسان
- يسود النبات الصحراوي في دولة الكويت  
- شدة الحرارة  
- قلة الأمطار  
- فقر التربة
- إقامة المحميات الطبيعية في دولة الكويت .  
لحماية الحيوانات والنباتات من الانقراض

## أجب عما يلي :

- اذكر جهود الدولة في المحافظة على النبات الطبيعي :  
- إنشاء المحميات الطبيعية  
- وضع قوانين تمنع قطع النباتات الطبيعية  
- تحديد مواسم التخميم
- ما هي المشكلات التي تؤدي إلى انقراض الحيوانات الفطرية ؟  
- الصيد الجائر  
- تلوث البيئة
- عدد جهود دولة الكويت في المحافظة على الحيوانات الفطرية  
- منع صيد الحيوانات في مواسم تكاثرها  
- إنشاء محميات لحمايتها من الإنقراض

أوراق مراجعة لاختبار الست الأسابيع الأولى للصف الخامس  
الفصل الدراسي الأول

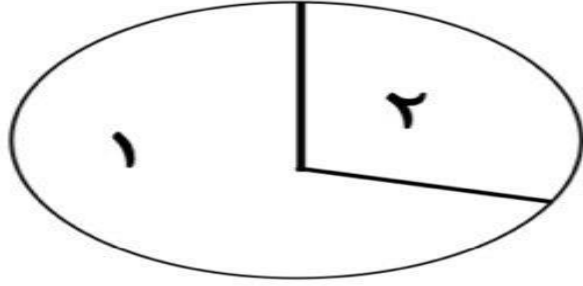
الدرس الأول : سطح الكرة الأرضية

س١: لاحظ الدائرة البيانية التالية ثم اجب عن الاسئلة التي تليها :

١- الجزء الذي يحمل رقم ..... مساحته اكبر من الجزء الذي يحمل رقم .....

٢- الجزء الذي يحمل رقم ٢ يمثل مساحة ..... على سطح الكرة الأرضية .

٣- الجزء الذي يحمل رقم ١ يمثل مساحة ..... على سطح الكرة



س٢: صل ما يلي :

نسبة الماء على سطح الكرة الأرضية :	٣٠ ٪
نسبة اليابسة على سطح الكرة الأرضية :	٧٠ ٪

س٣: فرق بين اليابس والماء من خلال الجدول الآتي :

املاً الجدول مستعيناً بالخيارات الآتية :	اليابسة	الماء
( اكبر - اصغر ) من حيث المساحة		
تمثل ( المسطحات المائية - القارات )		

**س٤: اكمل العبارات التالية :**

- ١- يبلغ عدد المحيطات في العالم ..... محيطات .
- ٢- من أكبر المحيطات في الكرة الأرضية هو المحيط .....
- ٣- مسطح مائي كبير جدًا من الماء المالح يسمى .....
- ٤- مسطح مائي اصغر من المحيط ويفصل بين القارات يسمى .....
- ٥- بحر ضيق يمتد طولياً بين اليابس يسمى .....

**س٥: عرف مفهوم القارة :**

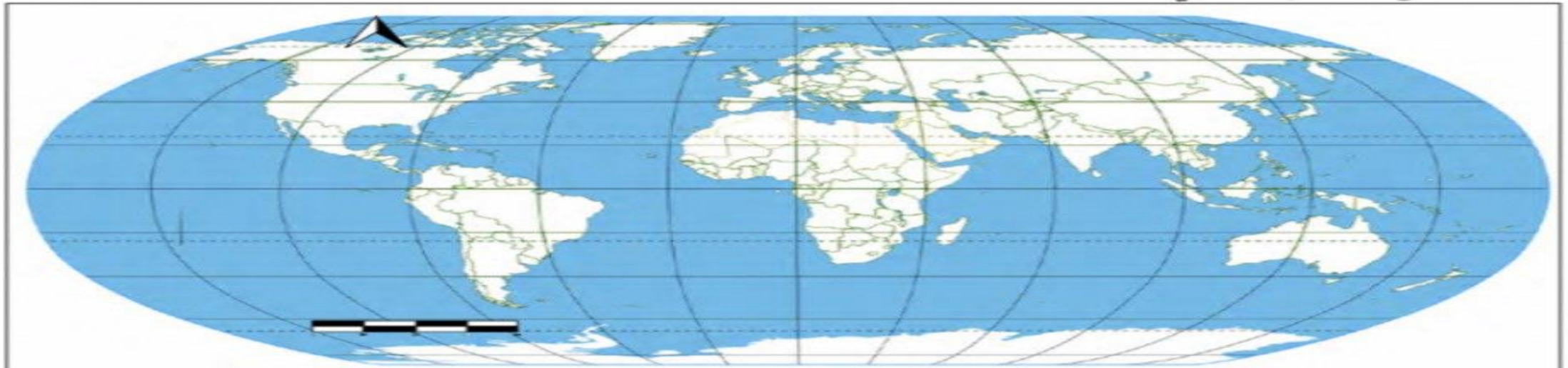
القارة : .....

**س٦: اختر الإجابة الصحيحة من بين البدائل التالية :**

- ١- أكبر القارات مساحة وأكثرها سكاناً تسمى :  
أ- أوروبا      ب- آسيا      ج- أفريقيا      د- أستراليا
- ٢- أصغر القارات من حيث المساحة تسمى :  
أ- أمريكا الجنوبية      ب- أوروبا      ج- أستراليا      د- آسيا

**س٧: من خلال خريطة العالم حدد ما يلي :**

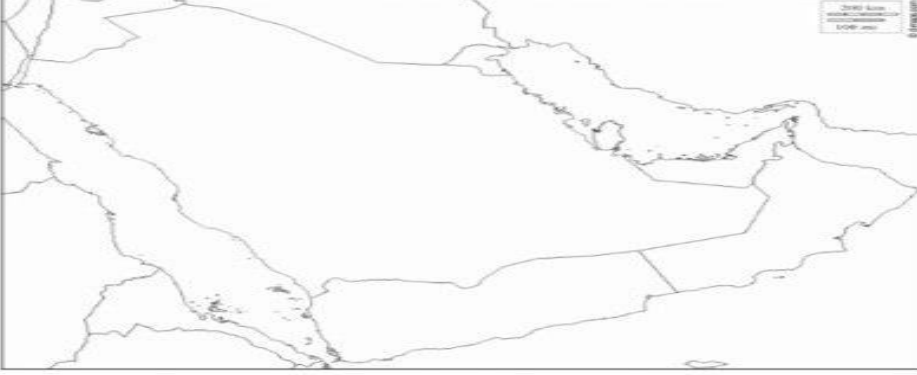
- القارة التي تقع فيها بلاد الكويت بالرمز ● :
- القارة التي تعتبر غير مأهولة بالسكان بالرمز ■ :
- أكبر المحيطات في الكرة الأرضية بالرمز — :



## الدرس الثاني : بلادي الكويت ودول الخليج العربية

س١: لاحظ خريطة شبه الجزيرة العربية ثم نفذ المطلوب منك :

- ظلل على الخريطة المسطح المائي التي تطل عليه جميع الدول الخليجية .
- ضع دائرة حول موقع بلادك الكويت على الخريطة .



س٢: صحح ما تحته خط في العبارات التالية :

- ١- يبلغ عدد دول الخليج العربي ٨ دول .....
- ٢- تطل بلادي الكويت على مسطح واحد يسمى خليج عمان .....
- ٣- تقع بلادي الكويت بالنسبة لشبه الجزيرة العربية في الشمال الغربي .....

س٣: علل / تسمية دول الخليج العربية بهذا الاسم :

.....

## الدرس الثالث : بلادي الكويت ودول الوطن العربي

س١: اقرأ الفقرة التالية ثم احب عن الأسئلة التالية :

( يحتل الوطن العربي موقعا استراتيجيا مهماً في وسط العالم ، حيث أنه يطل على العديد من المحيطات ويشرف على العديد من المضائق المائية ، ويمتد الوطن العربي بين قارتي آسيا وأفريقيا ، وتجمع دول الوطن العربي سمات وروابط مشتركة منذ القدم ) .

١: ما هي أهمية موقع الوطن العربي ؟

.....

٢ : عدد القارات التي يمتد فيها الوطن العربي :

.....

٣ : علل : للوطن العربي العديد من السمات المشتركة :

.....

س٢: ضع علامة (✓) امام العبارات الصحيحة وعلامة (X) امام العبارات الخاطئة :

- ١- يقع الوطن العربي في وسط العالم ( ) .
- ٢- تقع بلادي الكويت في الجهة الغربية من الوطن العربي ( ) .
- ٣- يبلغ عدد دول الوطن العربي ٢٢ دولة ( ) .

س ٣ : فرق بين مفهوم كل من :

المضيق	القناة
.....	.....
.....	.....
.....	.....

الدرس الرابع : بلادي الكويت ودول العالم الإسلامي

س١: ظلل اسم القارات التي يمتد فيها العالم الإسلامي :

أمريكا الجنوبية

أوروبا

آسيا

أمريكا الشمالية

أفريقيا

س٢: عرّف مفهوم ( العالم الإسلامي ) :

س٣: اذكر أهمية موقع دول العالم الإسلامي :

س٣ : أكمل الفراغ التالي بوضع اسم المفهوم المناسب للعبارة :

- كل ما أوجده الله في الطبيعة دون أن يكون للإنسان دخل في وجودها ( ..... )

أ - النبات الطبيعي في بلادي الكويت

س١ : فرق بين أنواع النباتات الطبيعية في بلادي الكويت في الجدول الآتي :

النباتات الحولية الموسمية	النباتات المعمرة الدائمة	انواع النباتات الطبيعية
..... ..... ..... .....	..... ..... ..... .....	المفهوم
..... - ..... -	..... - ..... -	مثال

س٢ : اكتب المفهوم أو المصطلح الدال على العبارات التالية :

- ( ..... ) هو النبات الذي ينمو في الطبيعة دون تدخل الإنسان .  
( ..... ) اماكن تخصصها الدولة لحماية الحيوانات والنباتات المهددة بالإنقراض .  
( ..... ) هو رعي غير منظم يفوق طاقة المرعى و يؤدي الى تدهور النبات والتربة .

س٣ : علل ما يلي ( اذكر السبب ) :

١ - معظم النباتات تنمو في فصل الربيع وتقل في فصل الصيف :

- ..... \*

٢ - إقامة المحميات الطبيعية في دولة الكويت :

- ..... \*

س١: اذكر جهود بلادي الكويت في المحافظة على البنات الطبيعي وحيوانات الحياة الفطرية :

النبات الطبيعي	حيوانات الحياة الفطرية
.....-	.....-
.....-	.....-

س٢: اجب عن الأسئلة التالية :

١- علل : إنخفاض أعداد الحيوانات في دولة الكويت في السنوات الأخيرة ؟

.....-

٢- بم تتميز الحيوانات في دولة الكويت ؟ -.....

٢- ما هي خصائص الحيوانات في الحياة الفطرية في دولة الكويت ؟

.....- .....- .....-