



# مراجعة للصف الرابع لإختبار الست الأسابيع الأولى لمادة بلادي الكويت للفصل الدراسي الأول العام الدراسي (٢٠٢٢ - ٢٠٢٣)

تنويه\* أوراق العمل لا تغني عن الكتاب المدرسي ، إنما هي بعض من الأسئلة الهامة التي تجمع بعض من اسئلة الدرس... مع تمنياتي  
لكم بالتوفيق والنجاح ..

KUWAIT



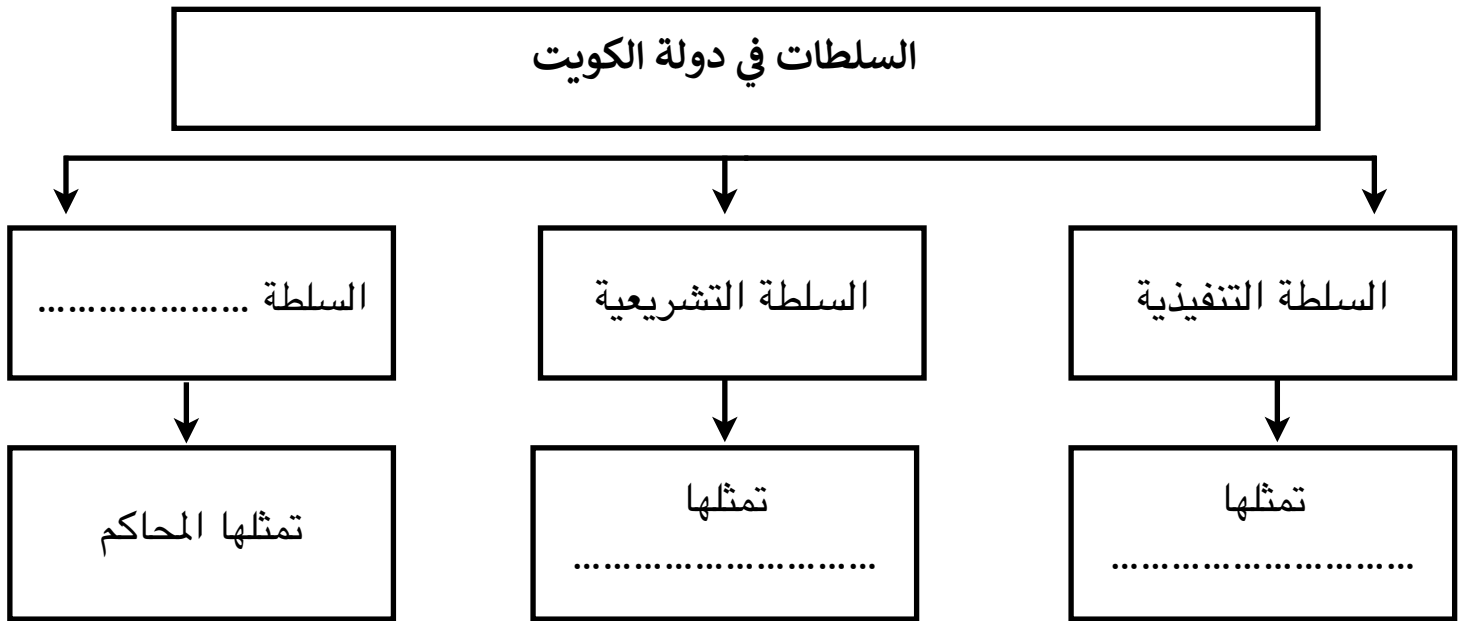
أوراق مراجعة لاختبار الست الأسابيع الأولى للصف الرابع  
الفصل الدراسي الأول

الدرس الأول : مفهوم الدولة

س١: اكمل الفراغات التالية بما يناسبها مما درست :

- ١- مجموعة من الأفراد يعيشون على قطعة أرض محددة وتنظمهم سلطة تسمى .....
- ٢- الجهة التي تنظم العلاقة بين الشعب تسمى .....

س٢: أجب عن المخطط السهمي التالي أمامك :

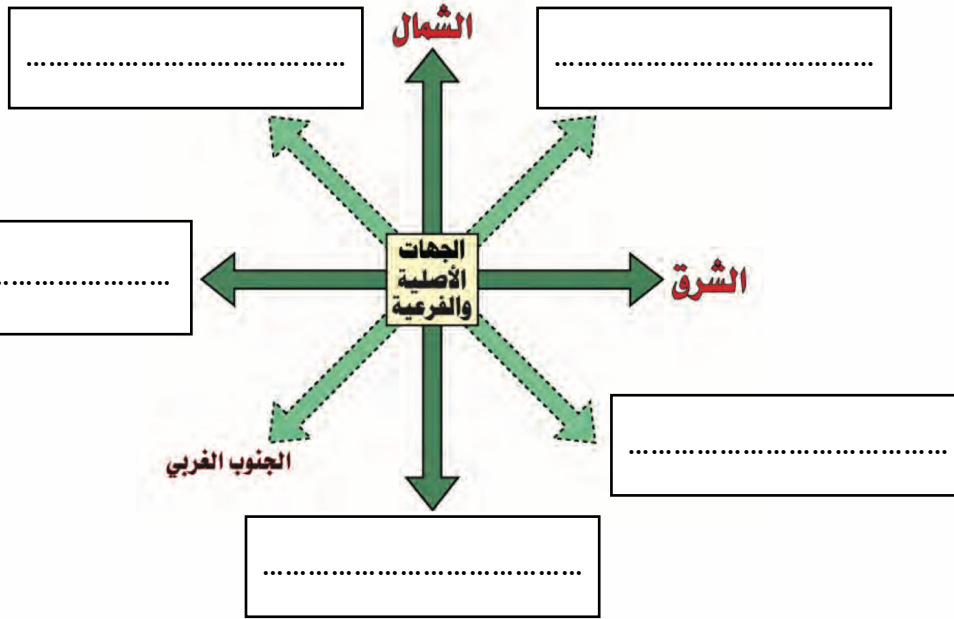


س٣ : ظلل المربعات التي تحتوي على العناصر المكونة للدولة :

السلطة	المستشفى	المدرسة
المسجد	الأرض	الشعب

الدرس الثاني : مساحة وحدود بلادي الكويت  
أولاً : الإتجاهات  
ثانياً : المساحة والحدود

س ١ : أكمل الإتجاهات الرئيسية والفرعية من خلال مخطط الإتجاهات التي امامك :

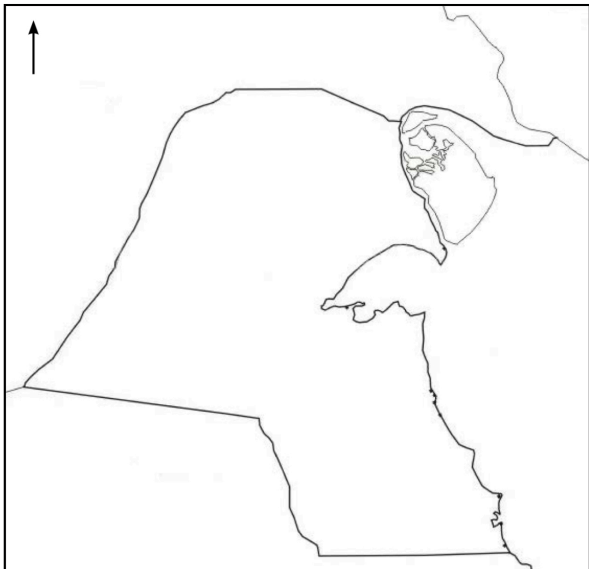


س ٢ : ضع علامة (✓) بجانب العبارة الصحيحة وعلامة (X) بجانب العبارة الخاطئة :

- ١- يتميز سطح بلادي الكويت بالإستواء ( ) .
- ٢- تفيدنا الإتجاهات في التعرف على مواقع بلادي والدول المجاورة لها ( ) .
- ٣- الخور هو لسان من الأرض يمتد داخل الماء ( ) .



س ٣ : على خريطة دولة الكويت الصماء نفذ المطلوب منك :

- ضع الرمز ● على الدولة التي تحد دولة الكويت من جهة الشمال والشمال الغربي
- ضع الرمز ✓ على الدولة التي تحد دولة الكويت من جهة الجنوب والجنوب الغربي
- ضع الرمز ■ على المسطح المائي الذي يحد دولة الكويت من جهة الشرق



الدرس الثالث : أهمية موقع بلادي الكويت

س ١: اذكر أهمية موقع بلادي الكويت :



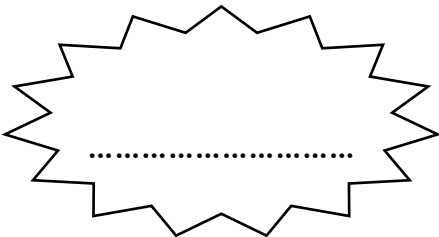
س ٢: صحح ما تحته خط في العبارات التالية :

- ١- تقع بلادي الكويت في طرف العالم .....
- ٢- تعتبر بلادي الكويت من الدول كبيرة المساحة .....
- ٣- من أهمية موقع بلادي الكويت أنها تقع بالنسبة لشبه الجزيرة العربية في جهة الغرب .....

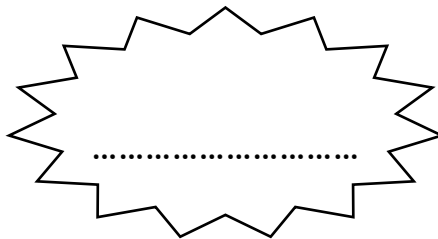
الدرس الرابع : بيئة بلادي الكويت  
أولا : جزر بلادي الكويت

س ١ : من أنا ؟

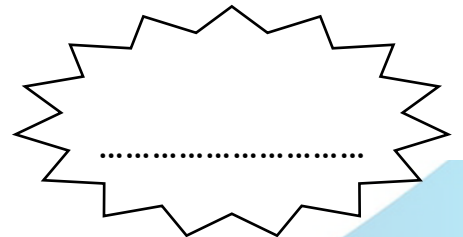
جزيرة كويتية كانت مأهولة  
بالسكان ؟



لسان من اليابس يمتد داخل  
الماء ؟



أكبر الجزر الكويتية من  
حيث المساحة ؟





س ٣ : على خريطة دولة الكويت الصماء نفذ المطلوب منك :

أ- ظلل على أكبر جزيرة كويتية :

ب- ضع الرمز ♥ على الجزيرة التي كانت مأهولة بالسكان :

ج - ضع دائرة حول الجزيرة التي تقع داخل جون الكويت :

الدرس الرابع : بيئة بلادي الكويت  
ثانيًا : تضاريس بلادي الكويت

س ١ : اختر من المجموعة ( أ ) ما يناسبها من المجموعة ( ب ) في الجدول التالي :

ب	م	أ
التل		(١) منخفض طولي بين منطقتين مرتفعتين يسمى ...
السهل		(٢) أرض مرتفعة قليلاً عن مستوى الأراضي المحيطة بها تسمى ...
الوادي		(٣) أرض مستوية المساحة وواسعة تسمى ...

س ٢ : أكمل الفراغات التالية بما يناسبها :

- ١- أشكال سطح الأرض من مرتفعات ومنخفضات هي .....
- ٢- ينحدر سطح بلادي الكويت من جهة ..... إلى جهة .....
- ٣- الوادي الذي يفصل بين الحدود الكويتية والعراقية والسعودية يسمى وادي .....
- ٤- سهل كويتي يقع في غرب الكويت هو .....
- ٥- يقع تلال جال الزور في جهة ..... بالنسبة لدولة الكويت .



س ٣ : صنف أسماء تضاريس بلادي الكويت داخل الجدول :

( جال الزور - وادي الباطن - سهل الدبدبة )

أودية	سهول	تلال

الدرس الرابع : بيئة بلادي الكويت  
ثالثًا : مناخ بلادي الكويت

س ١ : ضع اسم المفهوم فوق العبارة المناسبة له :

.....	.....
حالة الجو خلال فترة زمنية طويلة لا تقل عن ٣٠ عامًا .	حالة الجو خلال فترة قصيرة من يوم إلى أسبوع .

س ٢ : اختر الإجابة الصحيحة بما يناسبها من بدائل :

- ١- تقع بلادي الكويت ضمن المناخ ... ( الصحراوي - المعتدل - البارد - الإستوائي )
- ٢- ترتفع درجة الحرارة في بلادي الكويت في فصل ... ( الربيع - الشتاء - الصيف - الخريف )
- ٣- تدور الأرض حول الشمس مره كل سنه وينتج عن هذا الدوران ( الليل والنهار - الفصول الأربعة )

س ٣ : اذكر اسماء الفصول الأربعة :

الوحدة الثانية : نشأة بلادي الكويت  
درس : قصة بلادي الكويت (١)  
درس : قصة بلادي الكويت (٢)

س١ : اكمل الفراغات التالية :

٣- الحصن الصغير الذي  
يستخدم لتخزين  
الأسلحة والمؤن يسمى  
.....

٢- اسم بلادي الحالي  
هو .....

١- اسم بلادي الكويت  
القديم والشائع هو  
.....

معناه  
.....

معناه  
.....

س٢ : ضع علامة ( ✓ ) أمام العبارات الصحيحة وعلامة ( ✗ ) أمام العبارات الخاطئة :

١- سُمِّيَ آل الصباح بالعتوب بسبب كثرة ارتحالهم ( )

٢- استقر آل الصباح في شبه جزيرة قطر لمدة ما يقارب فيها ٣٠ عامًا ( )

س٣ : اجب عن الأسئلة التالية :

١- ما هو سبب هجرة آل الصباح من منطقة الهدار ؟

.....

الوحدة الثانية : نشأة بلادي الكويت  
درس : حكام بلادي الكويت

س١ : اكمل المخطط السهمي التالي :

أهم الأحداث في تاريخ حكام بلادي

حدثت معركة الجهراء في عهد  
الشيخ .....

معركة كويتية حدثت في  
عهد الشيخ عبدالله بن  
صباح تسمى .....

المدرسة التي افتتحت في عهد  
الشيخ أحمد الجابر الصباح  
تسمى .....

مدرسة افتتحت في عام ١٩١١م  
في عهد الشيخ مبارك الصباح  
تسمى .....

حدث التحرير في عهد الشيخ  
.....  
الذي لُقّب بأُمير

س٢ : أجب عن السؤال التالي مستعيناً بما درست :

ما هي أهم الأحداث في  
تاريخ حكام بلادي الكويت ؟

س٣ : علل ما يأتي ( أذكر السبب ) :

• اختيار الشيخ صباح بن جابر أول حاكم لدولة الكويت : .....



الوحدة الثانية : نشأة بلادي الكويت  
درس : الإتفاقية الكويتية البريطانية عام ١٨٩٩م

س١ : اكمل البطاقة التعريفية التالية :



٢- ترتيبه من بين  
حكام دولة الكويت  
هو .....

١- صاحب الصورة هو ؟  
.....  
.....

٣- من ألقابه ؟  
.....  
.....

س٤ - ضع علامة ( ✓ ) بجانب الإجابة الصحيحة لكل عبارة مما يلي :

١- الشيخ الذي في عهده تمت اتفاقية الحماية هو ...

( ) مبارك الصباح ( ) عبدالله السالم ( ) أحمد الجابر ( ) صباح الأحمد

٢- العام الذي وقعت فيه اتفاقية الحماية بين الكويت ودولة أخرى هو ...

( ) ١٨٩٧م ( ) ١٨٩٨م ( ) ١٨٩٩م ( ) ١٩٠٠م

٣- الدولة التي وقَّعت معها دولة الكويت اتفاقية الحماية تسمى ...

( ) أمريكا ( ) فرنسا ( ) بريطانيا ( ) روسيا