



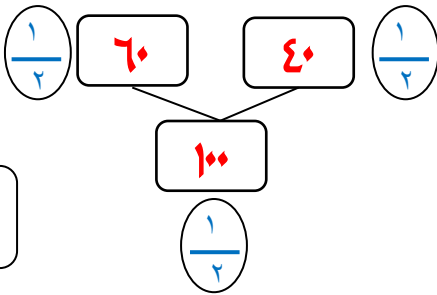
وزارة التربية
الأدارة العامة لمنطقة حولي التعليمية

الاختبار التحصيلي الأول للصف الثاني
للفصل الدراسي الأول
للعام الدراسي (٢٠٢٢ - ٢٠٢٣)

٢٠

الاسم :
الصف :

٥
٥



الوحدة الثانية
بند (٣ - ٢)

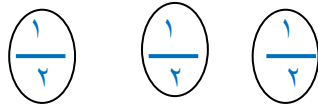
السؤال الأول : أ) أكمل

وَحَدَات	عَشَرَات

الوحدة الثانية
بند (٢ - ١)

٣ $\frac{1}{٤}$ وحدات و ٢ $\frac{1}{٤}$ عشرات

٣٣ $\frac{1}{٢}$ = ٣ $\frac{1}{٢}$ + ٣٠ $\frac{1}{٢}$



الوحدة الثانية
بند (٤ - ٢)

٥٨	٥٧	٥٦	٥٥	٥٤	٥٣
----	----	----	----	----	----

ب) أكمل سلسلة الأعداد

السؤال الثاني: أ) أوجد الناتج

٦٠ + ٣٠ = ٩٠

٥
٥

الوحدة الثانية
بند (٥ - ٢)

٥٠
٤٠ -
١٠

ب) رتب الأعداد التالية (من الأصغر إلى الأكبر)

١٦ ، ٥٤ ، ٣٧

٥٤	٣٧	١٦
----	----	----

الوحدة الثانية
بند (٦ - ٢)

السؤال الثالث أ) اجمع



٤ ٥

٧ +

٥	٢
---	---



الوحدة الرابعة
بند (٥ - ٤)

الوحدة الثالثة
بند (١ - ٣)

عَشَرَات	آحَاد
١	٦
	٢ +
١	٨



ب) اكتب الفرق

عَشَرَات	آحَاد
١	٧
	٢ -
١	٥



عَشَرَات	وَحَدَات

$$10 - 7 = 3$$

الوحدة الثالثة
بند (٣ - ٣)

السؤال الرابع : حوّل الإجابة الصحيحة

أ) القيمة المكانية للرقم ٥ في العدد ٥٤ هي -----

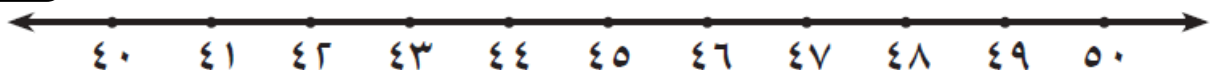
٤

٥٠

٥

ب) العشرة الأقرب إلى العدد ٤١ هي ----- (إلى أقرب عشرة

الوحدة الثانية
بند (٧ - ٢)

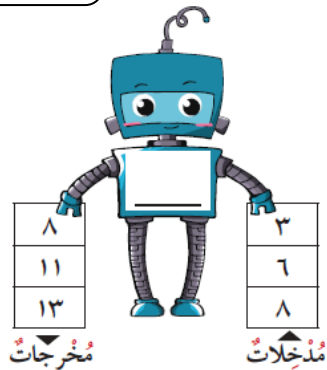


٤٠

٣٠

٥٠

الوحدة الرابعة
بند (٤ - ١)



ج) القاعدة المستخدمة لإيجاد المخرجات هي -----

اجمع ٣

اطرح ٥

اجمع ٥



د) عبارة الطرح ذات الصلة المناسبة لهذا التمثيل هي -----

$$٣ = ٨ - ١١$$

$$٤ = ٤ - ٨$$

$$٥ = ٣ - ٨$$

الوحدة الثالثة
بند (٤ - ٣)

الوحدة الثانية
بند (٩ - ٢)

هـ) العدد الفردي هو -----

١٥

٣٦

٤