



وزارة التربية

الإدارة العامة لمنطقة حولي التعليمية

التوجيه الفني للرياضيات

الاسم : .....

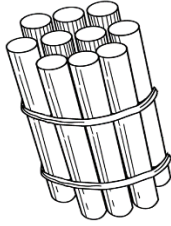
الصف : .....

الدرجة : ٢٠/.....

الاختبار التحصيلي (١) التجريبي  
للصف الأول الابتدائي  
للعام الدراسي ٢٠٢٢ / ٢٠٢٣

السؤال الأول :

(أ) اكتب رمز العدد الممثل






٤

٢

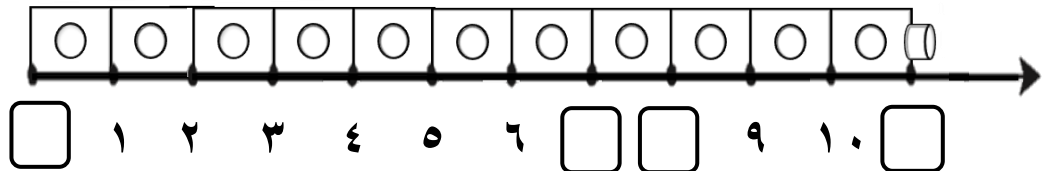
(ب) استكمل رسم العناصر بحسب العدد الموضح رمزه .



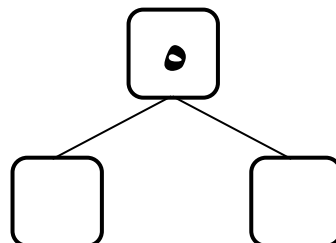
٣

السؤال الثاني : أكمل .

(أ)



(ب)




٣

السؤال الثالث : قارن بين العددين بوضع < أو > أو = .


٤

٢



٦

٩




٩

السؤال الرابع:



(أ) لون ٢




١



٤

(ب) حوٲ .

- الطبق الذي يحتوي على ٣ برتقالات



- العلبة التي بها ١٠ ألوان

