



وزارة التربية

الإدارة العامة لمنطقة حولي التعليمية

التوجيه الفني للرياضيات

الاسم : .....

الصف : .....

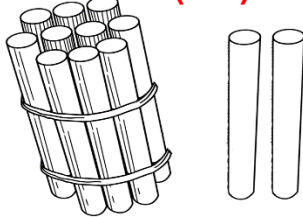
الدرجة : ٢٠/.....

الاختبار التحصيلي (١) التجريبي  
للفصل الأول الابتدائي  
للعام الدراسي ٢٠٢٢ / ٢٠٢٣

السؤال الأول :

(أ) اكتب رمز العدد الممثل

الوحدة الثالثة بند (٣-٩) ص ٨٢ ٢ درجة



١٢

الوحدة الثانية بند (٢-٦) ص ٥٢ ٢ درجة



٤

(ب) استكمل رسم العناصر بحسب العدد الموضح رمزه .

الوحدة الثانية بند (٢-٤) ص ٤٨

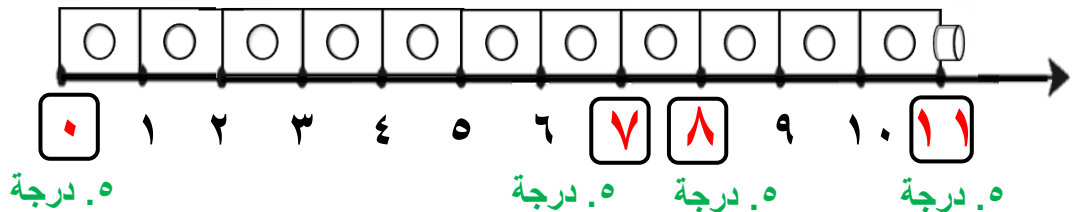


٣

السؤال الثاني : أكمل .

الوحدة الثالثة بند (٣-٨) ص ٨٠

(أ)



(ب)

الوحدة الثانية بند (٢-٨) ص ٥٦

١,٥ درجة

٤

١,٥ درجة

١

أو  
٤ و ١  
٢ و ٣  
٣ و ٢  
٢ و ٣

السؤال الثالث : قارن بين العددين بوضع < أو > أو = .

الوحدة الثالثة بند (١-٣) ص ٦٥

٤

٢ درجة


٢



٦

٢ درجة

٩




٩

السؤال الرابع:

الوحدة الثانية بند (٣-٢) ص ٤٦

١

(أ) لون ٢ .




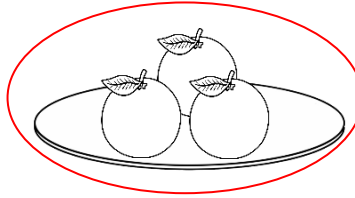
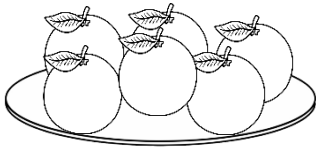
٥. درجة ٥. درجة

(ب) حوطة .

٤

الوحدة الثانية بند (٤-٢) ص ٤٨ ٢ درجة

- الطبق الذي يحتوي على ٣ برتقالات



الوحدة الثالثة بند (٧-٣) ص ٧٨ ٢ درجة

- العلبة التي بها ١٠ ألوان

