




اليوم:
التاريخ:
التقييم: 😞 😊

ورقة عمل ١٨

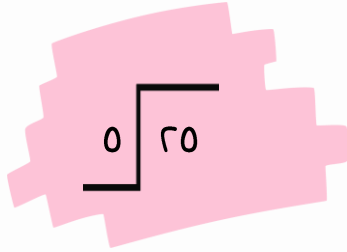
وزارة التربية
الإدارة العامة لمنطقة الجبراء التعليمية
التوجيه الفني للرياضيات

السؤال الأول: أكمل




$$\boxed{} = 3 \div 9$$
$$\boxed{} = \boxed{} \times \boxed{}$$

السؤال الثاني: أوجد ناتج ما يلي




$$\dots = 3 \div 24$$


$$\dots = 0 \div 0$$


$$\dots = 8 \div 32$$

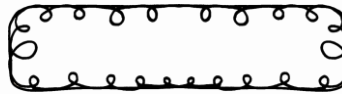

$$\dots = 0 \div 7$$



السؤال الثالث: لدى سعاد ٦ 🐟. تريد توزيعها بالتساوي على ٣ 🐟.



فكم 🐟 ستضع في كل 🐟



السؤال الرابع: أكمل

