


اليوم: .....  
التاريخ: .....  
التقييم: 😞 😊

## ورقة عمل ١٧


وزارة التربية  
الإدارة العامة لمنطقة الجهراء التعليمية  
التوجيه الفني للرياضيات

السؤال الأول: كون مجموعات من ٣ عناصر

$$9 = \square - \square - \square$$
$$\square = 3 \div 9$$




السؤال الثاني: حوط ثم أكتب الناتج



(ب)



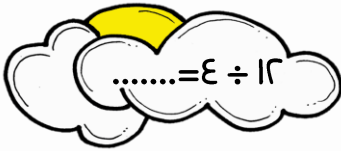
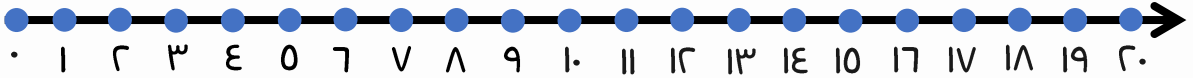
$$= 3 \div 10$$



(أ)

$$..... = 2 \div 8$$

السؤال الثالث: خط الأعداد يساعدنا لإيجاد الناتج في كل مما يلي



السؤال الرابع: لديك ٩ وردات ، وضعت ٣ وردات في كل فاقة. كم عدد الفاقات؟

يوم

$$\square = \square \div \square$$

