


اليوم: .....  
التاريخ: .....  
التقييم: 😞 😊

## ورقة عمل ٩

وزارة التربية  
الإدارة العامة لمنطقة الجهراء التعليمية  
التوجيه الفني للرياضيات

### السؤال الأول: أكمل



(ب)

$$\dots\dots\dots = \dots\dots\dots + \dots\dots\dots$$

$$\dots\dots\dots = \dots\dots\dots \times \dots\dots\dots$$

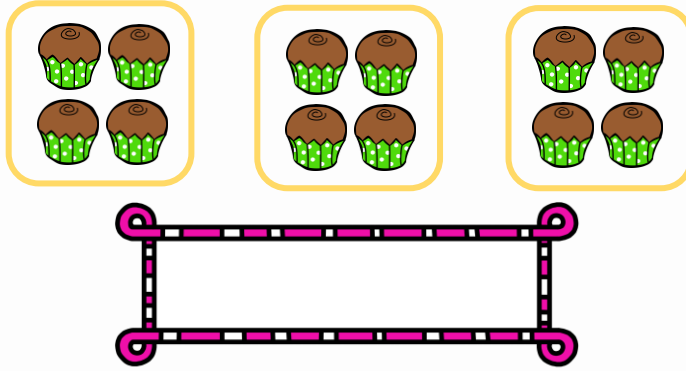


(أ)

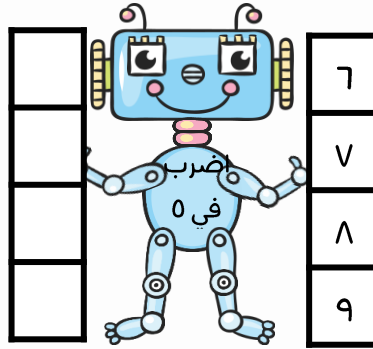
$$\dots\dots\dots = \dots\dots\dots + \dots\dots\dots$$

$$\dots\dots\dots = \dots\dots\dots \times \dots\dots\dots$$

### السؤال الثاني: أكتب عبارة ضرب مناسبة



### السؤال الثالث: أكمل



### السؤال الرابع: أسرة لديها ٥ أبناء ، أعطت الأم كل ابن ٥ دنانير

كم ديناراً أعطت الأم للأبناء؟

