

مدرستي معكم خطوة بخطوة للنجاح والتفوق



مدرستي

الكويتية

حمل التطبيق



مدرستي



الكويتية



اضغط هنا



وزارة التربية
الإدارة العامة للتعليم الخاص
التوجيه الفني للاجتماعيات

امتحان نهاية الفترة الدراسية الثانية
لمادة الاجتماعيات مقرر (الكويت والوطن العربي)
للمصف السابع المتوسط

العام الدراسي ٢٠٢١ - ٢٠٢٢ م
الزمن : ساعة ونصف
عدد الأوراق: ٥

أجب عن جميع الأسئلة التالية :

السؤال الأول : يتكون من (أ - ب - ج) :

(أ) أكمل العبارات التالية بما يناسبها: (١ × ٥ = ٥ درجات)

- ١- الصناعات التي تقتصر على استخراج مصادر الطاقة والخامات من باطن الأرض تسمى الاستخراجية. ص ١٤١
- ٢- أول مؤسسة للتنمية في الوطن العربي تسمى الصندوق الكويتي للتنمية. ص ١٨٤
- ٣- أقل الدول العربية من حيث عدد السكان تسمى جزر القمر. ص ١٠٠
- ٤- تبلغ نسبة إنتاج النفط الخام في الوطن العربي من نسبة إنتاج العالم حوالي ٣٠% . ص ١٢٧
- ٥- الدولة التي عقد بها أكبر مؤتمر للأمم المتحدة عام ١٩٩٢ م تسمى البرازيل. ص ١٦٧

(ب) اكتب المفاهيم أو المصطلحات الدالة على العبارات التالية: (١ × ٥ = ٥ درجات)

م	المفهوم	العبرة
١	الغلات النقدية	الغلات التي تزرع بهدف بغرض التجارة والحصول على نقد . ص ١١٣
٢	الموار البشرية	ترتبط بالسكان من حيث أعدادهم وتوزيعهم ومناسبة أعدادهم لمساحة الأرض التي يستغلونها . ص ١٠٩
٣	الكثافة السكانية	نسبة عدد السكان الكلي في دولة ما إلى المساحة الكلية لهذه الدولة . ص ١٠٢
٤	الغاز الطبيعي	غاز مصاحب للنفط الخام ، أو يوجد منفرداً ، يتم إرساله لاستخدامات عديدة . ص ١٢٥
٥	التبادل التجاري	عملية التصدير والاستيراد بين الدول . ص ١٥١

(ج) صنف مقومات الصناعة التالية حسب الجدول التالي :- (١ × ٥ = ٥ درجات)

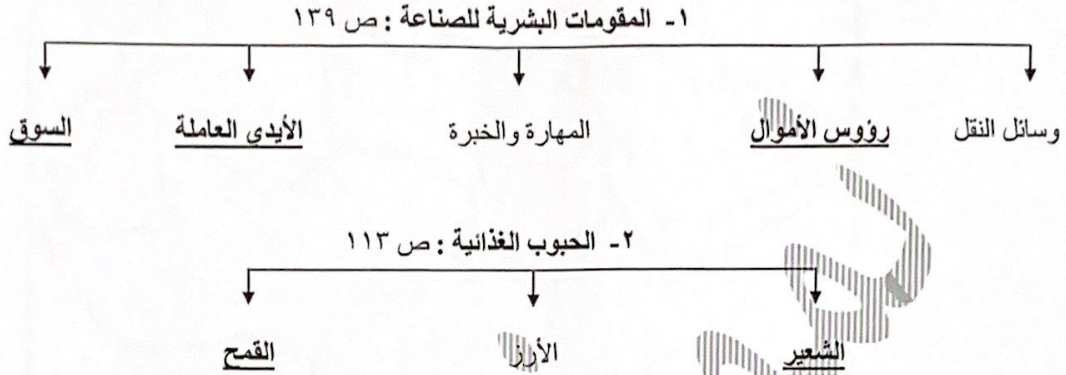
(البترول - نباتية - حيوانية - معدنية - الغاز الطبيعي) ص ١٣٩

المواد الخام	الطاقة
نباتية - حيوانية - معدنية	البترول - الغاز الطبيعي



السؤال الثاني : - يتكون من (أ - ب - ج) :

(أ) اكمل المخططات السهمية التالية : (١ × ٥ = ٥ درجات)



(ب) ضع خطأ تحت الخيار الصحيح من بين الخيارات التي تلي كل عبارة :- (١ × ٥ = ٥ درجات)

١- الدولة العربية التي تحتل المرتبة الأولى عربياً في إنتاج معدن الرصاص : ص ١٣٢

- المغرب - موريتانيا - السعودية - مصر

٢- نسبة الموارد المائية في العالم العربي والتي تأتي من خارج حدوده : ص ١١٤

- ٥٠ % - ٦٠ % - ٧٠ % - ٨٠ %

٣- العام الذي استضافة فيه دولة الكويت أكبر وأهم مؤتمر قمة عربية : ص ١٨٦

- ٢٠٠٦ م - ٢٠٠٧ م - ٢٠٠٨ م - ٢٠٠٩ م

٤- أكثر أنواع التلوث انتشاراً : ص ١٦٦

- البقايا الصلبة - الكيميائي - تراكم النفايات - المواد البلاستيكية

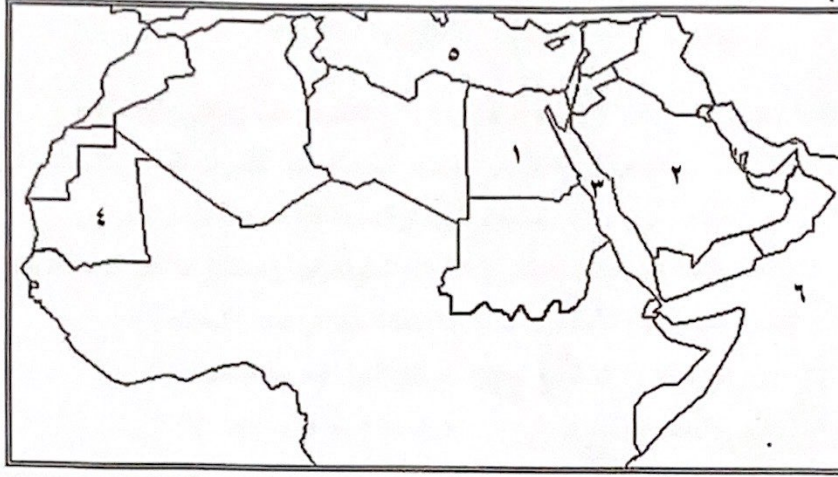
٥- عدد الدول العربية : ص ٩٩

- ٢٠ - ٢١ - ٢٢ - ٢٣

تابع / السؤال الثاني : -

(ج) لاحظ خريطة الوطن العربي التي أمامك ثم استخرج منها الرقم الدال على العبارات التالية :

(١ × ٥ = ٥ درجات)



- الدولة العربية الأولى في إنتاج النفط الخام يمثلها على الخريطة الرقم (٢) ص ١٢٩
- الدولة العربية الأولى في إنتاج معدن الحديد يمثلها على الخريطة الرقم (٤) ص ١٣٢
- أكثر الدول العربية من حيث السكان يمثلها على الخريطة الرقم (١) ص ١٠٠
- البحر الأحمر يمثل على الخريطة الرقم (٣) ص ١٣٣
- بحر العرب يمثل على الخريطة الرقم (٦) ص ١٣٣

السؤال الثالث : يتكون من (أ - ب - ج) :

(أ) نفذ المطلوب من بين الأقواس :

١ - حاجات الإنسان التي تؤمنها الصناعات التحويلية . (اذكرها) ص ١٤٢ (درجتان ويكتفى بنقطتين)
- المسكن . - الغذاء . - اللبس . - الأدوات . - الآلات .

٢ - طرق المحافظة على ثروة المياه . (عددها) ص ١٦٥ (ثلاث درجات ويكتفى بثلاث نقاط)
- ترشيد استخدام المياه والحد من التبذير في المنازل . - تطوير استعمال مياه الصرف الصحي المعالجة في الزراعة .
- الحد من هدر المياه في عمليات الري وذلك باستخدام الوسائل الحديثة كالرش بالتنقيط والمحوري .
- تنظيم عملية الاستفادة من المياه الجوفية ومنع تسرب الأملاح الملوثة إليها واستثمارها على الوجه الأمثل .
- إقامة البحيرات والسدود لتجميع مياه الأمطار والسيول للاستفادة منها في فصل الجفاف .
- توقيع اتفاقيات مع الدول المشاركة ودول المنبع لتحقيق مصالح الدول العربية المعنية .

(ب) عرف المفاهيم والمصطلحات التالية : (١ × ٥ = ٥ درجات)

م	المفهوم	العبارة
١	التوازن البيئي	بقاء عناصر الطبيعة في حالة من التوازن لتؤدي وظائفها على اكمل وجه . ص ١٧٠
٢	التصحّر	زحف رمال الصحراء على المناطق الجافة وشبه الجافة . ص ١٦٢
٣	الموارد الطبيعية	الثروات التي منحها الله لإقليم من دون أن يكون للإنسان أي دور في وجودها . ص ١٠٩
٤	التلوث	الضرر الذي يلحق بالتربة والهواء والماء، ويصيب التلوث عناصر البيئة من عدة مصادر للملوثات . ص ١٦٦
٥	التنمية	التطور والتطوير ، وهي عملية تتطلب التخطيط والمشاركة من الجميع . ص ١٧٢

(ج) علل لما يلي :

١ - تعد الصناعات الحرفية الصناعات الأولى في العالم . ص ١٤٣ (٣ درجات)
- تستخدم مواد أولية محلية . - تعتمد على المجهود البشري .
- تختص بعض العائلات باحتراف بعض منها حيث يتوارث فيها الأبناء الخبرة عن آبائهم .

٢ - تختلف أنواع المنتجات الزراعية من دولة عربية إلى أخرى . ص ١١٠ (درجتان ويكتفى بنقطتين)
- اختلاف المناخ . - التربة . - مدى توافر المياه في هذه الدول .



السؤال الرابع: يتكون من (أ - ب - ج):

(أ) برهن على صحة العبارات التالية :

- ١- تحتل الأغنام مكاناً مهماً ضمن الثروة الرعوية. ص ١١٨ (درجتان ويكتفى بنقطتين)
- الأكثر انتشاراً في المراعي العربية.
- أكثر الحيوانات المستأنسة والملائمة لمراعي الوطن العربي ، وذلك لتحملها الجفاف والانتقال .
- لأهمية منتجاتها بالنسبة للسكان . - لأنها مصدر أساسي من مصادر الثروة القومية .
- ٢- العقبات التي تواجه الإنتاج الزراعي في الوطن العربي . ص ١٦١ (درجتان ويكتفى بنقطتين)
- عدم استغلال الأراضي القابلة للزراعة لندرة مياه الري أو تذبذب الأمطار أو قلة الأيدي العاملة .
- اتباع طرق الزراعة التقليدية في معظم أجزاء الوطن العربي .
- زحف الرمال (التصحر) وانجراف التربة . - الرعي الجائر .
- تلوث التربة نتيجة للإسراف في استخدام المبيدات الحشرية وارتفاع نسبة الملوحة بالتربة .

(ب) قارن بين كل من :

وجه المقارنة	منظمة الدول المصدرة للنفط	منظمة الأقطار العربية المصدرة للنفط
	أوبك ص ١٣٤	أوابك ص ١٣٥
سنة التأسيس	١٩٦٠ م (درجة)	١٩٦٨ م (درجة)
المقر	- فيينا (درجة)	- الكويت. (درجة)
الدول المؤسسة (يكتفى بدولة واحدة)	الكويت - السعودية - العراق إيران - فنزويلا (درجة)	الكويت - السعودية - ليبيا (درجة)

(ج) اقرأ الفقرة التالية ثم أجب عن الأسئلة التالية : ص ١٦٣

عالجت الدول العربية المشكلات المرتبطة بالزراعة بسياسة تنموية وخطط استراتيجية حققت زيادة في الإنتاج وزيادة المساحة المزروعة .

- ١- استنتج ما حققته الدول العربية في معالجة مشاكل الزراعة . (ثلاث درجات ويكتفى بثلاث نقاط)
- زيادة الإنتاج .
- زيادة المساحات المزروعة . - إقامة مشروعات الري .
- ٢- ما النتائج المترتبة على غياب سياسة زراعية على صعيد العالم العربي ؟ (درجتان ويكتفى بنقطتين)
- تشابه المحاصيل . - تنافسها في الأسواق العربية . - غياب محاصيل أخرى أساسية يمكن إنتاجها محلياً .





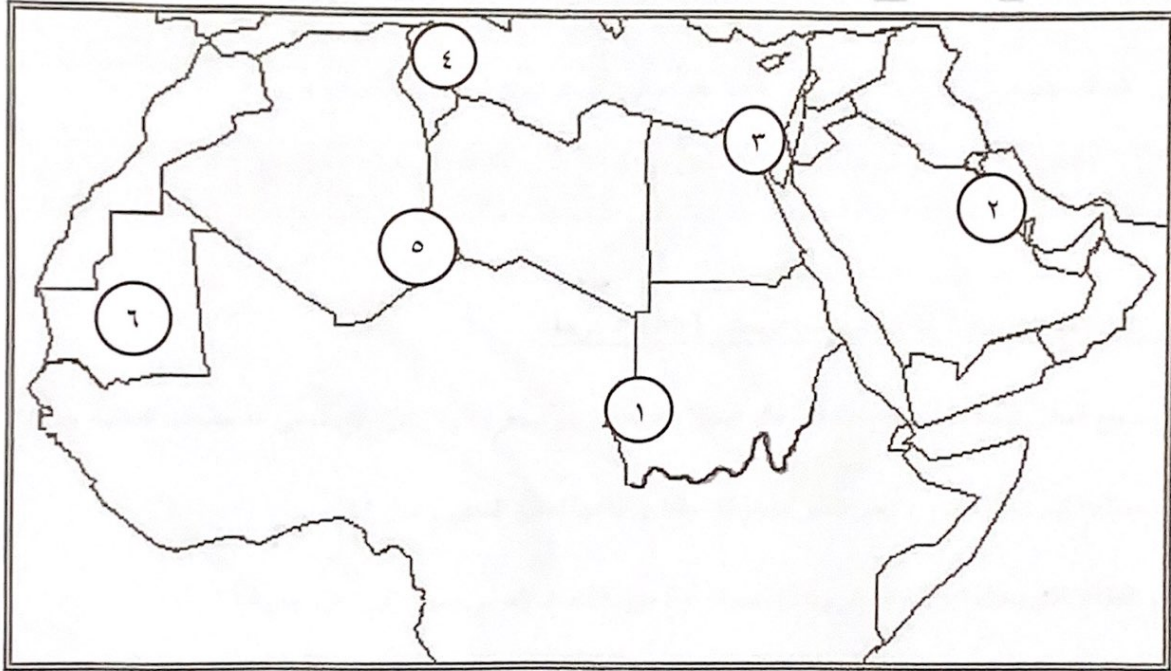
وزارة التربية
الإدارة العامة للتعليم الخاص
التوجيه الفني للاجتماعيات

امتحان المنهج الكامل
لمقرر الكويت والوطن العربي
للمصف السابع
(نموذج الإجابة)

العام الدراسي: ٢٠٢١/٢٠٢٢ م
الزمن: ساعة ونصف
عدد الصفحات: (٥)

- السؤال الأول: ويتكون من (أ - ب - ج):

أ- أمامك خريطة الوطن العربي الصماء - أكتب الرقم الدال على العبارات التالية:



- ١ - قناة السويس يمثلها على الخريطة الرقم (٣). ص ٢٨
- ٢ - جبل مره يمثلها على الخريطة الرقم (١). ص ٣٨
- ٣ - نهر المجردة يمثلها على الخريطة الرقم (٤). ص ٤٢-٥٨
- ٤ - حضارة دلمون يمثلها على الخريطة الرقم (٢). ص ٧١
- ٥ - الدولة العربية الأولى في انتاج الحديد يمثلها على الخريطة الرقم (٦). ص ١٣٢-١٣٣



تابع/ السؤال الأول:

ب- اكتب المفهوم أو المصطلح الدال على العبارات التالية: $5 \times 1 = 5$ درجات

المفهوم أو المصطلح	العبارات
التنمية	تعني التطور والتطوير وهي عملية تتطلب التخطيط والمشاركة من الجميع. ص ١٧٢
التصحّر	زحف رمال الصحراء على المناطق الجافة وشبه الجافة. ١٦٢
الضغط الجوي	وزن الهواء فوق أي مكان. ص ٤٤
النبات الطبيعي	النبات الذي ينمو تلقائياً عقب سقوط المطر دون تدخل من الإنسان. ص ٥١
الجبل	هو كل ما ارتفع من الأرض وله قمة لا يقل ارتفاعها عن ١٠٠٠ متر. ص ٣٨

ج- أكمل العبارات التالية بما يناسبها مما درست: $5 \times 1 = 5$ درجات

- ١- جميع أشكال المياه على سطح الأرض مثل البحار والمحيطات والبحيرات والأنهار.. الخ تسمى المسطحات المائية. ص ٢٨
- ٢- مساحة كبيرة من سطح الأرض تتميز باستوائها وقلة ارتفاعها تسمى السهول. ص ٤٢
- ٣- القطاع الذي يحتل المرتبة الأولى ويشكل نسبة ٥٠٪ من الاقتصاد العربي يسمى الزراعي. ص ١١٠
- ٤- بقاء عناصر الطبيعة في حالة من التوازن لتؤدي وظائفها على أكمل وجه يسمى التوازن البيئي. ص ١٧٠
- ٥- تم إنشاء الصندوق الكويتي للتنمية الاقتصادية العربية في عام ١٩٦١ م. ص ١٧٩



- السؤال الثاني: ويتكون من (أ - ب - ج):

أ- ظلل (أ) إذا كانت العبارة صحيحة و الحرف (ب) إذا كانت العبارة خاطئة فيما يلي: $٥ \times ١ = ٥$ درجات

ب	أ	العبارات
		١- أكثر الأشكال التضاريسية انتشاراً في الوطن العربي هي التلال. ص ٤٠
		٢- يتركز سكان جمهورية مصر العربية في (وادي النيل ودلتاه). ص ١٠٢
		٣- تبلغ نسبة انتاج النفط الخام ٣٠٪ في الوطن العربي بالنسبة للعالم. ١٢٧
		٤- الطقس هو حالة الجو في مكان لمدة زمنية طويلة. ص ٤٤
		٥- أصبحت دولة الكويت تعتمد اعتماداً كاملاً على تحلية مياه البحار منذ عام ١٩٥٣م. ص ٦١

ب- ضع خطاً تحت الكلمة التي لا تنتمي إلى المجموعات التالية: $٥ \times ١ = ٥$ درجات

- ١- دول الجناح الأفريقي في الوطن العربي. (موريتانيا - تونس - جيبوتي - لبنان) ص ٢٣
- ٢- المقومات البشرية للصناعة. (رؤوس الأموال - المواد الخام - الأيدي العاملة - السوق) ص ١٣٩
- ٣- جوهر التنمية المستدامة. (المحسوبية - الحزبية - المعرفة - العمل الجماعي) ص ١٧٦
- ٤- الحضارات في الوطن العربي. (بلاد اليمن - بلاد الرافدين - الفارسية - مصر القديمة) ص ٧١
- ٥- مراكز انتقال الحضارة العربية الإسلامية إلى أوروبا. (الأندلس - صقلية - بلاد الشام - الصين) ص ٩٢

ج- صنف الكلمات الواردة ما بين القوسين بمكانها الصحيح في الجدول التالي: $٥ \times ١ = ٥$ درجات ص ١٤١-١٤٢

(الخشب والأوراق - النفط - الغذائية - المعادن - الإنشائية)

صناعات تحويلية	صناعات استخراجية
الخشب والأوراق	النفط
الغذائية	المعادن
الإنشائية	

- السؤال الثالث: ويتكون من (أ - ب - ج):

أ- أجب عن الأسئلة التالية: (يكتفى بإجابتين لكل سؤال فقط) $3 \times 2 = 6$ درجات

١- عدد مقومات الهوية العربية؟ ص ٢٦

- الدين - اللغة

- التراث - الأهداف المشتركة

٢- ما اهم مميزات النباتات الصحراوية؟ ص ٥٢

- تقاوم الجفاف من خلال عدة وسائل. - جذورها طويلة.

- القدرة على خزن المياه. - تحمي نفسها بلحاء سميك وأوراق إبرية.

٣- أذكر أهم الإحصاءات السكانية؟ ص ٩٩

- التعداد السكاني.

- الإحصاء الحيوي.

ب- فرق بين كل من المفاهيم والمصطلحات التالية: $6 \times 1 = 6$ درجات

الموارد البشرية ص ١٠٩	الموارد الطبيعية ص ١٠٩
هي التي ترتبط بالسكان من حيث أعدادهم وتوزيعهم ومناسبة أعدادهم لمساحة الأرض التي يستغلونها.	الثروات التي منحها الله لإقليم من دون أن يكون للإنسان أي دور في وجودها. مثل: الثروات المعدنية والغابات والمراعي والموارد المائية وموقع الإقليم.
المضيق ص ٢٨	القناة ص ٢٨
ممر مائي يصل بين بحرين أو محيطين أو أي مساحتين كبيرتين نسبياً من الماء.	مجرى مائي صناعي ضيق يشق لأغراض الري أو النقل.
الاستبس ص ٥٢	السافانا ص ٥٢
هي حشائش قصيرة نوعاً ما تنمو في الشتاء خلال موسم سقوط الأمطار.	هي حشائش طويلة يختلف نوعها حسب كمية الأمطار.

ج- عَرِّف ما يلي: $3 \times 1 = 3$ درجات

١- الكثافة السكانية العامة: عدد السكان الكلي في دولة ما أو منطقة ما إلى المساحة الكلية لهذه الدولة أو المنطقة. ص ١٠٢

عدد السكان الكلي

المساحة الكلية

٢- النهر: مجرى مائي عذب ينحدر على الدوام لينتهي إلى بحر أو إلى نهر آخر أو ينتهي تدريجياً في الصحراء. ص ٥٨

٣- الحضارة: كل ما يطرأ على المجتمع من تقدم وتطور في جميع نواحي الحياة الدينية والسياسية والاقتصادية والاجتماعية والفكرية. ص ٧

- السؤال الرابع: ويتكون من (أ - ب - ج):

أ- اقرأ الفقرة التالية ثم أجب عن الأسئلة التي تليها: ص ١٨٦ $١ \times ٤ = ٤$ درجات

"عقد أكبر وأهم مؤتمر قمة عربية منذ تاريخ نشأة جامعة الدول العربية في دولة الكويت، ولقد كان الأمير الراحل الشيخ صباح الأحمد الجابر الصباح - رحمه الله - هو صاحب المبادرة لعقد القمة، إيماناً منه بأن العالم العربي يمر بمرحلة حرجية وتحديات خطيرة."

١- ما اسم الدولة المستضيفة للمؤتمر؟

- دولة الكويت.

٢- في أي عام عقد هذا المؤتمر؟

- يومي ١٩ - ٢٠ يناير ٢٠٠٩م.

٣- من هو صاحب المبادرة لعقد المؤتمر؟

- الأمير الراحل الشيخ صباح الأحمد الجابر الصباح.

٤- ما هي أولويات هذا المؤتمر؟

- إعادة تعمير قطاع غزة بعد تعرضه للغزو الإسرائيلي الغاشم.

ب- علل لما يلي: ٧ درجات

١- الأهمية الحضارية والثقافية للوطن العربي. ص ٣٦ (درجتان)

- قامت على أرض الوطن العربي حضارات عديدة. - وهبطت على أرضه الديانات السماوية التي انتشرت في أنحاء العالم.

٢- اختلاف المنتجات الزراعية من دولة عربية إلى أخرى. ص ١١٠ (درجتان) يكتفى بنقطتين

- بسبب اختلاف المناخ والتربة.

٣- يعاني الوطن العربي من عدة مشكلات تواجه التنمية البشرية. ص ١٧٥ يكتفى بنقطتين (درجتان)

- ضعف الاستفادة من القدرات البشرية في المنطقة العربية. - نقص ومحدودية مشاركة المرأة في المنظمات السياسية.

- مشكلة الأمية. - الاختلاف الكبير في مستويات المعيشة بين دولة وأخرى، وفي داخل الدولة الواحدة.

٤- كانت أوروبا منذ القرن العاشر الميلادي تعيش في عصور الظلام. ص ٩٢ (درجة واحدة)

- بسبب سيطرة الكنيسة على عقول الناس.

ج- قارن بين كل من: ص ١٣٤ - ١٣٥ ٤ درجات

أوجه المقارنة	تاريخ التأسيس	مقرها
أوبك	١٩٦٠م	فيينا
أوابك	١٩٦٨م	الكويت