



وزارة التربية  
التوجيه العام للاجتماعيات

# للفص السابع المتوسط

## بنك أسئلة لمقرر الدراسات الإجتماعية الكويت و الوطن العربي

للعام الدراسي  
٢٠٢٢/٢٠٢١



إيمان السويحل  
الموجه الفني العام للاجتماعيات

الموجه الأول للاجتماعيات بالإنابة  
أ / مساعد حسين الغريب

إعداد الموجهة الفنية  
أ / نشمية مطر المطيري

الموجه العام للاجتماعيات  
أ / إيمان السويحل

إشراف الموجه الأول بالإنابة  
أ / مساعد الغريب

# الوحدة الثالثة

## الوطن العربي

### ملامح بشرية واقتصادية

## السؤال الأول : أكمل العبارات التالية بما يناسبها فيما درست:

- يبلغ سكان الوطن العربي حوالي ٣٨٢ مليون نسمة ص ٩٩
- تبلغ مساحة الوطن العربي حوالي ١٣,٥ مليون كم ص ٩٩
- يبلغ عدد الدول العربية ٢٢ دولة ص ٩٩
- يتوزع سكان الوطن العربي بين قارتي أفريقيا و آسيا ص ٩٩
- تبلغ نسبة سكان الوطن العربي في القارة الأفريقية حوالي ٧٠٪ ص ٩٩
- تبلغ نسبة سكان الوطن العربي في القارة الآسيوية حوالي ٣٠٪ ص ٩٩
- يتوزع سكان الوطن العربي بنسبة ٧٠٪ في القارة الأفريقية بينما يتوزع بنسبة ٣٠٪ في القارة الآسيوية ص ٩
- العام الذي تم فيه إجراء أول تعداد سكاني في دولة الكويت هو ١٩٥٧ م ص ٩٩
- العام الذي أنشأت فيه الأداة المركزية للإحصاء في الكويت عام ١٩٦٣ م ص ٩٩
- أكبر الدول العربية من حيث المساحة في الجناح الأفريقي تسمى الجزائر ص ١٠٠
- أصغر الدول العربية من حيث المساحة في الجناح الأفريقي تسمى جزر القمر ص ١٠٠
- أكبر الدول العربية من حيث المساحة في الجناح الآسيوي تسمى السعودية ص ١٠٠
- أصغر الدول العربية من حيث المساحة في الجناح الآسيوي تسمى البحرين ص ١٠٠
- يبلغ عدد سكان الوطن العربي في الجناح الآسيوي حوالي ١٥٠,٩٢٧ مليون نسمة ص ١٠١
- يبلغ عدد سكان الوطن العربي في الجناح الأفريقي حوالي ٢٣١٣٨٤ مليون نسمة ص ١٠١
- الدولة العربية التي تعاني من سوء توزيع السكان تسمى مصر ص ١٠٢
- القطاع الذي يمثل المرتبة الأولى من اقتصاد الوطن العربي يسمى القطاع الزراعي ص ١١٠
- من أهم المزروعات في الوطن العربي تعرف باسم الحبوب الغذائية ص ١١٣
- المزروعات التي تتطلب ظروف مناخية خاصة وتتركز معظمها في حوض البحر المتوسط الفواكه والثمار ص ١١٣
- الدولة العربية الأولى في إنتاج محصول الذرة تسمى مصر ص ١١٤
- الدولة العربية الأولى في إنتاج محصول الأرز تسمى مصر ص ١١٤

- الدولة العربية الأول في إنتاج محصول القطن والموالح تسمى مصر ص ١١٤
- الدولة العربية الأول في إنتاج محصول قصب السكر تسمى مصر ص ١١٤
- أكثر أنواع الثروة الرعوية انتشارا في الوطن العربي تسمى الأغنام ص ١١٨
- الدولة العربية الأول في إنتاج الأغنام والماعز والأبقار تسمى السودان ص ١١٨
- الدولة العربية الأول في إنتاج الأبل تسمى الصومال ص ١١٨
- تمتلك الصومال من ثروة الوطن العربي الرعوية ( الأبل ) ما نسبته حوالي ٦,٦٪ ص ١١٩
- الدولة العربية التي تحتل المركز الثالث في إنتاج واحتياط النفط تسمى الكويت ص ١١٩
- الدولة العربية التي تحتل المركز الثاني في إنتاج واحتياط النفط تسمى العراق ص ١١٩
- الدولة العربية التي تحتل المركز الأول في إنتاج معدن الحديد تسمى موريتانيا ص ١٣٢
- العام الذي تأسست به منظمة الأوبك العالمية المصدرة للبترول هو ١٩٦٠م ص ١٣٤
- الصناعات التي تقتصر علي استخراج مصادر الطاقة تعرف باسم الصناعات الاستخراجية ص ١٤١
- الصناعات التي تعد من الصناعات الأولى في العالم تعرف باسم الصناعات الحرفية ص ١٤٣
- الأسواق التي تحتل المكانة الأولى بالنسبة للصادرات العربية تعرف باسم الأسواق الأوروبية
- يقدر معدل النمو السكاني في الوطن العربي حسب إحصائية عام ٢٠٠٦م حوالي ٢,٢٠٪
- تبلغ نسبة إنتاج النفط في منطقة دول الخليج العربي وسهول دجلة والفرات حوالي ٨٠٪ ص ١٢٦
- تبلغ نسبة إنتاج النفط في منطقة الصحراء الكبرى حوالي ١٨٪ ص ١٢٦
- تبلغ نسبة إنتاج النفط في منطقة خليج السويس حوالي ٤,٧٪ ص ١٢٦
- المدينة التي يقع فيها مقر المنظمة العالمية المصدرة للبترول أوبك تسمى فيينا ص ١٣٤
- المدينة التي يقع فيها مقر المنظمة العربية المصدرة للبترول أوبك تسمى الكويت ص ١٣٥
- تبلغ نسبة الصادرات بين الدول العربية حوالي ٨٪ ص ١٥١
- تبلغ نسبة الواردات بين الدول العربية حوالي ٧,٤٪ ص ١٥١



## السؤال الثاني : اكتب المصطلح الدال على العبارات التالية :

- ١- حصول الدولة علي معلومات وافية عن أوضاع سكانها عددهم – عدد كل جنس- أعمارهم وغير ذلك من معلومات ( التعداد السكاني ) ص ٩٩
- ٢- تسجيل المواليد والوفيات وحالات الزواج والطلاق ونحصل علي بياناتهم من واقع السجلات الرسمية للدولة . (الإحصاء الحيوي ) ص ٩٩
- ٣- عدد السكان الكلي المساحة الكلية (الكثافة السكانية ) ص ١٠٢
- ٤- الثروات التي منحها الله لأقليم من دون أن يكون للإنسان أي دور في وجودها ( الموارد الطبيعية ) ص ١٠٩
- ٥- هي ما ترتبط بالسكان من حيث أعدادهم وتوزيعهم ومناسبة أعدادهم لمساحة الأرض التي يشغلونها ( الموارد البشرية ) ص ١٠٩
- ٦- تشمل الغلات التي تدخل في الصناعة وتزرع بغرض التجارة والحصول علي نقد تسمى الغلات النقدية مثل البن- الشمندر – الزيتون – فصب السكر . ( الغلات الصناعية والتجارية ) ص ١١٣
- ٧- الغلات الزراعية التي تدخل في الصناعة وتزرع بغرض التجارة والحصول علي النقد ( الغلات النقدية ) ص ١١٣
- ٨- بقايا عضوية علي هيئة نباتات وحيوانات ترسبت في عصور قديمة وانطمرت تحت رواسب سميكة وتحولت بفعل الضغط والحرارة لصورتها الحالية ( النفط ) ص ١٢٥
- ٩- قوي محركة للآلات وعنصر مهم للتقدم الاقتصادي في جميع المجالات ( الطاقة ) ص ١٢٥
- ١٠- غاز مصاحب للنفط الخام أو يوجد منفردا تتم إسلته لاستخدامات عديدة ( الغاز الطبيعي ) ص ١٢٥
- ١١- منظمة عالمية مصدرة للبترول ( منظمة الأوبك ) ص ١٣٤
- ١٢- منظمة عربية مصدرة للبترول ( منظمة الأوبك ) ص ١٣٥
- ١٣- تحول المواد الأولية إلي سلع ومنتجات تباع بالسوق ( الصناعة )
- ١٤- العوامل التي تساعد علي تحويل المادة الخام إلي سلع استهلاكية ( مقومات الصناعة ) ص ١٣٩
- ١٥- تركيب وجمع المواد المصنعة للحصول علي سلع متنوعة ( الصناعات التجميعية ) ص ١٤٣
- ١٦- الصناعات الهادفة لتنقية الخامات المعدنية وتحويلها الي صفائح أو سبائك لتنفيذ صناعات معدنية مختلفة (الصناعات التعدينية) ص ١٤١
- ١٧- تحول المواد الأولية من معدنية نباتية وحيوانية لسلع استهلاكية صالحة للاستعمال ( الصناعات التحويلية ) ص ١٤٢
- ١٨- استخراج مصادر الطاقة كالنفط والغاز والفحم وخامات المعادن والأملاح وغيرها من باطن الأرض واعادها لتصبح جاهزة للتصنيع ( الصناعات الاستخراجية ) ص ١٤١

١٩- تعد هذه الصناعات الأولى في العالم وتستخدم مواد أولية محلية وتعتمد علي المجهود البشري ( الصناعات الحرفية ) ص ١٤٣

٢٠- عملية التصدير والاستيراد بين الدول ( التبادل التجاري ) ص ١٥١

٢١- التبادل التجاري بين الدول العربية ( التجارة البينية ) ص ١٥١

### السؤال الثالث : ضع خطأً تحت الخيار الصحيح من بين الخيارات التي تلي كل عبارة :

١- أكثر الدول العربية من حيث عدد السكان في الجناح الأفريقي تسمى :

( ليبيا - مصر - الأردن - الجزائر ) ص ١٠٠

٢- أقل الدول العربية من حيث عدد السكان في الجناح الأفريقي تسمى :

( مصر - الجزائر - السودان - جزر القمر ) ص ١٠٠

٣- أكثر الدول العربية من حيث عدد السكان في الجناح الآسيوي تسمى :

( العراق - الكويت - لبنان - قطر ) ص ١٠٠

٤- أقل الدول العربية من حيث عدد السكان في الجناح الآسيوي تسمى :

( قطر - الكويت - البحرين - العراق ) ص ١٠٠

٥- الدولة العربية الأولى في انتاج النفط واحتياطه تسمى :

( الكويت - قطر - السعودية - عمان ) ص ١٢٩

٦- الدولة العربية الأولى في انتاج واحتياط الغاز الطبيعي تسمى :

( قطر - الكويت - السعودية - البحرين ) ص ١٢٩

٧- الدولة العربية الأولى في انتاج معدن الفوسفات - الرصاص - النحاس - المنجنيز تسمى :

( تونس - المغرب - ليبيا - مصر ) ص ١٣٢

٨- العام الذي أنشأت به المنظمة العربية المصدرة للبترول الأوابك هو :

( ١٩٦٥م - ١٩٦٦م - ١٩٦٧م - ١٩٦٨م ) ص ١٣٥

٩- يتفوق الجناح الآسيوي عن الجناح الأفريقي في انتاج واحتياط :

( النفط - الغاز الطبيعي - المعادن - النفط والغاز الطبيعي ) ص ١٢٨

١٠- يشكل القطاع الزراعي ما نسبته من الاقتصاد العربي حوالي :

( ٣٠ % - ٤٠ % - ٥٠ % - ٦٠ % ) ص ١١٠

**السؤال الرابع : صنف الكلمات التالية في مكانها المناسب في الجدول :**

( حديد - نحاس - خشب - آلات ومعدات - مواد غذائية - أثاث  
- الأسواق - الحليب) ص ١٣٧

مراحل الصناعة	مواد أوليه	تحويل وتصنيع	توزيع
	حديد خشب نحاس الحليب	الآلات ومعدات مواد غذائية أثاث	الأسواق

(الشعير - البن - القطن - العنب - الأرز - الموز - التمر - القمح - قصب السكر - الموالح  
- الذرة الشامية ) ص ١١٣

الحبوب الغذائية	الغلات النقدية	الفواكه والثمار
الذرة الشامية الأرز الشعير القمح	القطن قصب السكر البن	قصب السكر الموز العنب التمر الموالح

( التربة - المناخ - التقدم العلمي - جهد الإنسان - رأس المال - التضاريس - المياه ) ص ١١١

مقومات قيام الزراعة الطبيعية	مقومات قيام الزراعة البشرية
التربة المناخ التضاريس المياه	التقدم العلمي جهد الإنسان رأس المال

( السعودية – اليمن – الصومال – المغرب – مصر - سوريا ) ص ١١٤

الغلة الزراعية	التمور	العنب	الشعير	البن	الموز	القمح
الدولة العربية	السعودية	سوريا	المغرب	اليمن	الصومال	مصر

( تعليب الفواكه والخضروات – الأثاث – استخراج المعادن – زجاج – صهر الحديد – قطع الأخشاب )

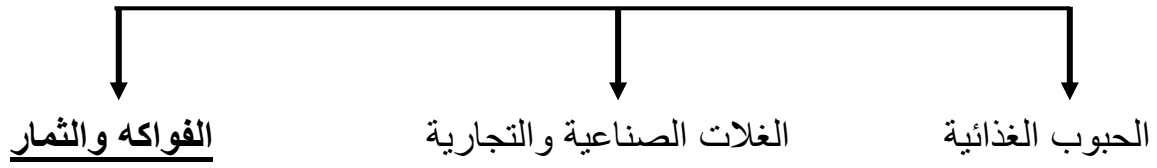
صناعات استخراجية ص ١٤١	صناعات تحويلية ص ١٤٢
استخراج المعادن زجاج قطع الأخشاب	تعليب الفواكه والخضروات الأثاث صهر الحديد

( الأسمدة – البشوت - الأسمنت – الفخار – السجاد – السيارات – الأجهزة الكهربائية – أنابيب بلاستيك )

صناعات حرفية ص ١٤٣	صناعات بتروكيميائية ص ١٤٥	صناعات تجميعية ص ١٤٣
البشوت الفخار السجاد	الأسمنت الأسمدة	الأجهزة الكهربائية أنابيب بلاستيك السيارات

## السؤال الخامس : أكمل المخططات السهمية التالية :

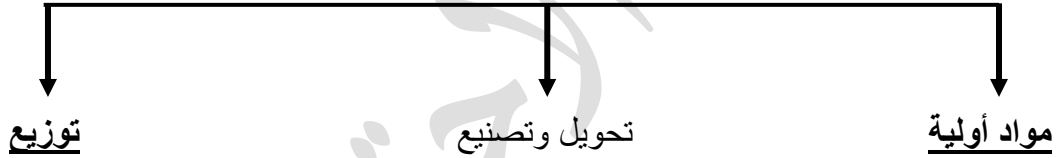
١- المحاصيل الزراعية في الوطن العربي ص ١١٣



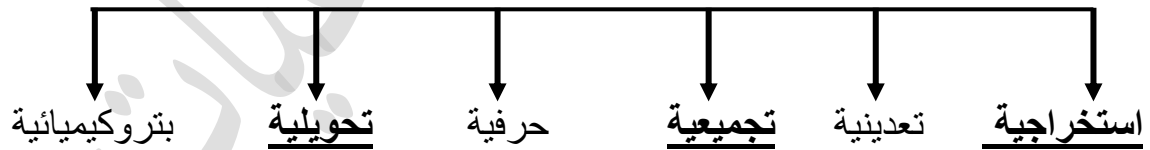
٢- يمتلك الوطن العربي أنواع كثيرة من الثروة الرعوية ص ١١٩



٣- مراحل الصناعة ص ١٣٧



٤- أنواع الصناعات في الوطن العربي ص ١٤١

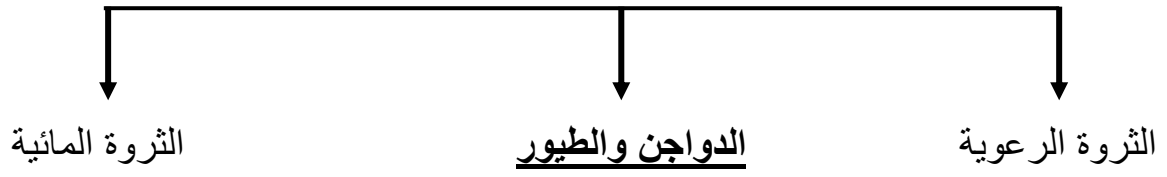


٥- العوامل المؤثرة في توزيع السكان ص ١٠٤

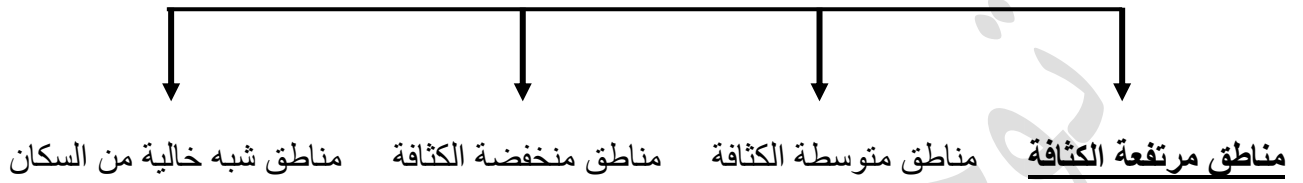




٦- أنواع الإنتاج الحيواني ص ١١٧



٧- تقسم مناطق الوطن العربي من حيث الكثافة ص ١٠٣



**السؤال السادس : صل عبارات المجموعة (أ) بما يناسبها من المجموعة (ب):**

الرقم	المجموعة (أ)	الرقم	المجموعة (ب)
١	نسبة إنتاج دول الخليج العربي وسهول دجلة والفرات من النفط	٥	%٦٦,٥
٢	نسبة إنتاج الصحراء الكبرى من النفط	٢	%١٨
٣	نسبة إنتاج منطقة خليج السويس من النفط	٦	%٩٠
٤	نسبة إنتاج النفط في الجناح الأفريقي	٣	%٤,٧
٥	نسبة إنتاج الجناح الآسيوي من الغاز الطبيعي	٤	%١٢
٦	نسبة احتياط الجناح الآسيوي من النفط	١	%٨٠

الرقم	المجموعة (أ)	الرقم	المجموعة (ب)
١	نسبة إنتاج الوطن العربي من النفط بالنسبة للعالم	٤	%٥٥
٢	نسبة احتياط الوطن العربي من النفط بالنسبة للعالم	٣	%١٦,٥
٣	نسبة إنتاج الوطن العربي من الغاز الطبيعي بالنسبة للعالم	١	%٣٠
٤	نسبة احتياط الوطن العربي من الغاز الطبيعي بالنسبة للعالم	٢	%٥٥

الرقم	المجموعة (أ)	الرقم	المجموعة (ب)
١	نسبة إنتاج الوطن العربي من معدن الفوسفات بالنسبة للعالم	٥	٣,٣%
٢	نسبة إنتاج الوطن العربي من معدن الحديد بالنسبة للعالم	٣	٦,٦%
٣	نسبة إنتاج الوطن العربي من معدن الرصاص بالنسبة للعالم	١	٢٥%
٤	نسبة إنتاج الوطن العربي من معدن النحاس بالنسبة للعالم	٢	١,٢%
٥	نسبة إنتاج الوطن العربي من معدن المنجنيز بالنسبة للعالم	٤	٠,١٣

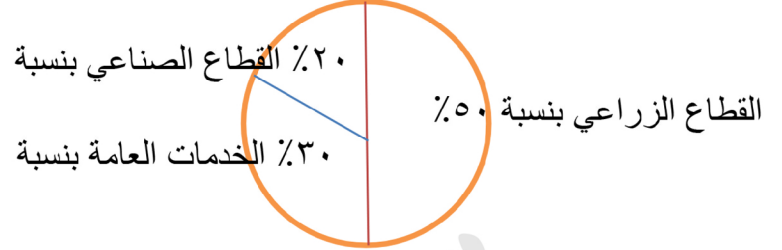
الرقم	المجموعة (أ)	الرقم	المجموعة (ب)
١	نسبة القطاع الصناعي في الاقتصاد العربي	٢	٥٠%
٢	نسبة القطاع الزراعي في الاقتصاد العربي	٣	٣٠%
٣	نسبة قطاع الخدمات العامة في الاقتصاد العربي	١	٢٠%

الرقم	المجموعة (أ)	الرقم	المجموعة (ب)
١	العتب	٢	مصر
٢	القطن	٤	الصومال
٣	التمور	٥	اليمن
٤	الموز	٣	السعودية
٥	البن	١	سوريا

## السؤال السابع : حدد على الدائرة البيانية نسب القطاعات التي تشكل الاقتصاد في الوطن العربي

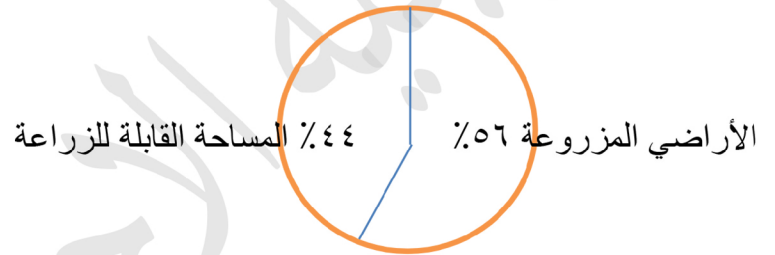
(١)

القطاع الصناعي بنسبة ٢٠٪ - القطاع الزراعي بنسبة ٥٠٪ - الخدمات العامة بنسبة ٣٠٪



(٢)

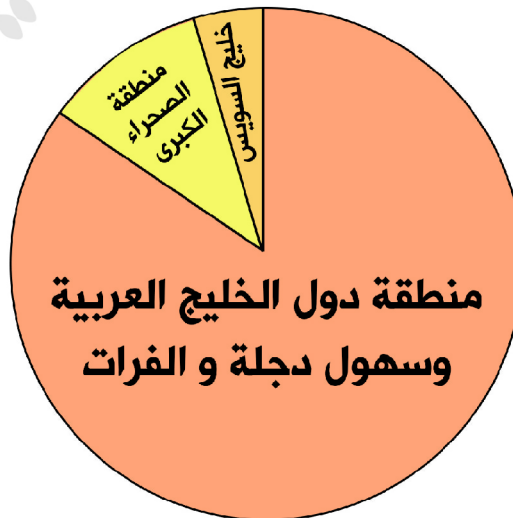
مساحة الأراضي المزروعة بنسبة ٥٦٪ من المساحة القابلة للزراعة



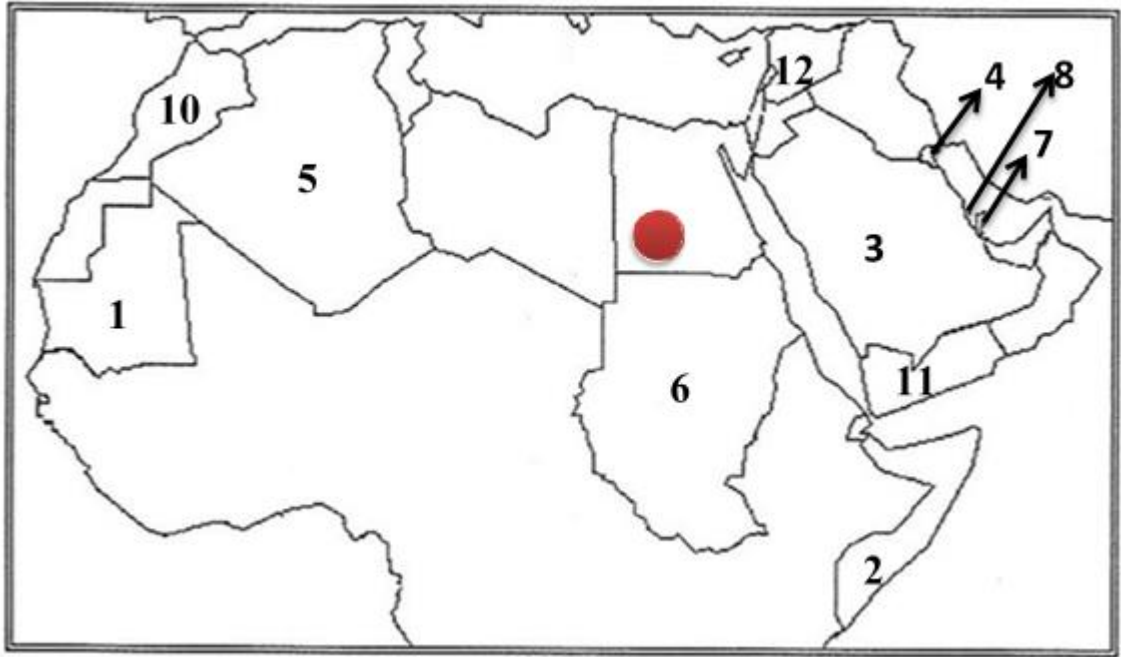
(٣)

المناطق الرئيسية التي تتركز فيها معظم حقول البترول في الوطن العربي

١- منطقة الصحراء الكبرى ١٨٪ ٢- منطقة الخليج وسهول دجلة والفرات ٨٠٪ ٣- خليج السويس ٤,٧٪



**السؤال الثامن : أمامك خريطة صماء للوطن العربي حدد عليها ما يلي :**



- الرقم (١) علي الخريطة يمثل دولة عربية تحتل المركز الأول في انتاج معدن الحديد تسمى موريتانيا
- الرقم (٦) علي الخريطة يمثل الدولة العربية الأولى في انتاج الأغنام تسمى السودان
- الرقم (٤) علي الخريطة يمثل مقر منظمة الأوبك في دولة تسمى الكويت
- الدولة العربية الأولى في انتاج محصول الموز يمثلها علي الخريطة الرقم (٢)
- الدولة العربية التي تحتل المرتبة الأولى من حيث المساحة يمثلها علي الخريطة الرقم (٥)
- الدولة العربية التي تحتل المرتبة الأولى في انتاج الغاز الطبيعي واحتياطه يمثلها علي الخريطة الرقم (٧)
- أصغر الدول العربية في الجناح الآسيوي من حيث المساحة يمثلها علي الخريطة الرقم (٨)
- الدولة العربية الأولى في إنتاج النفط واحتياطه يمثلها علي الخريطة الرقم (٣)
- الدولة العربية الأولى في انتاج الشعير يمثلها علي الخريطة الرقم (١٠)
- الدولة العربية الأولى في انتاج البن يمثلها علي الخريطة الرقم (١١)
- الدولة العربية الأولى في انتاج العنب يمثلها علي الخريطة الرقم (١٢)
- ضع رمز ● للدولة العربية الأولى في إنتاج الأرز



# الأسئلة المقالية

## السؤال الأول : عرف المفاهيم التالية :

- ١- **التعداد السكاني:** حصول الدولة علي معلومات وافية عن أوضاع سكانها عددهم – عدد كل جنس- أعمارهم وغير ذلك من معلومات
- ٢- **الإحصاء الحيوي :** تسجيل المواليد والوفيات وحالات الزواج والطلاق ونحصل علي بياناتهم من واقع السجلات الرسمية للدولة .
- ٣- **الكثافة السكانية :** عدد السكان ÷ مساحة الدولة
- ٤- **الغلات الصناعية والتجارية :** تشمل الغلات التي تدخل في الصناعة وتزرع بغرض التجارة والحصول علي نقد تسمى الغلات النقدية مثل البن- الشندر – الزيتون – فصب السكر .
- ٥- **النفط :** بقايا عضوية علي هيئة نباتات وحيوانات ترسبت في عصور قديمة وانطمرت تحت رواسب سميكة وتحولت بفعل الضغط والحرارة لصورتها الحالية .
- ٦- **الطاقة :** قوي محركة للآلات وعنصر مهم للتقدم الاقتصادي في جميع المجالات .
- ٧- **الغاز الطبيعي :** غاز مصاحب للنفط الخام أو يوجد منفردا تتم إسالته لاستخدامات عديدة.
- ٨- **منظمة الأوبك :** منظمة عالمية مصدرة للبترول .
- ٩- **منظمة الأوابك :** منظمة عربية مصدرة للبترول.
- ١٠- **الصناعة :** تحول المواد الأولية إلي سلع ومنتجات تباع بالسوق.
- ١١- **مقومات الصناعة :** العوامل التي تساعد علي تحويل المادة الخام إلي سلع استهلاكية .
- ١٢- **الصناعات التجميعية :** تركيب وجمع المواد المصنعة للحصول علي سلع متنوعة .
- ١٣- **الصناعات التعدينية :** الصناعات الهادفة لتنقية الخامات المعدنية وتحويلها الي صفائح أو سبائك لتنفيذ صناعات معدنية مختلفة .
- ١٤- **الصناعات التحويلية :** تحول المواد الأولية من معدنية نباتية وحيوانية لسلع استهلاكية صالحة للاستعمال .
- ١٥- **التبادل التجاري :** عملية التصدير والاستيراد بين الدول .
- ١٦- **الغلات النقدية :** الغلات الزراعية التي تدخل في الصناعة وتزرع بغرض التجارة والحصول علي النقد
- ١٧- **الموارد الطبيعية :** الثروات التي منحها الله لأقليم من دون أن يكون للإنسان أي دور في وجودها
- ١٨- **الموارد البشرية :** هي ما ترتبط بالسكان من حيث أعدادهم وتوزيعهم ومناسبة أعدادهم لمساحة الأرض التي يشغلونها .
- ١٩- **الصناعات الاستخراجية :** استخراج مصادر الطاقة كالنفط والغاز والفحم وخامات المعادن والأملاح وغيرها من باطن الأرض واعدادها لتصبح جاهزة للتصنيع .
- ٢٠- **الصناعات الحرفية :** تعد هذه الصناعات الأولي في العالم وتستخدم مواد أولية محلية وتعتمد علي المجهود البشري

## السؤال الثاني : علل لما يأتي :

١- يختلف عدد السكان بين دولة عربية وأخرى اختلافا كبيرا.

- المساحة الكلية
- العوامل الطبيعية والبشرية

٢- تحتل الأغنام العربية مكانا مهما ضمن الثروة الرعوية .

- الأكثر انتشارا في المراعي العربية
- أكثر الحيوانات المستأنسة والملائمة لمراعي الوطن العربي
- لأهمية منتجاتها بالنسبة للسكان
- لأنها مصدر أساسي من مصادر الثروة القومية

٣- تعد الأغنام من أكثر الحيوانات المستأنسة والملائمة لمراعي الوطن العربي.

- لتحملها الجفاف والانتقال.

٤- تمتلك الصومال ٦,٦ من ثروة الوطن العربي من الأبل .

- لإنتشار المراعي الصحراوية في الصومال .

٥- انتشار مزارع الدواجن في الوطن العربي.

- لسهولة تربيتها
- توفر المزارع لها
- توفر الأعلاف
- توفر اللقاح والدواء

٦- أهمية النفط والغاز الطبيعي بالنسبة للدول العربية

- قوة محركة للآلات والمصانع .
- مصدر لرؤوس الأموال .
- مادة خام للعديد من الصناعات المهمة.
- أساس لمشاريع التنمية وال عمران .

٧- أهمية النفط العربي عالميا .

- ضخامة الإنتاج وتزايد مستمر.
- الموقع الاستراتيجي لحقول النفط وقربها من الأسواق .
- انخفاض تكلفة انتاج البرميل الواحد
- ارتفاع نسبة احتياطي النفط واستمرار نموه بسبب الاكتشافات النفطية الجديدة .

٨- أهمية نقل البضائع بوسائل حديثة ومتطورة .

- توفير الوقت
- سرعة الوصول
- ضمان سلامة البضاعة من التلف .

٩- تتركز زراعة الحمضيات والموالح في حوض البحر المتوسط .  
• لتوفر المناخ المناسب

١٠- انتشار زراعة النخيل في السعودية .  
• لأنه يناسب مناخ المنطقة ويتحمل الحرارة

١١- يطلق علي الغاز الطبيعي الطاقة النفطية .  
• لأنه لا ينتج عن احتراقه ظهور ملوثات التي تنتج عن احتراق المنتجات النفطية لذلك يدخل في استخدامات عديدة .

١٢- قلة حجم النقل النهري بالنسبة لباقي وسائل النقل في الوطن العربي .  
• قلة الأنهار في الوطن العربي .  
• الاعتماد علي طرق النقل التقليدية .

١٣- السيارات والشاحنات أكثر وسائل طرق النقل البري انتشارا .  
• قلة التكاليف .  
• سهولة النقل  
• سرعة الوصول .

١٤- اهتمام الدول العربية بتحديث شبكة المواصلات .  
• تزيد الوحدة والتجارة  
• تنشر العمران بين الدول العربية.  
• لتسهيل النقل

١٥- تنوع الثروة المائية في الوطن العربي .  
• لأن الوطن العربي دول بحرية لها سواحل ومسطحات مائية واسعة منها المالحة ومنها العذبة .

١٦- قلة التبادل التجاري بين دول الوطن العربي .  
• بسبب تشابه المنتجات العربية  
• العلاقات التجارية بين الدول العربية حجمها قليل ومحدود

١٧- معظم صادرات دول الخليج العربية من النفط.  
• لقلة مصانع التكرير  
• لقلة التطور الصناعي

## ١٨ - اختلاف أنواع المنتجات من دولة عربية الي أخرى .

- اختلاف المناخ
- اختلاف التربة
- مدي توفر المياه

## السؤال ثالث : أكتب فيما يلي :

### ١ - المناطق المناخية التي يقل فيها السكان .

- المناخ الصحراوي
- المناخ البارد
- المناخ الاستوائي

### ٢ - العوامل الرئيسية المؤثرة في توزيع السكان.

- عوامل طبيعية
- عوامل بشرية

### ٣ - العوامل الطبيعية التي تؤثر في توزيع السكان .

- موارد المياه ( الأنهار – الأمطار )
- التضاريس ( السهول – الهضاب – الجبال )

### ٤ - العوامل البشرية التي تؤثر في توزيع السكان

- الأنشطة الاقتصادية مثل ( الزراعة – الصناعة – التعدين – الرعي ) .

### ٥ - أهم المنتجات التي يصدرها الوطن العربي للخارج .

- قطن
- زيتون
- صمغ
- حمضيات

### ٦ - مقومات الإنتاج الزراعي في الوطن العربي .

- مقومات طبيعية
- مقومات بشرية

## ٧ - المقومات الطبيعية للإنتاج الزراعي في الوطن العربي .

- التربة
- المناخ
- التضاريس
- الماء

## ٨ - المقومات البشرية للإنتاج الزراعي في الوطن العربي .

- جهد الإنسان
- التقدم التكنولوجي
- رأس المال
- الأسواق

## ٩ - أنواع الثروة الرعوية في الوطن العربي.

- الأغنام
- الماعز
- الأبل
- الأبقار

## ١٠ - أهمية الثروة المعدنية في الوطن العربي.

- انتاج الخامات المعدنية
- مصدر الطاقة الأساسية

## ١١ - أسباب تصدير الدول العربية معظم أنتاجها من النفط والغاز الطبيعي للخارج .

- قلة المصانع العربية .
- ضخامة الإنتاج وتزايد
- انخفاض تكلفة الإنتاج

## ١٢ - أنواع الصناعات التحويلية في الوطن العربي .

- صناعات غذائية
- صناعة المنسوجات
- صناعة الخشب
- صناعة مشتقات النفط

## ١٣ - الفوائد الأساسية للنشاط الزراعي في الوطن العربي .

- توفير الغذاء
- توفير فرص العمل
- مصدر دخل
- مادة أولية لكثير من الصناعات الغذائية



#### ١٤ - استخدامات الغاز الطبيعي

- الاستعمال المنزلي
- تحلية المياه
- توليد الكهرباء

#### ١٥ - مقومات الصناعة في الوطن العربي .

- مقومات طبيعية
- مقومات بشرية

#### ١٦ - المقومات الطبيعية للصناعة في الوطن العربي .

- المواد الخام ( معدنية - حيوانية - نباتية - غابات - محاصيل زراعية )
- الطاقة ( البترول - الغاز الطبيعي - طاقة كهرومائية - طاقة متجددة )

#### ١٧ - المقومات البشرية للصناعة في الوطن العربي .

- رؤوس الأموال
- الأيدي العاملة
- المهارة والخبرة
- السوق
- وسائل النقل

#### ١٨ - أهداف الصناعات البتروكيميائية .

- تنوع مصادر الدخل للدولة المنتجة
- توفير المواد الأولية للصناعات التحويلية لتأمين حاجات القطاعات الاستهلاكية
- تطوير الصناعات البتروكيميائية إلى تقنيات متخصصة وعالية .

#### ١٩ - أنواع طرق النقل في الوطن العربي .

- الطرق البرية
- الطرق الجوية
- الطرق البحرية

#### ٢٠ - أهمية طرق النقل والمواصلات لدول الوطن العربي .

- تعد من المقومات الأساسية لاستغلال وتنمية موارد الاقتصاد وربطها بمناطق الإنتاج والأسواق .

#### ٢١ - أهمية نقل البضائع بوسائل حديثة ومتطورة .

- سرعة الوصول
- ضمان سلامة البضائع
- أكثر أمانا

٢٢ - مميزات طرق النقل الجوي .

- سرعة الوصول
- ضمان سلامة البضائع
- أكثر أماناً

٢٣ - الصناعات التي تقوم علي المحاصيل الزراعية في الوطن العربي .

- الصناعات الغذائية
- تغليف الفواكه والخضار

٢٤ - مميزات النفط العربي .

- غزارة في الفائض .
- ضخامة في الإنتاج
- رخص تكاليف الإنتاج

٢٥ - الدول الأكثر استيراداً للنفط العربي .

- الولايات المتحدة الأمريكية
- الدول الأوروبية
- اليابان

**السؤال الرابع : قارن بين الجداول التالية :**

معايير المقارنة	الجناح الآسيوي	الجناح الأفريقي
الدولة الأكثر مساحة	السعودية	السودان
الدولة الأقل مساحة	البحرين	جزر القمر
الدولة الأكثر في عدد السكان	العراق	مصر
الدولة الأقل في عدد السكان	البحرين	جزر القمر

معايير المقارنة	منظمة الأوبك	منظمة الأوابك
التعريف	منظمة عالمية مصدرة للبترول	منظمة عربية مصدرة للبترول
سنة التأسيس	١٩٦٠م	١٩٦٨م
المقر الحالي	فيينا	الكويت
الدول الأعضاء	الكويت - السعودية - العراق - ايران - قطر - الإمارات -	الكويت - السعودية - ليبيا - الإمارات - قطر - البحرين -

الجزائر- فنزويلا- نيجيريا – أنغولا - الأكوادور	العراق – سوريا – مصر – سوريا - الجزائر	
الأجهزة	المؤتمر مجلس المحافظين الأمانة العامة	المجلس الوزاري المكتب التنفيذي الأمانة العامة
الأهداف	الحرص علي استقرار أسعار البتترول في الأسواق العالمية	١ - تعميق التعاون الاقتصادي في صناعة البترول ٢ - تطوير الصناعات البترولية ٣ - تأمين وصول النفط للأسواق الاستهلاكية بشروط وأسعار عادلة

معايير المقارنة	الصناعات التحويلية	الصناعات التجميعية
التعريف	تقوم علي تحول المواد الأولية من معدنية نباتية وحيوانية الي سلع استهلاكية صالحة للاستعمال .	هي عملية تركيب وجمع المواد المصنعة علي اختلاف مصادرها كي نحصل علي سلع متنوعة .
أمثلة عليها	الصناعات الغذائية صناعة المنسوجات صناعة الخشب والورق صناعة مشتقات النفط المكررة الصناعات البتروكيميائية الصناعات الإنشائية	صناعة تجميع السيارات

### السؤال الخامس : أقرأ الجداول التالية جيدا ثم أجب :

لاحظ جدول انتاج دول الوطن العربي من انتاج النفط والغاز الطبيعي ثم أجب عما يليه من أسئلة :

الرقم	الدولة العربية	إنتاج النفط الخام ألف برميل / يوم	احتياط النفط الخام مليار برميل	إنتاج الغاز الطبيعي مليار متر مكعب	احتياط الغاز الطبيعي مليار متر مكعب
١	الإمارات	٢٧٩٤	٩٧,٨	٥٤,٢	٦٠٩١
٢	البحرين	٢٠٢	٠,١	١٥,٤	٩٢
٣	تونس	٥٥,٥	٠,٤	٢,٦	٦٥
٤	الجزائر	١١٩٣	١٢,٢	٨١,٧	٤٥٠٥
٥	السعودية	٩٧٠١	٢٦٥,٨	١٠٢,٤	٨٣١٦
٦	سوريا	١٠	٢,٥	٥,٣	٢٨٥
٧	العراق	٣١١٠	١٤٥,٣	٩	٣٦٩٤
٨	قطر	٧٠٣	٢٥,٢	٢٠٤,٦	٢٤٤٠٠
٩	الكويت	٢٨٦٦,٨	١٠١,٥	١٥	١٧٨٤
١٠	ليبيا	٤٨٠	٤٨,٤	١٥,٨	١٥٣٢
١١	مصر	٥٩٣,٤	٤,٢	٤٨,٨	٢١٨٦
١٢	السودان	١٢٢	١,٥	—	٨٥
١٣	عمان	٨٥٦,٥	٥,١٥١	٢٩	٧٠٥
١٤	اليمن	١٤٠,٤	٢,٦٧	٩,٦	٤٧٩

إنتاج واحتياط دول الوطن العربي حسب إحصاء ٢٠١٤

- ١- اذكر أسماء ثلاث دول عربية أولي في انتاج النفط  
السعودية / الكويت / العراق
- ٢- اذكر أسماء ثلاث دول عربية أولي في احتياطي النفط  
السعودية / الكويت / العراق
- ٣- اذكر أسماء ثلاث دول عربية أولي في انتاج الغاز الطبيعي  
قطر / السعودية / الجزائر
- ٤- اذكر أكثر الدول العربية إنتاجا واحتياطا للنفط  
السعودية
- ٥- اذكر ترتيب الكويت بين الدول العربية في إنتاج النفط  
الثالث
- ٦- اذكر الدولة العربية الأولى في انتاج الغاز الطبيعي  
قطر



# الوطن العربي قضايا وتحديات وحلول نحو مستقبل عربي أفضل



## السؤال الأول : أكمل العبارات التالية بما يناسبها فيما درست:

- ١- موقع الوطن العربي في المناطق الجافة وشبه جافة يعرضه لمشكلة التصحّر.
- ٢ - من أكثر الدول العربية تهديدا بالتصحّر السودان وموريتانيا و الصومال.
- ٣- تبلغ الموارد المائية في العالم العربي التي تأتي من خارج حدوده حوالي ٥٠٪.
- ٤- يصيب التلوث عناصر البيئة من عدة مصادر للملوثات صناعية وزراعية و منزلية.
- ٥- أكثر الملوثات انتشارا في الوطن العربي التلوث الكيميائي.
- ٦- عقد أكبر مؤتمر للأمم المتحدة لمواجهة تلوث البيئة في البرازيل في مدينة تسمى ريودي جانيرو.
- ٧- العام الذي عقد فيه أكبر مؤتمر للأمم المتحدة لمواجهة تلوث البيئة هو ١٩٩٢م.
- ٨- عرف أكبر مؤتمر عقد في الأمم المتحدة لمواجهة تلوث البيئة باسم قمة الأرض.
- ٩- المواد الغازية الموجودة في وسائل التبريد وتكرير المياه تؤدي الي ثقب في طبقة الأوزون.
- ١٠- بقاء عناصر الطبيعة في حالة من التوازن يسمى التوازن البيئي.
- ١١- تعد الرياح والشمس من مصادر الطاقة المتجددة.
- ١٢- العام الذي تأسس فيه الصندوق السعودي للتنمية هو ١٩٧٤م.
- ١٣- العام الذي تأسس فيه الصندوق الكويتي للتنمية الاقتصادية العربي هو ١٩٦١م.
- ١٤- العام الذي تأسس فيه صندوق أبوظبي للتنمية هو ١٩٧١م.
- ١٥- العام الذي أعلن فيه عن قيام مجلس التعاون الخليجي هو ١٩٨١م.
- ١٦- عقد أكبر وأهم مؤتمر قمة عربية اقتصادية منذ نشأة جامعة الدول العربية في دولة تسمى الكويت.
- ١٧- عقد أكبر وأهم مؤتمر قمة عربية منذ تاريخ نشأة جامعة الدول العربية في يومي ١٩-٢٠ يناير ٢٠٠٩م.
- ١٨- أول مؤسسه للتنمية في الوطن العربي تسمى الصندوق الكويتي للتنمية الاقتصادية.
- ١٩- عدد الدول التي يضمها مجلس التعاون الخليجي يبلغ ٦ دول.
- ٢٠- المدينة التي أعلن منها قيام مجلس التعاون الخليجي تسمى أبوظبي.
- ٢١- عملية تتطلب التخطيط والمشاركة من الجميع تسمى التنمية.
- ٢٢- تقع المنظمة العربية للتنمية الزراعية في دولة تسمى السودان.
- ٢٣- تأسس الصندوق الكويتي للتنمية الاقتصادية العربية في عهد الشيخ عبدالله السالم.
- ٢٤- عقد أول مؤتمر للمانحين لدعم الوضع الإنساني في سوريا في دولة تسمى الكويت.
- ٢٥- صاحب مبادرة عقد القمة العربية الاقتصادية والتنمية الاجتماعية عام ٢٠٠٩م يسمى الشيخ صباح الأحمد.

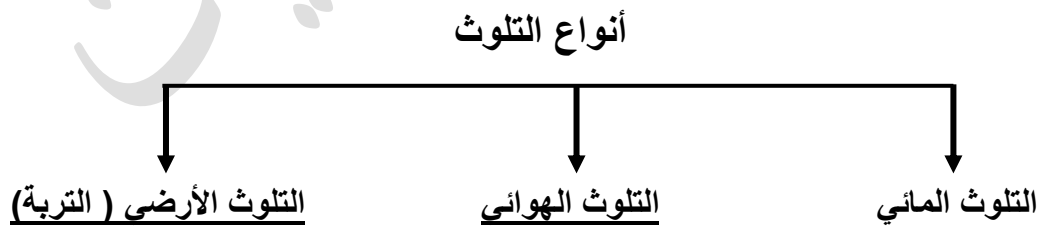
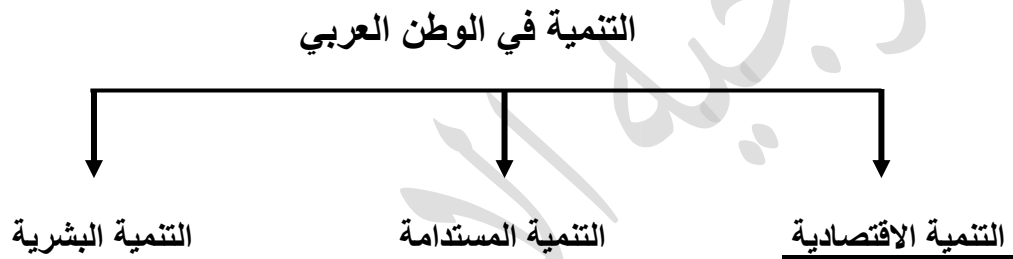
## السؤال الثاني : اكتب المصطلح الدال على العبارات التالية :

- ١- زحف رمال الصحراء علي المناطق الجافة وشبه الجافة ( التصحّر )
- ٢- الضرر الذي يلحق في بالتربة والهواء والماء ويصيب عناصر البيئة ( التلوث )
- ٣- بقاء عناصر البيئة في حال من التوازن لتؤدي وظائفها علي أكمل وجه ( التوازن البيئي )
- ٤- التطور والتطوير وهي عملية تتطلب التخطيط والمشاركة من الجميع ( التنمية )
- ٥- برامج تحسين نوعية الحياة ولا تتحقق الا بمشاركة جميع المواطنين ( التنمية المستدامة )
- ٦- العمل علي توثيق الصلات بين الدول والشعوب العربية وحماية مصالحها السياسية والاقتصادية والثقافية ( التضامن العربي )
- ٧- المنظمة العربية للتربية والثقافة والعلوم ومقرها تونس ( ألكسو )

## السؤال الثالث : ضع خطأ تحت الخيار الصحيح من بين الخيارات التي تلي كل عبارة :

- ١- التلوث بأكسيد الكربون الناتج من عوادم السيارات يؤدي الي :  
( ارتفاع في درجة حرارة الأرض - اعتدال المناخ - ثقب طبقة الأوزون - انخفاض حرارة الأرض )
- ٢- أكثر الملوثات انتشارا في الوطن العربي التلوث :  
( الفريائي - الضوضائي - الكيميائي - المائي )
- ٣- المنظمة العربية للتربية والثقافة والعلوم ألكسو مقرها:  
( مصر - الكويت - تونس - الجزائر )
- ٤- منظمة إقليمية للدول العربية تم تشكيلها في مدينة :  
( أبوظبي - الخرطوم - الدوحة - القاهرة )
- ٥- تضم جامعة الدول العربية حوالى:  
( ٢١ عضو - ٢٢ عضو - ٢٣ عضو - ٢٤ عضو )
- ٦- يتبع الصندوق الكويتي للتنمية الاقتصادية العربية حاليا وزارة :  
( المالية - الخارجية - الداخلية - الأشغال )

السؤال الرابع : أكمل المخططات السهمية التالية :



**السؤال الخامس : صل المجموعه ( أ ) بما يناسبها من المجموعه ( ب ) :**

الرقم	المجموعه ( أ )	الرقم	المجموعه ( ب )
١	الصندوق الكويتي للتنمية الاقتصادية العربية عام ١٩٦١م	٢	
٢	صندوق أبوظبي للتنمية عام ١٩٧١م	٣	
٣	الصندوق السعودي للتنمية	١	

الرقم	المجموعه أ	الرقم	المجموعه ب
١	المنظمة العربية للتربية والثقافة والعلوم	٢	
٢	المنظمة العربية للتنمية والصناعة والتعدين	٣	
٣	المنظمة العربية للتنمية الزراعية	١	

السؤال السادس : لاحظ الصور التالية ثم اكتب التعليق المناسب

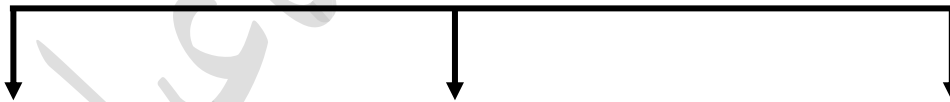
أسباب التصحر البشرية الرعي الجائر (



أسباب التصحر الطبيعية ( زحف التربة )



أنواع التلوث



تلوث الماء



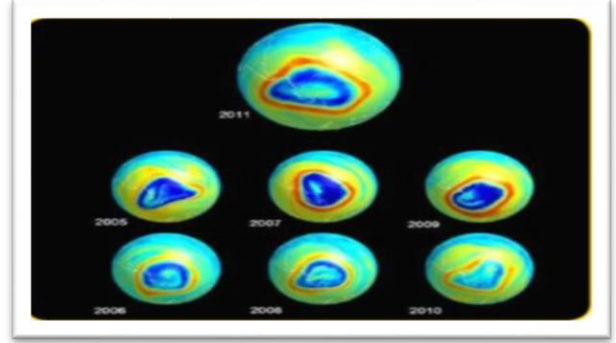
تلوث الماء



تلوث التربة



ثقب في طبقة الأوزون  
نتيجة : وسائل التبريد وتكرير الماء



شاطئ ملوث بالنفايات  
نتيجة : تلوث مائي



حريق أبار النفط في دولة الكويت عام ١٩٩١م  
نتيجة تلوث مائي وهوائي وأرضي



مصنع لفرز النفايات ومعالجتها  
النتيجة : علاج مشكلة النفايات





الرياح أحد مصادر الطاقة المتجددة



الشمس أحد مصادر الطاقة المتجددة




منظمة مجلس التعاون لدول الخليج العربية



صناعة الزيوت النباتية في السعودية  
التنمية الاقتصادية



استخدام التكنولوجيا في صناعة  
الأقمار الصناعية



منظمة جامعة الدول العربية





مع تمنياتنا لكم بالتوفيق  
والنجاح