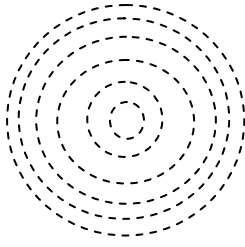
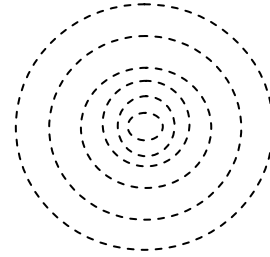


## - ادرسي الأشكال التالية ثم اكتبى قيمة كل خط كتور ثم بينى أماكن شدة الانحدار فى الرسم

(1)



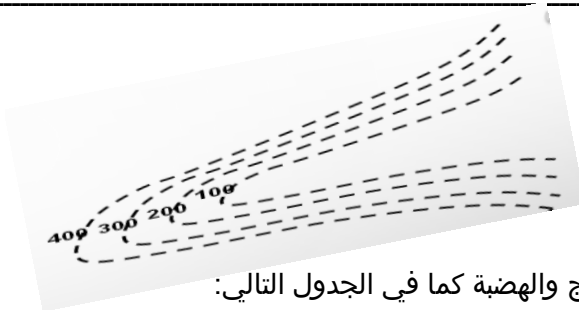
منخفض مخروطى



تل مخروطى

حددى فى الرسم التالى مجرى الوادى

(2)



- قارنى بين كل من الوادى والبروز والسهل والهضبة كما فى الجدول التالى:

وجه المقارنة	هضبة	سهل
الرسم		
وجه المقارنة	بروز	وادي
الرسم		

التقويم اللاصقى

س1: اكتبى المصطلح العلمى:

- خريطة تعبر عن التضاريس بمنطقة ما بواسطة خطوط الكتور ( ) .

س2: ضعى (صح) أو (خطأ): تقارب خطوط الكوتور يدل على الانحدار الخفيف ( ) .

س3: وضحى أهمية الخرائط الجيولوجية

إعداد المعلمة  
هبة قاسم