



وزارة التربية
الإدارة العامة لمنطقة الأحمدية التعليمية
مدرسة هدية الابتدائية بنين



• الوحدة الثامنة



للف الرابع



• أ. شيمه صقر المطيري

رئيسة القسم

• البعير والطرح

البند (٨-١)



أوجد الناتج

$$\begin{array}{r} 1 \quad 2 \quad 5 \quad 4 \\ 7 \quad 5 \quad 5 \quad 3 + \\ \hline \end{array}$$

أوجد الناتج

٨

٤

♦

٧

٣

٥

٦

♦

٢

٩

-

أوجد الناتج

٤

٣

•

٧

٢

٣

٨

٣

٢

٥

٥

١

٧

١

+

اجمع

٤

٢



٧



٢

٨



٦



اجمع

٦ ١ ٠ ٦ ٣ ٨

٣ ٩ ٧ ٢ ٠ ٠ ٦

٥ ٤ ٤ ٣ ٧ ١

اطرح ١٤٦ ٢٠٠٢ ٥٢

من ١



صح الخطأ

$$\begin{array}{r} 7 \quad 2 \quad 5 \quad 0 \quad 4 \quad 6 \quad 5 \\ 4 \quad 1 \quad 4 \quad 6 \quad 3 \quad 9 \quad 3 \quad - \\ \hline 3 \quad 1 \quad 0 \quad 6 \quad 1 \quad 5 \quad 2 \end{array}$$

• تنفيذ نواتج التعلم والظروف



البند (٨-٢)



قدر الناتج

← ٤ ٣ ٤ ٥ ٦

+ ← ٧ ٩ ٣ ٤ ١ +

قدر الناتج



٥ ٨ ١ ٤



٤ ٦ ١ ٧

-

-

قدر الناتج

← ٤ ٥ ٢ ٣ ٢

← ٢ ٧ ١ ٧ -

قدر الناتج

← ٩ ٦ ١ ٤

← ٢ ٨ ٠ ٣ ٥

_____ + ← ٥ ١ ٨ ٠ +

• استخدام البيانات : مخططات فن



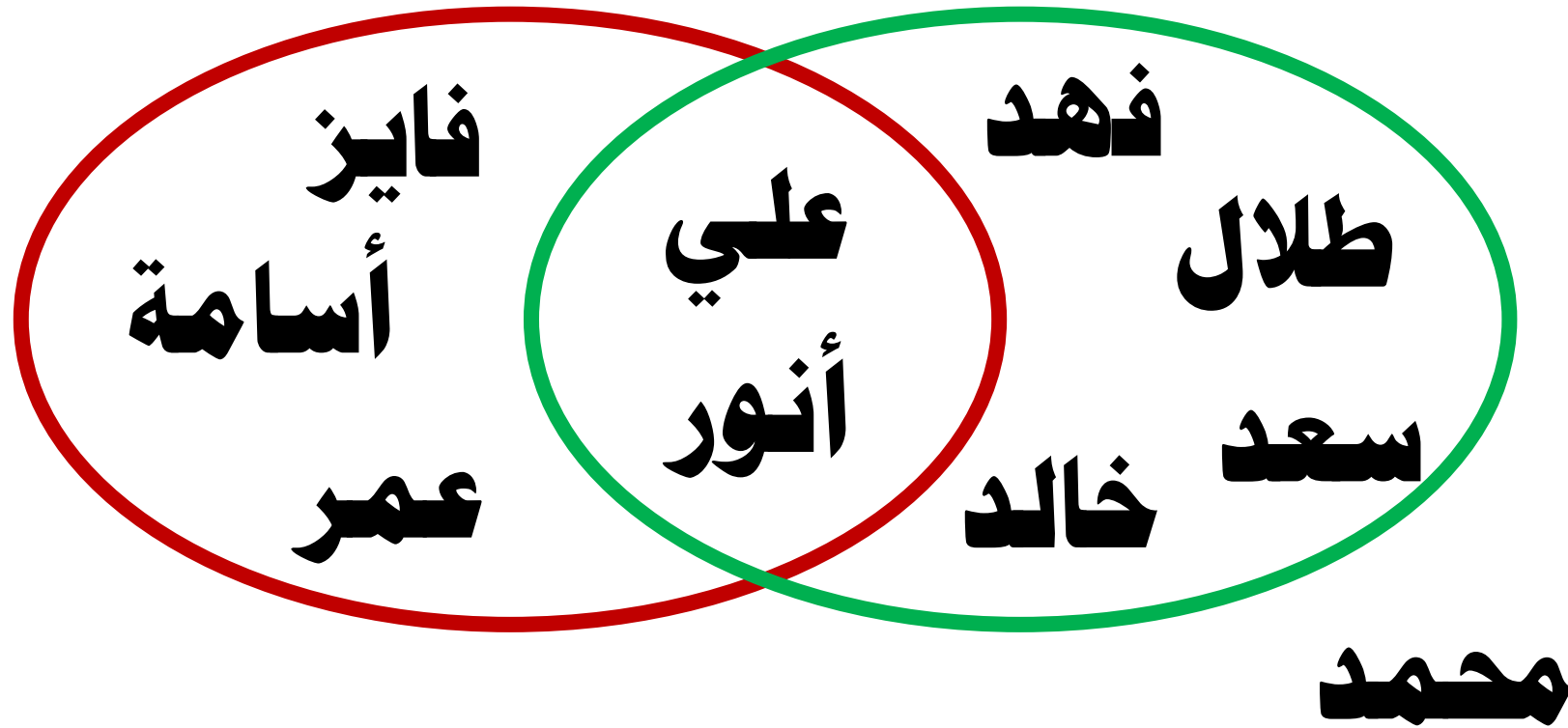
البند (٣-٨)



استعن بشكل قن للإجابة عما يلي

يفضلون السباحة

يفضلون الرماية

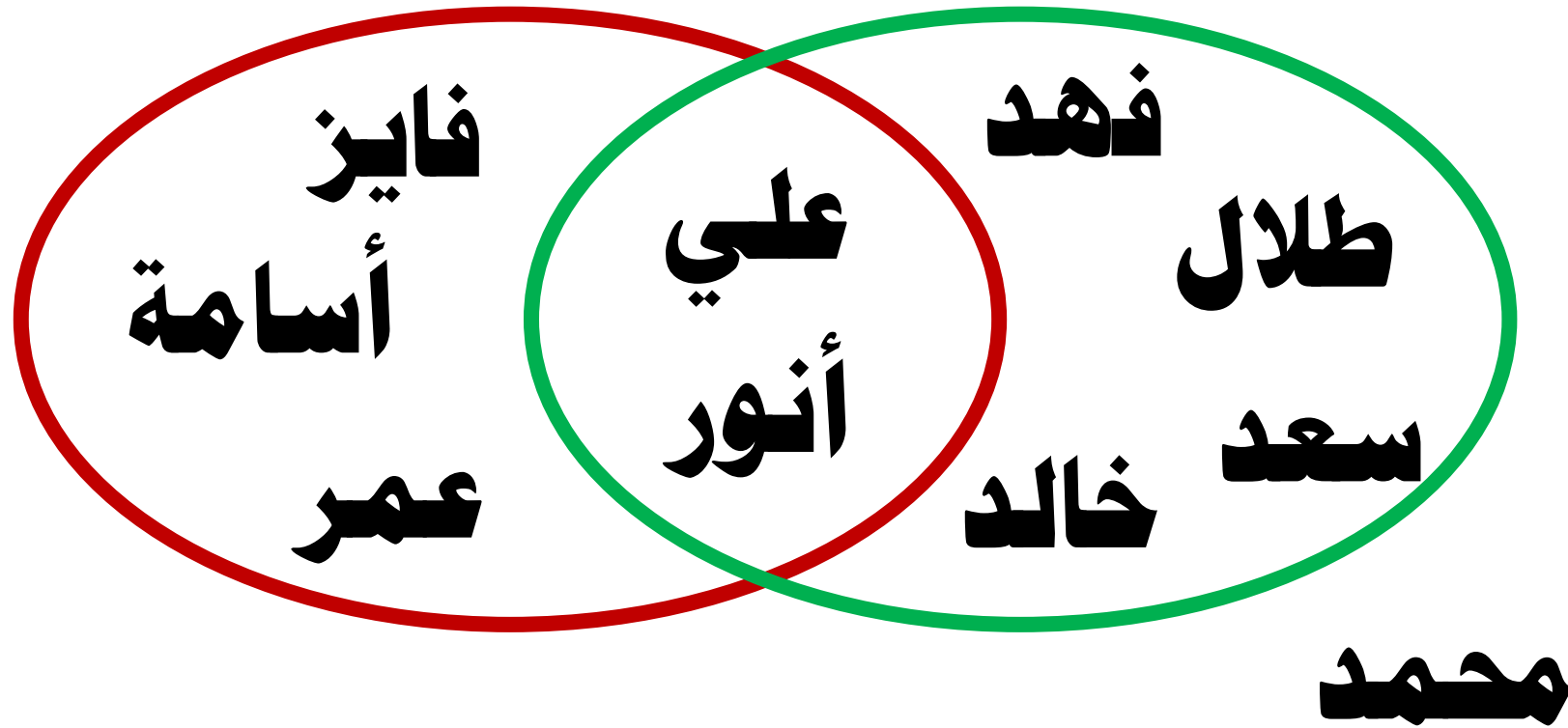


كم عدد الذين يفضلون الرماية فقط ؟ _____

استعن بشكل قن للإجابة عما يلي

يفضلون السباحة

يفضلون الرماية

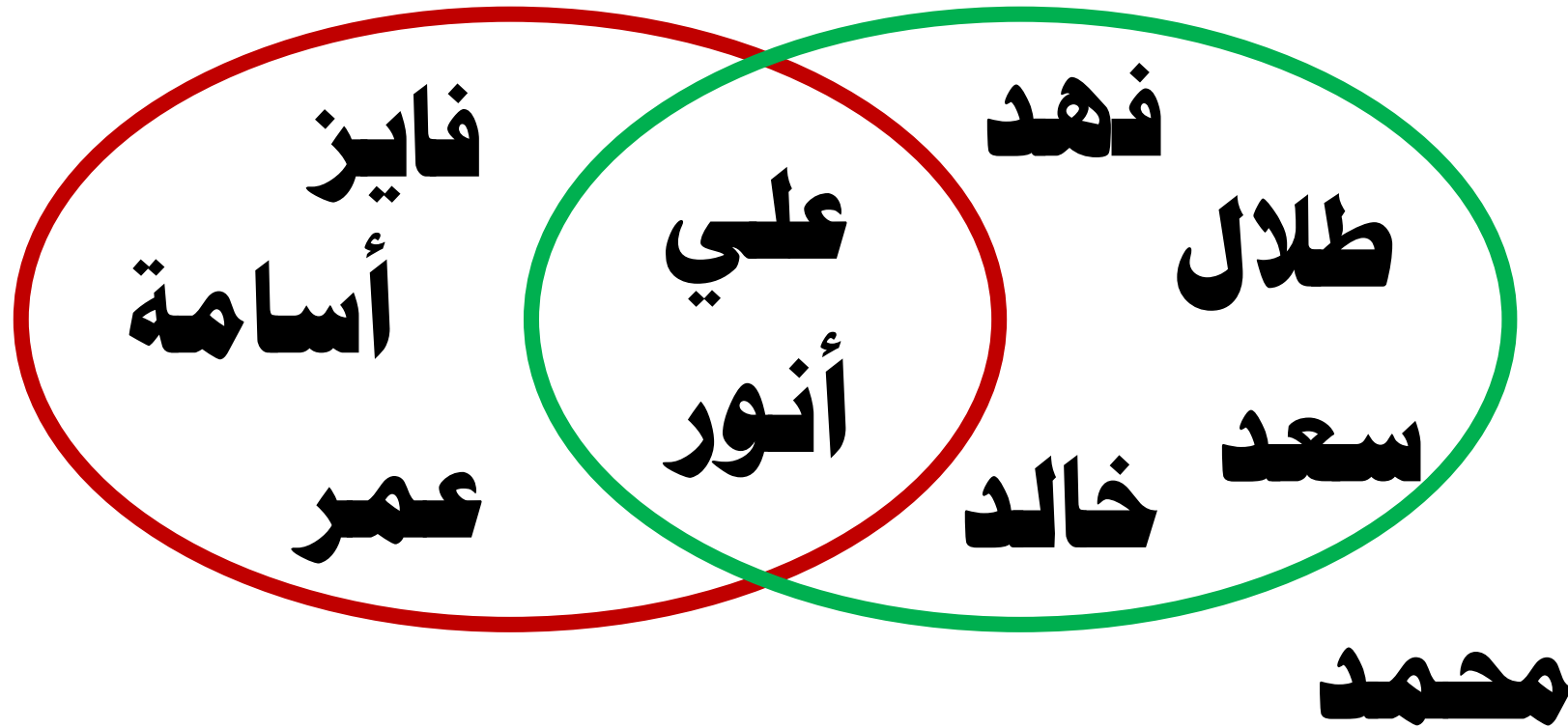


كم عدد الذين يفضلون السباحة فقط ؟ _____

استعن بشكل قن للإجابة عما يلي

يفضلون السباحة

يفضلون الرماية

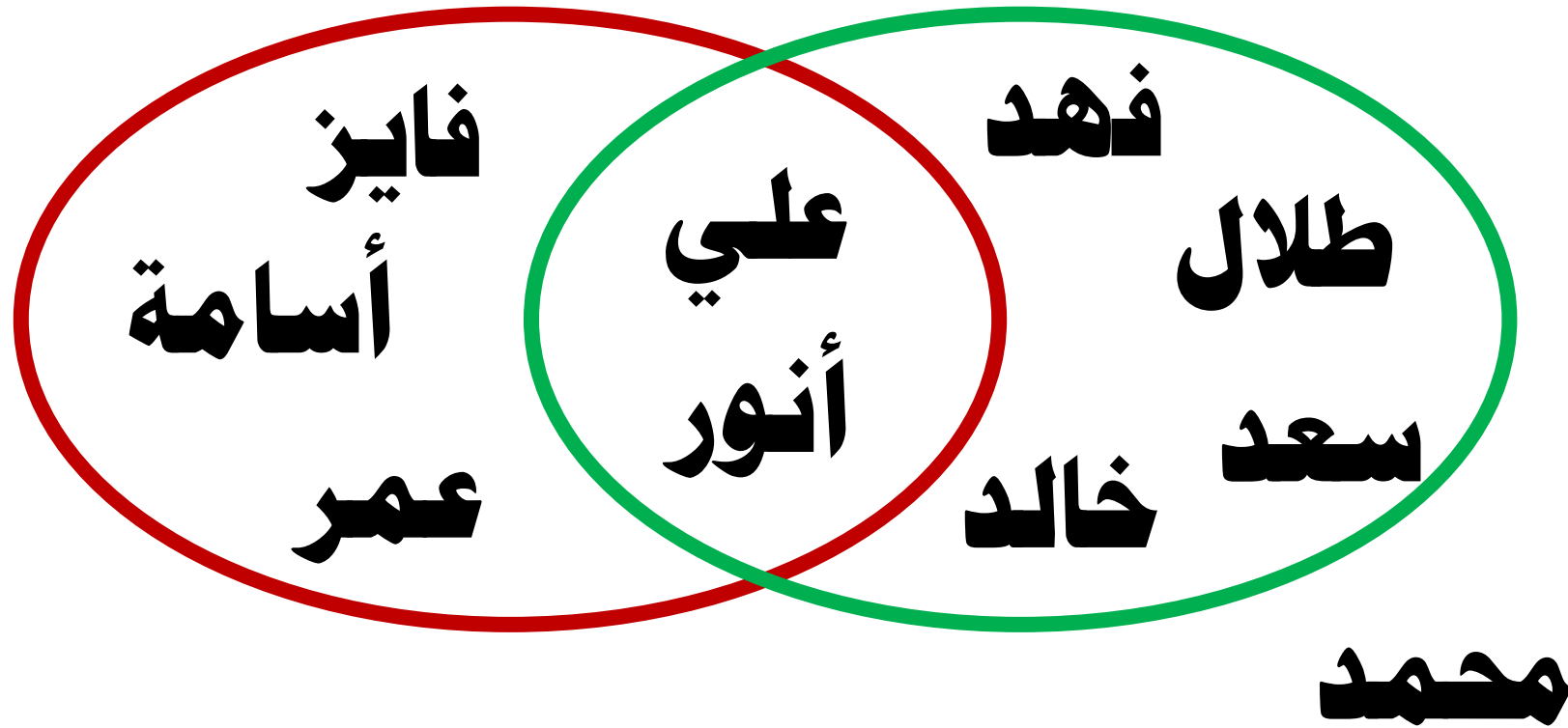


كم عدد الذين يفضلون الرماية و السباحة ؟ _

استعن بشكل قن للإجابة عما يلي

يفضلون السباحة

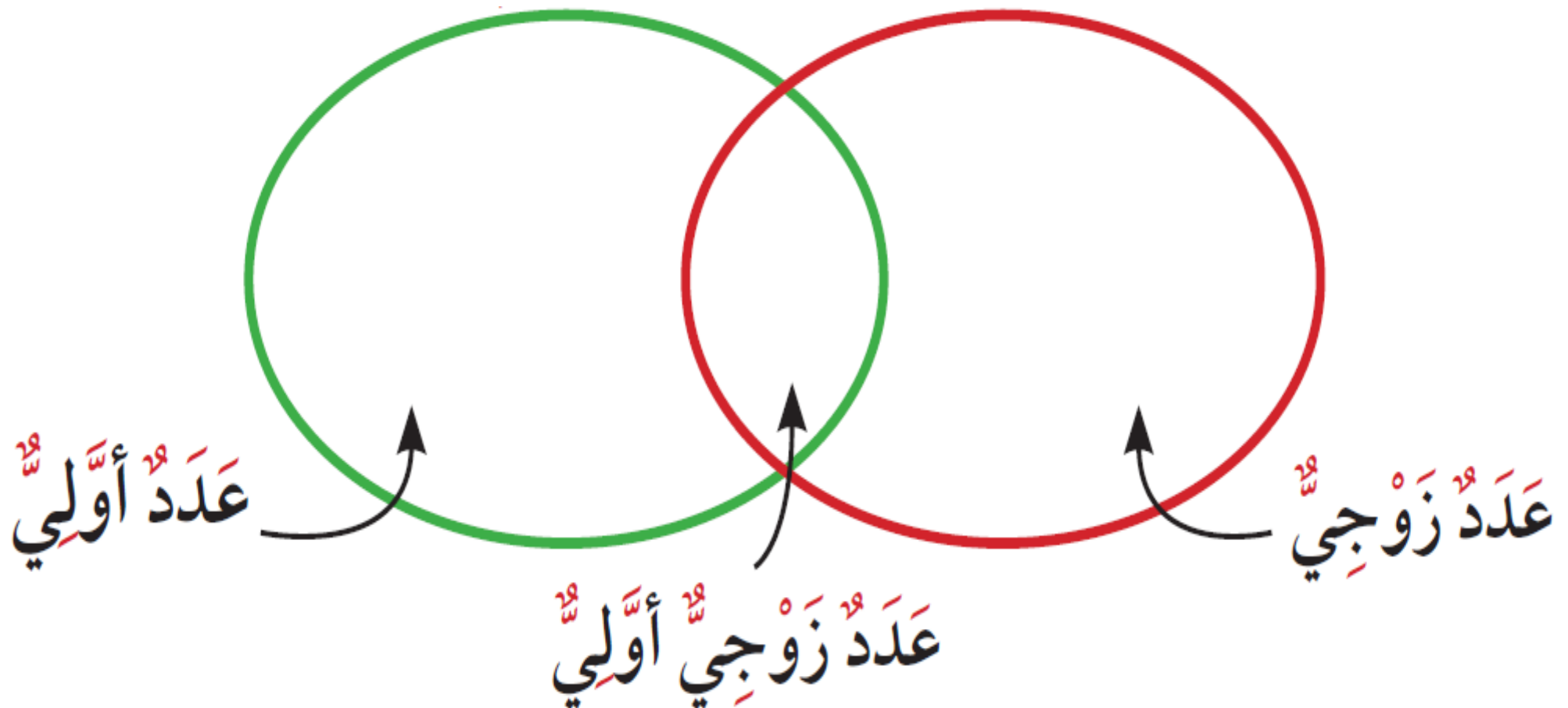
يفضلون الرماية



من الذي لا يفضل الرماية أو السباحة ؟ _____

اكتب الأعداد التالية بالمكان المناسب

١١ ، ٨ ، ٧ ، ٦ ، ٣ ، ٢



(أَعْدَادُ بَعْضِ الْحَيَوَانَاتِ فِي إِحْدَى الْمَزَارِعِ الْعَالَمِيَّةِ)



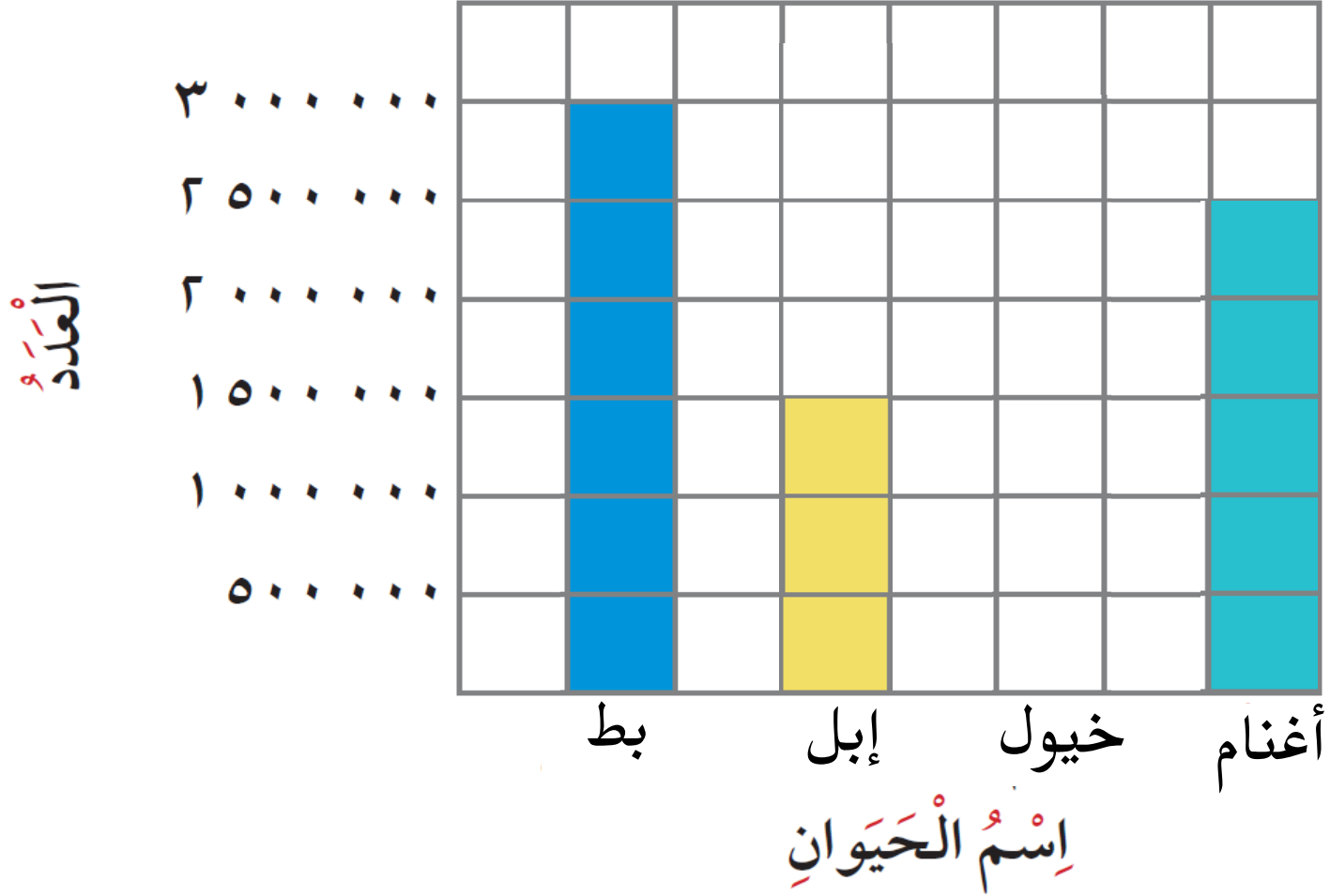
مثل عدد الخيول بالمزرعة إذا كان عددها مليون

(أَعْدَادُ بَعْضِ الْحَيَوَانَاتِ فِي إِحْدَى الْمَزَارِعِ الْعَالَمِيَّةِ)



أي الحيوانات أقل عدداً ؟ _____

(أَعْدَادُ بَعْضِ الْحَيَوَانَاتِ فِي إِحْدَى الْمَزَارِعِ الْعَالَمِيَّةِ)



أَيُّهُمَا أَكْثَرُ ، الْإِبِلُ أَمْ الْبُط ؟

(أَعْدَادُ بَعْضِ الْحَيَوَانَاتِ فِي إِحْدَى الْمَزَارِعِ الْعَالَمِيَّةِ)



ما الفرق بين عدد الأغنام و عدد الإبل ؟ _____

• استخدام البيانات : التمثيل البياني

بالأمثلة المزدوجة

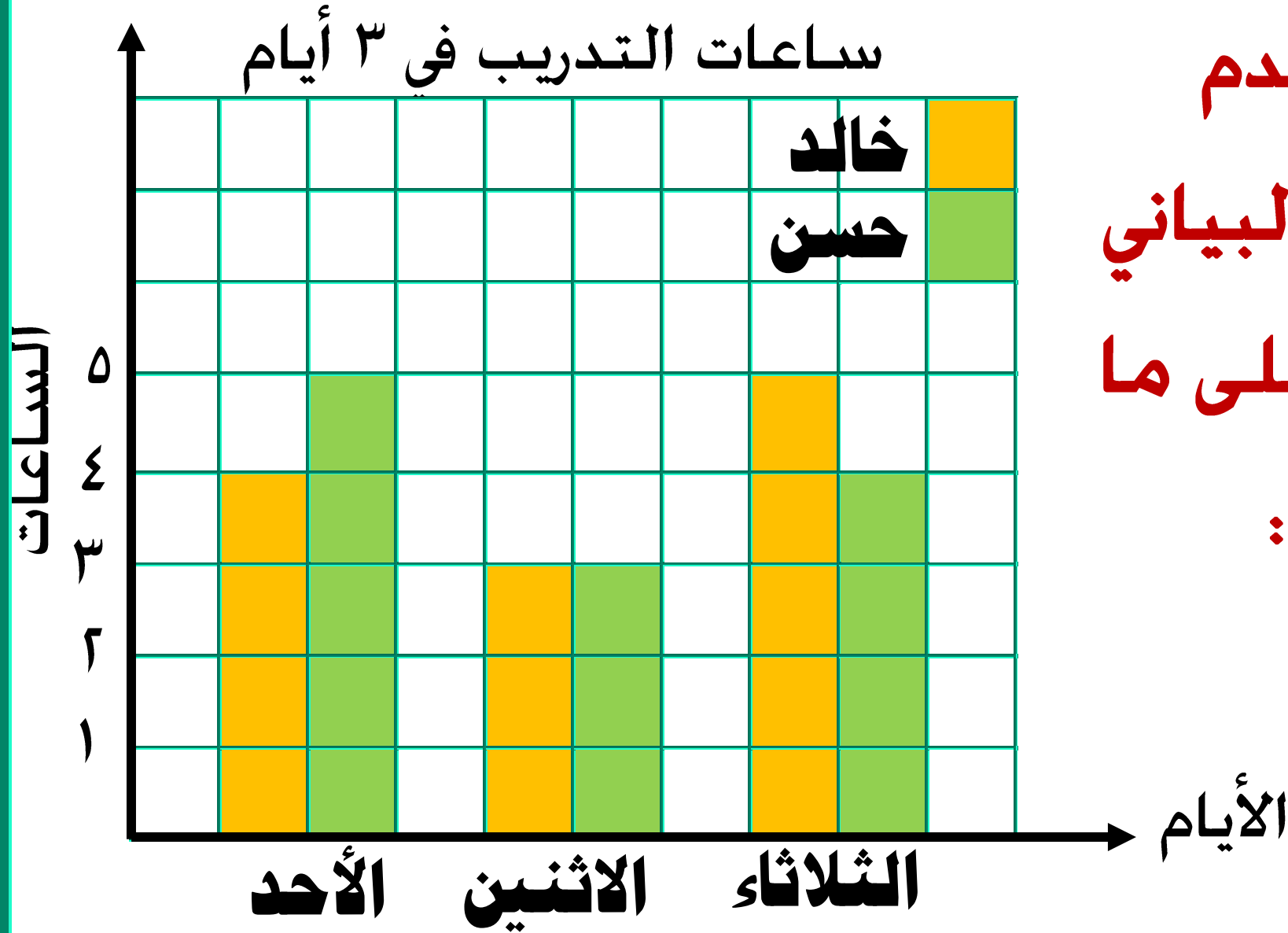


البند (٤-٨)



استخدم

التمثيل البياني
للإجابة على ما
يلي :



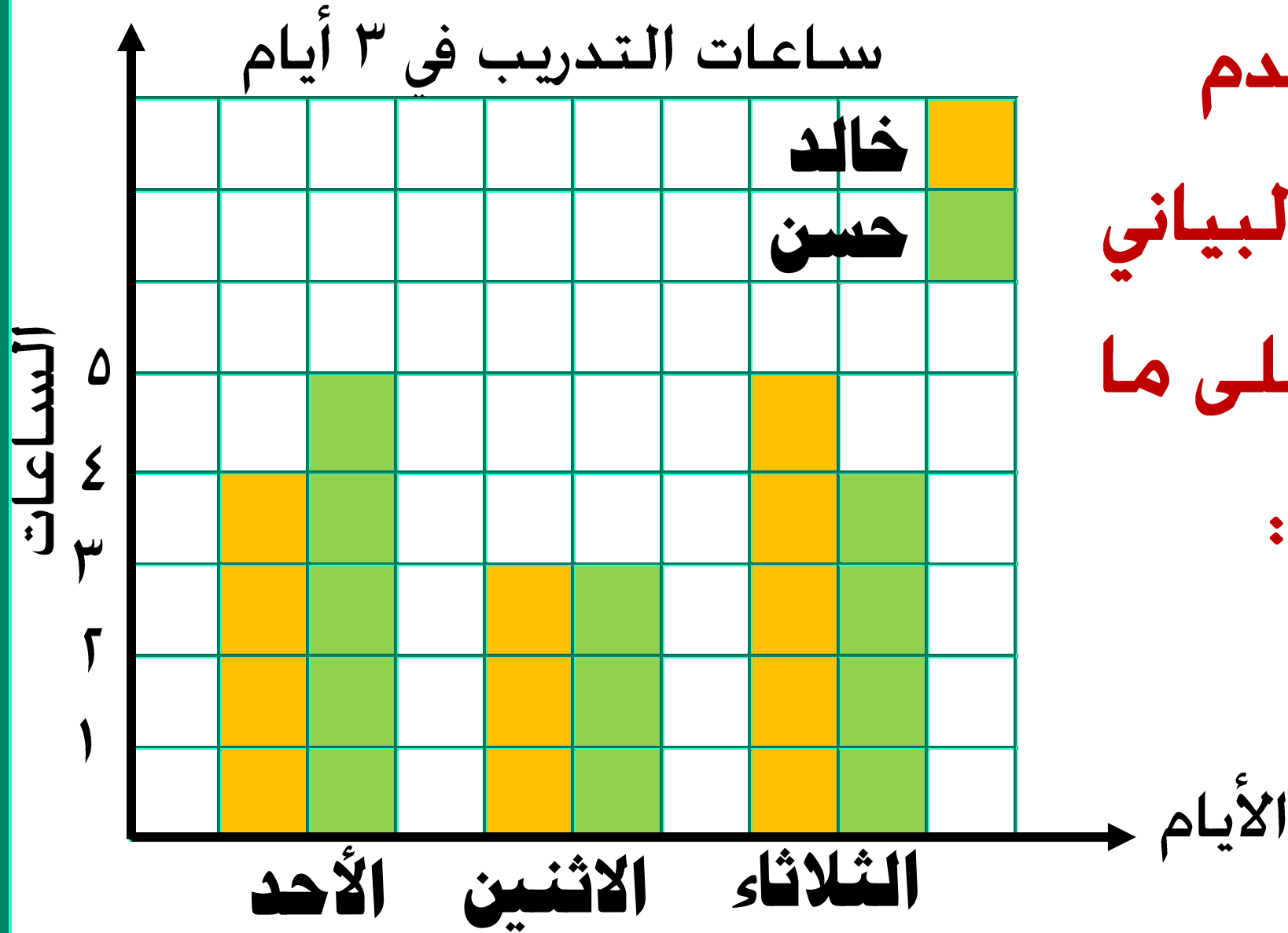
كم ساعة يتدرب خالد في يوم الاثنين ؟ _____

استخدم

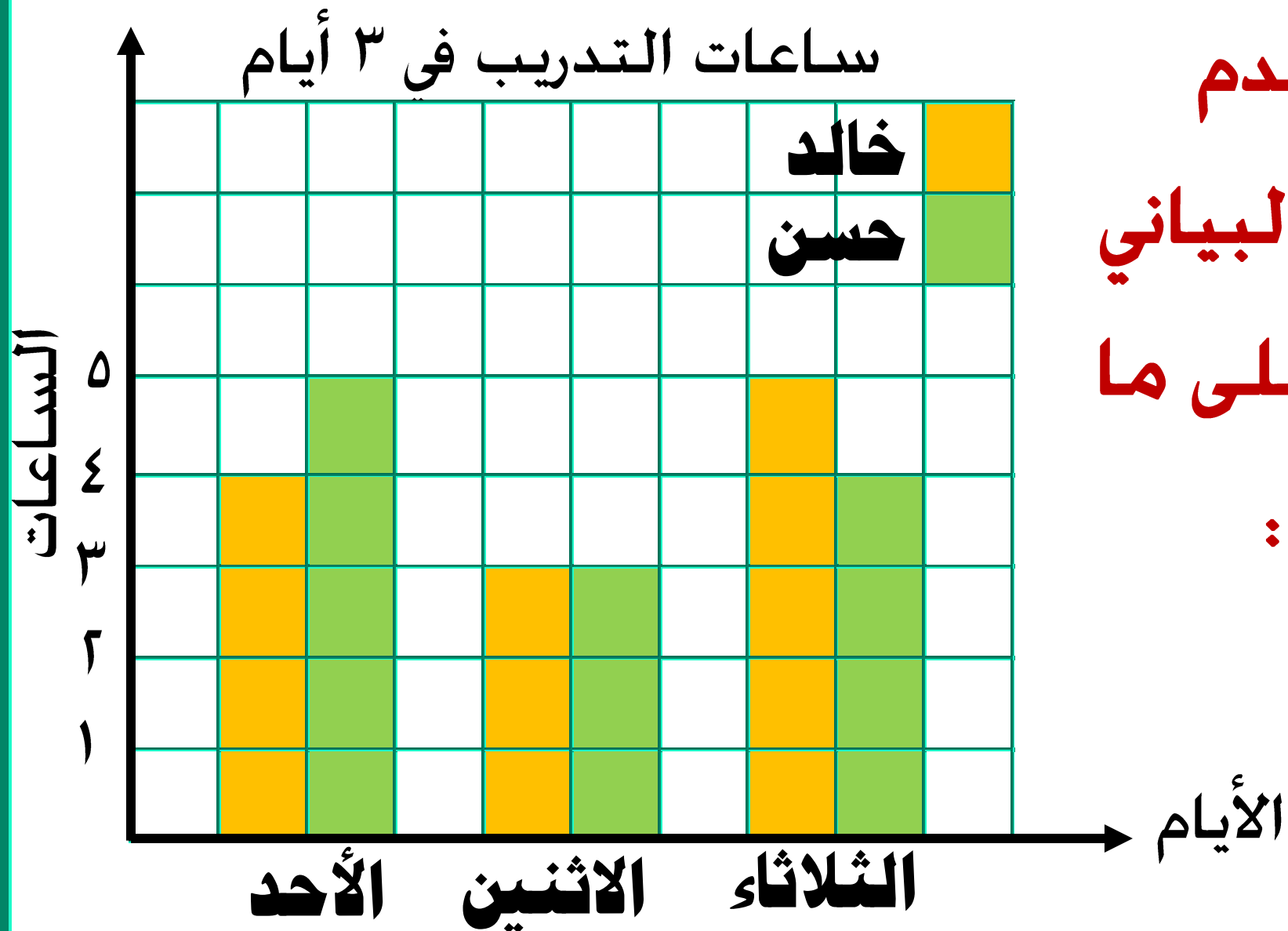
التمثيل البياني

للإجابة على ما

يلي :



كم ساعة يتدرب حسن في يوم الأحد ؟ _____



استخدم
التمثيل البياني
للإجابة على ما
يلي :

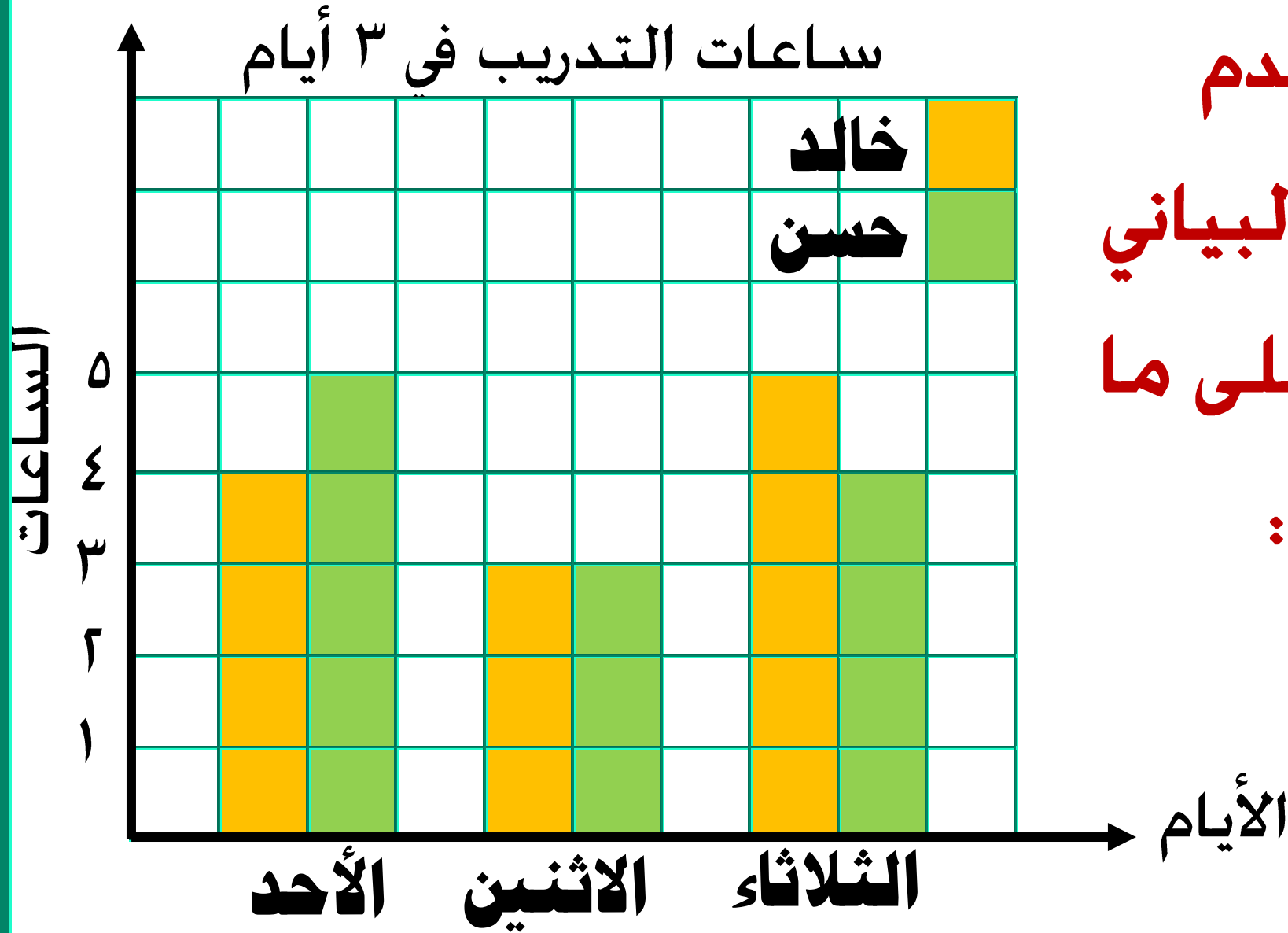
في أي يوم يتدرب خالد ٤ ساعات ؟ _____

استخدم

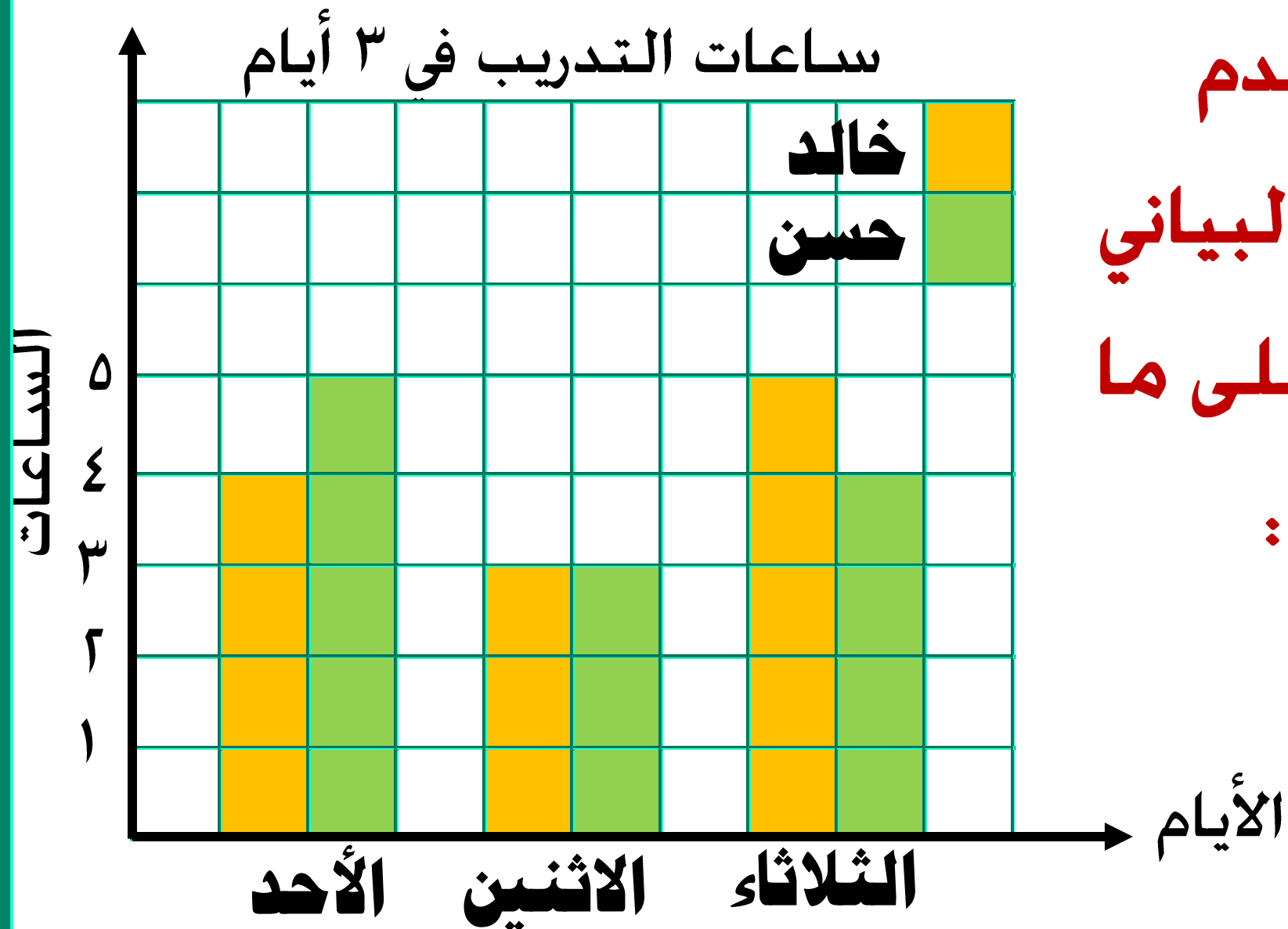
التمثيل البياني

للإجابة على ما

يلي :



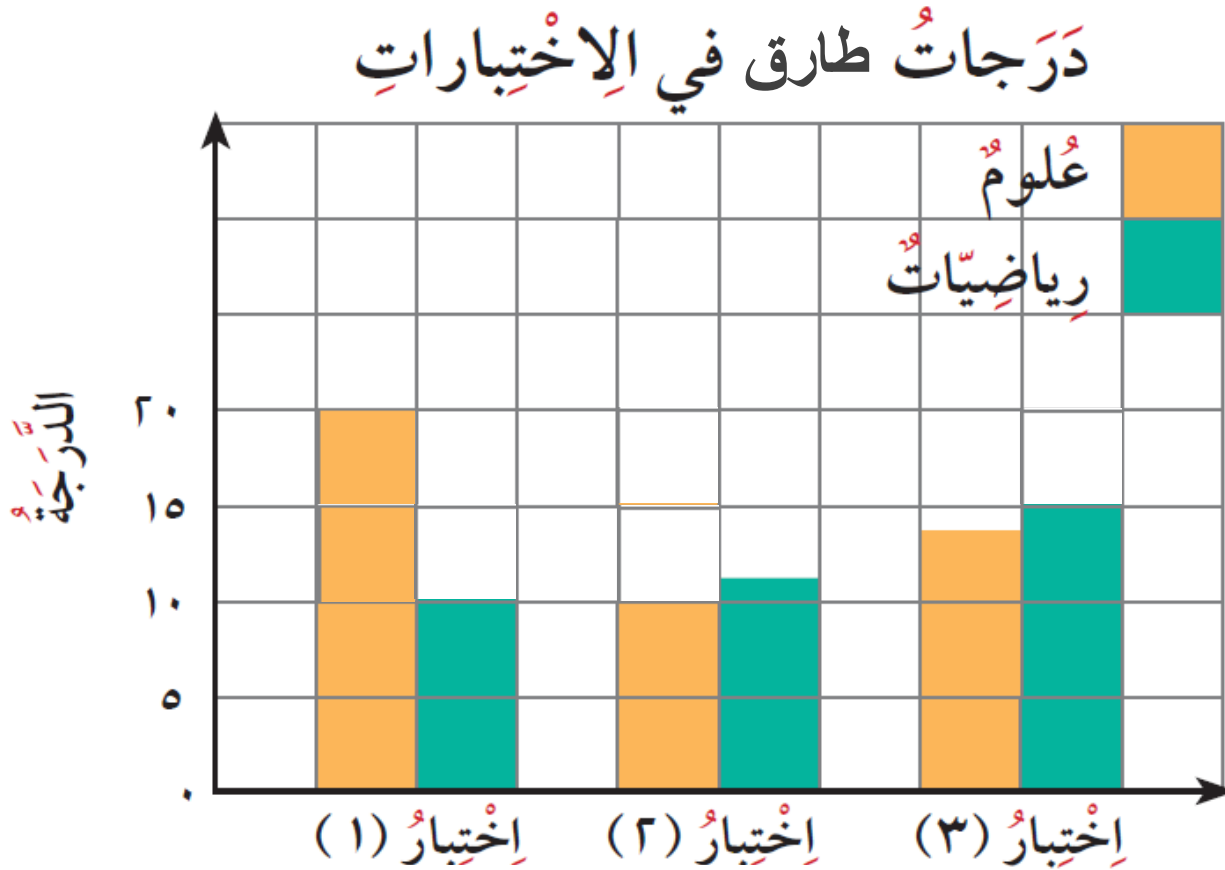
في أي يوم يتدرب حسن ٤ ساعات ؟ _____



استخدم
التمثيل البياني
للإجابة على ما
يلي :

في أي يوم يتساوى خالد و حسن بساعات التدريب ؟

اختر الجدول الذي يعبر عن التمثيل البياني لدرجات طارق بالاختبارات



اختبار (3)	اختبار (2)	اختبار (1)	
١٤	١٠	٢٠	علوم
٢٠	١٥	١٠	رياضيات

اختبار (3)	اختبار (2)	اختبار (1)	
١٤	١٠	٢٠	علوم
١٥	١٢	١٠	رياضيات