
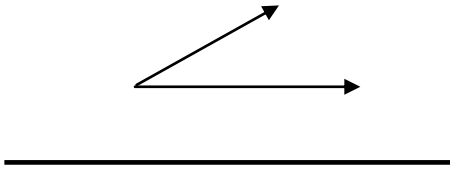


• السؤال الأول : أ – اكتب اسم المجسم

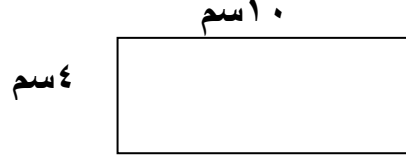
له وجه واحد مربع وأربعة وجوه مثلثة
له ستة وجوه مربعة واثنى عشر حرفا

ب. اكتب زاوية (قائمة – أصغر من القائمة – أكبر من القائمة)



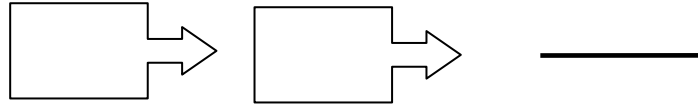
• السؤال الثاني :

أ) اوجد محيط الشكل



المحيط =

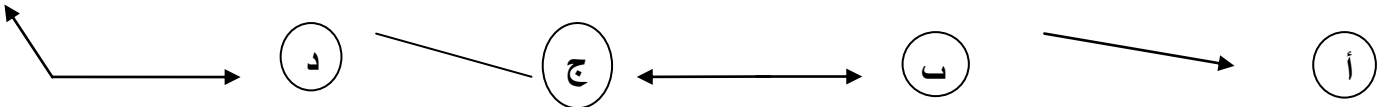
ب) اكتب اسم الحركة (انعكاس أو إزاحة أو دوران)



• السؤال الثالث :

لكل بند مما يلي ٤ اختيارات واحد منها فقط صحيح. ظلل الدائرة الدالة على الإجابة الصحيحة:

. الشكل الذي يمثل مستقيم هو



. الشكل الذي يمثل مضلعا هو

