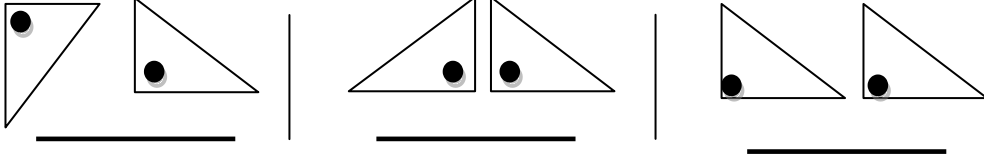
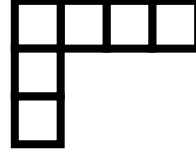


• السؤال الأول : أ – اذكر حركة الاشكال



ب. اوجد المحيط المضلع



المحيط \_\_\_\_\_

• السؤال الثاني :

(أ) اوجد محيط والمساحة


سم<sup>٢</sup>



المحيط = .....

المساحة = .....

ب) اكتب عدد خطوط التناظر



عدد خطوط التناظر .....

ج) اكتب حجم المجسم مكون من ٣ طبقات في كل طبقة ١٠ وحدات مكعبة

الحجم .....

• السؤال الثالث :

لكل بند مما يلي ٤ اختيارات واحد منها فقط صحيح. ظلل الدائرة الدالة على الإجابة الصحيحة:

مجسم لديه ٦ أوجه لها القياس نفسه

- (أ) كرة (ب) مكعب (ج) هرم (د) شبه مكعب

مربع محيطه ٣٢ سم فإن طول ضلعه =

- (أ) ٦ سم (ب) ٨ سم (ج) ٤ سم (د) ١٠ سم