



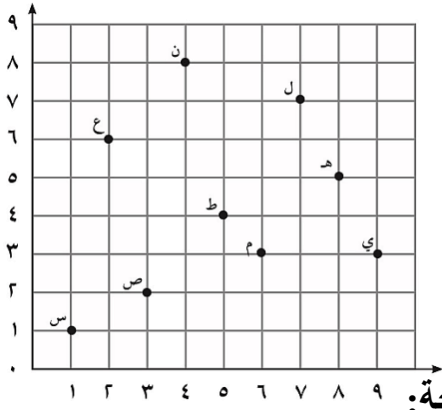
وزارة التربية  
الإدارة العامة لمنطقة حولي التعليمية

اختبار الرياضيات ( ٣ ) للصف ( الرابع )  
الفترة الدراسية الثانية  
العام الدراسي ٢٠١٨ / ٢٠١٩

الاسم : .....

الصف : .....

السؤال الأول :



١ - استخدم شبكة الإحداثيات لتسمية الزوج المرتب لكل نقطة :

( أ ) م


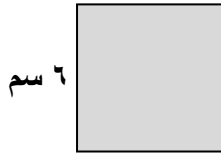
( ب ) ع

٢ - سمّ النقطة التي يحددها كل من الأزواج المرتبة بحسب الشبكة الموضحة :


( أ ) ( ٢ ، ٣ )

( ب ) ( ٧ ، ٧ )


السؤال الثاني : أكمل:



( أ ) اسم الشكل المقابل



( ب ) محيط الشكل =

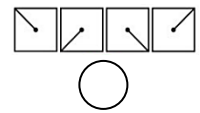
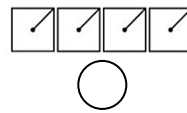
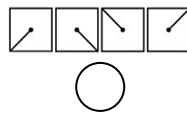
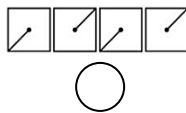


( ج ) مساحة الشكل =

السؤال الثالث :

اختر الإجابة الصحيحة بوضع (✓) :

( أ ) باتباع النمط قم بتدوير هذا الشكل ☒ ربع دورة.  
ما هو الشكل النمطي المتكرر الذي ستحصل عليه



( ب ) هذا المخروط له سطح مستو و سطح منحن  
أي من الأشكال التالية له سطح مستو و سطح منحن أيضا ؟

