

### الأعداد

الأعداد الكلية ، الكسور الاعتيادي والعشرية ، الجمل العددية ، الأنماط والعلاقات

---

(١) أي من التالي قيمته تساوي ٣٤٢

أ)  $٣٠٠٠ + ٤٠٠ + ٢$

ب)  $٣٠٠ + ٤٠ + ٢$

ج)  $٣٠ + ٤ + ٢$

د)  $٣ + ٤ + ٢$

---

(٢) أي من الجمل التالية صحيحة

أ)  $٦٩٨ > ٩٦٨$

ب)  $٦٨٩ > ٩٦٨$

ج)  $٦٨٩ < ٩٦٨$

د)  $٦٨٩ = ٩٦٨$

---

(٣) أي من الأعداد التالية عند تقريبه لأقرب مائة يكون ٦٠٠

أ) ٦٢

ب) ١٦٠

ج) ٥٤٦

د) ٥٨٦

هـ) ٦٦٠

٤) بديقة ناصر ٨٤ صف من نباتات الكرنب، بكل صف ٥٧ نبتة ، أي من العبارات التالية

يعطي أفضل تقديراً للعدد الكلي لنباتات الكرنب؟

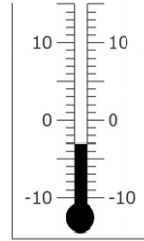
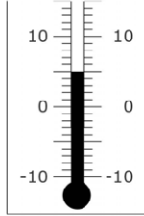
أ)  $٥٠٠٠ = ٥٠ \times ١٠٠$

ب)  $٥٤٠٠ = ٦٠ \times ٩٠$

ج)  $٤٨٠٠ = ٦٠ \times ٨٠$

د)  $٤٠٠٠ = ٥٠ \times ٨٠$

٥) عندما توجهت سلمي للمدرسة كانت درجة الحرارة ناقص ٣ درجات مئوية



في الفرصة كانت درجة الحرارة ٥ درجات مئوية

كم درجة مئوية ارتفعت درجة الحرارة؟

أ) درجتان مئوية

ب) ٣ درجات مئوية

ج) ٥ درجات مئوية

د) ٨ درجات مئوية

٦) بكم  $18 \times 25$  أكبر من  $18 \times 24$  ؟

أ) ١

ب) ١٨

ج) ٢٤

د) ٢٥

٧) في أي من الأشكال التالية تمثل النقاط السوداء النصف؟



٨) ما مجموع ٢,٥ و ٣,٧ ؟

أ) ٥,٣

ب) ٦,٢

ج) ٦,٤

د) ٩,٥

٩) ٤٥ كرة وضعت في ٦ أكياس بالتساوي، فكم كرة توجد في كيسان؟

أ) ١٠٨ كرة

ب) ١٨ كرة

ج) ١٥ كرة

د) ١٢ كرة

١٠) بصف خلود عدد البنات ضعف عدد الأولاد، فإذا كان عدد الأولاد ٨ ، فما هو العدد الكلي للأولاد و البنات بالصف؟

أ) ١٢

ب) ١٦

ج) ٢٠

د) ٢٤

١١) فريق بيع تذاكر اليانصيب. ويبين الجدول عدد التذاكر التي بيعت حتى الآن.

عدد التذاكر المباعة	اسم اللاعب
٤	فهد
٧	سالم
٣	سعد
٧	ناصر
٦	خالد
٩	حمدان

الفريق بحاجة لبيع ٦٠ تذكرة ، فكم عدد التذاكر المتبقية التي يجب بيعها؟

الإجابة: \_\_\_\_\_

١٢) في النمط العددي التالي

١٠٠, ١, ٩٩, ٢, ٩٨, □, □, □

ما هي الأعداد الثلاثة التالية التي يجب أن تكون في المربعات؟

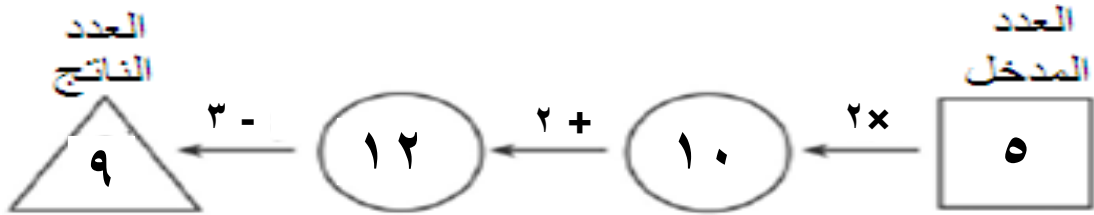
أ) ٣, ٩٧, ٤

ب) ٥, ٧٩, ٤

ج) ٩٦, ٣, ٩٧

د) ٩٦, ٤, ٩٧

١٣) آلة العداد تأخذ عدداً ثم تجرى عليه عمليات، فعند إدخال العدد ٥ فإن العدد الناتج يكون ٩ كما موضح أدناه.



فعند إدخال العدد ٧ فما العدد الناتج من العداد التالية؟

أ) ١١


ب) ١٣

ج) ١٤

د) ٢٥

١٤) يوضح الرسم ٥٠٠ شجرة أرز و ١٥٠ شجرة صنوبر

	أرز
	صنوبر

كم عدد الأشجار الذي تمثله كل ؟ 

الإجابة: \_\_\_\_\_

١٥) أي من الوحدات التالية الأنسب لقياس وزن (كتلة) بيضة؟

أ) سنتيمتر

ب) جرام

ج) ملليمتر

د) كيلوجرام

١٦) بالجملة العددية التالية

$$٢٧٣٩ = ٩ + ٣٠ + \quad + ٢٠٠٠$$

ما العدد الذي يجب وضعه بالفراغ ليكمل الجملة صحيحة؟

الإجابة: \_\_\_\_\_

(١٧)

$$\text{حقيقة الجمع}$$
$$٢٠ = ٤ + ٤ + ٤ + ٤ + ٤$$

أكتب حقيقة الجمع كحقيقة ضرب

$$\underline{\hspace{2cm}} = \underline{\hspace{2cm}} \times \underline{\hspace{2cm}}$$

---

١٨) يقوم معلم بتصحيح اختبارات ١٠ طالب كل نصف ساعة، استغرق تصحيح اختبارات كل الطلاب ساعة ونصف.

فما هو العدد الكلى للطالب؟

الإجابة: \_\_\_\_\_

١٩) مريم وأختها لمياء خرجتا بنفس الوقت لركوب الدرجات الهوائية للذهاب للمدرسة التي

تبعد ٩ كم. مريم قادمة

الدراجة بمعدل ٣ كم كل ١٠ دقائق.

ما مقدار الوقت التي استغرقت مريم للوصول للمدرسة؟

الإجابة: \_\_\_\_\_ دقيقة

لمياء قادمة الدراجة بمعدل ١ كم كل ٣ دقائق . ما مقدار الوقت التي استغرقت للوصول للمدرسة؟

الإجابة: \_\_\_\_\_ دقيقة

من وصلت إلى المدرسة أول ؟

الإجابة: \_\_\_\_\_