



وزارة التربية  
الإدارة العامة لمنطقة حولي التعليمية

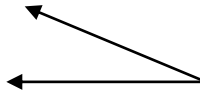

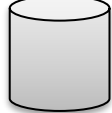

اختبار الرياضيات ( ٣ ) للصف ( الرابع )  
الفترة الدراسية الثانية  
العام الدراسي ٢٠١٨ / ٢٠١٩

الاسم : .....


الصف : .....

السؤال الأول :

اكتب اسم الشكل:

	( د )		( ج )		( ب )		( أ )
<input type="text"/>		<input type="text"/>		<input type="text"/>		<input type="text"/>	

السؤال الثاني : أكمل:

عدد الرؤوس	عدد الأحرف	عدد الأوجه	المجسم
			

اسم المجسم .....

السؤال الثالث :

اختر الإجابة الصحيحة بوضع (✓) :

( أ ) عدد خطوط التناظر للمربع :

خطان



٤ خطوط



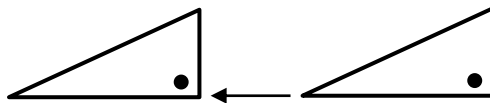
٨ خطوط



١٠ خطوط



( ب ) الحركة التي تمت على الشكل التالي :



ليس مما سبق



دوران



انعكاس



إزاحة

